

تم تحميل هذا الملف من موقع المناهج القطرية



بنك أسئلة الوحدة التاسعة غير مجابة مدرسة عبد الحميد الدايل

[موقع المناهج](#) ← [المناهج القطرية](#) ← [المستوى الأول](#) ← [رياضيات](#) ← [الفصل الأول](#) ← [الملف](#)

تاريخ إضافة الملف على موقع المناهج: 2024-05-30 11:48:53

إعداد: مدرسة عبد الحميد الدايل

التواصل الاجتماعي بحسب المستوى الأول



اضغط هنا للحصول على جميع روابط "المستوى الأول"

روابط مواد المستوى الأول على تلغرام

[الرياضيات](#)

[اللغة الانجليزية](#)

[اللغة العربية](#)

[التربية الاسلامية](#)

المزيد من الملفات بحسب المستوى الأول والمادة رياضيات في الفصل الأول

[أوراق عمل نهاية الفصل مدرسة الأندلس](#)

1

[تطبيقات امتحانية في نهاية الفصل](#)

2

[الإجابة النموذجية لتدريبات الكتاب](#)

3

[تدريبات دعم واثراء الفرقان نهاية الفصل](#)

4

[اختبار مجاب نهاية الفصل مدرسة الأندلس](#)

5

الصف: أول/.....

الاسم:

اختر الإجابة الصحيحة لكل من الأسئلة من 1 إلى 6 وذلك بوضع علامة × داخل المربع المجاور للإجابة الصحيحة:

السؤال رقم 1
العدد 12 هو
<input type="checkbox"/> A 1 أحاد و1 عشرات
<input type="checkbox"/> B 2 أحاد و1 عشرات
<input type="checkbox"/> C 1 أحاد و2 عشرات

السؤال رقم 2
9 أحاد و1 عشرات هو العدد
<input type="checkbox"/> A 91
<input type="checkbox"/> B 90
<input type="checkbox"/> C 19

السؤال رقم 3
لدى بدرية 5 أوعية زجاجية في كل وعاء 10 كرات مطاطية. ما عدد الكرات المطاطية التي لدى بدرية ؟
<input type="checkbox"/> A 10
<input type="checkbox"/> B 30
<input type="checkbox"/> C 50

السؤال رقم 4

أي مما يلي يمثل العدد 70؟

A 0 آحاد و3 عشرات

B 0 آحاد و7 عشرات

C 0 آحاد و9 عشرات

السؤال رقم 5

أي مما يلي يمثل العدد 34؟

A 4 آحاد و3 عشرات

B 3 آحاد و4 عشرات

C 0 آحاد و3 عشرات

السؤال رقم 6

اشترى ماجد دفترًا يحتوي على 90 صفحة.

أي مما يلي يمكن أن يمثل 90 صفحة؟

A 0 آحاد و6 عشرات

B 0 آحاد و8 عشرات

C 0 آحاد و9 عشرات

عند الإجابة على الأسئلة من 7 إلى 17، اكتب إجاباتك في المساحات المخصصة لذلك مع توضيح خطوات الحل:

السؤال رقم 7

تِسْعَةَ عَشَرَ

هُوَ 9 آخَادٍ وَ 1 عَشْرَاتٍ.

سِتَّةَ عَشَرَ

هُوَ 6 آخَادٍ وَ _____ عَشْرَاتٍ.

السؤال رقم 8

أحوظ الأحاد والعشرات التي تطابق الكلمات الموضحة :

خمسة عشر

اثنا عشر

7 آخَادٍ

6 آخَادٍ

5 آخَادٍ

3 آخَادٍ

2 آخَادٍ

1 آخَادٍ

2 عَشْرَاتٍ

1 عَشْرَاتٍ

0 عَشْرَاتٍ


2 عَشْرَاتٍ

1 عَشْرَاتٍ

0 عَشْرَاتٍ

السؤال رقم 9

أعد بالعشرات وأكتب العدد .



..... أحاد و..... عشرات هي

السؤال رقم 10

عد بالعشرات ، أرسم مكعبات ثم أكتب العدد.

0 آحاد 6 عشرات هي

السؤال رقم 11


لدى إبراهيم 4 علب أقلام يوجد في كل علبة 10 أقلام .

ما عدد الأقلام التي لدى إبراهيم ؟

قلما

السؤال رقم 12

عد لإيجاد عدد العشرات.



..... آحاد و عشرات

السؤال رقم 13

اشترت سارة 3 صناديق من التفاح في كل صندوق 10 تفاحات ثم اشترت 4 تفاحات إضافية .

كم تفاحة اشترت سارة ؟


..... أحاد و..... عشرات هي

السؤال رقم 14

أكتب عدد المجموعات المكونة من 10 وعدد الأحاد ثم أكتب العدد الكلي .



_____ من المجموعات من 10 والباقي _____
تساوي _____



_____ من المجموعات من 10 والباقي _____
تساوي _____

السؤال رقم 15

. أراد حسن تمثيل 34 في صورة عشرات وأحاد. أذكر جميع الطرائق للقيام بذلك.

عشرات	أحاد