

## أوراق عمل الأندلس للبنين التحضيرية لاختبار نهاية الفصل مع الإجابة النموذجية



### تم تحميل هذا الملف من موقع المناهج القطرية

موقع المناهج ⇨ المناهج القطرية ⇨ الصف الأول ⇨ علوم الحاسب ⇨ الفصل الأول ⇨ ملفات متنوعة ⇨ الملف

تاريخ إضافة الملف على موقع المناهج: 10:53:54 2025-12-14

ملفات اكتب للمعلم اكتب للطالب ا اختبارات الكترونية ا اختبارات ا حلول ا عروض بوربوينت ا أوراق عمل منهج انجليزي ا ملخصات وتقارير ا مذكرات وبنوك ا الامتحان النهائي ا للمدرس

المزيد من مادة  
علوم الحاسب:

إعداد: مدرسة الأندلس

### التواصل الاجتماعي بحسب الصف الأول



صفحة المناهج  
القطرية على  
فيسبوك

الرياضيات

اللغة الانجليزية

اللغة العربية

التربية الاسلامية

المواد على تلغرام

### المزيد من الملفات بحسب الصف الأول والمادة علوم الحاسب في الفصل الأول

أوراق عمل الأندلس للبنين التحضيرية لاختبار نهاية الفصل غير مجابة

1

أوراق عمل الفرقان منتصف الفصل مع الإجابة النموذجية

2

أوراق عمل الأندلس للبنين التحضيرية لاختبار منتصف الفصل مع الإجابة النموذجية

3

أوراق عمل الأندلس للبنين التحضيرية لاختبار منتصف الفصل غير مجابة

4

أوراق عمل الفرقان منتصف الفصل غير مجابة

5



السؤال الأول:

في الصورة أدناه وللمحافظة على بيئة عمل نظيفة وآمنة قم بوضع دائرة حول الأشياء التي لا يجب وجودها بجانب الحاسوب.



السؤال الثاني:

ضع إشارة صح (✓) أسفل الصورة الصحيحة أو خطأ (X) أسفل الصورة الغير صحيحة للحالات التالية:

1- وضعية الجلوس الصحيحة أمام الحاسوب:

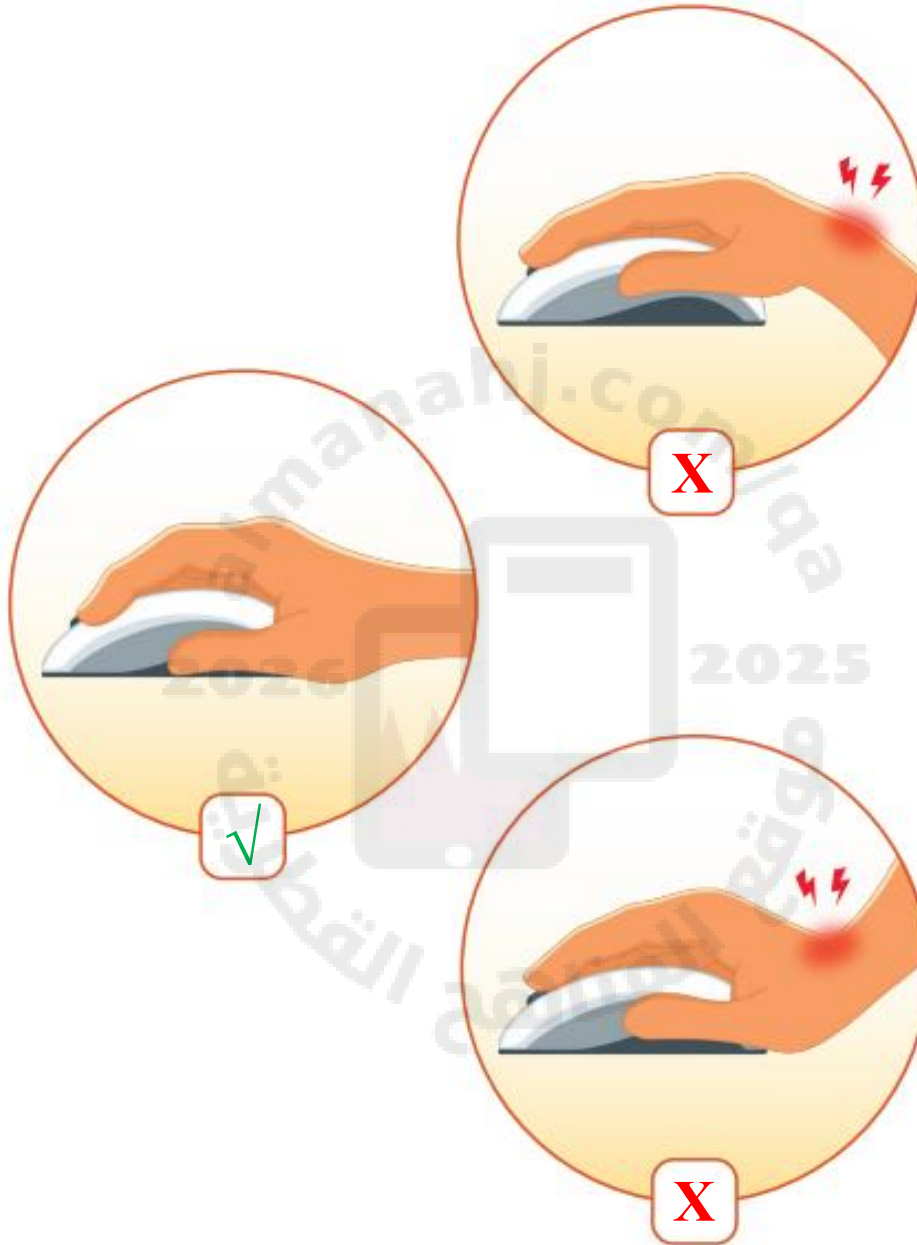




2- وضعية اليد الصحيحة للكتابة باستخدام لوحة المفاتيح:

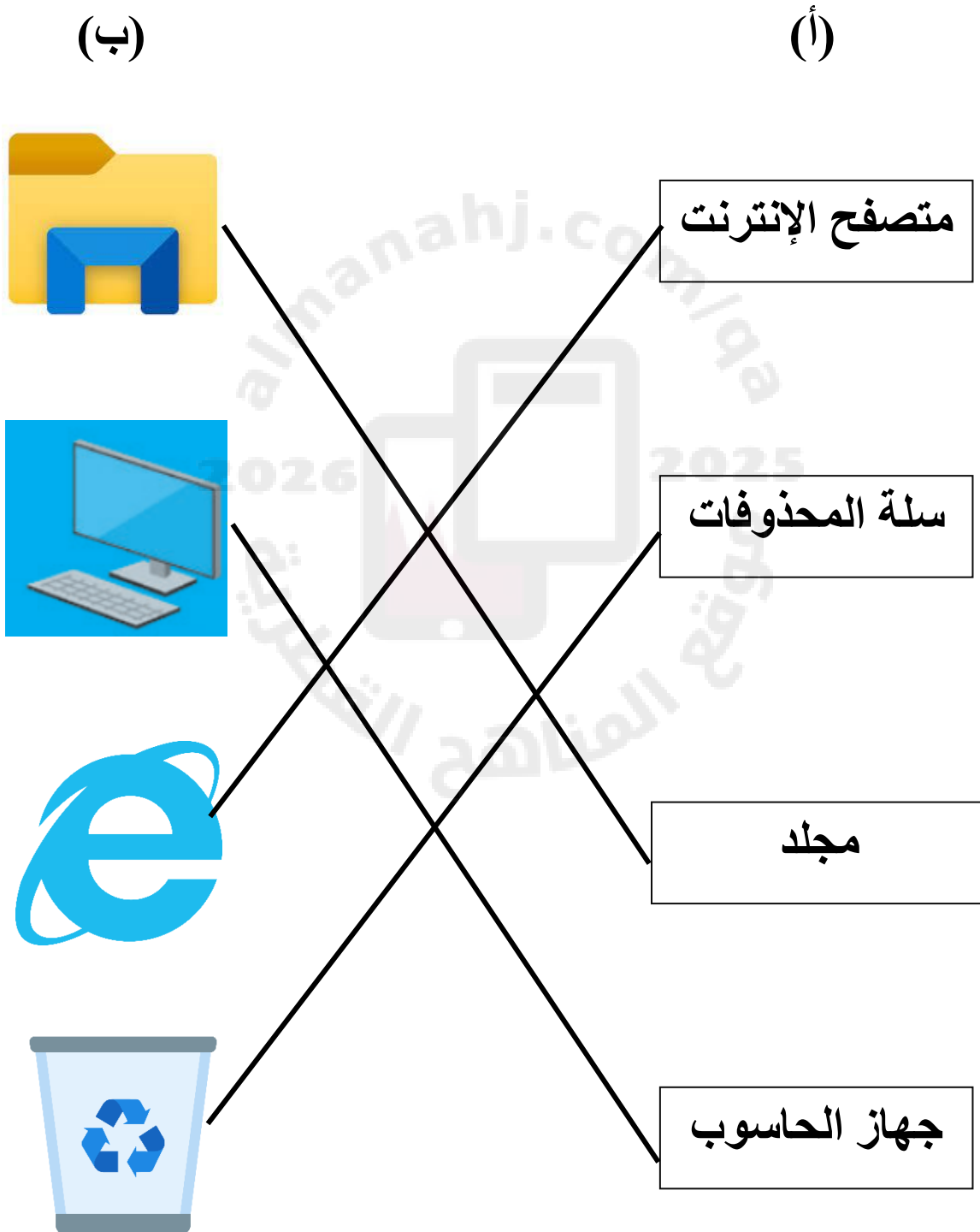


## 3- وضعية اليد الصحيحة لإستخدام الفأرة:



### السؤال الثالث:


صل اسماء أجزاء سطح المكتب في العمود ( أ ) بالصورة المناسبة في العمود ( ب ):



### السؤال الرابع:

اختر الإجابة الصحيحة بوضع علامة صح ( ✓ ) في المربع لكل من الحالات التالية:

1- ملف نصي


☐

☐


☒

☐

2- ملف صورة




☐

☐

☐

☒


3- ملف صوت


☐

☒

☐

☐

4- ملف فيديو


☒

☐

☐

☐



السؤال الخامس:

حدد نوع الملف الذي يتم إنشاؤه وذلك بوضع علامة صح ( ✓ ) في المربع لكل من الحالات التالية:

1- تكتب على لوحة المفاتيح



2- تسجل صوت



3- تلتقط صورة بواسطة الهاتف الذكي




4- تسجيل فيديو




السؤال السادس:

اختر الإجابة الصحيحة لكل من الحالات التالية:

1- أحد برامج الحاسوب والذي يستخدم للرسم:



2- الأداة التي يمكن الكتابة بها في برنامج الرسم:



3- أداة التعبئة المستخدمة في تلوين الأشكال في برنامج الرسم:


☐

☐

☒

4- يتم حفظ الرسمة في برنامج الرسام باستخدام الأمر:

Paste

☐

Save as

☒

Open

☐

1- يتم فتح رسمة تم حفظها مسبقاً في برنامج الرسام باستخدام الأمر:

Paste

☐

Open

☒

Save as

☐