

تم تحميل هذا الملف من موقع المناهج القطرية



أوراق عمل نهاية الفصل غير مجانية

موقع المناهج ← المناهج القطرية ← المستوى الأول ← علوم ← الفصل الأول ← أوراق عمل ← الملف

تاريخ إضافة الملف على موقع المناهج: 01:38:22 2024-11-30

ملفات اكتب للمعلم اكتب للطالب الاختبارات الكترونية الاختبارات ا حلول ا عروض بوربوينت ا أوراق عمل
منهج انجليزي ا ملخصات و تقارير ا مذكرات و بنوك ا الامتحان النهائي للمدرس

المزيد من مادة
علوم:

التواصل الاجتماعي بحسب المستوى الأول



صفحة المناهج
القطرية على
فيسبوك

الرياضيات

اللغة الانجليزية

اللغة العربية

التربية الاسلامية

المواد على تلغرام

المزيد من الملفات بحسب المستوى الأول والمادة علوم في الفصل الأول

أوراق عمل الأندلس نهاية الفصل مع الإجابة النموذجية

1

أوراق عمل الأندلس نهاية الفصل غير مجانية

2

تمارين وتطبيقات غير مجانية تحضيرية لاختبار نهاية الفصل

3

الإجابات النموذجية وحل تدريبات الكتاب المدرسي

4

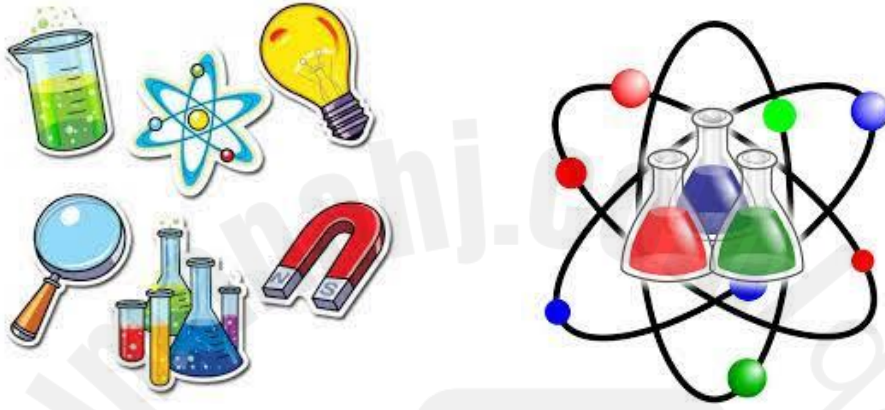
أوراق عمل اثرائية في خصائص المواد غير مجانية

5

قسم العلوم

العام الأكاديمي 2024 / 2025

الفصل الدراسي الأول



أوراق العمل الإثرائية

اختبار نهاية الفصل الدراسي الأول

الصف الأول الابتدائي



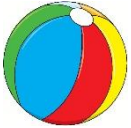
.....	اسم الطالب
..... / الأول	الصف والشعبة

هذه الأسئلة مُساعدة ولا تُغني عن الكتاب المدرسي أو تدريبات الكتاب المدرسي




الاسم: الصف: الأول / التاريخ: ...11... / 11 / 2024

السؤال الأول : اختر الإجابة الصحيحة

1) ما الشيء الذي يحتاج الى مساعدة كي يتحرك؟

		A
		
		B
		C


2) أي مما يلي يحتاج الى محرك كي يتحرك؟

		A
		
		B
		C


(3) ما نوع المسار في الصورة المجاورة؟

	A	منحنٍ
	B	متعرج
	C	مستقيم

(4) ما نوع المسار في الصورة المجاورة؟

	A	منحنٍ
	B	متعرج
	C	مستقيم

(5) كيف نصف حركة السيارة في الصورة؟

	A	الى الأمام
	B	الى الخلف
	C	الى الأعلى

5) كيف نصف حركة الطفل في الصورة؟



ينزلق

A

يتدحرج

B

الى الأعلى

C

5) كيف نصف حركة الكرة في الصورة؟



تنزلق

A

تتدحرج

B

الى الأعلى

C

السؤال الثاني : ضع إشارة ✓ امام العبارة الصحيحة وإشارة ✗ أمام العبارة الخاطئة.

1 - تتحرك الحقيبة من تلقاء نفسها. ()

2 - يستخدم المحرك الوقود. ()

3 - تتحرك جميع الأشياء بمسار متعرج فقط . ()

4 - تساعد العجلات الأشياء كي تتحرك . ()

السؤال الثالث : أصل بين كل صورة والكلمة التي تصف ما الذي يجعل ما في الصورة يتحرك:-

الإِنْسَانُ	
الرِّيحُ	
المُحَرِّكُ	

السؤال الرابع : أختَر الكلمة المناسبة لإكمال الجمل التالية :

1- يحتاج المحرك الى (الوقود , الصابون)

2- تتحرك الأشياء بطرق (متشابهة , مختلفة)

3- توصف حركة الكرة بانها (تتدحرج , تنزلق)

• اكتب الكلمات التالية :-

يتدحرج	ينزلق	وقود	محرك

الاسم: الصف: الأول/ التاريخ: 25... / 11 / 2024

1) ما المادة التي تصنع منها الملابس ؟



A الزجاج

B الخشب

C القماش

2) ما المادة التي صنع منها الشيء في الصورة ؟



A الطين

B الخشب

C المطاط

3) ما المادة التي صنع منها الشيء في الصورة ؟

PRO
High Solution (China) Limited



الورق

A

الخشب

B

الزجاج

C

4) ما المادة التي صنع منها الشيء في الصورة ؟



البلاستيك

A

المعدن

B

المطاط

C

5) ما المواد التي صنع منها الشيء في الصورة ؟



البلاستيك ومعدن

A

الخشب والمطاط

B

القماش والورق

C

6) ما الوصف الصحيح للمادة التي صنعت منها المطرقة؟



ليينة

A

طرية

B

قاسية

C

7) ما الوصف الصحيح للمادة التي صنعت منها الدمية؟

A
طريةB
خشنةC
قاسية

8) ما الشيء الذي يصعب ضغطه أو عصره ؟

A
الستارهB
طاولةC
بالون

السؤال الثاني : ضع إشارة ✓ امام العبارة الصحيحة وإشارة ✗ امام العبارة الخاطئة.

- 1 - يصنع الكتاب من الورق . ()
- 2 - يمكن وصف الحجر بأنه مادة طرية . ()
- 3 - تستخدم المواد الطرية لحماية الأشياء . ()
- 4 - نستخدم القماش في صناعة الملابس لانه طري ومريح . ()

السؤال الثاني

أكمل الجمل التالية باستخدام الكلمات الموجودة في صندوق الكلمات:

المطاط - مختلفة - ناعم - القاسية

1. يمكن صنع الملاعق من مواد (.....).

2- للريشة ملمس (.....).

3 - يصنع البالون من (.....).

السؤال الرابع : صل بين صورة الشيء وبين المادة المصنوع منها .



قُمَاشٌ



طِينٌ



خَشَبٌ



مَعْدَنٌ





مَطَّاطٌ



بِلاَسْتِيك



Almanah.com
2025
موقع المناهج القطرية

السؤال الخامس : أ) حدد المادة التي صنع منها الشيء بكتابة الرقم تحت الكلمة المناسبة :-

		زجاج	خشب
2	1	-----	-----

ب) اكتب على النقاط ملمس الشيء أسفل الصورة المناسبة :-

ناعم , خشن

	
-----	-----

