

أوراق عمل مجابة في الأشياء المتحركة



تم تحميل هذا الملف من موقع المناهج القطرية

موقع المناهج ⇨ المناهج القطرية ⇨ الصف الأول ⇨ علوم ⇨ الفصل الأول ⇨ ملفات متنوعة ⇨ الملف

تاريخ إضافة الملف على موقع المناهج: 2025-12-08 13:31:03

ملفات اكتب للمعلم اكتب للطالب ا اختبارات الكترونية ا اختبارات ا حلول ا عروض بوربوينت ا أوراق عمل
منهج انجليزي ا ملخصات وتقارير ا مذكرات وبنوك ا الامتحان النهائي ا للمدرس

المزيد من مادة
علوم:

التواصل الاجتماعي بحسب الصف الأول



صفحة المناهج
القطرية على
فيسبوك

الرياضيات

اللغة الانجليزية

اللغة العربية

التربية الاسلامية

المواد على تلغرام

المزيد من الملفات بحسب الصف الأول والمادة علوم في الفصل الأول

أوراق عمل مجابة في خصائص المواد

1

أوراق عمل مدرسة الأندلس نهاية الفصل مع الإجابة النموذجية

2

أوراق عمل مدرسة الأندلس نهاية الفصل غير مجابة

3

أوراق عمل الفرقان منتصف الفصل غير مجابة

4

أوراق عمل الأندلس تحضيرية لاختبار منتصف الفصل مجابة




5



أوراق اثرائية – لمادة العلوم

الصف الأول الابتدائي




اختر الإجابة الصحيحة لكل من الأسئلة من 1 إلى 10، وذلك بوضع علامة × داخل المربع تعليمات المجاور للإجابة الصحيحة:

السؤال الأول	1 /.....
ما الذي يساعد المركبات كي تتحرك ؟	
A	الماء
B	المحرك
C	الهواء

السؤال الثاني	1 /.....
أي مما يلي يتحرك بواسطة المحرك ؟	
A	
B	
C	




السؤال الثالث	1 /.....
أي الأشياء تتحرك بواسطة الريح ؟	
	A
	B
	C

السؤال الرابع	1 /.....
صف حركة الطفل في الصورة التالية ؟	
	
يمشي	A
يتدحرج	B
ينزلق	C

السؤال الخامس	1 /.....
أي مما يلي يتحرك بعجلات؟	
	A <input checked="" type="checkbox"/>
	B <input type="checkbox"/>
	C <input type="checkbox"/>




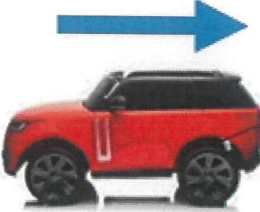
السؤال السادس	1 /.....
أي من الأشياء التالية تحتاج الى مساعدة كي تتحرك؟	
الكرة	A <input checked="" type="checkbox"/>
الانسان	B <input type="checkbox"/>
الجمل	C <input type="checkbox"/>

صل بخط الكلمة في العمود (أ) بالصورة المناسبة في العمود (ب):





العمود (ب)	العمود (أ)
	
	مسار مستقيم
	يتدحرج

السؤال الثاني عشر

صل ما في العمود (أ) بما يناسبه في العمود (ب) :

(ب)	(أ)
	تتدحرج عندما تتحرك
	تتحرك إلى الأمام
	تتحرك إلى الخلف
	مسار منحني


صل بخط الكلمة في العمود (أ) بالصورة المناسبة في العمود (ب):

العمود (ب)	العمود (أ)
	
	

أكمل الفراغات التالية مستعيناً بالكلمات في الجدول التالي :

مختلفة	محرك	الرياح	الإنسان
--------	------	--------	---------

1- تتحرك الأشياء بطرق مختلفة

2- ...الرياح.... هو الذي يجعل العلم يتحرك . 

3- للسيارة ..محرك... يساعدنا كي تتحرك .

4- ..الإنسان... هو الذي يجعل الكرة تتحرك . 

أكمل الفراغات التالية مستعيناً بالكلمات في الجدول التالي:

يتحرك	مختلفة	المحرك	الوقود	ينزلق
-------	--------	--------	--------	-------

1. يمكنني أن أساعد الأشياء كي ..تتحرك..

2. هناك طرق مختلفة.... لأساعد الأشياء كي تتحرك .

3. يساعد ..المحرك... المركبات كي تتحرك

4. يستخدم المحرك ..الوقود.....

أكمل الفراغات التالية مستعيناً بالكلمات في الجدول التالي:

العجلات	ينزلق	وقود
---------	-------	------

1. تسهل .. الحيلولة تحريك الأشياء الكبيرة و الثقيلة .

2. بعض الأجسام .. تسقط .. وبعضها يتدحرج .

أكمل الفراغات التالية مستعيناً بالكلمات في الجدول التالي:

تتحرك	مختلفة	متعرج	منحن	العجلات
-------	--------	-------	------	---------

5. تتحرك الأشياء بمسارات مختلفة : .. متعرج .. مستقيم , .. مستقيمة ..

6. تسهل .. الحيلولة تحريك الأشياء الكبيرة و الثقيلة

7. تتحرك الأشياء بطرق .. مختلفة ..

8. تساعد العجلات الأشياء كي .. تسقط ..

1/.....

السؤال الثاني والعشرون

- انظر إلى الصورة ثم أجب عن السؤال التالي .
- كيف يتحرك الطفل في الصورة المقابلة؟ .



يَنزِلُ

1/.....

السؤال الثالث والعشرون

صنف الأشياء بكتابة رقم الصورة في المكان المناسب .

تحتاج إلى محرك	لا تحتاج إلى محرك
1 - 4	2 - 3

