

أوراق عمل الفرقان نهاية الفصل مع الإجابة النموذجية



تم تحميل هذا الملف من موقع المناهج القطرية

موقع المناهج ← المناهج القطرية ← الصف الأول ← علوم الحاسب ← الفصل الأول ← ملفات متنوعة ← الملف

تاريخ إضافة الملف على موقع المناهج: 10:55:11 2025-12-14

ملفات اكتب للمعلم اكتب للطالب | اختبارات الكترونية | اختبارات | حلول | عروض بوربوينت | أوراق عمل
منهج انجليزي | ملخصات وتقارير | مذكرات وبنوك | الامتحان النهائي | للمدرس

المزيد من مادة
علوم الحاسب:

إعداد: مجمع الفرقان

التواصل الاجتماعي بحسب الصف الأول



صفحة المناهج
القطرية على
فيسبوك

الرياضيات

اللغة الانجليزية

اللغة العربية

التربية الاسلامية

المواد على تلغرام

المزيد من الملفات بحسب الصف الأول والمادة علوم الحاسب في الفصل الأول

أوراق عمل الأندلس للبنين التحضيرية لاختبار نهاية الفصل مع الإجابة النموذجية

1

أوراق عمل الأندلس للبنين التحضيرية لاختبار نهاية الفصل غير مجابة

2

أوراق عمل الفرقان منتصف الفصل مع الإجابة النموذجية

3

أوراق عمل الأندلس للبنين التحضيرية لاختبار منتصف الفصل مع الإجابة النموذجية

4

أوراق عمل الأندلس للبنين التحضيرية لاختبار منتصف الفصل غير مجابة

5

الحواسبة

نهاية ف 1



القدس والأقصى **حتماً ستعود**

الاسم / الصف / 1-




التميز




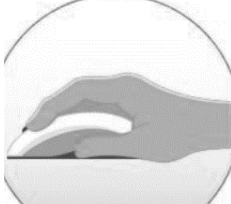
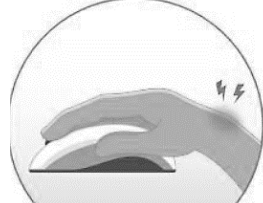
السؤال الأول: ضع دائرة حول الإجابة الصحيحة فيما يلي:(1) من الأشياء التي لا يجب أن تكون بجانب الحاسوب

	(ج)		(ب)		(أ)
---	-------	---	-------	---	-------




(2) الأداة التي يمكن الكتابة بها في برنامج الرسم

	(ج)		(ب)		(أ)
--	-------	--	-------	--	-------

(3) وضعية اليد الصحيحة لاستخدام الفأرة

	(ج)		(ب)		(أ)
---	-------	---	-------	---	-------

(4) أيقونة المجلدات الموجودة على سطح المكتب

	(ج)		(ب)		(أ)
---	-------	---	-------	---	-------




(5) ملف الفيديو

(أ)		(ب)		(ج)	
-------	---	-------	---	-------	---

(6) أداة التعبئة المستخدمة في تلوين الأشكال في برنامج الرسام

(أ)		(ب)		(ج)	
-------	--	-------	--	-------	--

(7) وضعية الجلوس الصحيحة أمام الحاسوب





(أ)		(ب)		(ج)	
-------	---	-------	---	-------	---

(8) ملف الصورة

(أ)		(ب)		(ج)	
-------	---	-------	---	-------	---

السؤال الثاني:





- صل بين الكلمة في العمود (أ) بالصورة المناسبة في العمود (ب)
وذلك بكتابة الرقم المناسبة في الدائرة أمام الصورة:

(ب)	
	2
	1
	4
	3

(أ)	
1	متصفح الانترنت
2	سلة المحذوفات
3	جهاز الحاسوب
4	المجلد

- صل بين الكلمة في العمود (أ) بالصورة المناسبة في العمود (ب)

وذلك بكتابة الرقم المناسبة في الدائرة أمام الصورة:


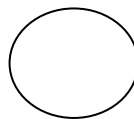
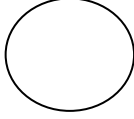
(ب)	
	2
	1
	4
	3

(أ)	
أداة الممحاة	1
أداة تعبئة اللون	2
أداة الفرشاة	3
أداة الرسم بالقلم	4

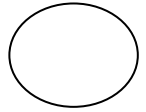


السؤال الثالث:

أجب عن الأسئلة الآتية بوضع (✓) أسفل الصورة المناسبة :



(1) ضع علامة (✓) أسفل الصور التي تحتوي على وضعية الجلوس الصحيحة أمام الحاسوب:



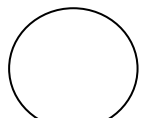

(2) ضع علامة (✓) أسفل الصور التي تحتوي على ملف النص :






(3) ضع علامة (✓) أسفل الصور التي تحتوي على تسجيل الصوت :



(4) ضع علامة (✓) أسفل الصور التي تحتوي على سلة المحذوفات :



5) ضع علامة (✓) أسفل الصور التي تحتوي على برنامج الرسام :



6) ضع علامة (✓) أسفل الصور التي تحتوي على ملف الفيديو :

