

أوراق عمل غير مجابة في الأشياء المتحركة



تم تحميل هذا الملف من موقع المناهج القطرية

موقع المناهج ← المناهج القطرية ← الصف الأول ← علوم ← الفصل الأول ← ملفات متنوعة ← الملف

تاريخ إضافة الملف على موقع المناهج: 2025-12-08 13:35:34

ملفات اكتب للمعلم اكتب للطالب ا اختبارات الكترونية ا اختبارات ا حلول ا عروض بوربوينت ا أوراق عمل
منهج انجليزي ا ملخصات وتقارير ا مذكرات وبنوك ا الامتحان النهائي ا للمدرس

المزيد من مادة
علوم:

التواصل الاجتماعي بحسب الصف الأول



صفحة المناهج
القطرية على
فيسبوك

الرياضيات

اللغة الانجليزية

اللغة العربية

التربية الاسلامية

المواد على تلغرام

المزيد من الملفات بحسب الصف الأول والمادة علوم في الفصل الأول

أوراق عمل الفرقان نهاية الفصل مع الإجابة النموذجية

1

أوراق عمل مجابة في الأشياء المتحركة

2

أوراق عمل مجابة في خصائص المواد

3

أوراق عمل مدرسة الأندلس نهاية الفصل مع الإجابة النموذجية

4

أوراق عمل مدرسة الأندلس نهاية الفصل غير مجابة




5

أوراق اثرائية – لمادة العلوم

الصف الأول الابتدائي

اختر الإجابة الصحيحة لكل من الأسئلة من 1 إلى 10، وذلك بوضع علامة × داخل المربع تعليمات المجاور للإجابة الصحيحة:

السؤال الأول	1 /.....
ما الذي يساعد المركبات كي تتحرك ؟	
A	الماء
B	المحرك
C	الهواء

السؤال الثاني	1 /.....
أي مما يلي يتحرك بواسطة المحرك ؟	
A	
B	
C	

السؤال الثالث	1 /.....
أي الأشياء تتحرك بواسطة الريح ؟	
A	
B	
C	

السؤال الرابع	1 /.....
صف حركة الطفل في الصورة التالية ؟	
A	يمشي
B	يتدحرج
C	ينزلق

1 /.....	السؤال الخامس
أي مما يلي يتحرك بعجلات ؟	
	A
	B
	C

1 /.....	السؤال السادس
 <p>ما المشترك بين هذه الأشياء ؟</p>	
جميعها تتحرك من تلقاء نفسها	A
جميعها لها عجلات تساعد على التحرك .	B
جميعها لها أجنحة تستعملها كي تتحرك .	C

السؤال السابع	1 /.....
<p>كيف تتحرك الكرة التي أمامك ؟</p> 	
A	مسار متعرج
B	تنزلق
C	تتدحرج

السؤال الثامن	1 /.....
<p>كيف تتحرك السيارة التي أمامك ؟</p> 	
A	الى الامام
B	الى الخلف
C	تتدحرج

السؤال التاسع	1 /.....
أي مما يلي يحتاج الى مساعدة كي يتحرك ؟	
A	أسد
B	حقيبة
C	طائرة

السؤال العاشر	1 /.....
ما الذي يساعد العربة على الحركة ؟	
A	المحرك
B	الانسان
C	الرياح

صل بخط الكلمة في العمود (أ) بالصورة المناسبة في العمود (ب):




العمود (ب)	العمود (أ)
	<p>مسار مستقيم</p>
	
	<p>يتدحرج</p>

السؤال الثاني عشر


صل ما في العمود (أ) بما يناسبه في العمود (ب) :

(ب)	(أ)
	تتدحرج عندما تتحرك
	تتحرك إلى الأمام
	تتحرك إلى الخلف
	مسار منحن

صل بخط الكلمة في العمود (أ) بالصورة المناسبة في العمود (ب):

العمود (ب)	العمود (أ)
	متعرج
	
	منحن

ضع علامة (✓) أمام العبارة الصحيحة، أو علامة (×) أمام العبارة الخطأ:

1. تصعب العجلات تحريك الأشياء الثقيلة ()
2. تتحرك الأشياء بمسارات مختلفة ()
3. يستخدم المحرك الماء ()
4. يمكن أن نجعل الأشياء تتحرك باتجاهات مختلفة ()
5. تتحرك السيارة  في مسار مستقيم ()
6. القطار يحتاج الى محرك كي يتحرك ()
7. بعض الأشياء تتحرك وبعض الأشياء لا تتحرك ()

أكمل الفراغات التالية مستعيناً بالكلمات في الجدول التالي :

ببطء	محرك	الرياح	الإنسان
------	------	--------	---------

1- بعض الأشياء تتحرك بسرعة وبعضها الآخر يتحرك



2- هو الذي يجعل العلم يتحرك .

3- للسيارة يساعدها كي تتحرك .



4- هو الذي يجعل الكرة تتحرك .

أكمل الفراغات التالية مستعيناً بالكلمات في الجدول التالي:

ينزلق	الوقود	المحرك	مختلفة	تتحرك
-------	--------	--------	--------	-------

1. يمكنني أن أساعد الأشياء كي

2. هناك طرق لأساعد الأشياء كي تتحرك .

3. يساعد المركبات كي تتحرك

4. يستخدم المحرك

أكمل الفراغات التالية مستعيناً بالكلمات في الجدول التالي:

العجلات	ينزلق	وقود
---------	-------	------

1. تسهل تحريك الأشياء الكبيرة و الثقيلة .

2. بعض الأجسام وبعضها يتدحرج .

أكمل الفراغات التالية مستعيناً بالكلمات في الجدول التالي:


العجلات	منحن	متعرج	مختلفة	تتحرك
---------	------	-------	--------	-------

5. تتحرك الأشياء بمسارات مختلفة : , مستقيم ,


6. تسهل تحريك الأشياء الكبيرة و الثقيلة

7. تتحرك الأشياء بطرق

8. تساعد العجلات الأشياء كي

السؤال التاسع عشر		1/.....
- اكتب نوع المسار الذي تتحرك فيه الحافلة .		
متعرج	منحن	مستقيم
		

السؤال العشرون		1/.....
- اكتب نوع المسار الذي تتحرك فيه السيارة .		
متعرج	منحن	مستقيم
		

السؤال واحد وعشرون		1/.....
- انظر إلى الصورة ثم أجب عن السؤال التالي .		
- اكتب ما إذا كانت السيارة تتحرك (إلى الأمام أو إلى الخلف) .		
		

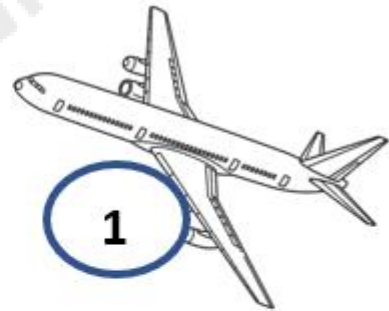
- انظر إلى الصورة ثم أجب عن السؤال التالي .
- كيف يتحرك الطفل في الصورة المقابلة؟ .



.....

صنف الأشياء بكتابة رقم الصورة في المكان المناسب .

لا تحتاج إلى محرك	تحتاج إلى محرك
2025	2026
.....



اكتب ما اذا الشيء يتحرك الى الامام ام الى الخلف ؟

الى الخلف

الى الامام



بالتوفيق للجميع 😊