

تدريبات مجابة في الوحدة الثالثة الكائنات الحية وبيئتها



تم تحميل هذا الملف من موقع المناهج القطرية

موقع المناهج ← المناهج القطرية ← المستوى الأول ← علوم ← الفصل الثاني ← ملفات متنوعة ← الملف

تاريخ إضافة الملف على موقع المناهج: 11:35:55 2025-05-16

ملفات اكتب للمعلم اكتب للطالب | اختبارات الكترونية | اختبارات | حلول | عروض بوربوينت | أوراق عمل
منهج انجليزي | ملخصات وتقارير | مذكرات وبنوك | الامتحان النهائي | للمدرس

المزيد من مادة
علوم:

إعداد: مدرسة الأندلس

التواصل الاجتماعي بحسب المستوى الأول



صفحة المناهج
القطرية على
فيسبوك

الرياضيات

اللغة الانجليزية

اللغة العربية

التربية الاسلامية

المواد على تلغرام

المزيد من الملفات بحسب المستوى الأول والمادة علوم في الفصل الثاني

تدريبات في الوحدة الثالثة الكائنات الحية وبيئتها

1

اختبار منتصف الفصل الموحد

2

اختبار خصائص الأطعمة وطرق حفظها مع الإجابة النموذجية

3

اختبار خصائص الأطعمة وطرق حفظها

4

أوراق عمل الأندلس منتصف الفصل غير مجابة

5

مدرسة الأندلس الخاصة للبنات

العام الأكاديمي 2025/2024



الاجابة النموذجية - الأوراق الإثرائية الشاملة

مادة العلوم العامة

الصف الأول الابتدائي

اسم الطالبة/.....

الصف والشعبة /.....

1		ما الذي يحتاج إليه الإنسان لكي يبقى على قيد الحياة ؟
A	الماء والهواء فقط	
B	الماء والغذاء فقط	
C	الماء والهواء والغذاء	

ما الجزء المسؤول عن امتصاص الماء في النبات ؟		2
الزهرة	A	
الجنور	B	
الساق	C	

ما الجزء المسؤول عن صنع الغذاء للنبات ؟		3
الأوراق	A	
الساق	B	
الجنور	C	



ما نوع القوة المستخدمة تفي الصورة ؟

4

الدفع

A

السحب

B

السرعة

C

ماذا ارتدي عندما أركب الدراجة ؟

5

خوذة

A

اسوارة

B

سماعات

C

6



من خصائص المادة التي يصنع منها سياج المنزل ؟

قاسي

A

طري

B

شفاف

C

7

ما المرحلة التي تأتي بعد مرحلة الرضيع ؟

مراهق

A

طفل

B

رجل بالغ

C

8	لماذا تخرج الكائنات الحية الفضلات ؟	
A	لنتحرك	
B	لتنمو أكثر	
C	للتخلص من السموم	

9	أي الحيوانات التالية ممكن أن تؤذي الإنسان	
A	السمكة	
B	العصفور	
C	النحل	

10

أي الحيوانات التالية أبن الضفدع ؟



A



B



C

11

تنمو النبات من ؟

البذور

A

الأوراق

B

شتلة

C

12

ما المدة التي يعيشها الفيل ؟

11 سنة

A

70 سنة

B

5 سنوات

C

ضع علامة (✓) أمام العبارة الصحيحة وعلامة (x) أمام العبارة الخطأ:

(✓)	يصنع النبات غذاءه بنفسه عن طريق الورقة .	1
(✗)	كل الحيوانات تتغذى على اللحوم فقط .	2
(✗)	يحصل النبات على الماء عن طريق الورقة .	3
(✗)	يستطيع الإنسان أن يعيش بدون هواء .	4
(✓)	يرتدي مُربي النحل ملابس للحماية من لدغات النحل.	5
(✓)	يمكن تغيير سرعة الأشياء	6
(✓)	يتغذى الدب على النباتات واللحوم معاً .	7
(✓)	الزيت في البحر سام ويسبب الأذى للكائنات الحية .	8
(✗)	يمكننا حماية المواطن عن طريق زيادة التلوث .	9

2025

2024

الأسئلة المقالية

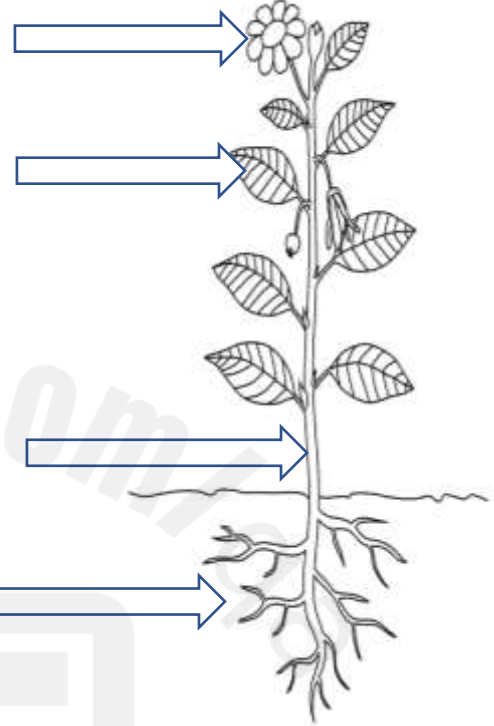
(1) اكتب اسم كل جزء من أجزاء النبات واسمه الصحيح :

زهرة

أوراق- ورقه

ساق

جذور



(2) عدد أنواع القوة ؟

1- الدفع

2- السحب

أكمل الفراغ بما يناسبة من الكلمات في الصندوق أدناه :

الزيت -الموطن - الحركة -- البذرة-

1. ... **الزيت** في البحر سام ويسبب الأذى للكائنات الحية .
2. يمنع الزيت الأسماك والطيور من **الحركة**
3. تنمو النبات من **البذرة**
4. هو المكان الذي تعيش فيه الكائنات الحية و يوفر الغذاء و الماء و المأوى **الموطن**

اختر الإجابة الصحيحة

ماذا الملابس التي ينبغي أن يرتديها سائق الدراجة ليلاً ؟



ب- ملابس زاهية مع خوذة

أ- ملابس داكنة بدون خوذة




أَنْظُرْ إِلَى الصُّورِ وَأَرْسُمْ دَائِرَةً حَوْلَ الْحَيَوَانَ
الَّذِي سَيَكُونُ أَكْثَرَ خَطَرًا عِنْدَمَا يَتَحَرَّكُ.



أكتب نوع القوة بجانب كل صورة


الدفع



السحب



السحب



الدفع

