

أوراق عمل الأندلس للبنين التحضيرية لاختبار نهاية الفصل غير مجابة



تم تحميل هذا الملف من موقع المناهج القطرية

موقع المناهج ⇨ المناهج القطرية ⇨ الصف الأول ⇨ علوم الحاسب ⇨ الفصل الأول ⇨ ملفات متنوعة ⇨ الملف


تاريخ إضافة الملف على موقع المناهج: 10:51:19 2025-12-14

ملفات اكتب للمعلم اكتب للطالب ا اختبارات الكترونية ا اختبارات ا حلول ا عروض بوربوينت ا أوراق عمل منهج انجليزي ا ملخصات وتقارير ا مذكرات وبنوك ا الامتحان النهائي ا للمدرس

المزيد من مادة
علوم الحاسب:

إعداد: مدرسة الأندلس

التواصل الاجتماعي بحسب الصف الأول



صفحة المناهج
القطرية على
فيسبوك

الرياضيات

اللغة الانجليزية

اللغة العربية

التربية الاسلامية

المواد على تلغرام

المزيد من الملفات بحسب الصف الأول والمادة علوم الحاسب في الفصل الأول

أوراق عمل الفرقان منتصف الفصل مع الإجابة النموذجية

1

أوراق عمل الأندلس للبنين التحضيرية لاختبار منتصف الفصل مع الإجابة النموذجية

2

أوراق عمل الأندلس للبنين التحضيرية لاختبار منتصف الفصل غير مجابة

3

أوراق عمل الفرقان منتصف الفصل غير مجابة

4

أوراق عمل الأندلس تحضيرية لاختبار منتصف الفصل غير مجابة

5



مجمع الأندلس التعليمي
Andalus Educational Complex
مدرسة الأندلس الابتدائية الثانية
بمحافظة وادي الدواسر - الرياض

رؤية المدرسة: المثل أعلى من المثل بخير وخير من المثل



الوزارة العامة للتعليم
Ministry of Education



التدريبات الإثرائية

مادة الحوسبة

اسم الطالب :

الصف :

الصف

1

نهاية الفصل الدراسي الأول
2026 - 2025

السؤال الأول:

في الصورة أدناه وللحفاظة على بيئة عمل نظيفة وآمنة قم بوضع دائرة حول الأشياء التي لا يجب وجودها بجانب الحاسوب.



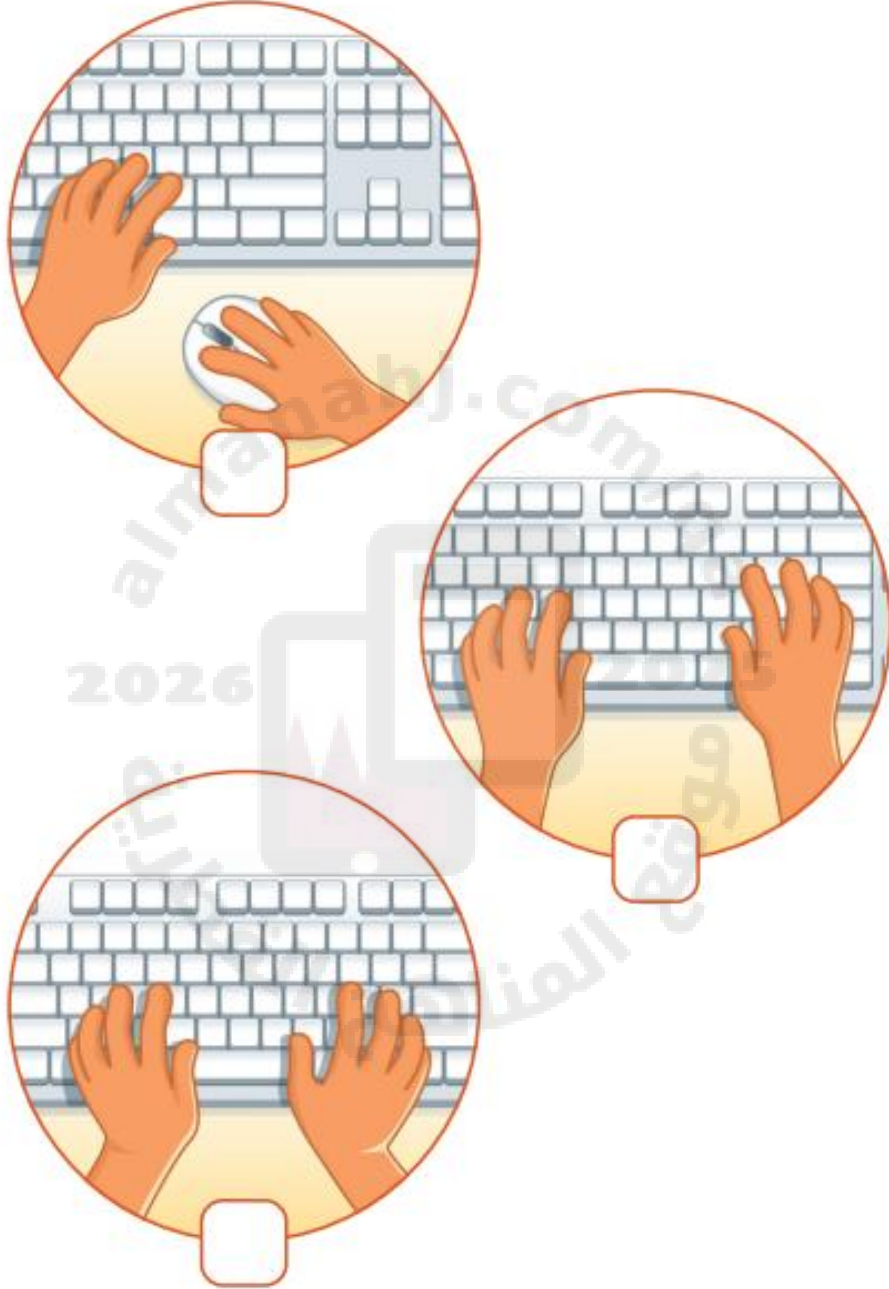
السؤال الثاني:

ضع إشارة صح (✓) أسفل الصورة الصحيحة أو خطأ (X) أسفل الصورة الغير صحيحة للحالات التالية:

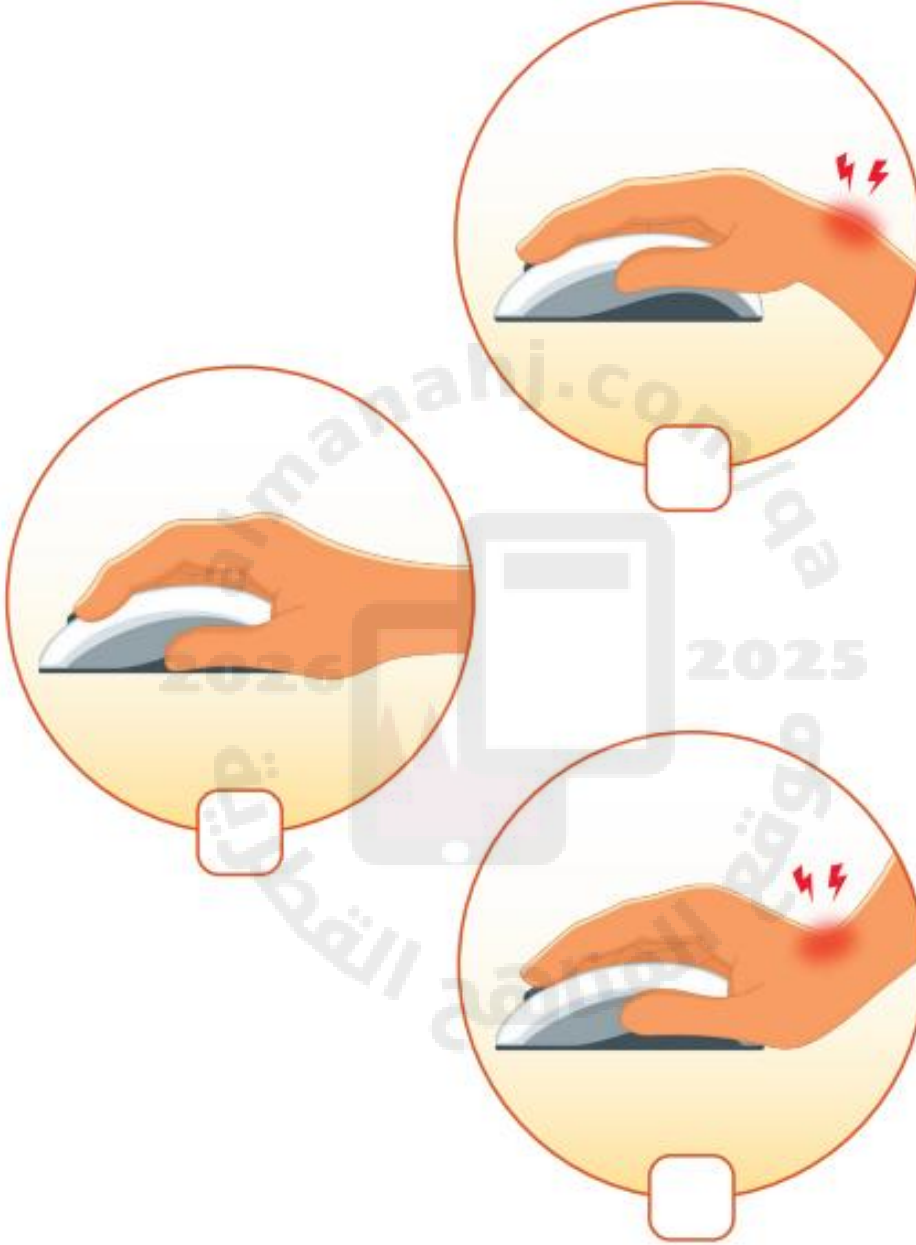
1- وضعية الجلوس الصحيحة أمام الحاسوب:



2- وضعية اليد الصحيحة للكتابة باستخدام لوحة المفاتيح:



3- وضعية اليد الصحيحة لإستخدام الفأرة:



السؤال الثالث:

صل اسماء أجزاء سطح المكتب في العمود (أ) بالصورة المناسبة في العمود (ب):

(ب)



(أ)

متصفح الإنترنت

سلة المحذوفات

مجلد

جهاز الحاسوب

السؤال الرابع:

اختر الإجابة الصحيحة بوضع علامة صح (✓) في المربع لكل من الحالات التالية:

1- ملف نصي


☐

☐


☐

☐

2- ملف صورة


☐


☐

☐

☐

3- ملف صوت



☐

☐

☐

☐

4- ملف فيديو


☐

☐

☐

☐

السؤال الخامس:

حدد نوع الملف الذي يتم إنشاؤه وذلك بوضع علامة صح (✓) في المربع لكل من الحالات التالية:

1- تكتب على لوحة المفاتيح



2- تسجل صوت



3- تلتقط صورة بواسطة الهاتف الذكي



4- تسجيل فيديو


السؤال السادس:

اختر الإجابة الصحيحة لكل من الحالات التالية:

1- أحد برامج الحاسوب والذي يستخدم للرسم:



2- الأداة التي يمكن الكتابة بها في برنامج الرسم:



3- أداة التعبئة المستخدمة في تلوين الأشكال في برنامج الرسام:

☐☐☐

4- يتم حفظ الرسمة في برنامج الرسام باستخدام الأمر:

Paste

☐

Save as

☐

Open

☐

5- يتم فتح رسمة تم حفظها مسبقاً في برنامج الرسام باستخدام الأمر:

Paste

☐

Open

☐

Save as

☐