

تم تحميل هذا الملف من موقع المناهج القطرية



* للحصول على أوراق عمل لجميع الصفوف وجميع المواد اضغط هنا

<https://almanahj.com/qa>

* للحصول على أوراق عمل لجميع مواد المستوى الأول اضغط هنا

<https://almanahj.com/qa/1>

* للحصول على جميع أوراق المستوى الأول في مادة علوم الحاسب ولجميع الفصول, اضغط هنا

<https://almanahj.com/qa/1computer>

* للحصول على أوراق عمل لجميع مواد المستوى الأول في مادة علوم الحاسب الخاصة بـ الفصل الثاني اضغط هنا

<https://almanahj.com/qa/1computer2>

* لتحميل كتب جميع المواد في جميع الفصول للـ المستوى الأول اضغط هنا

<https://almanahj.com/qa/grade1>

للتحدث إلى بوت المناهج القطرية على تلغرام: اضغط هنا

https://t.me/qacourse_bot

نهاية العام 1444
23-22

حاسوب 1

إجابات

تدريبات دعم وإثراء



واصلك
إبداعك



ملحوظة: هذه التدريبات لا تقني عن الكتاب المدرسي

الصف/1-

الاسم/



أولاً - ضع دائرة حول الإجابة الصحيحة فيما يلي:

(1) تتصل أجهزة الحواسيب في جميع أنحاء العالم عن طريق (الأقمار الصناعية):



(2) مفتاح الإدخال في لوحة المفاتيح :



(3) المفتاح العالي في لوحة المفاتيح:



(4) لحذف الحرف السابق لمؤشر الكتابة:



(5) لحذف الحرف التالي لمؤشر الكتابة:

	C		B		A
---	---	---	---	---	---

(6) لوحة المفاتيح:

	C		B		A
---	---	---	---	---	---

(7) برنامج الدفتر:

	C		B		A
---	---	---	---	---	---




(8) برنامج متصفح الويب :

	C		B		A
---	---	---	---	---	---

(9) تتصل أجهزة الحواسيب في جميع أنحاء العالم عن طريق (الهوائيات) :

	C		B		A
---	----------	---	----------	---	----------

(10) مفاتيح الأسهم في لوحة المفاتيح :

	C		B		A
---	----------	---	----------	--	----------

(11) من قواعد أمان الانترنت (لا أتحدث مع الغرباء):

	C		B		A
---	----------	---	----------	---	----------

(12) من قواعد أمان الانترنت (لا أرسل صوري الشخصية للغرباء) :

	C		B		A
---	----------	---	----------	---	----------




(13) من قواعد الأمان في الانترنت (لا أشارك كلمة المرور الخاصة بي) :

	A
	B
	C




(14) من قواعد الأمان في الانترنت (لا أشارك معلوماتي الشخصية مع الغرباء) :

	A
	B
	C




(15) استخدام الخرائط لتحديد المواقع :

	A
	B
	C

(16) التواصل مع الأصدقاء :

	A
	B
	C

(17) زيارة مواقع الويب :

<p>C</p> 	<p>B</p> 	<p>A</p> 
--	--	--

(18) الاستماع إلى الملفات الصوتية ومشاهدة مقاطع الفيديو :

<p>C</p> 	<p>B</p> 	<p>A</p> 
---	---	---

(19) الاتصال السلكي :

<p>C</p> 	<p>B</p> 	<p>A</p> 
--	--	--

(20) الاتصال اللاسلكي :

<p>C</p> 	<p>B</p> 	<p>A</p> 
--	--	--

(21) تضع الأحداث بالترتيب الصحيح لتنفيذ مهمة معينة:

A	النمط	B	التسلسل	C	الاتجاهات
---	-------	---	---------	---	-----------




(22) هو مجموعة من الأشكال والرسومات يتم تكرارها بشكل معين.:

A	النمط	B	التسلسل	C	الاتجاهات
---	-------	---	---------	---	-----------

ثانياً :-

1

صل بين كل صورة وما يناسبها من مزايا البريد الإلكتروني

مجاني

يجول العالم

سرعة تبادل الرسائل

2

طابق الصورة مع رقم الخطوة المناسب للحصول على التسلسل الصحيح لخطوات تنظيف الأسنان.



الخطوة (1)

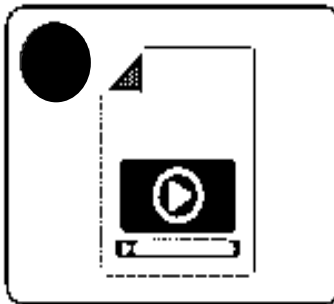
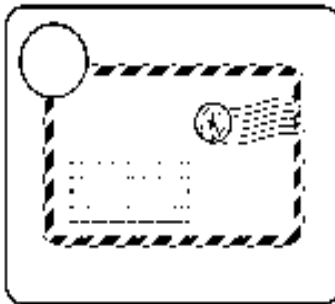
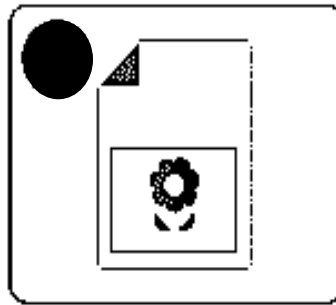
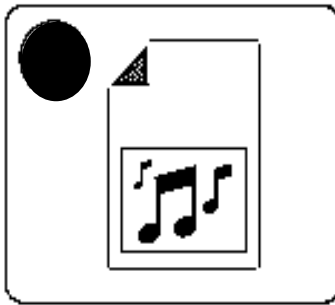
الخطوة (2)

الخطوة (3)

الخطوة (4)

ماذا يمكنك ارساله عن طريق البريد الالكتروني E- mail

3



4

صل الزر بالحركة الصحيحة.



1 التف إلى اليمين

2 ارجع للخلف

3 التف إلى اليسار

4 ابدأ



5 إيقاف مؤقت

6 احذف جميع التعليمات

7 تحرك للأمام


5

ضع دائرة حول الثمرة المناسبة أدنى المربع.



ارسم الشكل الصحيح في المربع الفارغ.

6



7

اشر على الخطأ في الأنماط الموضحة داخل القطارات وقم بتصحيحه .

