

أوراق عمل مدرسة الأندلس نهاية الفصل مع الإجابة النموذجية



تم تحميل هذا الملف من موقع المناهج القطرية

موقع المناهج ⇨ المناهج القطرية ⇨ الصف الأول ⇨ علوم ⇨ الفصل الأول ⇨ ملفات متنوعة ⇨ الملف

تاريخ إضافة الملف على موقع المناهج: 2025-12-08 13:27:14

ملفات اكتب للمعلم اكتب للطالب ا اختبارات الكترونية ا اختبارات ا حلول ا عروض بوربوينت ا أوراق عمل منهج انجليزي ا ملخصات وتقارير ا مذكرات وبنوك ا الامتحان النهائي للمدرس

المزيد من مادة علوم:

إعداد: مدرسة الأندلس

التواصل الاجتماعي بحسب الصف الأول



صفحة المناهج القطرية على فيسبوك

الرياضيات

اللغة الانجليزية

اللغة العربية

التربية الاسلامية

المواد على تلغرام

المزيد من الملفات بحسب الصف الأول والمادة علوم في الفصل الأول

أوراق عمل مدرسة الأندلس نهاية الفصل غير مجابة

1

أوراق عمل الفرقان منتصف الفصل غير مجابة

2

أوراق عمل الأندلس تحضيرية لاختبار منتصف الفصل مجابة

3

أوراق عمل الأندلس تحضيرية لاختبار منتصف الفصل غير مجابة

4

تحميل الجزء الثاني من كتاب الطالب للتعليم النهاري - طبعة 1447 - 2025 وفق منهاج دولة قطر

5

مدرسة الأندلس الخاصة للبنات
العام الأكاديمي 2025/2026
نهاية الفصل الدراسي الأول



أوراق عمل إثرائية

مادة العلوم العامة

الصف الأول الابتدائي

اسم الطالبة/.....

الصف والشعبة /.....

اختر الإجابة الصحيحة لكل من الأسئلة من 1 إلى 10، بوضع علامة x داخل المربع المجاور للإجابة الصحيحة:

أي من الصور الآتية مصنوعة من مادة قاسية ؟	1
	A
	B
	C

استخدم حاسة ماذا لاكتشف ما إذا كان الشيء خشناً أو ناعماً أو طري أو قاسي؟		2
الشم	A	
اللمس	B	
السمع	C	

أي من الصور الآتية مصنوعة من مادة طرية ؟		3
	A	
	B	
	C	

ما المادة التي تصنع منها الدفاتر و الكتب المدرسية؟		4
الخشب	A	
الأوراق	B	
البلاستيك	C	

أي من الصور الآتية يحتاج إلى محرك ليتحرك ؟		5
	A	
	B	
	C	

6



كيف تصف حركة العربة في الصورة المجاورة ؟

إلى الأمام

A

إلى الخلف

B

إلى الأعلى

C

7



كيف تصف حركة هذه الرجل في الصورة المجاورة

إلى الأمام

A

إلى الخلف

B

إلى الأعلى

C

8

أي من الأشياء الآتية ملمسه ناعم ؟

A



B



C



أي من الصور الآتية مصنوعة من مادة الخشب ؟

9



A



B



C

كيف تتحرك تتحرك الأشياء بمسارات ؟

10

مختلفة

A

متشابهة

B

لا تتحرك

C

السؤال رقم (11)

ضع علامة (√) أمام العبارة الصحيحة وعلامة (x) أمام العبارة الخطأ.

- 1- يمكن استخدام مادة الخشب لصناعة الملابس. ()
- 2- يُساعد المحرك المركبات كي تتحرك . ()
- 3- يمكن استخدام مادة الحديد لصناعة الملابس ()
- 4- تتحرك الأشياء بطرق مختلفة. ()
- 5- تُصنع النوافذ من مادة الزجاج . ()
- 6- استخدم حاسة اللمس لتحديد ما إذا كان الشيء خشناً أو ناعماً. ()

السؤال رقم (12)


أكمل العبارات الآتية بالكلمات المناسبة من صندوق الكلمات:

الزجاج - مختلفة - العجلات

1- تُساعد الأشياء الكبيرة والثقيلة كي تتحرك.




2- تتحرك الأشياء بمسارات

3. تصنع عدسات النظارة الطبية من مادة



السؤال رقم (13)

صل ما في العمود (أ) بما يناسبه من العمود (ب) :

(ب)	(أ)
	إلى الأمام
	ناعم
	خشن

أرْسُمْ دَائِرَةً حَوْلَ الْمُصْطَلَحِ الصَّحِيحِ.



إِلَى الْخَلْفِ



إِلَى الْأَمَامِ



إِلَى الْخَلْفِ

إِلَى الْأَمَامِ

