

الاختبار النهائي نهاية الفصل



تم تحميل هذا الملف من موقع المناهج القطرية

موقع المناهج ← المناهج القطرية ← المستوى الأول ← علوم ← الفصل الثاني ← ملفات متنوعة ← الملف

تاريخ إضافة الملف على موقع المناهج: 2025-06-18 12:54:46

ملفات اكتب للمعلم اكتب للطالب | اختبارات الكترونية | اختبارات | حلول | عروض بوربوينت | أوراق عمل
منهج انجليزي | ملخصات وتقارير | مذكرات وبنوك | الامتحان النهائي | للمدرس

المزيد من مادة
علوم:

التواصل الاجتماعي بحسب المستوى الأول



صفحة المناهج
القطرية على
فيسبوك

الرياضيات

اللغة الانجليزية

اللغة العربية

التربية الاسلامية

المواد على تلغرام

المزيد من الملفات بحسب المستوى الأول والمادة علوم في الفصل الثاني

مراجعة هامة جدا ومتوقعة لاختبار نهاية الفصل مع الإجابة

1

مراجعة هامة جدا ومتوقعة لاختبار نهاية الفصل

2

التدريبات الإثرائية التحضيرية لاختبار نهاية الفصل

3

أوراق عمل نهاية الفصل مريم بنت عمران


4

إجابات أوراق عمل الفرقان نهاية الفصل

5

اختر الإجابة الصحيحة لكل من الأسئلة من 1 إلى 12، وذلك بوضع علامة × داخل المربع




تعليمات المجاور للإجابة الصحيحة:


السؤال الأول	1 /
<p>أي مما يلي يُصنع منه سياج المنزل؟</p> 	
A	الورق
B	المعدن
C	الزجاج

السؤال الثاني	1 /
<p>أي من الخصائص التالية تجعل الورق مناسباً لصناعة الكتب؟</p>	
A	طري
B	قاس
C	خشن




السؤال الثالث	1 /.....
أي مما يلي المادة المناسبة لصنع نوافذ السيارة؟	
A	الخشب
B	المعدن
C	الزجاج

السؤال الرابع	1 /.....
أي مما يلي يحتاج إليه الإنسان للبقاء على قيد الحياة؟	
A	الكتب
B	الهواء
C	الألعاب

السؤال الخامس	1 /.....
أي مما يلي يبدو نباتاً نضراً؟	
	A
	B
	C

السؤال السادس	1 /.....
	
أي مما يلي يُبينه هذا الشكل؟	
A نمو النبات	
B حركة النبات	
C إخراج الفضلات عند النبات	

السؤال السابع	1 /.....
أي مما يلي تفعله جميع الكائنات الحية؟	
السباحة	A
الطيران	B
إخراج الفضلات	C

السؤال الثامن	1 /.....
أي مما يلي يتكاثر عن طريق وضع البيض؟	
	A
	B
	C




السؤال التاسع	1 /.....
أي مما يلي يحدث للأزهار عندما يتم قطفها؟	
A	تنمو
B	تتكاثر
C	يتوقف نموها

السؤال العاشر	1 /.....
أي مما يلي يحدث عند دفع سيارة لعبة بقوة كبيرة؟	
A	تتحرك بسرعة
B	تتحرك ببطء
C	لا تتحرك

السؤال الحادي عشر	1 /
أي مما يلي يكون أكثر خطراً عندما يتحرك بسرعة كبيرة؟	
A	النملة
B	الجمل
C	الفراشة




السؤال الثاني عشر	1 /
أي مما يلي ينبغي ارتدائه عند ركوب الدراجة ليلاً؟	
A	ملابس زاهية وخوذة
B	ملابس زاهية بدون خوذة
C	ملابس داكنة بدون خوذة

صل المرحلة الزمنية في العمود (أ) بالصورة المناسبة في العمود (ب):

العمود (ب)




العمود (أ)
0 سنة
1 سنة
12 سنة

صل الكلمة في العمود (أ) بالصورة المناسبة في العمود (ب):

العمود (ب)	العمود (أ)
	<p>سحب</p>
	<p>دفع</p>
	

4/.....

ضع علامة (✓) أمام العبارة الصحيحة، أو علامة (×) أمام العبارة الخطأ:

1. الخشب مادة شفافة. ()
2. يصنع النبات غذاءه بنفسه. ()
3. يتغير شكل الإنسان والحيوان أثناء النمو. ()
4. الأشياء الثقيلة تتحرك ببطء أكثر من الأشياء الخفيفة. ()

3/.....

السؤال السادس عشر (أ)

أكمل الفراغات التالية مستعيناً بصندوق الكلمات:

الموطن	البذور	الضرر
--------	--------	-------

1. تنمو النباتات من -----.
2. يوفر ----- الغذاء والماء والمأوى.
3. يسبب تسرب بقع الزيت في البحر ----- للحيوانات.

السؤال السادس عشر (ب)

3/.....

أكمل الفراغات التالية مستعيناً بصندوق الكلمات:

القوة	السلامة	خصائص
-------	---------	-------

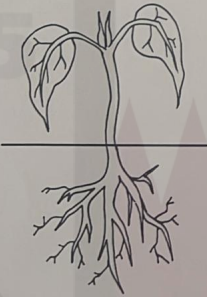
1. يتم اختيار المواد لصنع الأشياء بحسب المادة.
2. الدفع والسحب نوعان من
3. أَلعب في الأماكن المخصصة للعب للمحافظة على

2/.....

السؤال السابع عشر

انظر إلى الصورة ثم أجب عن الأسئلة التالية:

أ. أرسم دائرة حول الجزء الذي يساعد النبات للحصول على الماء.



ب. ما اسم الجزء الذي يصنع فيه النبات غذاءه؟

الإجابة:

أجب عن السؤال التالي:

ما اسم القوة المستخدمة لتحريك الأشياء باتجاهي؟

الإجابة:

انتهت الأسئلة

نتمنى لكم التوفيق