

## أوراق عمل في استعمال النماذج لطرح العشرات غير مجابة



### تم تحميل هذا الملف من موقع المناهج القطرية

موقع المناهج ← المناهج القطرية ← المستوى الأول ← رياضيات ← الفصل الثاني ← ملفات متنوعة ← الملف

تاريخ إضافة الملف على موقع المناهج: 02:23:07 2025-06-21

ملفات اكتب للمعلم اكتب للطالب | اختبارات الكترونية | اختبارات | حلول | عروض بوربوينت | أوراق عمل  
منهج انجليزي | ملخصات وتقارير | مذكرات وبنوك | الامتحان النهائي | للمدرس

المزيد من مادة  
رياضيات:

إعداد: مدرسة الخور

### التواصل الاجتماعي بحسب المستوى الأول



صفحة المناهج  
القطرية على  
فيسبوك

الرياضيات

اللغة الانجليزية

اللغة العربية

التربية الاسلامية

المواد على تلغرام

### المزيد من الملفات بحسب المستوى الأول والمادة رياضيات في الفصل الثاني

أوراق العمل والمراجعات مريم بنت عمران نهاية الفصل

1

إجابات أوراق عمل الفرقان نهاية الفصل

2

أوراق عمل وتدريبات الفرقان نهاية الفصل في الجمع والطرح والعشرات والأحاد والأشكال الهندسية وقراءة الوقت

3

تدريبات الأندلس نهاية الفصل في الوحدة الرابعة العمليات الحسابية والهندسة مع الإجابة النموذجية

4

تدريبات الأندلس نهاية الفصل في الوحدة الرابعة العمليات الحسابية والهندسة

5

الاسم: ..... الصف: .....



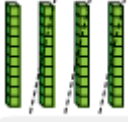
أضع علامة x بجانب العبارة الصحيحة :


الدرجة (1)		1
أي مما يلي يوضح الإجابة عن 3 عشرات - 7 عشرات		
	20	<input type="checkbox"/> A
	30	<input type="checkbox"/> B
	40	<input type="checkbox"/> C

الدرجة (1)		2
أعد خباز 50 كعكة باع منها كعكات 10 ما عدد الكعكات الباقية ؟		
	30	<input type="checkbox"/> A
	40	<input type="checkbox"/> B
	50	<input type="checkbox"/> C


الدرجة (1)		3
ما ناتج طرح $80 - 20 = ?$		
	50	<input type="checkbox"/> A
	60	<input type="checkbox"/> B
	70	<input type="checkbox"/> C

الدرجة (1)		4
عرض متجر 20 دبا للبيع في اليوم التالي باع صاحب المتجر 10 دبة ما عدد الدبة التي بقيت في المتجر ؟		
10	<input type="checkbox"/>	A
20	<input type="checkbox"/>	B
30	<input type="checkbox"/>	C

الدرجة (1)		5
ما ناتج الطرح ؟ $40 - 30 = ?$ 		
10	<input type="checkbox"/>	A
20	<input type="checkbox"/>	B
30	<input type="checkbox"/>	C

		6
ما ناتج طرح 10 - 60 باستعمال نماذج العشرات 		
30	<input type="checkbox"/>	A
40	<input type="checkbox"/>	B
50	<input type="checkbox"/>	C

ما ناتج طرح 30 – 70 باستعمال نماذج العشرات



10

A

40

B

60

C

الدرجة (2)

السؤال رقم (8)

استعمل الجزء من لوحة المئة لطرح العشرات .

1	2	3	4	5	6	7	8	9	10
11	12	13	14	15	16	17	18	19	20
21	22	23	24	25	26	27	28	29	30
31	32	33	34	35	36	37	38	39	40

$$30 - 20 = \dots\dots\dots$$

اكتب جملة عددية لحل المسألة ارسـم العـشرات لأبـين عـملي

في متجر 50 قارباً للبيع في اليوم التالي باع صاحب المتجر 20 قارباً

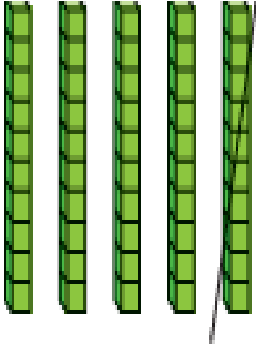
ما عدد القوارب التي بقيت في المتجر ؟

قارباً \_\_\_\_\_

اكتب الأعداد لإكمال الجمل العددية



اكتب الأعداد لإكمال الجمل العددية



\_\_\_\_\_ عَشْرَات = \_\_\_\_\_ مِنْ الْعَشْرَات - \_\_\_\_\_ عَشْرَات

\_\_\_\_\_ - \_\_\_\_\_ = \_\_\_\_\_

أستعمل الجمع لحل مسألة الطرح:

**-1**  $20 + \underline{\hspace{2cm}} = 40$  **-2**  $60 + \underline{\hspace{2cm}} = 70$

إِذَنْ،  $40 - 20 = \underline{\hspace{2cm}}$  إِذَنْ،  $70 - 60 = \underline{\hspace{2cm}}$