

ورقة عمل في الطرح حتى العدد 20



تم تحميل هذا الملف من موقع المناهج القطرية

موقع المناهج ← المناهج القطرية ← الصف الأول ← رياضيات ← الفصل الثاني ← ملفات متنوعة ← الملف

تاريخ إضافة الملف على موقع المناهج: 22:07:30 2026-04-03

ملفات اكتب للمعلم اكتب للطالب | الاختبارات الكترونية | اختبارات | حلول | عروض بوربوينت | أوراق عمل
منهج انجليزي | ملخصات وتقارير | مذكرات وبنوك | الامتحان النهائي للمدرس

المزيد من مادة
رياضيات:

إعداد: مدرسة الأندلس

التواصل الاجتماعي بحسب الصف الأول



صفحة المناهج
القطرية على
فيسبوك

الرياضيات

اللغة الانجليزية

اللغة العربية

التربية الاسلامية

المواد على تلغرام

المزيد من الملفات بحسب الصف الأول والمادة رياضيات في الفصل الثاني

ورقة عمل في حقائق الطرح

1

ورقة عمل العد حتى 100

2

أوراق عمل الأندلس غير مجابة تحضيرية لاختبار منتصف الفصل

3

أوراق عمل لاختبار منتصف الفصل من مدرسة الفرقان غير مجابة

4

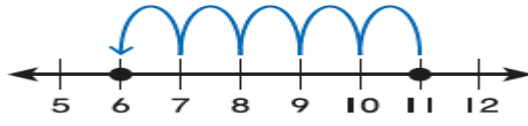
الاختبار النهائي نهاية الفصل

5

اسم الطالبة:	الصف الشعبة:
المادة:	رقم الوحدة 6. اسم الوحدة : حقائق الطرح حتى 20
الهدف من ورقة العمل: رفع المستوى الأكاديمي	
اليوم:	التاريخ:

السؤال الأول: الأسئلة الموضوعية

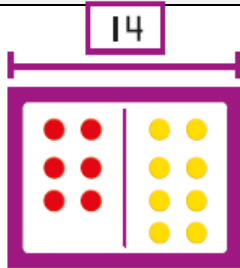
السؤال الأول:



ما الجملة الممثلة على خط الأعداد التالي؟

A	$6 - 5 = 1$
B	$11 - 5 = 6$
C	$11 - 4 = 7$

السؤال الثاني:



$$6+8=14$$

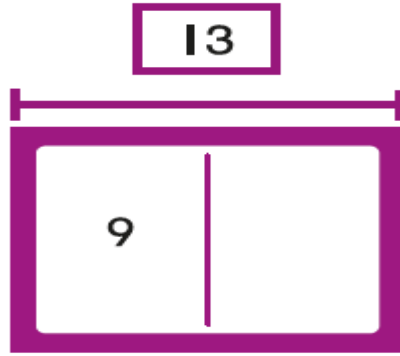
أي حقيقة طرح مرتبطة مع جملة الجمع

A	$14 - 6 = 8$
B	$14 - 5 = 9$
C	$14 - 9 = 5$



السؤال الثالث:

أكمل النموذج ثم أكمل الجمل العددية:




$$9 + \underline{\quad} = 13$$

$$13 - 9 = \underline{\quad}$$

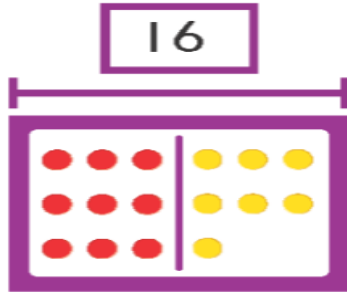
السؤال الرابع:

لدى فوزية 12 ريال
انفقت 4 ريالات في المتجر
كم ريال بقي لدى فوزية؟
ارسم صورة واكتب جملة عددية للحل



$$\underline{\quad} \bigcirc \underline{\quad} = \underline{\quad}$$

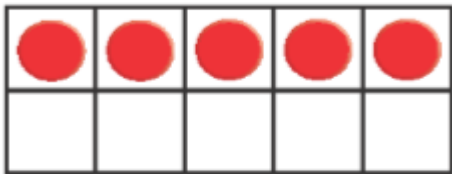

ريالاتٍ $\underline{\quad}$



اكتب عائلة الحقائق لنموذج التالي:

$$\begin{array}{r} \underline{\quad} + \underline{\quad} = \underline{\quad} \\ \underline{\quad} + \underline{\quad} = \underline{\quad} \\ \underline{\quad} - \underline{\quad} = \underline{\quad} \\ \underline{\quad} - \underline{\quad} = \underline{\quad} \end{array}$$

السؤال السادس:



كان في الحديقة 15 قطة.
عادت 8 قطط منها إلى المنزل.
كم قطة بقيت في الحديقة؟
أكون 10 لأحل المسألة. استعمل قطع العد ولوحة العشرة

$$\underline{\quad} \bigcirc \underline{\quad} = \underline{\quad}$$



<input type="checkbox"/> فخورة بكِ <input type="checkbox"/> مجهود رائع ومميز <input type="checkbox"/> خطك جميل ومرتب	<input type="checkbox"/> أكملتي الناقص <input type="checkbox"/> أعيدي قراءة السؤال لتحديد المطلوب بدقة <input type="checkbox"/> صحي الخطأ	التغذية الراجعة
<input type="checkbox"/> إعادة حل ورقة العمل <input type="checkbox"/> حل المزيد من الأسئلة المشابهة	<input type="checkbox"/> مراجعة صفحات الكتاب ص <input type="checkbox"/> تلخيص الدرس بأسلوبك لتثبيت المعلومات <input type="checkbox"/> استخدام الخرائط الذهنية لتسهيل الحفظ <input type="checkbox"/> اطلبي المساعدة من معلمتك إذا شعرت بصعوبة في الفهم :لابأس بذلك .	الخطوة العلاجية لرفع التحصيل الأكاديمي للطالبة

.....	منسقة القسم	معلومات الصف
-------	-------------	-------	--------------