

تم تحميل هذا الملف من موقع المناهج القطرية



أوراق عمل دعم وإثراء الفرقان نهاية الفصل غير مجانية

موقع المناهج ← المناهج القطرية ← المستوى الأول ← علوم الحاسب ← الفصل الأول ← أوراق عمل ← الملف

تاريخ إضافة الملف على موقع المناهج: 2024-11-30 16:00:15

ملفات اكتب للمعلم اكتب للطالب | اختبارات الكترونية | اختبارات | حلول | عروض بوربوينت | أوراق عمل
منهج انجليزي | ملخصات وتقارير | مذكرات وبنوك | الامتحان النهائي للمدرس

المزيد من مادة:
علوم الحاسب:

التواصل الاجتماعي بحسب المستوى الأول



صفحة المناهج
القطرية على
فيسبوك

الرياضيات

اللغة الانجليزية

اللغة العربية

التربية الاسلامية

المواد على تلغرام

المزيد من الملفات بحسب المستوى الأول والمادة علوم الحاسب في الفصل الأول

أوراق العمل الاثرائية نهاية الفصل غير مجانية

1

أوراق عمل الأندلس نهاية الفصل مع الإجابة النموذجية

2

أوراق عمل الأندلس نهاية الفصل غير مجانية

3

أوراق عمل اثرائية تحضيرية لاختبار منتصف الفصل مع الإجابة النموذجية

4

أوراق عمل اثرائية تحضيرية لاختبار منتصف الفصل غير مجانية

5

الحواسبة

1446 هـ - 24-25 م

نهاية ف 1

تدريبات
دعم
وإثراء



يا رب انصر عبادك المؤمنين
وجنك الموحدين في كل مكان

القدس والأقصى ▼ حتماً ستعود

ملحوظة: هذه التدريبات لا تقني عن الكتاب المدرسي

الاسم / الصف / 1-




التميز



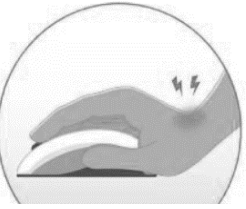
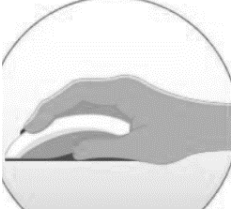
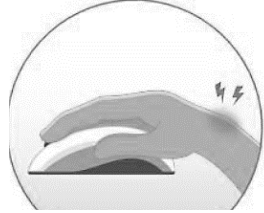
السؤال الأول: ضع دائرة حول الإجابة الصحيحة فيما يلي:**(1) من الأشياء التي لا يجب أن تكون بجانب الحاسوب**

	(ج)		(ب)		(أ)
---	-----	---	-----	---	-----




(2) الأداة التي يمكن الكتابة بها في برنامج الرسم

	(ج)		(ب)		(أ)
--	-----	--	-----	--	-----

(3) وضعية اليد الصحيحة لاستخدام الفأرة

	(ج)		(ب)		(أ)
---	-----	---	-----	---	-----

(4) أيقونة المجلدات الموجودة على سطح المكتب

	(ج)		(ب)		(أ)
---	-----	---	-----	---	-----




(5) ملف الفيديو

	(ج)		(ب)		(أ)
---	-----	---	-----	---	-----

(6) أداة التعبئة المستخدمة في تلوين الأشكال في برنامج الرسام

	(ج)		(ب)		(أ)
--	-----	--	-----	--	-----





(7) وضعية الجلوس الصحيحة أمام الحاسوب

	(ج)		(ب)		(أ)
---	-----	---	-----	---	-----

(8) ملف الصورة





	(ج)		(ب)		(أ)
---	-----	---	-----	---	-----

السؤال الثاني:**- صل بين الكلمة في العمود (أ) بالصورة المناسبة في العمود (ب)****وذلك بكتابة الرقم المناسبة في الدائرة أمام الصورة:**

(ب)		(أ)	
	<input type="radio"/>	1	متصفح الانترنت
	<input type="radio"/>	2	سلة المحذوفات
	<input type="radio"/>	3	جهاز الحاسوب
	<input type="radio"/>	4	المجلد

- صل بين الكلمة في العمود (أ) بالصورة المناسبة في العمود (ب)

وذلك بكتابة الرقم المناسبة في الدائرة أمام الصورة:

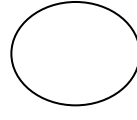
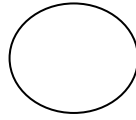
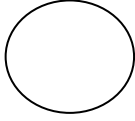
(ب)	
	<input type="radio"/>
	<input type="radio"/>
	<input type="radio"/>
	<input type="radio"/>

(أ)	
أداة الممحاة	1
أداة تعبئة اللون	2
أداة الفرشاة	3
أداة الرسم بالقلم	4

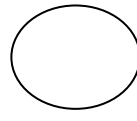
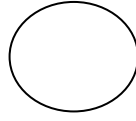
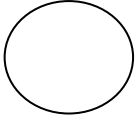
السؤال الثالث:

أجب عن الأسئلة الآتية بوضع (✓) أسفل الصورة المناسبة :




1) ضع علامة (✓) أسفل الصور التي تحتوي على وضعية الجلوس الصحيحة أمام الحاسوب:






2) ضع علامة (✓) أسفل الصور التي تحتوي على ملف النص :






3) ضع علامة (✓) أسفل الصور التي تحتوي على تسجيل الصوت :



4) ضع علامة (✓) أسفل الصور التي تحتوي على سلة المحذوفات :



5) ضع علامة (✓) أسفل الصور التي تحتوي على برنامج الرسام :



6) ضع علامة (✓) أسفل الصور التي تحتوي على ملف الفيديو :

