

المعين في الدراسات



تم تحميل هذا الملف من موقع المناهج العمانية

موقع فايلاتي ⇨ المناهج العمانية ⇨ الصف التاسع ⇨ اجتماعيات ⇨ الفصل الثاني ⇨ ملفات متنوعة ⇨ الملف

تاريخ إضافة الملف على موقع المناهج: 2026-02-01 15:16:04

ملفات اكتب للمعلم اكتب للطالب | اختبارات الكترونية | اختبارات | حلول | عروض بوربوينت | أوراق عمل
منهج انجليزي | ملخصات وتقارير | مذكرات وبنوك | الامتحان النهائي | للمدرس

المزيد من مادة
اجتماعيات:

إعداد: هدى العجمية

التواصل الاجتماعي بحسب الصف التاسع



صفحة المناهج
العمانية على
فيسبوك

المزيد من الملفات بحسب الصف التاسع والمادة اجتماعيات في الفصل الثاني

أسئلة الامتحان النهائي الرسمي الدور الأول الفترة الصباحية	1
نموذج إجابة أسئلة الامتحان النهائي الرسمي الدور الأول الفترة الصباحية	2
خرائط مادة الدراسات الاجتماعية	3
ملخص الأحداث التاريخية لدرس جمهورية الصين الشعبية	4
ملخص درس جمهورية الصين الشعبية	5



سلطنة عمان

وزارة التربية والتعليم

المديرية العامة للتربية والتعليم بمحافظة شمال الباطنة

إدارة التربية والتعليم بالسويق

مدرسة اليرموك للتعليم الأساسي (5-9)



المُعِين في مادة الدراسات الإجتماعية

للفifth التاسع

الفصل الدراسي الثاني



ترتيب وتنظيم العمل / الأستاذة هدى العجمية

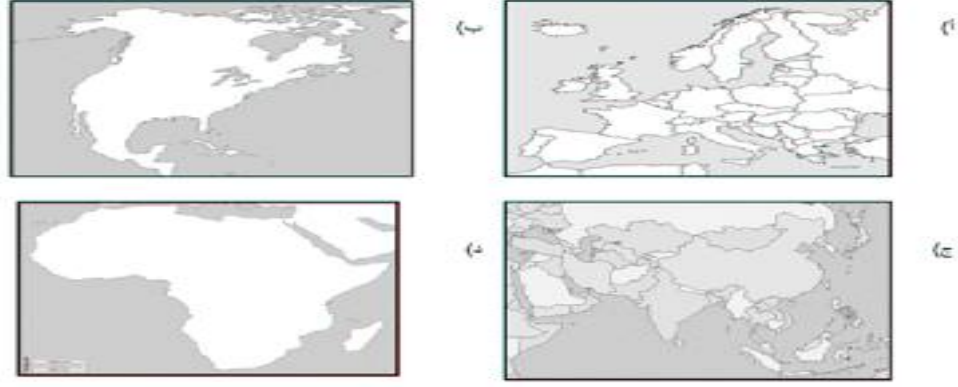
تم من خلال هذا العمل تجميع الأسئلة الامتحانية السابقة
وترتيبها حسب الدروس حتى يسهل على الطالب
اختبار فهمه على كل درس
راجية من الله التوفيق للجميع

الوحدة الرابعة / الدرس الأول (الانفجار السكاني)

أولاً / الأسئلة الاختيارية:

- ١- العلاقة الصحيحة التي تلخص الآثار الاقتصادية والاجتماعية للانفجار السكاني:
- (أ) كلما قل عدد السكان قلت فرص العمل وارتفع المستوى المعيشي.
(ب) كلما زاد عدد السكان قلت فرص العمل وانخفض المستوى المعيشي.
(ج) كلما قل عدد السكان زادت فرص العمل وانخفض المستوى المعيشي.
(د) كلما زاد عدد السكان زادت فرص العمل وارتفع المستوى المعيشي.
- ٢- جميع ما يلي من العوامل المؤدية إلى ارتفاع معدل المواليد ما عدا:
- (أ) الزواج المبكر (ب) توافر الغذاء السليم (ج) انخفاض الوعي السكاني (د) انخفاض الدخل
- ٣- تبلغ مساحة السلطنة :
- (أ) ٣٠٩٥٠٠ كم^٢ (ب) ٥٠٠٣٩٠ كم^٢
(ج) ٥٠٩٥٠٠ كم^٢ (د) ٩٠٣٠٠٠ كم^٢
- ٤- يتحدد النمو السكاني في العالم بعاملين:
- (أ) التحضر والهجرة (ب) التحضر والزيادة الطبيعية
(ج) الزيادة الطبيعية والهجرة (د) أمد الحياة والهجرة
- ٥- كم يبلغ حجم الباحثين عن عمل في دولة إذا علمت أن قوة العمل بها حوالي (١٦٠٠٠٠٠) نسمة وأن عدد العاملين فعلاً منهم حوالي (٩٠٠٠٠٠) نسمة:
- (أ) ٦٠٠٠٠٠ نسمة (ب) ٧٠٠٠٠٠ نسمة (ج) ٨٠٠٠٠٠ نسمة (د) ٩٠٠٠٠٠ نسمة
- ٦- شهد الثلث الأخير من القرن العشرين نمواً لا مثيل له في عدد سكان العالم أطلق عليه:
- (أ) النمو السكاني (ب) الانفجار السكاني (ج) الازدياد السكاني (د) التسارع السكاني

٧- القارة التي يتركز فيها ٢٠% من الطلب العالمي الحالي على الوقود و الغاز:



٨- جميع ما يلي من مصادر الطاقة القابلة للنفاد ما عدا :

(أ) النفط (ب) الغاز (ج) الفحم الحجري (د) الشمس

٩- الزيادات الكبيرة في أعداد السكان بالمقارنة مع الموارد المتاحة يعرف ب:

(أ) الكثافة السكانية (ب) التربة السكانية (ج) الانفجار السكاني (د) المشكلة السكانية

١٠- الفترة الزمنية التي شهدت النمو السكاني الكبير الذي أطلق عليه اسم الانفجار السكاني هي:

(أ) الثلث الأول من القرن التاسع عشر

(ب) الثلث الأخير من القرن التاسع عشر

(ج) الثلث الأول من القرن العشرين

(د) الثلث الأخير من القرن العشرين

١١- الشكل الصحيح لمصدر الطاقة البديلة والمتجددة :



١٢- المدينة التي تقدم حياة أفضل لسكانها من خلال الجدول التالي :

عدد المستشفيات	عدد المدارس	عدد السكان	المدينة
٣	١٥	٥٠,٠٠٠	الأولى
٦	٢٠	٥٠,٠٠٠	الثانية
٦	٢٥	٥٠,٠٠٠	الثالثة
٧	٣٠	٥٠,٠٠٠	الرابعة

(أ) الأولى (ب) الثانية (ج) الثالثة (د) الرابعة

١٣- العلم الذي يهدف إلى التعريف بالسكان والظواهر السكانية يسمى:

أ) التربية الوطنية ب) التربية البشرية ج) التربية السكانية د) التربية الاجتماعية

١٤- يبلغ متوسط أعداد الأفراد الذين يموتون جوعاً يومياً على مستوى العالم بالألف نسمة :

أ) ٨٠ ب) ٦٠ ج) ٤٠ د) ٢٠

١٥- الكمية التي يجب أن يتناولها أحمد من السعرات الحرارية اليومية المشار إليها في دراسات منظمة الأغذية و الزراعة:

أ) ١٥٠٠ ب) ٢٥٠٠ ج) ٣٥٠٠ د) ٤٥٠٠

١٦- تقاس نسبة الباحثين عن عمل من خلال المعادلة:

$$\begin{array}{ll} \text{أ-} & \frac{\text{إجمالي قوة العمل}}{\text{حجم الباحثين عن عمل}} \times 100 \\ \text{ب-} & \frac{\text{حجم الباحثين عن عمل}}{\text{إجمالي قوة العمل}} \times 100 \\ \text{ج-} & \frac{\text{مجموع قوة العمل}}{\text{مجموع العاملين فعلاً}} \times 100 \\ \text{د-} & \frac{\text{مجموع العاملين فعلاً}}{\text{مجموع قوة العمل}} \times 100 \end{array}$$

١٧- الطاقة الشمسية إذ تم استغلالها كأحد البدائل لمصادر الطاقة الحالية فإنها تكون:

أ) قابلة للنفاذ و مكلفة اقتصادياً .

ب) قابلة للنفاذ و غير مكلفة اقتصادياً .

ج) غير قابلة للنفاذ و غير مكلفة اقتصادياً .

د) غير قابلة للنفاذ و مكلفة اقتصادياً

١٨- يبلغ عدد سكان العالم الذين لا ينتفعون بالخدمات الحديثة للطاقة بالمليار نسمة ما يقارب:

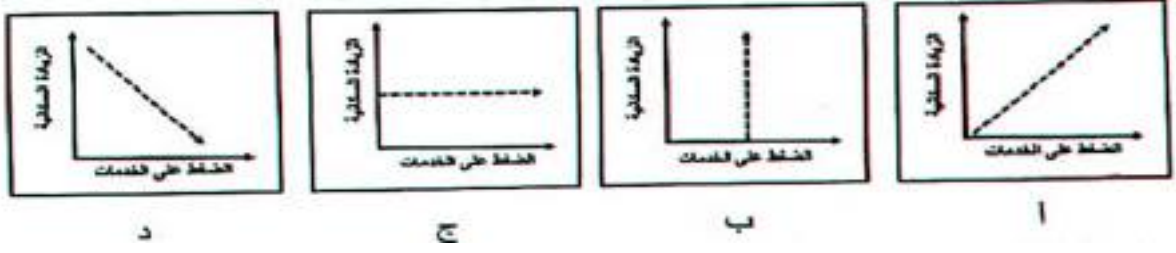
أ) ١ ب) ٢ ج) ٣ د) ٤

١٩- يستخدم القانون التالي (مجموع قوة العمل - مجموع العاملين فعلاً) لحساب :

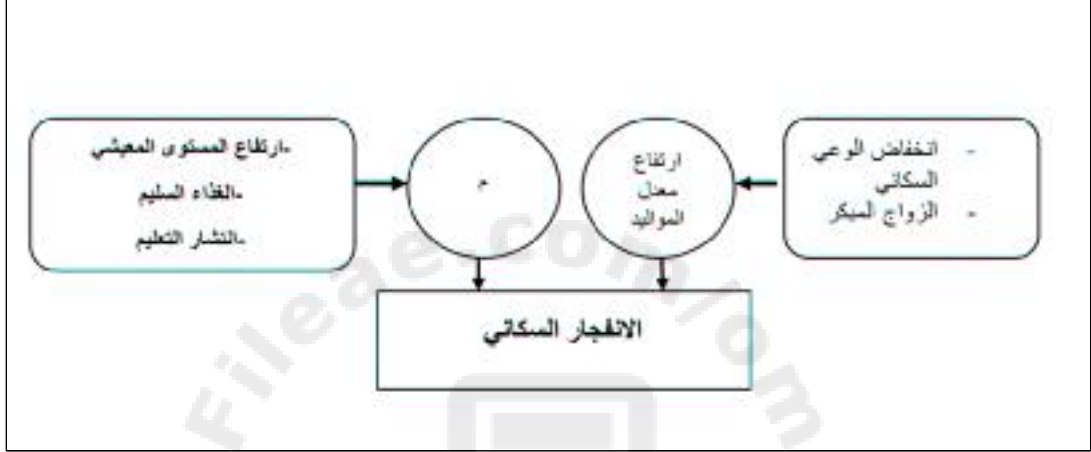
أ) إجمالي قوة العمل ب) نسبة الاعالة

ج) حجم الباحثين عن عمل د) نسبة الباحثين عن عمل

٢٠- الشكل البياني الذي يوضح العلاقة بين الزيادة السكانية و الضغط على الخدمات :



٢١- السبب الصحيح الذي يشير إليه الرمز (م) في الشكل الذي أمامك:



(ب) ارتفاع معدل الهجرة
(د) ارتفاع معدلات الوفيات

أ) انخفاض معدل الوفيات
ج) انخفاض معدل المواليد

ثانياً / الأسئلة المقالية:

١- عرف ما يلي :

أ) الانفجار السكاني.

.....

ب) النمو السكاني

.....

٢- ادرس الجدول التالي ثم أجب عن الأسئلة التالية:

عدد السكان	عدد المدارس	عدد المستشفيات	وضع الطرق
١٠٠٠٠٠	٢٨	٣	مرصوفة و معبدة
٣٠٠٠٠٠	٢٨	٥	مرصوفة و معبدة

- أ) في رأيك أي المدينتين يمكن أن تقدم حياه أفضل لمواطنيها؟ ولماذا؟
- ب) كيف تتوقع أن تكون حالة الطرق في المدينة (ب)؟
- ج) استنتج من الجدول أعلاه أحد الآثار الاجتماعية والاقتصادية للانفجار السكاني.
- د) تتساوى عدد المدارس في المدينتين، فهل تتساويان في الخدمات التعليمية التي تقدمانها؟ ولماذا؟

٣- دولة يبلغ عدد سكانها ٤٠٠٠٠٠٠ نسمة وتبلغ قوة العمل (القادرون على العمل) بها حوالي (٢٤٠٠٠٠٠) نسمة إلا أن عدد العاملين فعلاً منهم حوالي (٢٠٠٠٠٠٠) نسمة .

أ) احسب حجم الباحثين عن عمل في هذه الدولة مع كتابة القانون

.....

.....

.....

ب) احسب نسبة الباحثين عن عمل في هذه الدولة مع كتابة القانون

.....

.....

.....

٤- علل / ارتفاع نسبة الباحثين عن عمل في الأرجنتين إلى ٢٠% من جملة السكان عام ٢٠٠٢م.

.....

.....

٥- اذكر نتيجة واحدة ترتبت على الانفجار السكاني.

.....

٦- بالنظر إلى الجدول المقابل عن عدد سكان سلطنة عمان،

كم بلغت الزيادة السكانية منذ العام ١٩٩٣م حتى ٢٠١٠م؟

السنة	عدد السكان
١٩٩٣م	٢٠١٨٠٧٤ نسمة
٢٠٠٣م	٢٣٤٠٨١٥ نسمة
٢٠١٠م	٢٧٧٣٤٧٩ نسمة

٧- " لا يستطيع ما يقارب مليار نسمة من سكان العالم الانتفاع بالخدمات الحديثة للطاقة نتيجة زيادة عدد السكان و التقدم الاقتصادي و الاجتماعي " في ضوء هذه العبارة السابقة أجب عن الاسئلة التالية:

أ) استنتج المشكلة التي تحدثت عنها العبارة.

ب) ما سبب هذه المشكلة؟

ج) اقترح حل لهذه المشكلة.



٨- انظر إلى الصورة المقابلة ثم أجب عن الأسئلة التي تليها:

أ) سم المشكلة الواضحة بالصورة.

ب) اذكر نتيجتين لهذه المشكلة.

ج) اقترح حلولاً لهذه المشكلة.

٩- اذكر اثنتين من المشكلات المتوقعة من التسارع الكبير من النمو السكاني.

السنة	عدد السكان *
ما قبل الميلاد - ٢١٠ م	٢٥٠ مليون نسمة
١٦٥٠ م	٥٥٠ مليون نسمة
١٨٣٠ م	١ مليار نسمة
١٩٣٠ م	٢ مليار نسمة
١٩٦٠ م	٣ مليار نسمة
١٩٨٧ م	٥ مليار نسمة
١٩٩٩ م	٦ مليار نسمة
٢٠١٣ م	٧ مليار نسمة

١٤- ادرس الجدول التالي الذي يبين مراحل النمو السكاني في العالم ، ثم أجب عن الأسئلة التالية:

أ) احسب الفرق في عدد السكان ما بين عامي (١٩٨٧ و ٢٠١٣ م).

.....

ب) يتميز النمو السكاني في العالم حسب ما يوضحه الجدول:

() بالتسارع

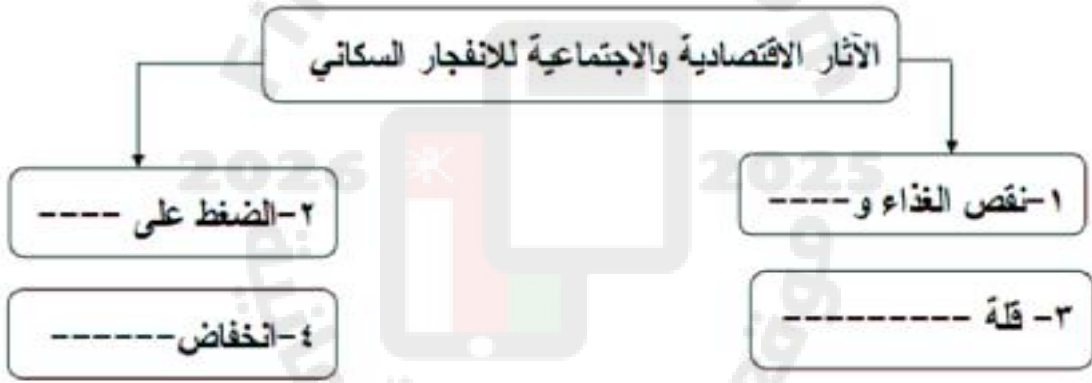
() بالبطء (اختر)

فسر إجابتك

ج) استنتج اثنين من المشكلات المتوقعة أن يصادفها سكان العالم عام ٢٠١٣ م

.....

١٥- ادرس الشكل التالي ، ثم أكمل الفراغات المطلوبة:



١٦- ظهرت المجاعات في العديد من الدول الأفريقية مما أدى لموت العديد من البشر يومياً ، فسر حدوث هذه الظاهرة.

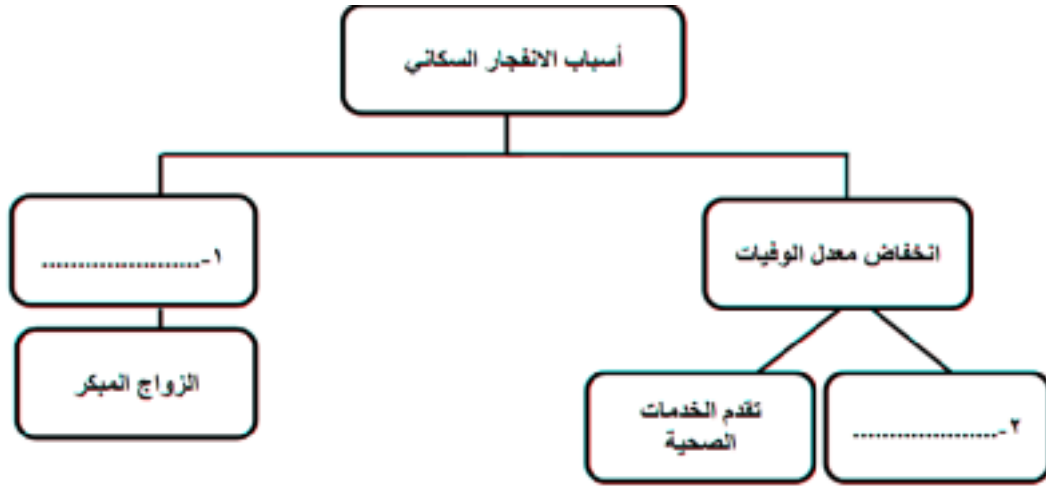
.....

١٧- من المشكلات الاقتصادية والاجتماعية التي تعاني منها بعض الدول انخفاض المستوى المعيشي للأفراد ، في ضوء العبارة السابقة أجب عن الأسئلة التالية :

أ) عدد اثنين من الأسباب المؤدية لحدوث هذه الظاهرة؟.....

ب) اعط أمثلة على بعض الدول التي تظهر فيها هذه المشكلة.

.....



١٩- اعط نتيجة واحدة لكل من:

أ) الضغط على الخدمات.

.....

ب) الضغط على مصادر الطاقة.

.....

٢٠- ادرس الشكل البياني الذي يمثل نسبة الباحثين عن عمل في دولتي الأرجنتين والولايات المتحدة الأمريكية ثم أجب عن الأسئلة التالية :



أ) أي الدولتين تمثل أعلى نسبة للباحثين عن عمل ؟

.....

ب) استنتج سبباً واحداً لارتفاع نسبة الباحثين عن عمل في هذه الدولة.

.....

٢١- علل / زيادة الحاجة إلى الطاقة مع مرور الأيام .

.....

أولاً / الأسئلة الاختيارية:

١- ب

٢- ب

٣- أ

٤- ج

٥- ب

٦- ب

٧- ج

٨- د

٩- ج

١٠- د

١١- ج

١٢- د

١٣- ج

١٤- د

١٥- ب

١٦- ب

١٧- ج

١٨- أ

١٩- ج

٢٠- أ

٢١- أ



(١)

- أ- الانفجار السكاني هو الزيادات الكبيرة في أعداد السكان مقارنة مع الموارد المتاحة.
ب - النمو السكاني هو زيادة عدد السكان من سنة لأخرى.

(٢) أ) المدينة أ) بسبب قلة عدد السكان

ب) في حالة سيئة نتيجة زيادة عدد السكان و زيادة أعداد السيارات.

ج) ضعف الخدمات ، الضغط على الخدمات .

د) لا / بسبب زيادة عدد السكان في المدينة ب.

(٣) أ) حجم الباحثين عن عمل = مجموع قوة العمل - مجموع العاملين فعلاً

$$240000 - 200000 = 40000 \text{ نسمة}$$

$$\frac{\text{حجم الباحثين عن عمل}}{\text{إجمالي قوة العمل}} \times 100$$

ب) نسبة الباحثين عن عمل =

$$= 16,6\%$$

(٤) بسبب زيادة أعداد السكان الكبيرة.

(٥) نقص الغذاء و سوء التغذية ، الضغط على الخدمات ، الضغط على مصادر الطاقة ، قلة فرص العمل ، انخفاض المستوى المعيشي.

$$2773479 - 2018074 = 755405 \text{ نسمة}$$

(٧) أ) الضغط على مصادر الطاقة - نقص مصادر الطاقة

ب) زيادة عدد السكان / التقدم الاقتصادي والاجتماعي.

ج) الحصول على بدائل للطاقة الحالية تكون غير مكلفة اقتصاديا و غير قابلة للنفاذ مثل لطاقة الشمسية،

(٨) أ) مشكلة نقص الغذاء.

ب) ظهور مجاعات - موت العديد من البشر - سوء التغذية.

ج) نشر الوعي العالمي بأهمية ترشيد استهلاك الغذاء - تنظيم الانجاب - استصلاح الأراضي الزراعية - نشر التعليم - مساعدة المنظمات للدول الفقيرة.

٩) نقص الغذاء و سوء التغذية - الضغط على الخدمات - الضغط على مصادر الطاقة - قلة فرص العمل - انخفاض المستوى المعيشي (يكتفى بإثنين)

١٠ أ) من خلال حساب الفرق (٢٧٧٣٤٧٩ - ٢٣٤٠٨١٥ = ٤٣٢٦٦٤ نسمة

ب) ٧٧٧,٢ ر.ع

ج) ٧,٥٦ نسمة /كم^٢

١١) المشكلة / زيادة الضغط على محطة انتاج الطاقة الكهربائية.

السبب / زيادة أعداد السكان دون التوسع في محطة انتاج الطاقة الكهربائية.

الحلول / البحث عن مصادر بديلة للطاقة / التوسع في محطة انتاج الطاقة.

١٢- انخفاض الوعي السكاني و الاقتصادي ، انخفاض المستوى المعيشي- انخفاض مستوى الدخل - الزواج المبكر.

١٣- الزيادة السكانية - تباطؤ عمليات التنمية.

١٤- أ) ٢ مليار

ب) بالتسارع / بسبب الزيادة الطبيعية و الهجرة / زيادة المواليد.

ج) الانفجار السكاني - انتشار الفقر - نقص الغذاء- الزيادة في أعداد السكان .

١٥) ١- نقص الغذاء و سوء التغذية ٢- الضغط على الخدمات

٣- قلة فرص العمل ٤- انخفاض المستوى المعيشي

١٦- زيادة عدد السكان و زيادة الاحتياجات البشرية.

١٧- أ) ضعف الاقتصاد ، غياب فرص العمل ، قلة إمكانيات الدول من الموارد.

ب) الهند و بعض الدول الافريقية .

١٨- ١) ارتفاع معدل المواليد.

٢) ارتفاع المستوى المعيشي- انتشار التعليم – توافر الغذاء السليم (يكتفى بواحد).

١٩- أ) حاجة الدول إلى الكثير من الأموال لصيانتها و بالتالي ضعف تقديم الخدمات – سرعة استهلاكها.
ب) تعرضها للاستنزاف.

٢٠- أ) الارجنتين.

ب) زيادة عدد السكان.

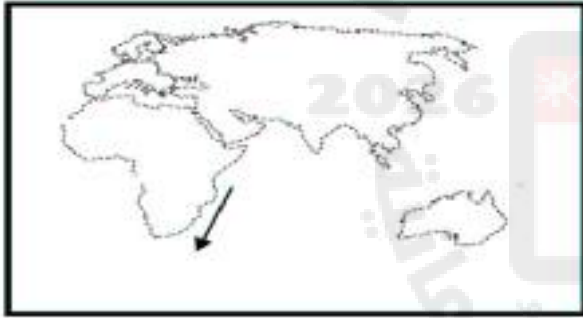
٢١- زيادة عدد السكان – التقدم الاقتصادي والاجتماعي.



الوحدة الخامسة / الدرس الأول (التطور التاريخي و التميز العماني)

أولاً / الأسئلة الاختيارية:

- ١- وقوع السلطنة بين مناطق مناخية متباينة أثر على توجهها الاقتصادي فأصبحت رائدة في :
- (أ) الملاحة البحرية (ب) الزراعة الكثيفة (ج) الصناعة الاستخراجية (د) انتاج النفط
- ٢- احتل الاسطول العماني المرتبة الثانية بعد بريطانيا في عهد السيد:
- (أ) أحمد بن سعيد (ب) سعيد بن تيمور (ج) سلطان بن أحمد (د) سعيد بن سلطان
- ٣- قائد السفينة الحربية سلطنة التي أرسلت إلى ميناء نيويورك عام ١٨٤٠م:
- (أ) سلطان بن سيف (ب) سلطان بن أحمد (ج) أحمد بن النعمان (د) سعيد بن سلطان



- ٤- التيار البحري الدافئ الموضح في الخريطة التي أمامك هو:
- (أ) التيار الاستوائي الجنوبي
(ب) تيار بنجويلا
(ج) تيار موزمبيق
(د) التيار الاستوائي الشرقي



- ٥- قاعدة بحرية للأسطول العماني زمن السيد سعيد بن سلطان والمشار إليها في الخريطة التي أمامك بالرقم (١):
- (أ) هرمز
(ب) ممباسا
(ج) جوادر
(د) لامو

- ٦- مضى على رحلة السفينة سلطنة إلى الولايات المتحدة الأمريكية حتى الان (٢٠٢٤م) :
- (أ) ١٨٢ عاماً (ب) ١٨٤ عاماً (ج) ١٨٦ عاماً (د) ١٨٨ عاماً

٧- الحاكم العماني الذي اعتمد بالكامل على السفن الحديثة التي بنيت في الهند و هولندا:
 أ) سلطان بن سيف ب) سلطان بن أحمد ج) أحمد بن سعيد د) سعيد بن سلطان

٨- الترتيب الصحيح لمناطق انتقال الخبرات البحرية الفينيقية من الأقدم إلى الأحدث هو :

	١	٢	٣
أ- بلاد الشام	عمان	البحرين	
ب- بلاد الشام	البحرين	عمان	
ج- عمان	بلاد الشام	البحرين	
د- عمان	البحرين	بلاد الشام	

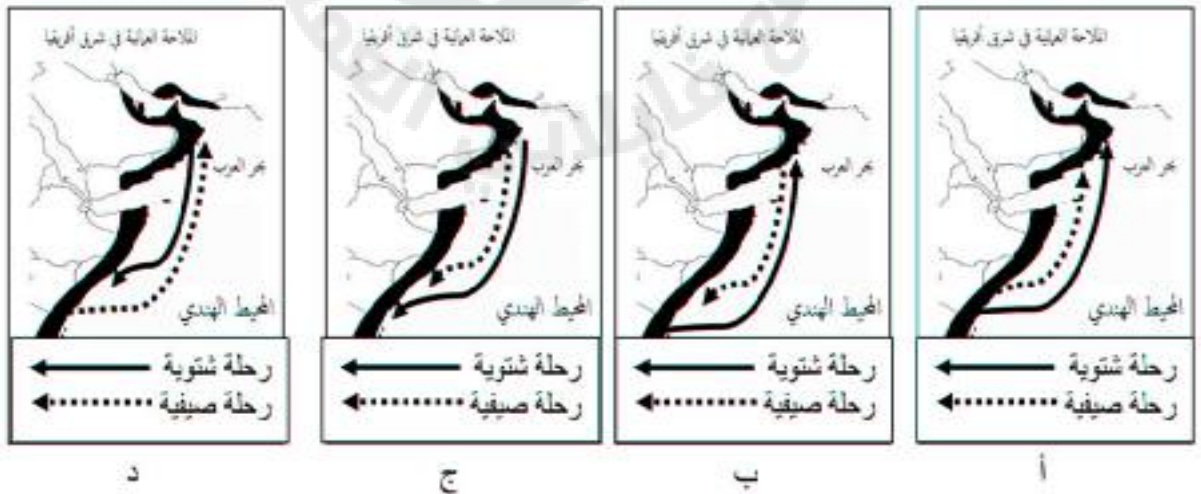
٩- من العوامل الأمنية التي أسهمت في ازدهار عمان في الملاحة و التجارة البحرية قديماً :
 أ) جفاف الأراضي العمانية.

ب) إقامة علاقات حضارية جيدة مع الحضارات و الدول المجاورة.

ج) بعد السواحل العمانية عن الصراعات و الاضطرابات.

د) استيطان الجماعات البشرية للسواحل العمانية منذ القدم.

١٠- الخريطة التي تمثل الرحلات الموسمية بين عمان و شرقي أفريقيا:



١١- مدينة ساحلية كانت عاصمة لعمان قديماً :

أ) صحار ب) مسقط ج) صور د) صلالة

١٢- المسطح المائي الذي تطل عليه السواحل العمانية لمسافات طويلة:

أ) المحيط الهندي ب) الخليج العربي ج) المحيط الهادي د) البحر الأحمر

١٣- تشير المصادر التاريخية القديمة إلى أن العمانيين امتلكوا اسطولاً بحرياً قوياً في نهاية القرن :

أ) الثالث ق.م ب) الرابع ق.م ج) الخامس ق.م د) السادس ق.م

١٤- المصادر التاريخية القديمة التي وصفت أهل عمان برواد الملاحة البحرية:

أ) الرومانية ب) الفرعونية ج) الفارسية د) السومرية

١٥- ورد في كتاباته " أن مجد عمان و شهرتها عن طريق ما كانت تقوم به من نشاط بحري و ملاحي " :

أ) سقراط ب) بطليموس ج) أرسطو د) أفلاطون

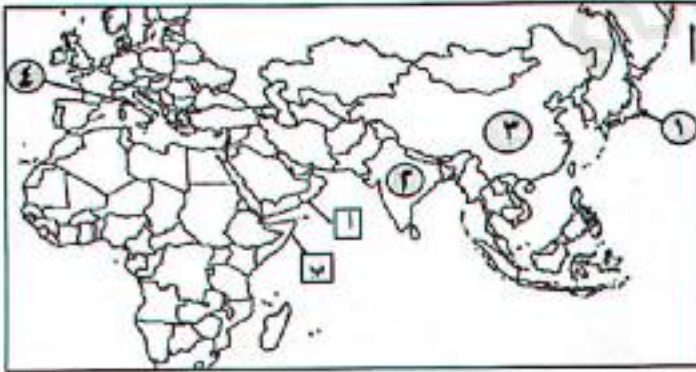
١٦- المرتبة التي احتلها الاسطول العماني في عهد السيد سعيد بن سلطان في المحيط الهندي:

أ) الأولى ب) الثانية ج) الثالثة د) الرابعة

١٧- الميناء الأمريكي الذي أبحرت إليه السفينة العمانية (سلطانة) عام ١٨٤٠م:

أ) كارولينا ب) كاليفورنيا ج) فلوريدا د) نيويورك

١٨- الرقم الذي يشير إلى الدولة التي بني فيها السفن العمانية زمن الامام سلطان بن سيف:



أ) ١ ب) ٢
ج) ٣ د) ٤

١- برأيك كيف أسهمت العوامل الأمنية في تطور الملاحة البحرية في السواحل العمانية .

.....

٢- تمكن الامام سلطان بن سيف بنشاطه البحري المتميز بصنع قلق كبير للإنجليز ، وضح ذلك.

.....

٣- ما العلاقة بين الجفاف السائد في معظم أراضي السلطنة وارتباط العمانيين القدماء وشهرتهم بالملاحة البحرية؟

.....

٤- فسر: ساعدت حركة التيارات البحرية والرياح الموسمية (الشتوية والصيفية) العمانيين على ركوب البحر

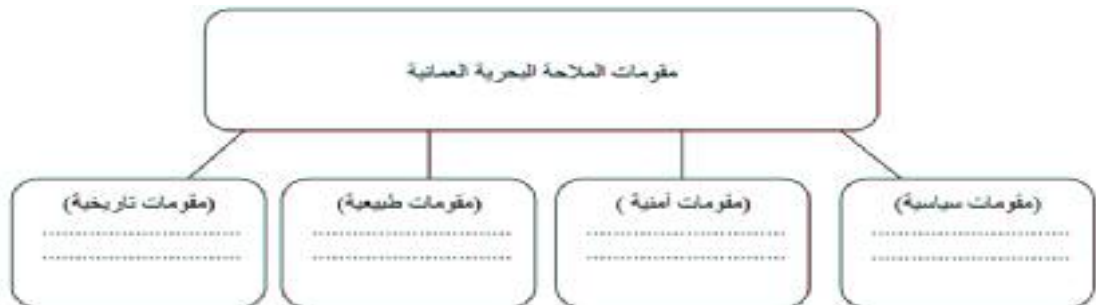
.....

٥- اذكر دليلين على تطور الأسطول العماني في عهد السيد سعيد بن سلطان.

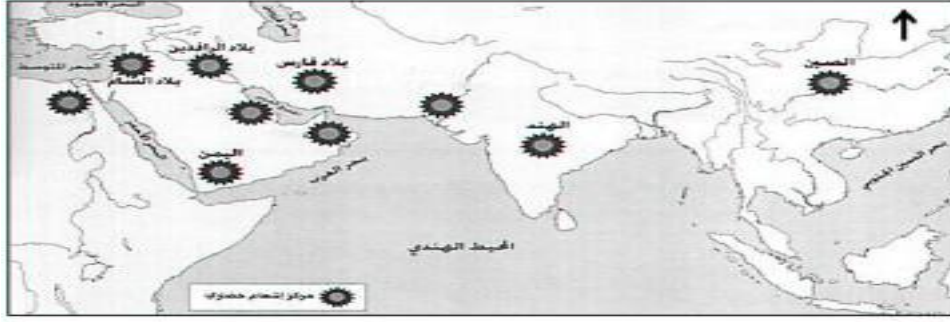
.....

٦- صنف مقومات الملاحة البحرية العمانية في المخطط أدناه:

(تحيط المياه بالسلطنة من ثلاث جهات - البعد عن الصراعات والاضطرابات - الساحل العماني المهد الأول الذي ظهرت فيه الخبرات الفينيقية - العلاقات الحضارية الجيدة مع الحضارات والدول المجاورة)



٧- أمامك خريطة الحضارات القديمة ادرسها جيداً ثم أجب عن الأسئلة التي تليها:

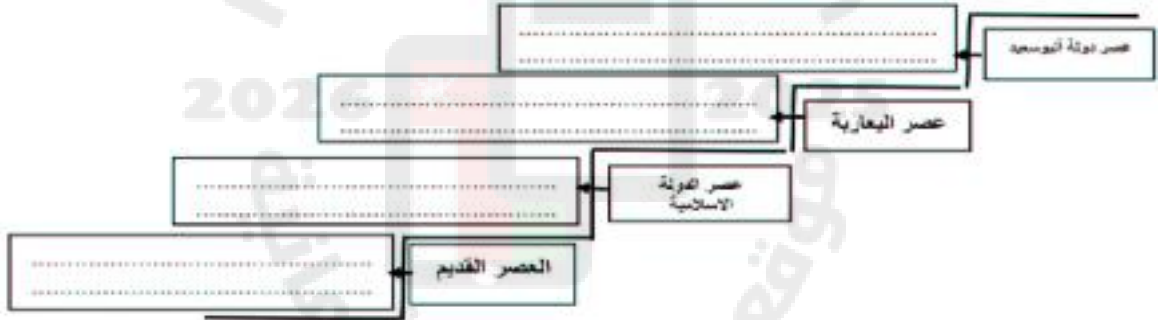


أ) اكتب على الخريطة اسم الحضارتان (مجان - مصر) في موقعها الصحيح.

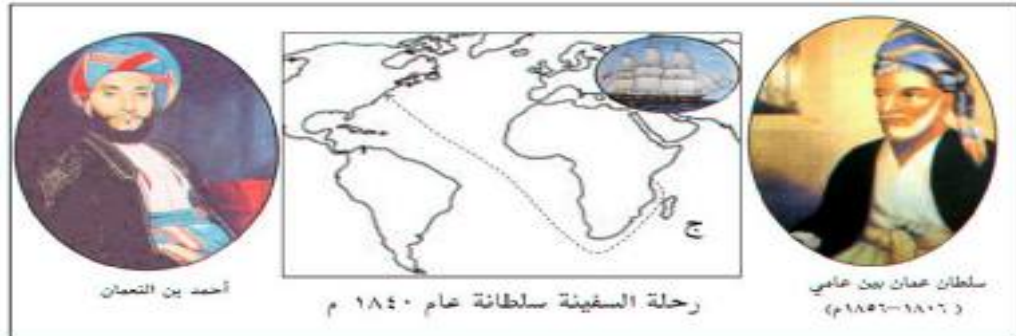
ب) في أي جهة تقع بلاد الرافدين بالنسبة لبلاد فارس.....

٨- أمامك سلم زمني يوضح التطور التاريخي للملاحة العمانية ادرسه جيداً ثم ضع الأحداث الموجودة بين القوسين في المكان المناسب على الشكل:

ازدهار مدن عمان الساحلية وفي طبيعتها صحار - وصف المصادر السومرية أهل عمان برواد الملاحة البحرية - يأتي الاسطول العماني في المرتبة الثانية بعد الاسطول البريطاني في المحيط الهندي - استطاعت القوة البحرية العمانية تعقب البرتغاليين في الخليج العربي و المحيط الهندي



٩- استعن بالشكل في الإجابة عن الأسئلة التالية:



أ) سم السلطان العماني الذي تمت في عهده هذه الرحلة.....

ب) تتبع خط سير رحلة السفينة موضحاً الاتي:

- نقطة الانطلاق (البداية)..... نقطة الوصول (النهاية).....

١٠- ما العلاقة بين الظروف الطبيعية وتوجه العمانيين نحو البحر منذ القدم؟

١١- علل / أصبح البحر والأنشطة المرتبطة به الواجهة الأفضل للعمانيين.

١٢- أكمل البيانات وفق الجدول الآتي:

السبب	النتيجة
سيادة الجفاف معظم أراضي السلطنة
.....	لعب العمانيون دور الوسيط الناقل للسلع و المنتجات والإنجازات الحضارية

١٣- اذكر اثنين لكل من :

أ) العوامل و المقومات الطبيعية التي أدت إلى شهرة العمانيين في الملاحة البحرية.

ب) القواعد البحرية الرئيسة على الساحل الشرقي للخليج العربي في عهد السيد سعيد بن سلطان.

١٤- صنف الشخصيات التاريخية التالية أمام كل عمل في الجدول أدناه:

(أحمد بن النعمان - سلطان بن أحمد - سلطان بن سيف - سعيد بن سلطان)

الشخصية التاريخية	الاعمال
شهدت فترة حكمه نشاطا بحريا عمانيا ألقى الانجليز والهولنديين.	
جعل الاسطول العماني في عهده يأتي في المرتبة الثانية بعد الاسطول البريطاني في المحيط الهندي	
حمل الهدايا للرئيس الأمريكي على متن السفينة الحربية سلطانه	

١٥- اذكر نتيجة واحدة ترتبت على حرص العمانيين منذ القدم على تأمين الملاحة البحرية و حمايتها من القراصنة.

١٦- علل / زيادة نشاط الملاحة البحرية العمانية زمن الامام سلطان بن سيف.

.....

١٧- علل / ازدهار الموانئ العمانية في العصور الإسلامية.

.....

١٨- فسر / حظيت البحرية السلطانية بتقدير المجتمع الدولي.

.....

١٩- انسب الأحداث التالية في الجدول إلى العصر الذي تنتمي إليه:

(عصر اليعاربة – عصر الدولة البوسعيدية – العصر القديم - العصر الإسلامي)

المنجز الملاحي	العصر
ازدهار مدن عمان الساحلية مثل مدينة صحار	
اعداد قوة بحرية لتعقب البرتغاليين في المحيط الهندي	
محاولة ابحار الانسان العماني باستخدام الصاري و الشراع	
امتلاك اسطول تجاري يضم ١٥ سفينة كبيرة	

٢٠- اعط نتيجة واحدة ترتبت على :

أ) قيام العمانيين بنشر الإسلام إبان ازدهار الملاحة الإسلامية في المحيط الهندي من القرن السابع حتى القرن الخامس عشر الميلادي.

.....

٢١- تمثل البحرية السلطانية العمانية امتدادا للملاحة البحرية العمانية . دلل على ذلك.

.....

٢٢- فسر العبارة التالية (تدل المكتشفات الأثرية على النشاطات الملاحية العمانية منذ القدم) .

.....

.....

.....

أولاً / إجابة الأسئلة الاختيارية:

- أ-١
- د-٢
- ج-٣
- ج-٤
- أ-٥
- ب-٦
- أ-٧
- د-٨
- ج-٩
- د-١٠
- أ-١١
- أ-١٢
- أ-١٣
- د-١٤
- ب-١٥
- ب-١٦
- د-١٧
- ب-١٨

ثانياً / إجابة الأسئلة المقالية:

١- كانت السواحل العمانية بعيدة عن الإضرابات والصراعات مما أدى إلى زيادة ثقة المتعاملين والتجار وسهل رحلاتهم البحرية

٢- لأن الامام سلطان بن سيف اعتمد على السفن الحديثة التي بناها في الهند و اشتراها من هولندا و التي حصل عليها بعد طرد البرتغاليين و استدام المدافع الحديثة المتطورة.

٣- يسود الجفاف معظم أراضي السلطنة الامر الذي تعذر معه الاعتماد الكلي على النشاط الزراعي، لذلك أصبح البحر الوجهة الأفضل للعمانيين.

٤- تخدم حركة السفن عند إقلاعها من الموانئ العمانية وعودتها إليها في نهاية الموسم الملاحي.

٥- يأتي في المرتبة الثانية بعد الاسطول البريطاني ، له قواعد رئيسة على الساحل الشرقي في الخليج العربي في موانئ بوشهر و لنجا و بندر عباس و هرمز إضافة إلى موانئ الساحل العماني و الساحل الافريقي (ممباسا - لامو - زنجبار - كلوه - مقديشو)

٦- مقومات سياسية : العلاقات الحضارية الجيدة مع الحضارات و الدول المجاورة.

مقومات أمنية: البعد عن الصراعات و الاضطرابات.

مقومات طبيعية : تحيط المياه بالسلطنة من ثلاث جهات .

مقومات تاريخية: الساحل العماني المهد الأول الذي ظهرت فيه الخبرات الفينيقية.

٧- أ) كتابة اسم مجان - مصر في موقعها الصحيح على الخريطة.

ب) الغرب

٨- (يأتي الاسطول العماني في المرتبة الثانية بعد الاسطول البريطاني في المحيط الهندي) عصر الدولة البوسعيدية.

(استطاعت القوة البحرية العمانية تعقب البرتغاليين في الخليج العربي و المحيط الهندي) عصر اليعاربة.

(ازدهار مدن عمان الساحلية و في طليعتها صحار) عصر الدولة الإسلامية

(وصف المصادر السومرية أهل عمان برواد الملاحة البحرية) العصر القديم.

٩- أ) السيد سعيد بن سلطان

ب) البداية : زنجبار / شرقي أفريقيا

النهاية : نيويورك / الولايات المتحدة الامريكية.

١٠- العلاقة بين الظروف الطبيعية وتوجه العمانيين نحو البحر هي أنها من وجه العمانيين نحو البحر بسبب جفاف أراضي السلطنة ، احاطة المياه بالسلطنة من ثلاث جهات ، وقوع السلطنة بين مناطق متباينة مناخياً ، صلاحية الساحل العماني لإقامة الموانئ ، التيارات البحرية و الرياح الموسمية (يكتفى بواحد)

١١- بسبب احاطة المياه بالسلطنة من ثلاث جهات و الرمال من الجهة الرابعة.

١٢- (١) تعذر الاعتماد الكلي على النشاط الزراعي

(٢) وقوع السلطنة بين مناطق متباينة مناخياً و ذات انتاج حضاري مختلف.

١٣- (أ) - سيادة الجفاف معظم أراضي السلطنة - احاطة المياه بالسلطنة من ثلاث جهات - وقوع السلطنة بين منطقتين متباينتين مناخياً- صلاحية الساحل العماني لإقامة الموانئ - حركة التيارات البحرية و الرياح الموسمية.
(ب) بوشهر - لنجا - بندر عباس - هرمز .

١٤- سلطان بن سيف

سعيد بن سلطان

أحمد بن النعمان

١٥- زيادة ثقة المتعاملين و التجار من مختلف الدول و سهل من رحلاتهم الملاحية مما أسهم في زيادة موارد الدولة.

١٦- بسبب اعتماده على السفن الحديثة / الإفادة من السفن التي وقت بأيديهم بعد طرد البرتغاليين / استخدام المدافع المتطورة.

١٧- لأنها من الموانئ المهمة للتجارة بين الشرق و الغرب و ذات بعد عالمي و في طبيعتها مدينة صحار.
و قد كان العمانيون يقومون بنشر الإسلام في أماكن بعيدة مثل الهند و الصين و أفريقيا.

١٨- تمتلك اسطولاً من السفن - يتوفر لها عدد من القواعد - حماية المصالح الوطنية و الاستراتيجية و سلامة الملاحة في مضيق هرمز.

المنجز الملاحي	العصر
ازدهار مدن عمان الساحلية مثل مدينة صحار	الاسلامي
اعداد قوة بحرية لتعقب البرتغاليين في المحيط الهندي	اليعارية
محاولة ابحار الانسان العماني باستخدام الصاري و الشراع	القديم
امتلاك اسطول تجاري يضم ١٥ سفينة كبيرة	الدولة البوسعيدية

٢٠-ازدهرت مدن عمان الساحلية / أصبحت مدن عمان الساحلية من الموانئ المهمة للتجارة بين الشرق والغرب و ذات بعد عالمي و في طليعتها مدينة صحار/ نشر الرسالة الإسلامية في أماكن بعيدة في أفريقيا والهند والصين.

٢١-تمتلك أسطولاً من السفن الحديثة ، تضم مجموعة من الفرقاطات و الزوارق و سفن المدفعية و الاسناد و المسح البري للشواطئ.

٢٢- أشارت الدراسات التاريخية والاثنية إلى أن كل الجماعات البشرية التي سكنت السواحل العمانية اضطرت لاستغلال إمكانات سواحلها الغنية مقارنة بإمكاناتها البرية.



الوحدة الخامسة / الدرس الثاني (شبكة الطرق و الموانئ و السلع)

أولاً / الأسئلة الاختيارية:

١- عند ابجارك من ميناء دبا شمالاً و حتى ميناء مرباط جنوباً فإن الموانئ التي تمر بها تباعاً هي كالآتي:

- (أ) مسقط - صحار - قريات - صور
(ب) صحار - مسقط - صور - قريات
(ج) مسقط - قريات - صور - صحار
(د) صحار - مسقط - قريات - صور

٢- ميناء الجنوب العماني الذي ارتبط بتجارة الذهب و اللبان و البخور منذ القدم:

- (أ) مسقط (ب) ظفار (ج) صور (د) صحار

٣- من أشهر الموانئ و المحطات التجارية و مثل عقدة المواصلات البحرية بالعصور القديمة و الإسلامية:

- (أ) مسقط (ب) ظفار (ج) صور (د) صحار

٤- جميع السلع التالية من المنتجات الزراعية التي حملتها السفن العمانية عدا :

- (أ) العنبر (ب) القرنفل (ج) العود (د) الساج

٥- الخريطة التي توضح الترتيب الصحيح لمواقع موانئ الساحل الأفريقي الشرقي من بين الخرائط التي أمامك:



ب-



أ-



د-



ج-

٦- الجدول الذي يمثل المواقع الصحيحة للموانئ:

الميناء	الموقع
ديو	الساحل الأفريقي الشرقي
سيراف	الساحل الهندي
ماليندي	ساحل الخليج العربي

أ

الميناء	الموقع
ديو	الساحل الهندي
سيراف	الساحل الأفريقي الشرقي
ماليندي	ساحل الخليج العربي

ب

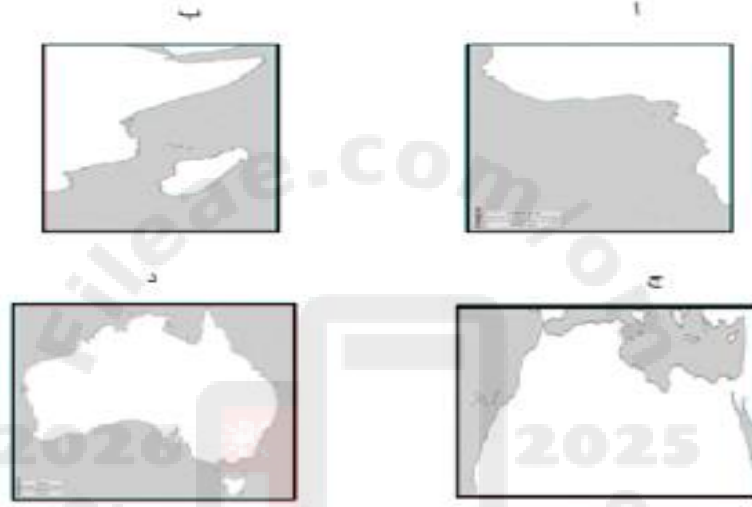
الميناء	الموقع
ديو	الساحل الهندي
سيراف	الساحل الأفريقي الشرقي
ماليندي	ساحل الخليج العربي

ج

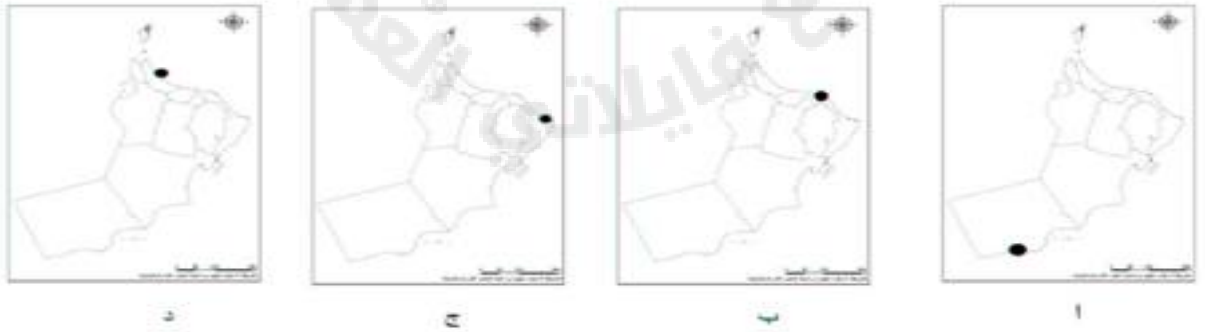
الميناء	الموقع
ديو	الساحل الهندي
سيراف	الساحل الأفريقي الشرقي
ماليندي	ساحل الخليج العربي

د

٧- الرمز الذي يشير إلى الساحل الأفريقي الشرقي هو:



٨- الخريطة الصحيحة لموقع المدينة العمانية التي وصفها الرحالة الجغرافيون بقصبة عمان:



٩- ساحل هندي مواجه لساحل عمان الشرقي اشتهر بتصدير نباتات و محاصيل الهند و الثياب المطرزة:

أ) الديبل ب) ديو ج) جوادر د) كجرات

١٠- من موانئ الخليج العربي يعتبر منفذاً للعراق:

أ) هرمز ب) البصرة ج) سيراف د) كاظمة

١١- يعد أهم موانئ السند كان منفذاً لسلع الدكن و محطة مهمة لاستيراد الخيول العربية و تصدير سلع السند:

أ) جواردر ب) كجرات ج) ديو د) الديبل

١٢- أصبحت مركزاً لعمليات التعدين و صهر النحاس و أصبحت خزانة تجارة المحيط الهندي و الخليج و عمان:

أ) صحار ب) مسقط ج) زنجبار د) صور

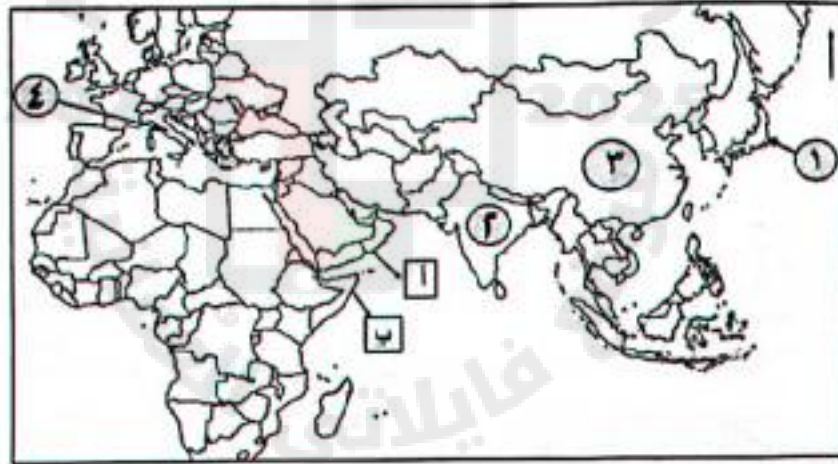
١٣- جميع ما يلي من موانئ البحر الأحمر ما عدا:

أ) سواكن ب) ينبع ج) جدة د) الديبل

١٤- الميناء العماني المشهور بتصدير النحاس:

أ) مسقط ب) صحار ج) صور د) خصب

١٥- الشكل الصحيح لصادرات الموانئ المشار إليها بالرموز (أ، ب) :



أ	الجلود والتبائن
ب	الحرير والعاج
أ	التوابل والعاج
ب	المتسوجات
أ	التبائن والبخور
ب	الجلود والعاج
أ	المتسوجات
ب	الخيول

د

ج

ب

أ

١٦- الميناء الذي كان محطة لاستيراد السلعة الظاهرة في الصورة :



- أ) الديبل
ب) كجرات
ج) ديو
د) ماليندي

١٧- ميناء على الساحل الشرقي لأفريقيا اتخذ منه السيد سعيد بن سلطان مركزاً لحكمه عام ١٨٣٢م:

- أ) ماليندي
ب) ممباسا
ج) زنجبار
د) كلوه

ثانياً / الأسئلة المقالية:

١- وزع في الجدول أدناه الموانئ التالية:

(ماليندي - سيراف - الديبل - ممباسا)

موانئ الساحل الهندي	موانئ الخليج العربي	موانئ الساحل الأفريقي
- جوادر
-	- البصرة

٢- ادرس الخريطة المقابلة ثم أجب عن الأسئلة التالية:



أ) الرقم الصحيح الذي يشير إلى الميناء الذي كان مملكة بحرية في نهاية العصر العباسي .

ب) اسم الميناء المشار إليه بالرقم ١ هو.....

ج) اسم الميناء المشار إليه بالرقم (٤).....

د) حدد على الخريطة المسطحات المائية التالية

- بحر العرب - البحر الأحمر

٣- أمامك خريطة الموانئ في الخليج العربي و البحر الأحمر ادرسها جيداً ثم أجب عن الأسئلة التالية:



- أ) الميناء الذي يعتبر منفذاً للعراق و كان له الدور المهم في التجارة.....
- ب) مملكة بحرية ازدهرت مع نهاية العصر العباسي و بداية العصور الحديثة هي
- ج) الميناء الذي يعد محطة تجارية للتزود بالمياه و راحة المسافرين.....
- د) اكتب على الخريطة الموانئ التالية ميناء جدة – ميناء سواكن

٤- أمامك خريطة لسلطنة عمان ، ادرسها جيداً ثم أجب عن الأسئلة التي تليها:



- أ) وقع على الخريطة المدينة التي أطلق عليها الرحالة " قصبة عمان "
- ب) اسم المدينة المشار إليها بالرقم (١) في الخريطة.

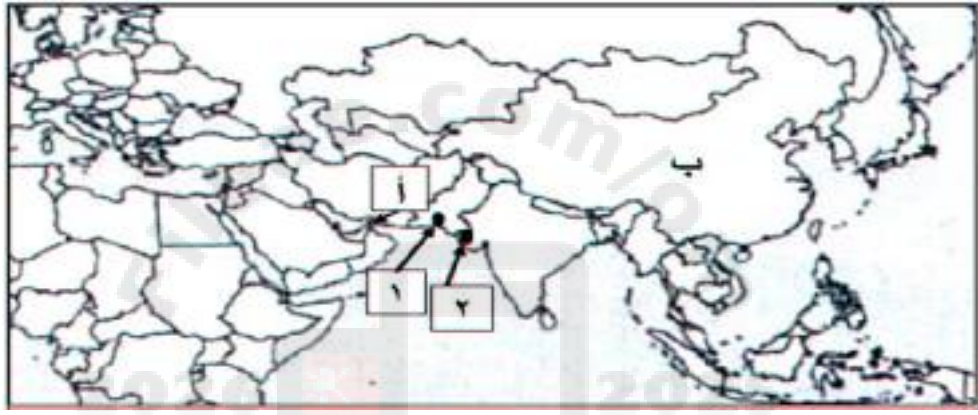
٥- اذكر اسم المسطح المائي الذي تشرف عليه الموانئ الموضحة بالخريطة المجاورة.



٦- قارن بين ميناء ديو و ميناء ماليندي و ميناء خانفو من حيث موقع الميناء و الأهمية البحرية.

اسم الميناء	موقع الميناء	الأهمية البحرية
ميناء ديو		
ميناء ماليندي	الساحل الإفريقي الشرقي	
ميناء خانفو		يصدر منه الحرير والأقمشة الفاخرة والمرجان والصناعات الدقيقة .

٧- تمعن جيداً في الخريطة التي أمامك ثم أجب عن الأسئلة التالية:



أ) ضع في الجدول التالي أمام السلعة رقم الميناء المرتبط بها والمشار إليها بالأرقام ١ و ٢ في الخريطة.

السلعة	رقم الميناء
التوابل	
الخيول	

٨- اعط دليلاً واحداً على صحة العبارة التالية:

أ) كان للتجار العمانيين دوراً في نشر اللغة العربية بمناطق المحيط الهندي.

.....

٩- ما النتيجة المترتبة على تنوع وتعدد ثروات المحيط الهندي؟

.....

١٠- عدد اثنين من الموانئ الواقعة على الساحل الشرقي للبحر الأحمر.

.....



١١- ادرس الخريطة الموضحة أمامك جيداً ثم أجب عن الأسئلة التالية:

أ) ضع دائرة في الخريطة حول الميناء الذي يعد أهم مراكز تجارة المحيط الهندي زمن الدولة البوسعيدية.

ب) اشتهر ميناء مدغشقر على الساحل الشرقي الأفريقي بتجارة مجموعة من السلع " اذكر اثنين منها.

.....

.....

١٢- بم تفسر تحكم موانئ الساحل العماني بشبكة الطرق الملاحية لفترات طويلة عبر التاريخ.

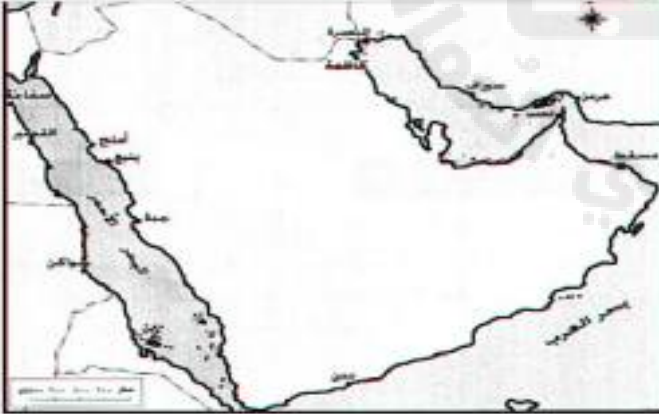
.....

١٣- بم تفسر وجود مصطلحات عربية في اللغتين السواحيلية والأوروبية ودخول مفردات عربية عديدة إلى لغات شعوب المحيط الهندي.

.....

١٤- ادرس الخريطة التي أمامك ثم أكمل:

- يقع ميناء سفاجة في دولة
- استخرج من الخريطة ميناء يقع في جمهورية السودان.
- حدد على الخريطة موقع الخليج العربي.
- وقع على الخريطة ميناء جوادر الذي كان محطة للسفن و التجار بين الخليج العربي و ساحل المليبار وكجرات.
- ضع دائرة حول الميناء الذي كان محطة تجارية للتزود بالمياه وراحة المسافرين



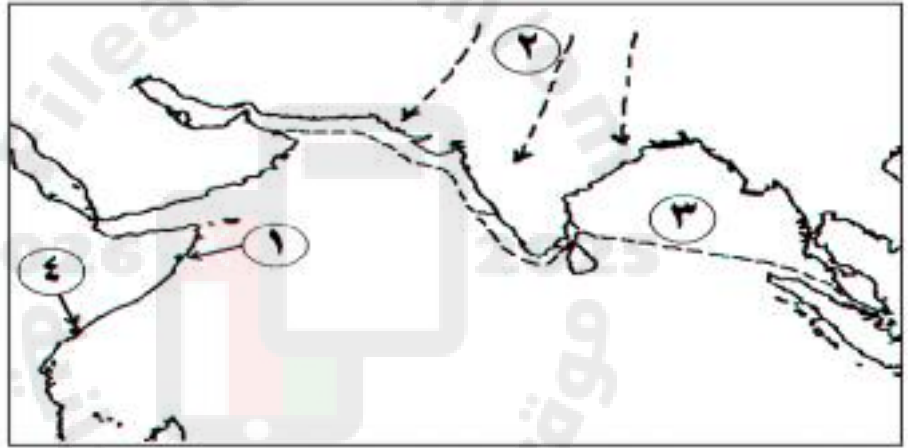
١٥- تمعن جيداً في الخريطة التي أمامك ثم أجب عن الأسئلة التالية:



أ) ارسم سهماً لمسار الرياح الصيفية التي ساعدت البحارة العمانيين في العودة من أفريقيا.

ب) ما الوصف الذي وصف به الرحالة و الجغرافيون القدماء الميناء المشار إليه بالرقم (٤)؟.....

١٦- ادرس الخريطة التي أمامك جيداً ثم أجب عن الأسئلة التالية:



أ) ما الرقم الذي يشير إلى ميناء اشتهر بتجارة المنسوجات و الذهب و العاج و ظل من أجمل موانئ شرقي أفريقيا في العصور الحديثة؟.....

ب) في أي فصل تهب الرياح الموسمية المشار إليها بالرقم (٢)؟.....

١٧- من وجهة نظرك لماذا وصف الرحالة و الجغرافيين صحار بأنها أعمر مكان في دار الإسلام.

.....

١٨- عدد اثنين من المنتجات الزراعية التي حملتها السفن التجارية العمانية إلى موانئ المحيط الهندي.

.....

١٩- أكمل بيانات الجدول التالي من خلال المعلومات الواردة في الشكل المقابل :



الميناء	الساحل
صور
.....	الساحل الهندي
.....	الساحل الأفريقي الشرقي
سيراف



نموذج الإجابة

أولاً / إجابة الأسئلة الاختيارية:

- د-١
- ب-٢
- ج-٣
- أ-٤
- ب-٥
- أ-٦
- ب-٧
- د-٨
- د-٩
- ب-١٠
- د-١١
- أ-١٢
- د-١٣
- ب-١٤
- ب-١٥
- أ-١٦
- ج-١٧

ثانياً / إجابة الأسئلة المقالية:

١-

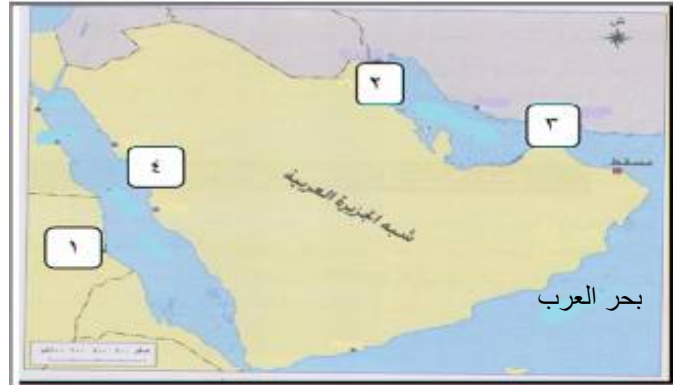
موانئ الساحل الهندي	موانئ الخليج العربي	موانئ الساحل الأفريقي
- جواهر	- سيراف	- ماليندي
- الديبل	- البصرة	- ممباسه

٢- أ) ٣

ب) سواكن

ج) ينبع

د)



٣- أ) البصرة

ب) هرمز

ج) مسقط

د)



٤- أ)

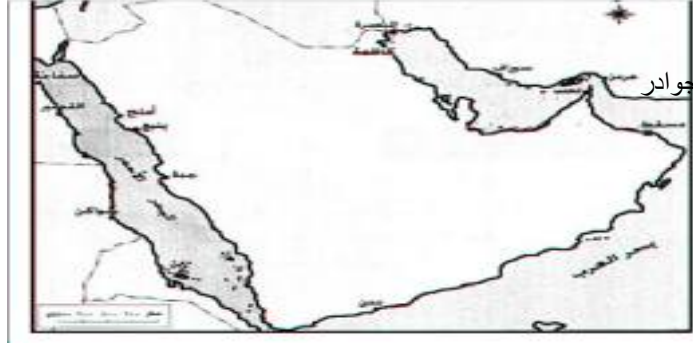


ب) مسقط

١٣- دليل على دور العمانيين في نشر اللغة العربية و تأثيرهم الحضاري على البر الافريقي و البر الهندي.

١٤- (مصر

- سواكن



١٥- (أ



(ب) أعمار مكان في دار الإسلام وقصبة عمان.

١٦- (أ) ٤

(ب) الشتاء

١٧- بسبب تنوع تجارة أهل صحار و تراثهم / أصبحت صحار مقراً للعديد من الأثرياء / أصبحت مركزاً للتعددين / أصبحت خزانة تجارة المحيط و الخليج و عمان.

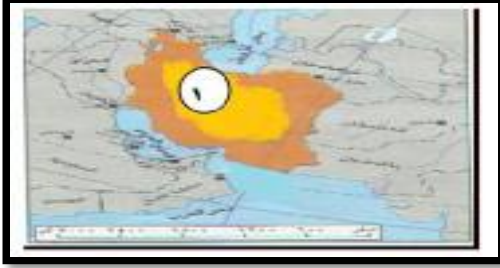
١٨- الأرز - قصب السكر - القطن - الفواكة - التوابل - النباتات الطبية - القرنفل - العود - خشب الساج.

الساحل	الميناء
ساحل عمان	صور
الساحل الهندي	الديبل
الساحل الأفريقي الشرقي	ماليندي
الخليج العربي	سيراف



الوحدة السادسة / الدرس الأول (الجمهورية الإسلامية الإيرانية)

أولاً / الأسئلة الاختيارية



١- الدولة المشار إليها بالرقم (١) هي:

- أ) الهند
ب) إيران
ج) الصين
د) اليابان

٢- ثاني أكبر الدول المنتجة للبترو في منظمة أوبك:

- أ) السعودية
ب) الهند
ج) إيران
د) الصين

٣- أطلق العرب اسم بلاد العجم على:

- أ) اليونان
ب) إيران
ج) ماليزيا
د) تركيا

٤- تولى محمد رضا بهلوي السلطة في إيران في العام الميلادي:

- أ) ١٩٤١
ب) ١٩٤٣
ج) ١٩٤٥
د) ١٩٤٧

٥- نوع الحكم في الدولة المشار إليها بالرقم (١):

- أ) ديموقراطي
ب) ملكي
ج) سلطاني
د) جمهوري



٦- الدولة التي تعبر عنها البطاقة التعريفية في الشكل المقابل :



- أ) الصين
ب) اليابان
ج) إيران
د) الهند

٧- تأثر الفرس بحضارات الشعوب التي عاصرتهم فاقتبسوا فن العمارة من :

- أ) السومريون
ب) اليونانيون
ج) المصريون
د) الفينيقيون

ثانياً / الأسئلة المقالية:

١- دلل باثنيين على تأثر الفرس بحضارات الشعوب التي عاصرتها.

.....

.....

.....

٢- علل / قيام مظاهرات ضد محمد رضا بهلوي في إيران عام ١٩٧٨ م.

.....

.....

٣- ادرس الخريطة أدناه جيداً ثم قم بالإجابة على الأسئلة التي تليها:



أ) اسم الدولة المشار إليها بالرمز ✨

.....

ب) صنف موارد هذه الدولة إلى موارد طبيعية وموارد بشرية من خلال الجدول أدناه:

المورد	نوع المورد
تمتلك ثاني اكبر احتياطي غاز في العالم	
يشكل الشباب نصف سكانها البالغ ٧٥ مليون نسمة	

٤- دلل باثنيين على اهتمام الفرس بالزراعة.

.....

.....

٥- اقرأ الفقرة التالية ثم أجب عن الأسئلة التي تليها:

كان نظام الحكم في بلاد فارس زمن الساسانيين ملكياً وراثياً، حيث استحوذ الملك على كل السلطات فكان هو الزعيم الساسي والروحي، وكان كبار الموظفين والوزراء يسجدون أمامه تعظيماً له، وفي وقتنا المعاصر تطورت إيران وأصبحت قوة اقتصادية لها علاقات تجارية مع دول العالم ومنها سلطنة عمان.

أ) دلل على حرص البلاط الساساني على اظهار العظمة والابهة للملك.

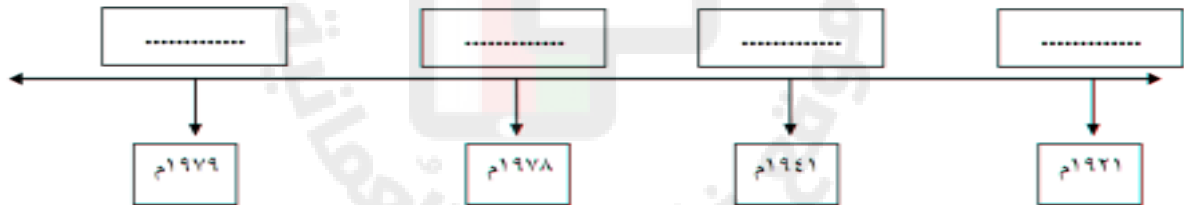
ب) اذكر اثنين لكل من :

- اتفاقيات التعاون بين ايران و سلطنة عمان.

- الصناعات التي ازدهرت في بلاد فارس.

٦- أكمل المخطط الزمني (إيران عبر التاريخ) مستعيناً بالأحداث التالية:

(وصل رضا شاه بهلوي إلى السلطة في إيران - قيام الجمهورية الإسلامية الإيرانية - قيام المظاهرات ضد محمد رضا شاه بهلوي - تولي السلطة الشاه محمد رضا شاه بهلوي)

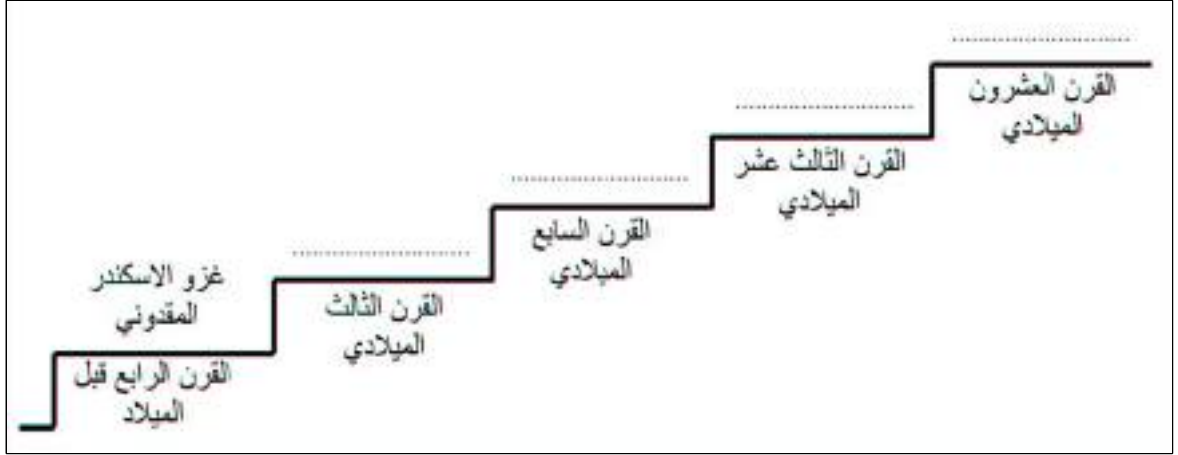


٧- أكمل الجدول التالي الذي يوضح تأثير الفرس بحضارات الشعوب التي عاصرتهم:

المجال	الشعوب و الحضارات
	بلاد الرافدين
العمارة	
	اليونانيين
بناء السفن	

٨- أكمل بيانات السلم الزمني بالأحداث التاريخية للجمهورية الإسلامية الإيرانية:

(الغزو المغولي - قيام الدولة الساسانية - قيام الجمهورية الإسلامية الإيرانية - دخول معظم سكانها الإسلام)



٩- بين المقصود بالشخصية التالية:

- زعيم إيراني استطاع توحيد القبائل الفارسية عام ٥٤٩ ق. م (.....)

١٠- فيما يلي أحداث بارزة في تاريخ إيران، رتبها وفق التسلسل التاريخي من الأقدم إلى الأحدث:

() تعرضت إيران لغزو الاسكندر المقدوني.

() أصبحت إيران جزءاً من الدولة العربية الإسلامية.

() تعرضت إيران لغزو المغول.

() قيام الدولة الساسانية.

١١- رتب الأحداث التاريخية لإيران من الأقدم إلى الأحدث:

تعرض إيران لغزو المغول الذين دمروا قصبا كبيرا من مراكزها الحضارية.	
إعلان قيام الجمهورية الإسلامية الإيرانية.	
استطاع كورش توحيد القبائل الفارسية وتأسيس إمبراطورية واسعة النفوذ.	
تولي الشاه محمد رضا بهلوي السلطة.	

١٢- دلل بمثالين على اهتمام الفرس بتنظيم دولتهم.

١٣- ادرس الخريطة التي أمامك ثم أكمل البطاقة التعريفية لهذه الدولة:



1- اسم هذه الدولة المشار إليها بالرقم (1)

2- اللغة الرسمية لها

3- العاصمة

4- العملة



أولاً/ الأسئلة الاختيارية:

- ١- ب
- ٢- ج
- ٣- ب
- ٤- أ
- ٥- د
- ٦- ج
- ٧- ج

ثانياً/ الأسئلة المقالية:

١- أخذوا الكتابة عن بلاد الرافدين – العمارة عن المصريين – النقود عن اليونانيين – بناء السفن عن الفينيقيين.

٢- بسبب توسعه في ادخال الحضارة الغربية .

٣- أ) الجمهورية الإسلامية الإيرانية.

ب) – طبيعية

- بشرية

٤- أقاموا مشاريع الري- جلبوا المياه من الجبال – بنوا الخزانات والسدود .

٥- أ) كان لا يسمح للناس العاديين من الرعية بالمثل بين يديه إلا من وراء حجاب وكان كبار الموظفين و الوزراء يسجدون أمامه تعظيماً له.

ب) –اتفاقية التشجيع و الحماية المتبادلة للاستثمارات – اتفاقية التعاون العلمي و الفني و البحثي – الاتفاقية التجارية.

- صناعة الأسلحة و الاقمشة الحريرية و الصوفية و السجاد و المعادن و الاواني الفخارية و السفن .

٦- وصل رضا شاه بهلوي إلى السلطة - تولى السلطة محمد رضا بهلوي - قيام المظاهرات ضد محمد رضا بهلوي- قيام الجمهورية الإسلامية الإيرانية.

-٧

المجال	الشعوب و الحضارات
الكتابة	بلاد الرافدين
العمارة	المصريين
النقود	اليونانيين
بناء السفن	الفينيقيين

-٨



٩- كورش

١ - ١٠

٤

٣

٢

٢ - ١١

٤

١

٣

١٢- بنوا المدن / اتخذوا عملة رسمية / أنشأوا البريد / مدوا شبكة واسعة من الطرق / أخذوا الكتابة عن بلاد الرافدين / اقتبسوا فن العمارة عن مصر / تعلموا بناء السفن من الفينيقيين.

١٣- ١- إيران

٢- الفارسية

٣- طهران

٤- الريال



الوحدة السادسة / (الصين)

أولاً / الأسئلة الاختيارية



١- الهدف من إقامة نصب تذكاري للسفينة في الصورة المقابلة عام ١٩٨١م هو تقوية العلاقات:

- (أ) العمانية اليابانية
(ب) العمانية الصينية
(ج) العمانية الهندية
(د) العمانية الإيرانية

٢- الدولة التي تقع شمال شرق الهند واشتهرت قديماً بصناعة الحرير:

- (أ) تايلاند (ب) كمبوديا (ج) فيتنام (د) الصين



٣- السفينة التي أمامك أقيم لها نصب تذكاري في مدينة قوانتشو الصينية:

- (أ) شباب عمان
(ب) فلك السلامة
(ج) الرحماني
(د) صحار

٤- الترتيب الصحيح لأحداث شهدتها الصين خلال الفترة (١٩٣١م - ١٩٤٩م) من الأقدم إلى الأحدث:

١	تولى الحزب الشيوعي الحكم في الصين
٢	دخول الصين في الحرب الأهلية
٣	هجوم اليابان على منشوريا شمالي الصين

ب-

١	هجوم اليابان على منشوريا شمالي الصين
٢	تولى الحزب الشيوعي الحكم في الصين
٣	دخول الصين في الحرب الأهلية

أ-

١	دخول الصين في الحرب الأهلية
٢	تولى الحزب الشيوعي الحكم في الصين
٣	هجوم اليابان على منشوريا شمالي الصين

د-

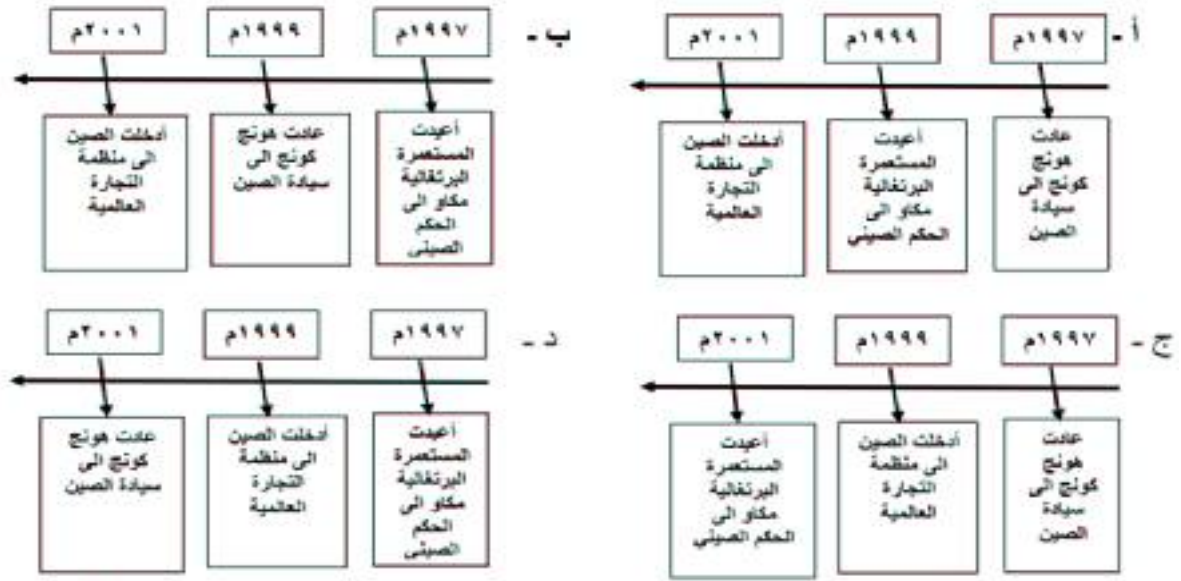
١	هجوم اليابان على منشوريا شمالي الصين
٢	دخول الصين في الحرب الأهلية
٣	تولى الحزب الشيوعي الحكم في الصين

ج-

٥- طرقي الصراع في حرب الأفيون التي بدأت عام ١٨٣٩م هما:

- (أ) ألمانيا وبريطانيا (ب) الصين والبرتغال (ج) ألمانيا والبرتغال (د) الصين وبريطانيا.

٦- المسطرة الزمنية التي تمثل الترتيب الصحيح للأحداث البارزة في تاريخ الصين :



٧- العام الميلادي الذي زارت فيه السفينة صحار مدينة قوانتشو الصينية:

- أ) ١٩٨٠ م ب) ١٩٨١ م ج) ١٩٨٢ م د) ١٩٨٣ م

٨- الدولة التي ينتمي إليها المفكر والحكيم كونفوشيوس:

- أ) إيران ب) الهند ج) اليونان د) الصين

٩- العام الميلادي الذي أعيدت فيه المستعمرة البرتغالية " مكاو " إلى الحكم الصيني :

- أ) ١٩٩٧ م ب) ١٩٩٩ م ج) ٢٠٠١ م د) ٢٠٠٣ م

١٠- اعتمد الصينيون القدماء في حياتهم على الزراعة على أطراف نهر :

- أ) الأصفر ب) يانج تسي ج) سيحون د) جيحون

١١- جميع ما يلي من إنجازات الحضارة الصينية ما عدا:

- أ) البوصلة ب) الطباعة ج) الورق د) الحرير

١٢- الجهة التي تقع فيها الهضبة الموضحة في الشكل المقابل في الصين:



- أ) الجنوب الغربي
- ب) الجنوب الشرقي
- ج) الشمال الغربي
- د) الشمال الشرقي

١٣- عادت هونغ كونج إلى السيادة الصينية بعد انتهاء عقد الإيجار مع بريطانيا في العام الميلادي:

- أ) ١٩٩٥
- ب) ١٩٩٦
- ج) ١٩٩٧
- د) ١٩٩٨

١٤- المقاطعة التي استردتها الصين من بريطانيا عام ١٩٩٧ م:

- أ) مكاو
- ب) تايوان
- ج) هونغ كونج
- د) منشوريا



١٥- الحضارة التي ينسب إليها اختراع الأداة الظاهرة في الصورة المقابلة :

- أ) الفارسية
- ب) اليابانية
- ج) الصينية
- د) الهندية

١٦- المجال العلمي الذي دخلت فيه الصين عام ٢٠٠٣ م :




د



ج

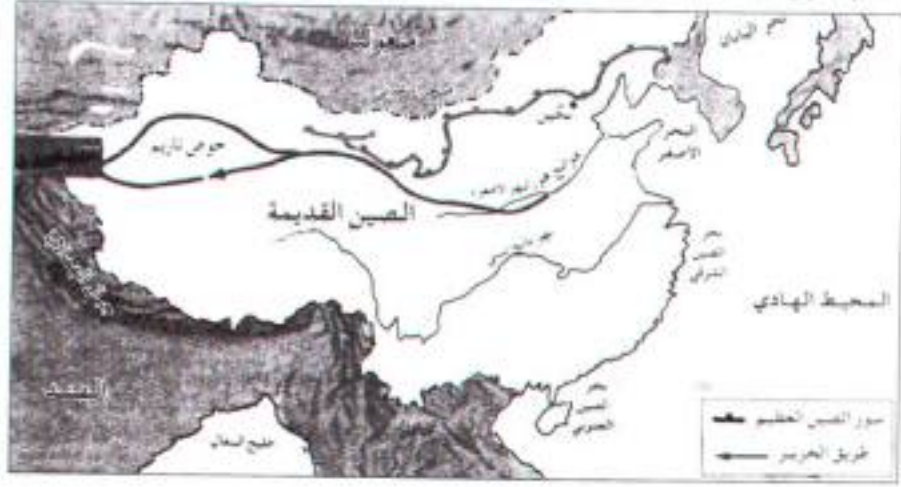


ب



أ

١- ادرس خريطة الصين القديمة جيداً ثم أجب عن الأسئلة التي تليها:



أ) ما اسم الدولة التي تحد الصين من جهة الجنوب الغربي؟

ب) سم الصحراء التي تقع شمال الصين.

ج) بماذا يعرف النهر الأصفر؟

د) لماذا قام الصينيون ببناء سور الصين العظيم؟

هـ) ضع دائرة على عاصمة الصين .

٢- اكتب نتيجة واحدة مترتبة على :

- اختراع الصينيون للورق.

- فيضان النهر الأصفر في الصين.

٣- دلل باثنين على أ) مظاهر التعاون بين السلطنة والصين.

٤- قارن بين الجمهورية الإسلامية الإيرانية والصين:

وجه المقارنة	الجمهورية الإيرانية	الصين
العاصمة		
اللغة الرسمية		
نظام الحكم		
العملة		



٥- تمعن في الصورة التي أمامك ثم أجب عن الأسئلة التالية:

- أ) ما اسم المعلم الواضح في الصورة؟
- ب) إلى أي دولة ينتمي هذا المعلم؟

٦- اشرح العبارة التالية " بقدر ما أسعد النهر الأصفر الصينيين القدماء في حياتهم فإنه قد أحزنهم مرات عدة".

٧- " كانت ولا زالت العلاقات العمانية الصينية تلعب دوراً في اقتصاد البلدين " في ضوء هذه العبارة قيم هذه العلاقات على صعيد قطاع النفط و قطاع التجارة.

٨- بم تفسر / ازدهار الأطباق والمزهرات والتحف في الصين.

٩- أكمل البطاقة التعريفية للدولة التالية والمشار إليها بالرقم (١) :



١- اسم هذه الدولة	_____
٢- العاصمة	_____
٣- نظام الحكم	_____
٤- العملة	_____

١٠- عدد الإنجازات الصينية على الحضارة الإنسانية.

.....

.....

.....

١١- اعط نتيجة وحدة ترتبت على دخول المغول المسلمين إلى الصين في القرن الرابع عشر الميلادي.

.....

١٢- على ماذا يدل زيارة السفينة صحار لميناء كانتون في الصين عام ١٩٨١م؟

.....

١٣- من منجزات الحضارة الصينية القديمة " استخدام المعادن الصلبة " اذكر دليلاً واحداً على ذلك.

.....

١٤- دلل على تأثير الحضارة الصينية بالطبيعة الجغرافية للصين.

.....

١٥- رتب الأحداث التالية من الأقدم إلى الأحدث بحيث تضع يمين الحدث الرقم المناسب له:

الترتيب الصحيح	الأحداث التاريخية
	غزو المغول للصين
	دخول الإسلام عن طريق الدعاة و التجار إلى الصين و تكوين جالية لهم في كانتون
	نجاح أسرة تانج في تحقيق تقدم حضاري كبير في الصين
	نجاح سلالة فينغ من اخراج المغول من الصين

.....

١٦- أمامك خريطة لقارة اسيا ادرسها جيداً ثم أجب عن الأسئلة التي تليها:

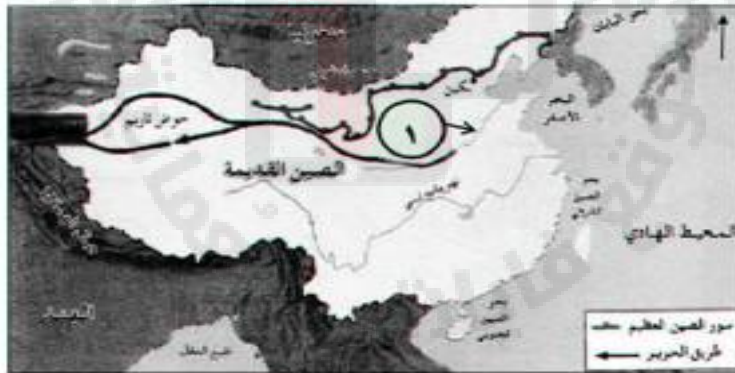


أ) سم عاصمة الدولة المشار إليها بالرقم (٤)

ب) يوجد النهر الأصفر في الدولة المشار إليها بالرقم.....

١٧- اذكر اثنين من الطرق التي وصل وانتشر من خلالها الإسلام في الصين.

١٨- انظر إلى خريطة الصين القديمة التي أمامك ثم أجب عن الأسئلة التالية:



أ) استخرج من الخريطة الدولة التي تحد الصين من الشمال.....

ب) اكتب اسم النهر الذي يحمل الرقم (١) على الخريطة.....

ج) الجهة التي يقع فيها سور الصين العظيم.....

١٩- اذكر النتائج المترتبة على :

أ) صنع الصينيون العربات ذات العجلات.

ب) وفرة التربة الغنية التي يرسبها النهر الأصفر في الصين.

ج) تطور الصين في السنوات الأخيرة من القرن العشرين

٢٠- من خلال الجدول التالي قارن بين السفينتين سلطنة و صحار :

السفينة	الميناء الذي زارته السفينة	العام الميلادي لزيارة السفينة
سلطنة
صحار

٢١- صنف الشخصيات التاريخية التالية أمام العمل الذي قام به في الجدول أدناه
(كونفشيوس - ماوتسي يونغ)

الشخصيات التاريخية	الأعمال
أسس الحزب الشيوعي الذي يدعمه الاتحاد السوفيتي (سابقاً)	
أشهر حكماء الصين ، وضع أفكاراً مهمة عن الاسرة والدولة	

أولاً/ إجابة الأسئلة الاختيارية:

١- ب

٢- د

٣- د

٤- ج

٥- د

٦- أ

٧- ب

٨- د

٩- ب

١٠- أ

١١- ب

١٢- أ

١٣- ج

١٤- ج

١٥- ج

١٦- د

ثانياً / إجابة الأسئلة المقالية:

١- أ) الهند

ب) صحراء جوبي

ج) نهر هوانج هو.

د) نظراً لتعرض الصين لهجمات القبائل المتكررة.

هـ) وضع دائرة على بكين في الخريطة .

٢- تطور الجهاز الإداري و انتشار التعليم.

- الاستفادة من التربة الغنية التي يرسبها مما ساعد في قيام الزراعة/ تضرر الأراضي الزراعية / تهدم المدن و القرى.

٣- توقيع اتفاقية تعاون اعلامي بين وكالة الانباء العمانية و نظيرتها الصينية و قيام شركة النفط الصينية الوطنية باستثمارات ضخمة في السلطنة للحصول على امتيازات نفطية في المنطقة- وجود تعاون في مجال السياحة- وجود علاقات ثقافية بين البلدين .

٤-

وجه المقارنة	الجمهورية الايرانية	الصين
العاصمة	طهران	بكين
اللغة الرسمية	الفارسية	الصينية
نظام الحكم	جمهوري اسلامي	جمهوري
العملة	الريال	يوان

٥- أ) سور الصين العظيم

ب) الصس

٦- استفادوا من التربة الغنية التي يرسبها النهر أثناء فيضانه في قيام الزراعة و تربية الحيوانات و لكنهم عانوا من الاثار التدميرية التي يحدثها فيضان النهر فكثيراً ما تدمرت الأراضي الزراعية و تهدمت المدن و القرى.

٧- تعد الصين شريكا استراتيجيا للسلطنة في مجالات الطاقة و سوق الاستثمار و العلاقات التجارية بين البلدين.

قطاع التجارة: بدأت الشركات الصينية تدخل منتجاتها المنافسة إلى الأسواق العمانية و توظيف رؤوس أموال كل طرف لدى الآخر.

قطاع النفط: قيام شركة النفط الصينية الوطنية باستثمارات ضخمة في السلطنة للحصول على امتيازات نفطية في المنطقة.

٨- نظرا لوفرة التراب الصيني الأبيض.

١٠- اختراع الورق - صناعة الاطباق و المزهرات و التحف - صناعة الأدوات الحربية - اختراع البوصلة - تطوير أساليب الري- صناعة العربات- صناعة الحرير.

١١- زاد عدد المسلمين الذين وفدوا إلى الصين من الشمال الغربي و استقروا بها و اختلطوا بأهلها و كونوا فيها امبراطورية واسعة كانت بكين عاصمتها.

١٢- دليل على عمق الصلات و العلاقات العمانية الصينية.

١٣- صناعة الأدوات الحربية و الزراعية من المعادن الصلبة.

١٤- عاش السكان في مدن و قرى محاطة بالاسوار و تركز معظمها في وديان الأنهار الكبرى.

١٥-

الترتيب الصحيح	الأحداث التاريخية
٣	غزو المغول للصين
٢	دخول الإسلام عن طريق الدعاة و التجار إلى الصين و تكوين جالية لهم في كانتون
١	نجاح أسرة تانج في تحقيق تقدم حضاري كبير في الصين
٤	نجاح سلالة فينغ من اخراج المغول من الصين

١٦- أ) طهران.

ب) ٢

١٧- عن طريق الفتح إلى منطقة تركستان الشرقية - التجار المسلمين - الدعاة - دخول المغول الصين في القرن الرابع عشر الميلادي.

ب) النهر الأصفر / هوانج هو.

ج) الشمال الشرقي

١٩- أ) ازداد اتصال الصين بالعالم الخارجي.

ب) الاستفادة من التربة الغنية في الزراعة .

ج) دخلت بما عرف بمرحلة الإصلاح و الانفتاح و ازداد حجم منتجاتها الصناعية و عملت على تطوير الزراعة و توجهت نحو تحرير اقتصاد الدولة و الإفادة من التقدم التكنولوجي.

٢٠-

السفينة	الميناء الذي زارته السفينة	العام الميلادي لزيارة السفينة
سلطانة	نيويورك.	١٨٤٠ م
صحار	قوانتشو	١٩٨١

٢١- ماوتسي يونج - كونفشيوس.

الوحدة السادسة / (اليابان)

أولاً / الأسئلة الاختيارية:



١- الخارطة التي أمامك للدولة المشار إليها بالرقم (١) والتي تقع في المحيط الهادي هي:

- أ) الهند
ب) ماليزيا
ج) اليابان
د) إيران



٢- العلم الذي أمامك في الصورة المقابلة لدولة:

- أ) إيران
ب) الهند
ج) الصين
د) اليابان

٣- انتهى احتلال الحلفاء لليابان بعد توقيع معاهدة السلام التي دخلت حيز التنفيذ في العام الميلادي:

- أ) ١٩٤٢
ب) ١٩٥٢
ج) ١٩٦٢
د) ١٩٧٢

٤- عاصمة اليابان في القرن السابع الميلادي وبنيت وفقاً لنماذج الاباطرة الصينيين:

- أ) كيوتو
ب) نارا
ج) طوكيو
د) ريوكيو



٥- تمثل الجزيرة المشار إليها بالسهم على الخريطة جزيرة :

- أ) شيكوكو
ب) طوكيو
ج) هونشو
د) هوكايدو



٦- عاصمة الدولة المشار إليها بالرقم (١) :

- أ) بكس
ب) طوكيو
ج) بانكوك
د) هانوي



٧- المحيط الذي تقع فيه الدولة المشار إليها بالرقم (١):

- (أ) الهندي
(ب) الأطلسي
(ج) المتجمد الجنوبي
(د) الهادي

٨- اليابان عبارة عن أرخبيل يتكون من أربع جزر كبيرة وتقع عاصمتها طوكيو ضمن جزيرة:

- (أ) هوكايدو
(ب) هونشو
(ج) شيكوكو
(د) كيوشو

٩- تخيل أنك في رحلة سياحية إلى دولة اليابان فإن العملة النقدية التي ستستخدمها في تعاملاتك :

- (أ) الـ
(ب) الـريجنـت
(ج) الـريال
(د) الـروبية

١٠- النتيجة المترتبة على الامتداد الطولي لدولة اليابان من الشمال إلى الجنوب :

- (أ) التنوع المناخي
(ب) وفرة الموارد المعدنية
(ج) السهول الواسعة
(د) تنوع مصادر الطاقة

١١- العام الميلادي الذي هاجمت فيه اليابان ميناء بيرل هاربر الأمريكي:

- (أ) ١٩٣١م
(ب) ١٩٤١م
(ج) ١٩٥١م
(د) ١٩٦١م

ثانياً/ الأسئلة المقالية :

١- سم الشخصية التاريخية التي قامت بالعمل التالي:

- أدخل الثورة الصناعية إلى اليابان و ألغى الحكومة العسكرية ووضع دستور للبلاد.(.....)

٢- فسر / قيام الولايات المتحدة الأمريكية بإلقاء قنبلتين نوويتين على مدينتي هيروشيما و ناجازاكي في اليابان.

٣- اكتب نتيجة واحدة مترتبة على:


- وضع دستور جديد لليابان عام ١٩٤٧م.

- إلقاء القنابل النووية على مدينتي هيروشيما و ناجازاكي.

٤- فيما يلي أحداث بارزة في تاريخ اليابان رتبها وفق التسلسل التاريخي من الاقدم إلى الأحدث

(هجوم اليابان على ميناء بيرل هاربر - تسلم الامبراطور هينو العرش - استسلام اليابان للحلفاء - دخول اليابان الحرب العالمية الثانية)

٥- ادرس الخريطة التالية وأجب عن الأسئلة التي تليها:



أ) ما الدولة التي توضحها الخريطة؟

ب) اسم المسطح المائي المشار إليه بالرقم (١)؟

ج) وقع على الخريطة البحر الذي يفصل هذه الدولة عن القارة الأقرب لها

د) ما اسم القارة التي تقع فيها هذه الدولة؟

٦- رتب الأحداث التاريخية التالية و المتعلقة بتاريخ اليابان ترتيباً تصاعدياً :

() تسلم الامبراطور هينو العرش.

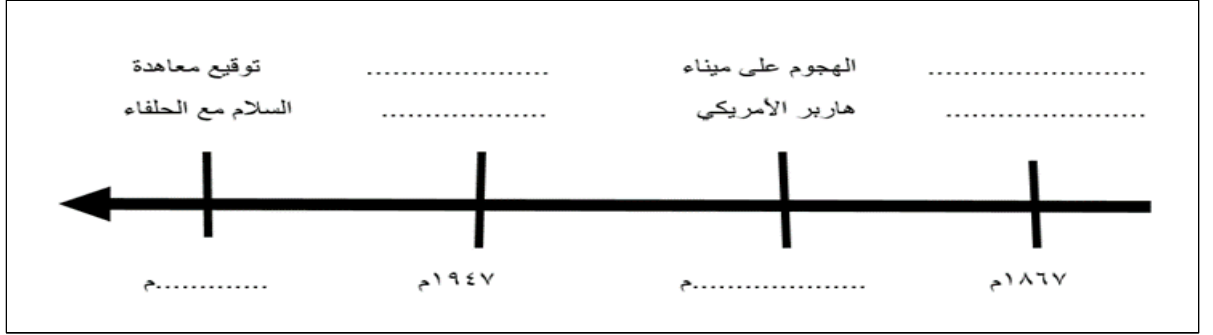
() وضع دستور جديد لليابان.

() التحول إلى العاصمة الجديدة كيوتو

() دخول اليابان الحرب ضد الحلفاء.

٧- بم تفسر / صمود اليابان أمام الغزو المغولي.

٨- أكمل المخطط التالي :



٩- دلل بمثال واحد على تأثير اليابان بالصين في الجوانب الدينية والأدبية والسياسية.

١٠- علل / يختلف المناخ في اليابان من منطقة إلى أخرى.

١١- انسب الإنجازات التالية إلى الشخصيات التي قامت بها:

(هينو - محمد رضا - شيه هوانج)

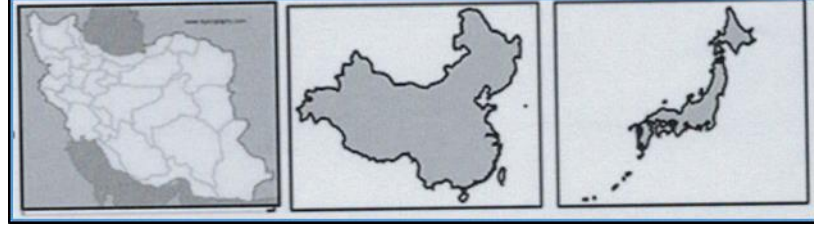


١٢- اذكر الأثر الذي تركته الحرب العالمية الثانية على اليابان في الجوانب الآتية:

- ١- الغذاء.....
- ٢- الأراضي التابعة لها.....
- ٣- المواصلات.....
- ٤- القوات العسكرية.....

١٣- اكتب أسفل كل خريطة اسم الدولة التي تمثلها من بين القوسين:

(الصين - ايران - اليابان)



.....

١٤- ما النتائج المترتبة على :

- تسلم الامبراطور هينو العرش في اليابان

.....

١٥- رتب الأحداث التاريخية لليابان من الأقدم إلى الأحدث

وضع دستور جديد لليابان - استسلام اليابان لدول الحلفاء - نقل العاصمة كوتو إلى طوكيو - تأثر اليابانيون بالطراز الصيني - سقوط القنبلة الذرية على هيروشيما و ناجازاكي - دخول اليابان الحرب العالمية الثانية.

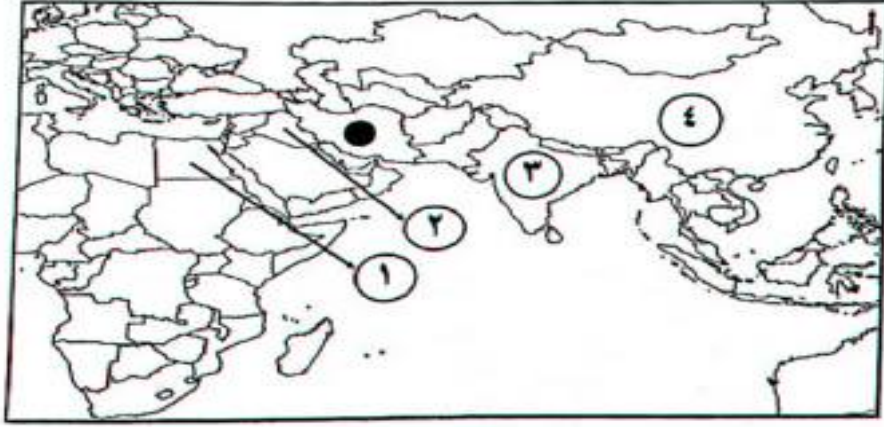
.....
.....

١٦- ما النتيجة المترتبة على:

- الهجوم الياباني على ميناء بيرل هاربر عام ١٩٤١م.

.....

١٧- ادرس الخريطة التالية ثم أجب عن الأسئلة التي تليها :



أ) اكتب المحيط الهندي في موقعه الصحيح على الخريطة.

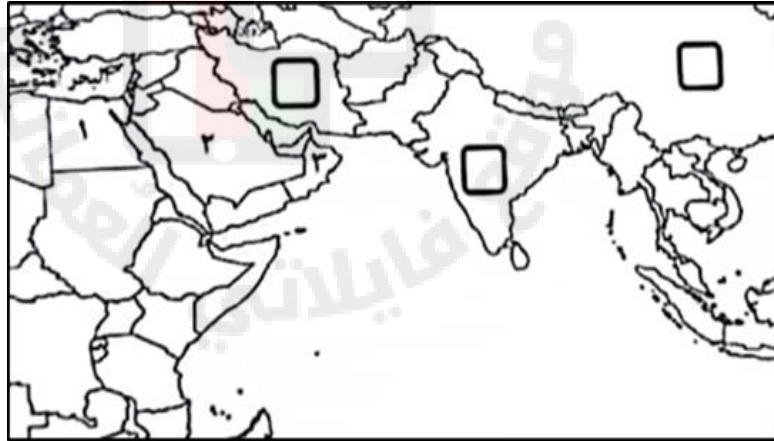
ب) استخرج الأرقام الدالة على كل من :

- دولة اقتبس منها الفرس فن العمارة (.....).

- دولة دخلت مع بريطانيا حرب الافيون (.....).

ج) اعط مثلاً واحداً على صناعة ازدهرت في الدولة المشار إليها بالرمز (.....) ●

١٨- أمامك خريطة لبعض القارات ادرسها جيداً ثم أجب عن الأسئلة التالية :



أ) ما الرقم الدال على الدولة التي وصف أهلها في المصادر السومرية بأنهم رواد الملاحة البحرية؟ (

ب) ظلل المربع الذي يشير إلى الدولة التي أسهم شعبها في الحضارة الإنسانية ب (اختراع الورق) .

١٩- انسب صور المنجزات الحضارية التالية إلى الحضارات التي اشتهرت بها بكتابة رقم الصورة في المكان الصحيح في الجدول أدناه:



(٣)



(٢)



(١)

اليابانية	الصينية	الفارسية

٢٠- اكتب اسم المصطلح:

- طبقة المحاربين و الاقطاعيين التي أسهمت في صمود اليابان أمام غزوات المغول ()
- ٢١- (يختلف المناخ في اليابان بسبب امتدادها من الشمال إلى الجنوب) اكتب شرحاً موضحاً فيه أثر هذا الامتداد على مناخ اليابان.

أولاً / إجابة الأسئلة الاختيارية

- (١) ج
(٢) د
(٣) ب
(٤) ب
(٥) ج
(٦) ب
(٧) د
(٨) ب
(٩) أ
(١٠) أ
(١١) ب

ثانياً / إجابة الأسئلة المقالية:

١- الامبراطور هينو.

٢- بسبب هجوم اليابان على ميناء بيرل هاربر الأمريكي في المحيط الهادي.

٣- فقد فيه الامبراطور كل السلطات العسكرية والسياسية وجعل فقط رمزاً للدولة – نص الدستور على حق الانتخاب العام وحقوق الانسان –التعاون بين المواطن و الدولة وأن يتولى مجلس الوزراء السلطة التنفيذية في البلاد.

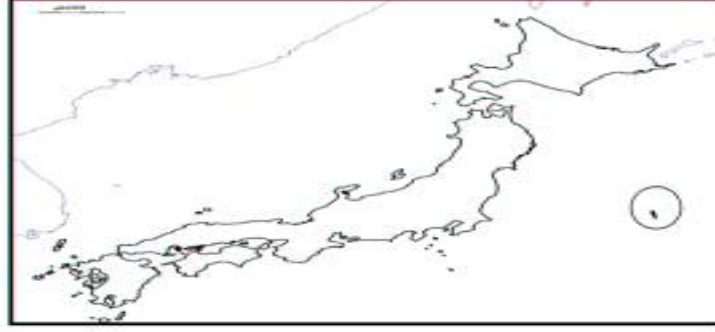
- أجبرت اليابان على الاستسلام للحلفاء- تدمير معظم الأراضي اليابانية – اتلفت شبكات المواصلات – تعرضت البلاد لنقص شديد في الغذاء- تقليص عدد الجنود –تدمير الأسلحة.
- خسرت الحرب – القيت عليها القنابل النووية - تدمير معظم الأراضي اليابانية – اتلفت شبكات المواصلات – تعرضت البلاد لنقص شديد في الغذاء- تقليص عدد الجنود –تدمير الأسلحة

٤- تسلم الامبراطور هينو العرش - دخول اليابان الحرب العالمية الثانية - هجوم اليابان على ميناء بيرل هاربر - استسلام اليابان للحلفاء

٥- أ) اليابان

ب) المحيط الهادي

ج)



د) قارة اسيا

٦- (٢) تسلم الامبراطور هينو العرش.

(٤) وضع دستور جديد لليابان.

(١) التحول إلى العاصمة الجديدة كيوتو

(٣) دخول اليابان الحرب ضد الحلفاء.

٧- بفضل مقاتلي الساموراي (طبقة المحاربين و الاقطاعيين)

٨- تسلم الامبراطور هينو العرش في اليابان - ١٩٤١ م - وضع دستور جديد لليابان - ١٩٥٢ م

٩- استخدموا الحروف الصينية في الكتابة - بنوا عاصمتهم نارا وفقا لنماذج الاباطرة الصينيين - كتبوا قوانين مأخوذة كليا عن القوانين الصينية.

١٠- بسبب امتدادها من الشمال إلى الجنوب.

١١- شيه هوانج - هينو - محمد رضا

١٢- الغذاء/ تعرضت اليابان لنقص شديد في الغذاء لسنوات عدة.

- الأراضي التابعة لها/ فقدت كل الأراضي التي استولت عليها و تعرضت مدنها للدمار.

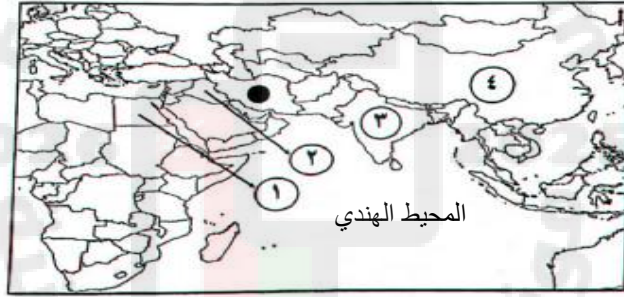
- المواصلات/ اتلفت شبكات المواصلات.
- القوات العسكرية/ تم تقليص عدد جنودها.

١٣- اليابان – الصين – إيران

١٤- سلكت اليابان طريق الثورة الصناعية فألغى الحكومة العسكرية و وضع دستورا للبلاد و أنشأ مجلسا عسكريا و نقل العاصمة إلى ايدو.

١٥- تأثر اليابانيون بالطراز الصيني - نقل العاصمة كوتو إلى طوكيو - دخول اليابان الحرب العالمية الثانية- سقوط القنبلة الذرية على هيروشيما و ناجازاكي – استسلام اليابان لدول الحلفاء- وضع دستور جديد لليابان.

١٦- خسرت الحرب و دمرت أراضيها و ألقيت عليها القنابل النووية و هو ما اجبرها على الاستسلام للحلفاء.



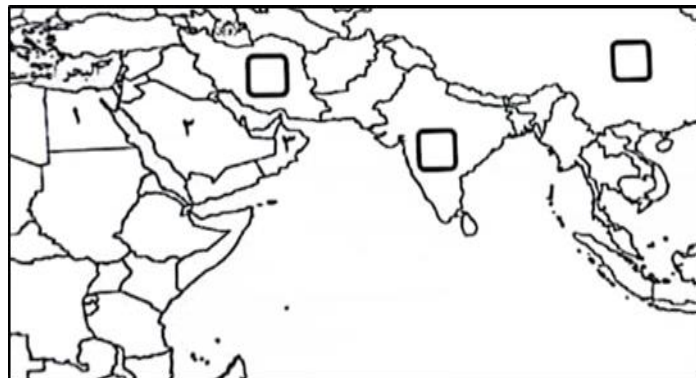
١٧- أ)

ب) - ١

٤ -

ج) صناعة الأسلحة و الاقمشة الحريرية و الصوفية و السجاد و المعادن – الاواني الفخارية – السفن.

١٨- أ) ٣



ب)

اليابانية	الصينية	الفارسية
٢	١	٣

٢٠- الساموراي

٢١- مناخها في المناطق الوسطى و الجنوبية معتدل شتاء و حار و رب صيفا و يكون الجو ماطرا في بداية الصيف و تتعرض للأعاصير في نهاية الصيف أما الأجزاء الشمالية فيكون مناخها باردا و غالبا ما تتعرض للعواصف الثلجية في فصل الشتاء.

