

شكراً لتحميلك هذا الملف من موقع المناهج العمانية



سؤال قصير ثاني

[موقع المناهج](#) ⇨ [المناهج العمانية](#) ⇨ [الصف التاسع](#) ⇨ [رياضيات](#) ⇨ [الفصل الأول](#) ⇨ [الملف](#)

تاريخ نشر الملف على موقع المناهج: 04:47:08 2023-11-30

التواصل الاجتماعي بحسب الصف التاسع



روابط مواد الصف التاسع على تلغرام

[الرياضيات](#)

[اللغة الانجليزية](#)

[اللغة العربية](#)

[التربية الاسلامية](#)

المزيد من الملفات بحسب الصف التاسع والمادة رياضيات في الفصل الأول

[اختبار قصير ثاني مع نموذج الإجابة](#)

1

[سؤال قصير ثاني](#)

2

[اختبار قصير ثاني](#)

3

[سؤال قصير أول نموذج ثاني](#)

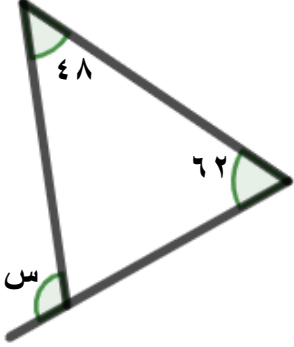
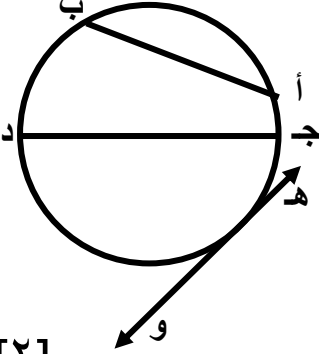
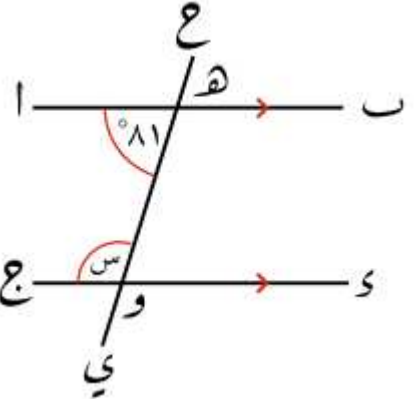
4

[سؤال قصير أول](#)

5

السؤال القصير (٢) للصف التاسع في مادة الرياضيات

الاسم: الصف: ٩ / الدرجة: ٥ /

المفردة	السؤال	الدرجة
١	<p>حوظ قيمة س في الشكل المقابل :</p>  <p>١٨٠° ١١٠° ٦٢° س°</p> <p>[١]</p>	
٢	<p>تأمل الشكل المقابل ثم صل ما في العمود الأول بما يناسبه في العمود الثاني:</p> <div style="display: flex; justify-content: space-around;"> <div style="border: 1px solid black; padding: 5px;">العمود الأول</div> <div style="border: 1px solid black; padding: 5px;">العمود الثاني</div> </div>  <div style="display: flex; justify-content: space-around; margin-top: 10px;"> <div style="text-align: center;"> <p>المماس</p> <p>الوتر</p> <p>نصف القطر</p> <p>القطر</p> </div> <div style="text-align: center;"> <p>أ ب</p> <p>ج د</p> <p>هـ و</p> </div> </div> <p>[٢]</p>	
٣	<p>أوجد مجموع الزوايا الداخلية لمضلع عدد أضلاعه يساوي ٩</p> <p>[١]</p>	
٤	<p>أوجد قياس الزاوية المشار إليها بالحرف (س). برر إجابتك.</p>  <p>[١]</p>	