

## أسئلة الامتحان النهائي الرسمي الدور الأول الفترة الصباحية



### تم تحميل هذا الملف من موقع المناهج العمانية

موقع فايلاتي ← المناهج العمانية ← الصف التاسع ← اجتماعيات ← الفصل الثاني ← ملفات متنوعة ← الملف

تاريخ إضافة الملف على موقع المناهج: 2025-06-01 15:15:51

ملفات اكتب للمعلم اكتب للطالب | اختبارات الكترونية | اختبارات | حلول | عروض بوربوينت | أوراق عمل  
منهج انجليزي | ملخصات وتقارير | مذكرات وبنوك | الامتحان النهائي للمدرس

المزيد من مادة  
اجتماعيات:

### التواصل الاجتماعي بحسب الصف التاسع



صفحة المناهج  
العمانية على  
فيسبوك

الرياضيات

اللغة الانجليزية

اللغة العربية

التربية الاسلامية

المواد على تلغرام

### المزيد من الملفات بحسب الصف التاسع والمادة اجتماعيات في الفصل الثاني

نموذج إجابة أسئلة الامتحان النهائي الرسمي الدور الأول الفترة الصباحية

1

خرائط مادة الدراسات الاجتماعية

2

ملخص الأحداث التاريخية لدرس جمهورية الصين الشعبية

3

ملخص درس جمهورية الصين الشعبية

4

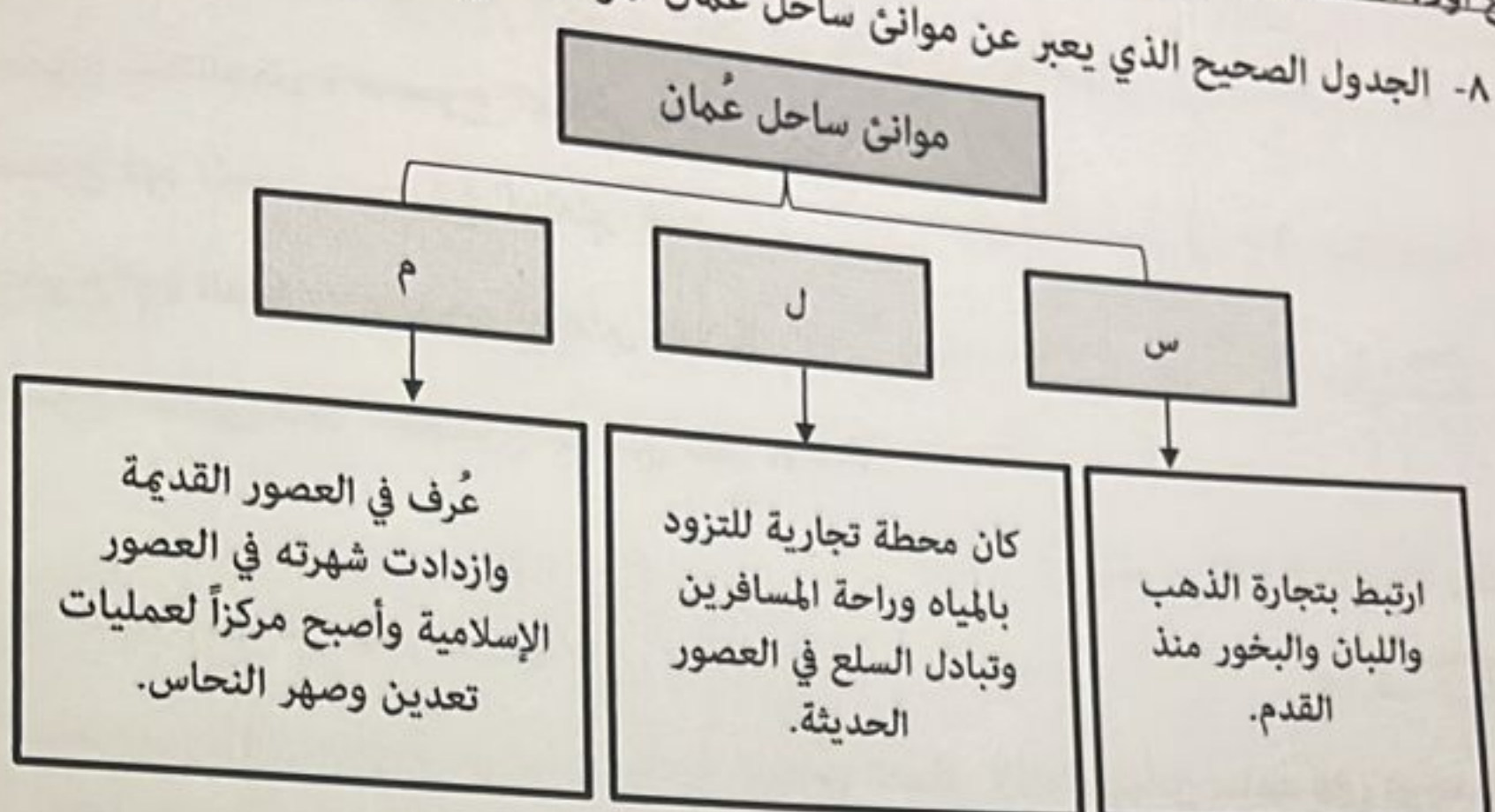
دمج امتحانات 2023-2024 الفترة الصباحية والمسائية لجميع المحافظات مع نماذج الإجابة

5



تابع أولاً: الأسئلة الموضوعية:

٨- الجدول الصحيح الذي يعبر عن موانئ ساحل عُمان الموضحة في المخطط الذي أمامك:



س	صحار
ل	مسقط
م	ظفار

س	ظفار
ل	مسقط
م	صحار

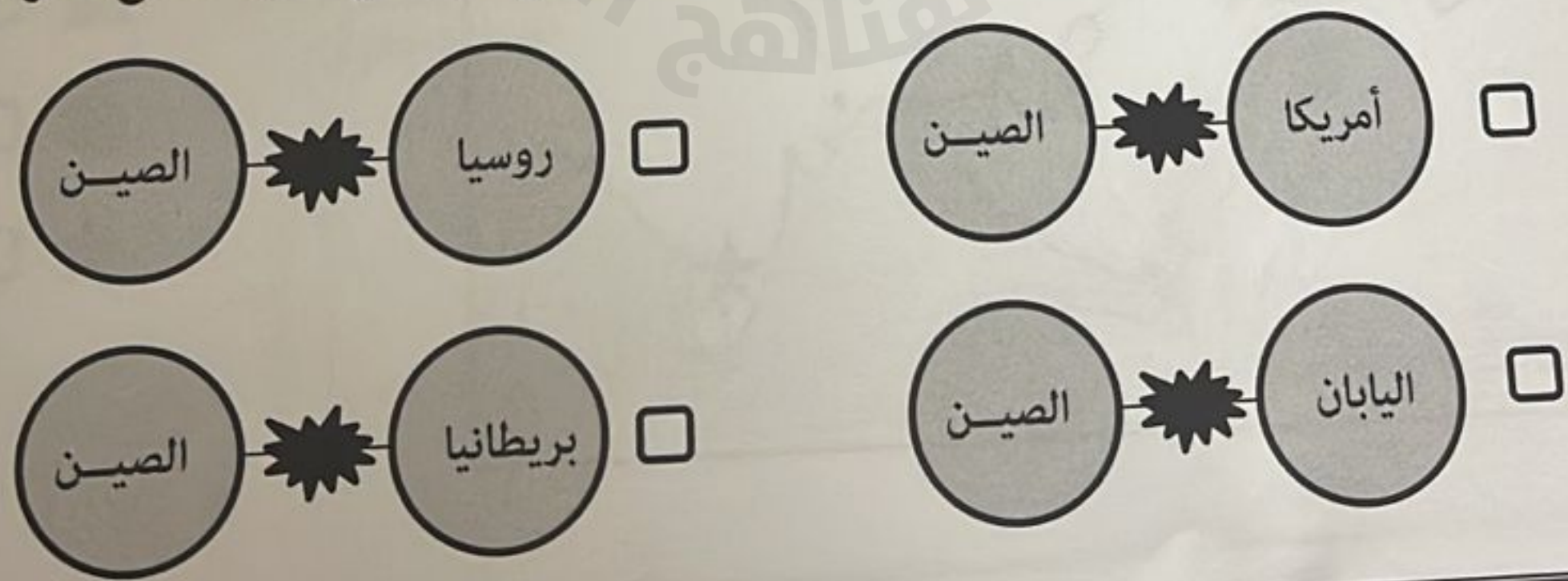
س	مسقط
ل	صحار
م	ظفار

س	ظفار
ل	صحار
م	مسقط

٩- القرن الميلادي الذي استخدم فيه اسم (إيران) رسمياً:

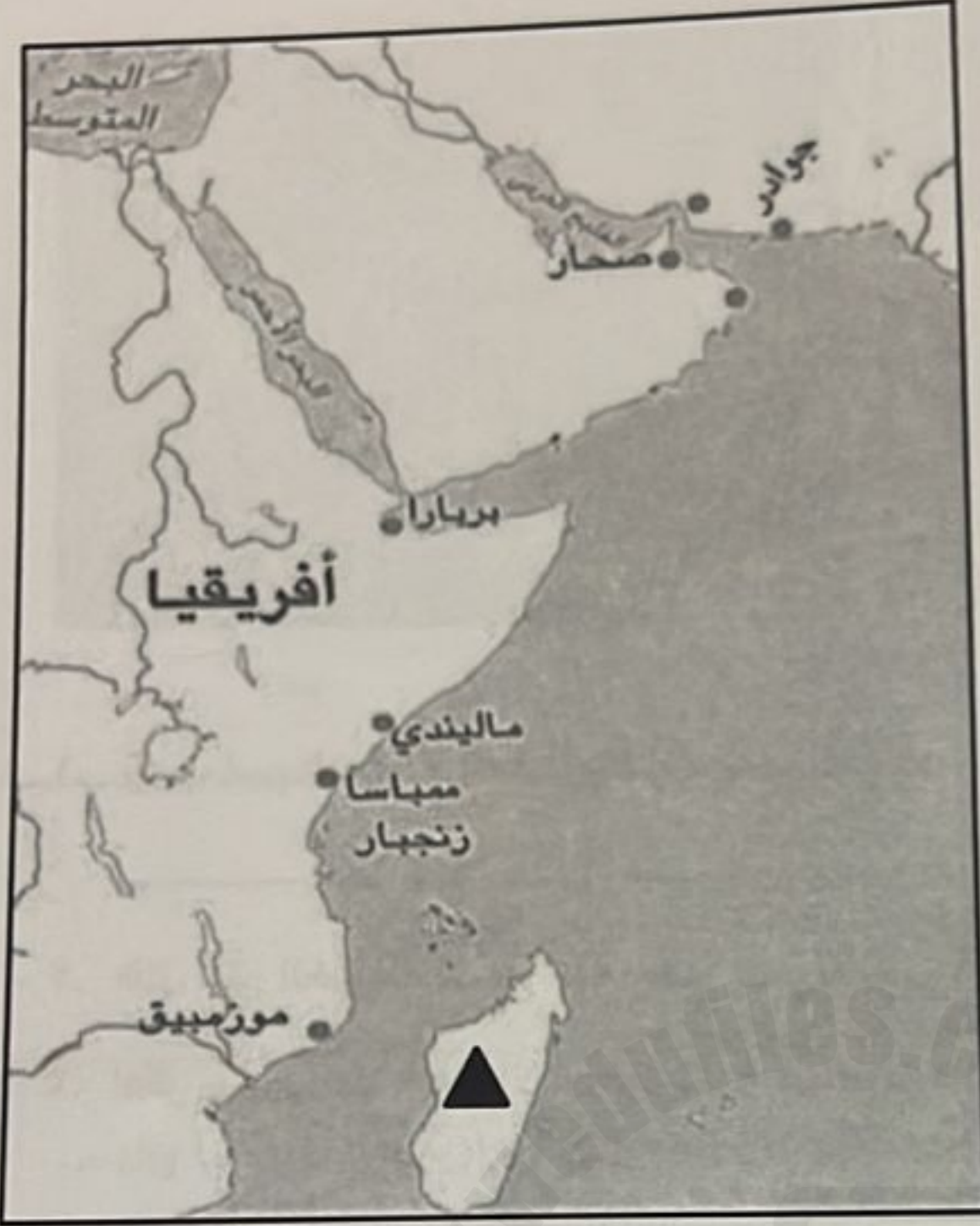
- ١٨ ☐ ١٩ ☐ ٢٠ ☐ ٢١ ☐

١٠- الشكل الصحيح الذي يعبر عن طرفي الصراع في حرب الأفيون التي نشبت في القرن التاسع عشر الميلادي:





١٤ - ج. الخريطة المقابلة تمثل موانئ الساحل الأفريقي الشرقي ادرسها جيداً، ثم أجب عن الأسئلة الآتية:



١. ضع دائرة حول الميناء الذي يعد من أهم مراكز تجارة المحيط الهندي والعالم زمن الدولة البوسعيدية.

٢. سم الميناء المشار له بالرمز ( ▲ ) في الخريطة المقابلة.

٣. اكتب على الخريطة في الموقع الصحيح اسم الميناء الذي أصبح مملكة بحرية مع نهاية العصر العباسي وبداية العصور الحديثة.

١٥ - أ. رتب الأحداث الآتية وفق تسلسلها التاريخي من الأقدم إلى الأحدث بوضع الأرقام من (١ - ٣):

٧ درجات



تولى الشاه محمد رضا بهلوي السلطة في إيران وبدأ في اصلاحات اجتماعية واقتصادية.



قيام الجمهورية الإسلامية الإيرانية.

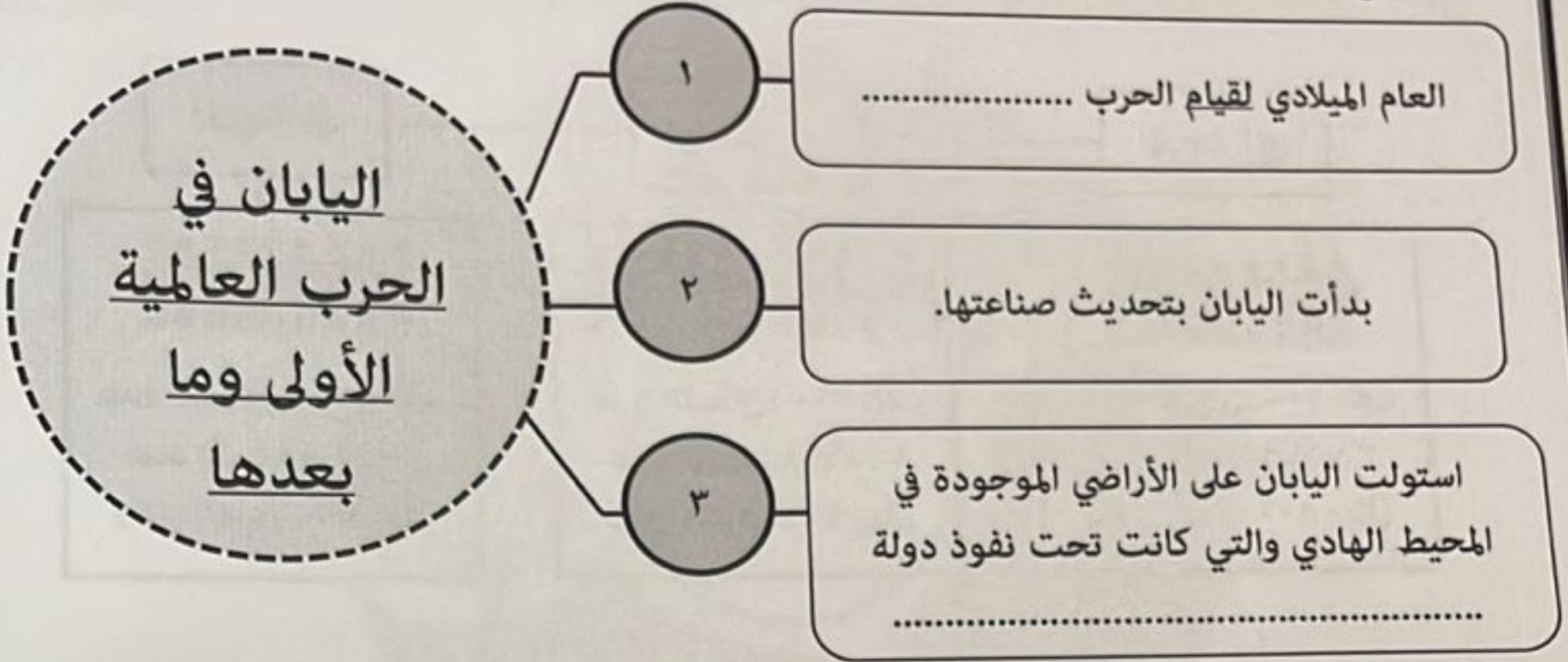


تعرضت إيران لغزو المغول الذين دمروا قسماً كبيراً من مراكزها الحضارية.



## تابع ثانياً: الأسئلة المقالية:

١٣ - ج. أكمل المخطط الآتي بما يناسبه:



١٤ - أ. انسب الأحداث التاريخية في المخططات الآتية إلى العصر الذي تنتمي إليه:

(العصر القديم - عصر الدولة الإسلامية - اليعاربة - البوسعيد)

٧ درجات

١ إرسال السفينة (سلطانة) إلى ميناء نيويورك عام ١٨٤٠م بقيادة أحمد بن النعمان.

٢ محاولة الإنسان العُماني الإبحار باستخدام الصاري والشرع سعياً للتبادل التجاري.

٣ إعداد قوة بحرية استطاعت تعقب البرتغاليين في الخليج العربي والمحيط الهندي.

١٤ - ب. برهن بدليل واحد على أن الفترة بين (١٦٥٠ - ١٦٥٢م) شهدت نشاطاً بحرياً عُمانياً أقلق الانجليز والهولنديين.



١٦ - ب. ادرس المخطط الذي أمامك جيداً، ثم أجب عن الأسئلة الآتية:

نصيب الفرد من السعرات الحرارية حسب دراسات منظمة الأغذية والزراعة

الدولة	السعرة الحرارية
كندا	٣٥٧٠
هولندا	٢٤٦٠
بريطانيا	٣٣٠٠
الهند	١٩٩٠

حاجة الفرد من السعرات الحرارية في اليوم هي ٢٥٠٠ سعرة.

١- اذكر الاسم المختصر للمنظمة التي تحتها خط.

٢- اكتب رقم المعادلة الصحيحة التي تصف نصيب الفرد من السعرات الحرارية بين بريطانيا والهند.

٣- بريطانيا < الهند

٢- بريطانيا = الهند

١- بريطانيا > الهند

رقم المعادلة الصحيحة:

今日头条

今日头条

١٦ - ج. ادرس الصورة التي أمامك جيداً، ثم أجب عن الأسئلة الآتية:

١. استنتج من الصورة التأثير الحضاري للصينيين على الحضارة اليابانية.

٢. نوع المجال الذي يندرج تحته هذا التأثير الحضاري:

☐ الاقتصادي

☐ الأدبي

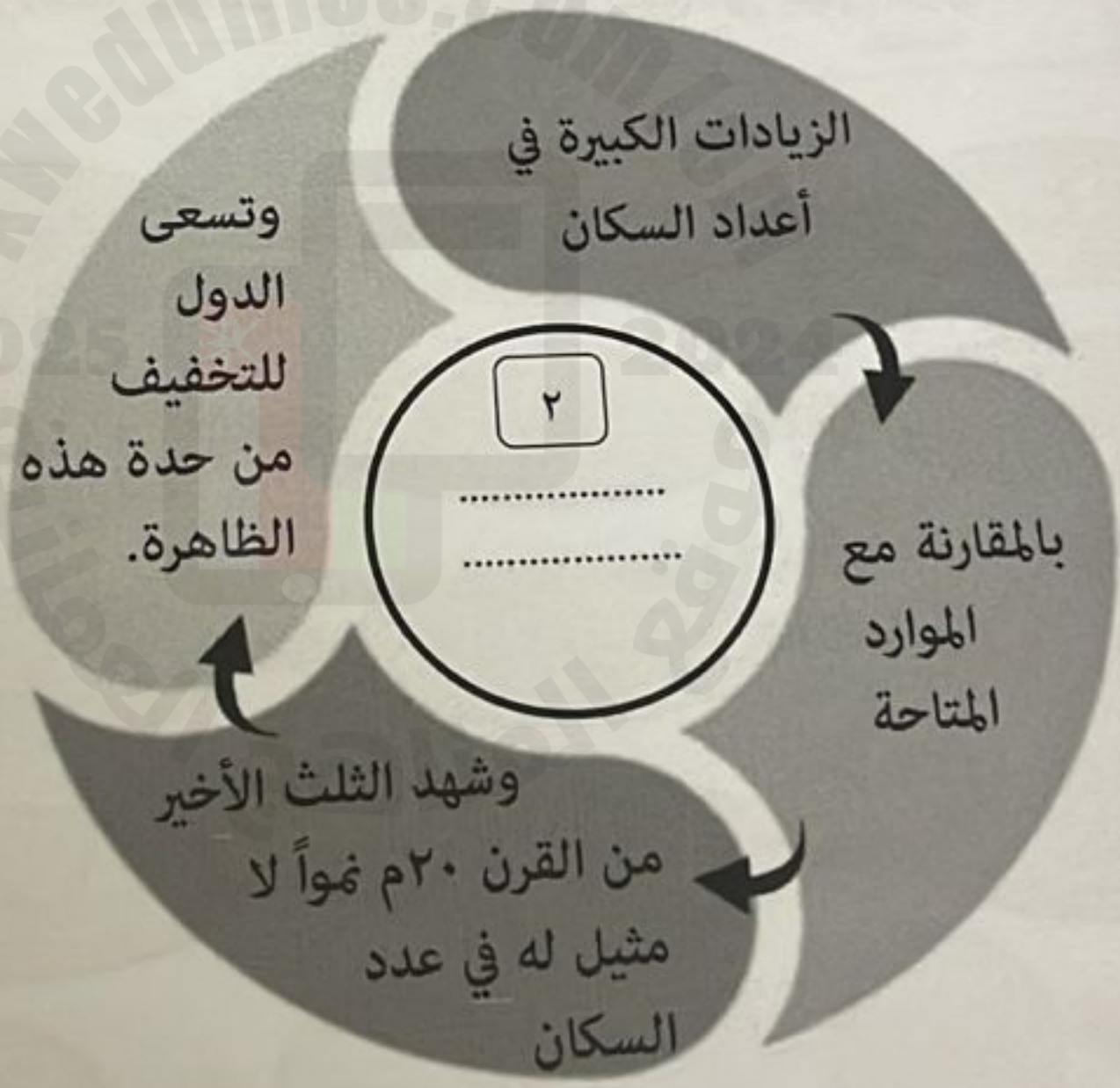
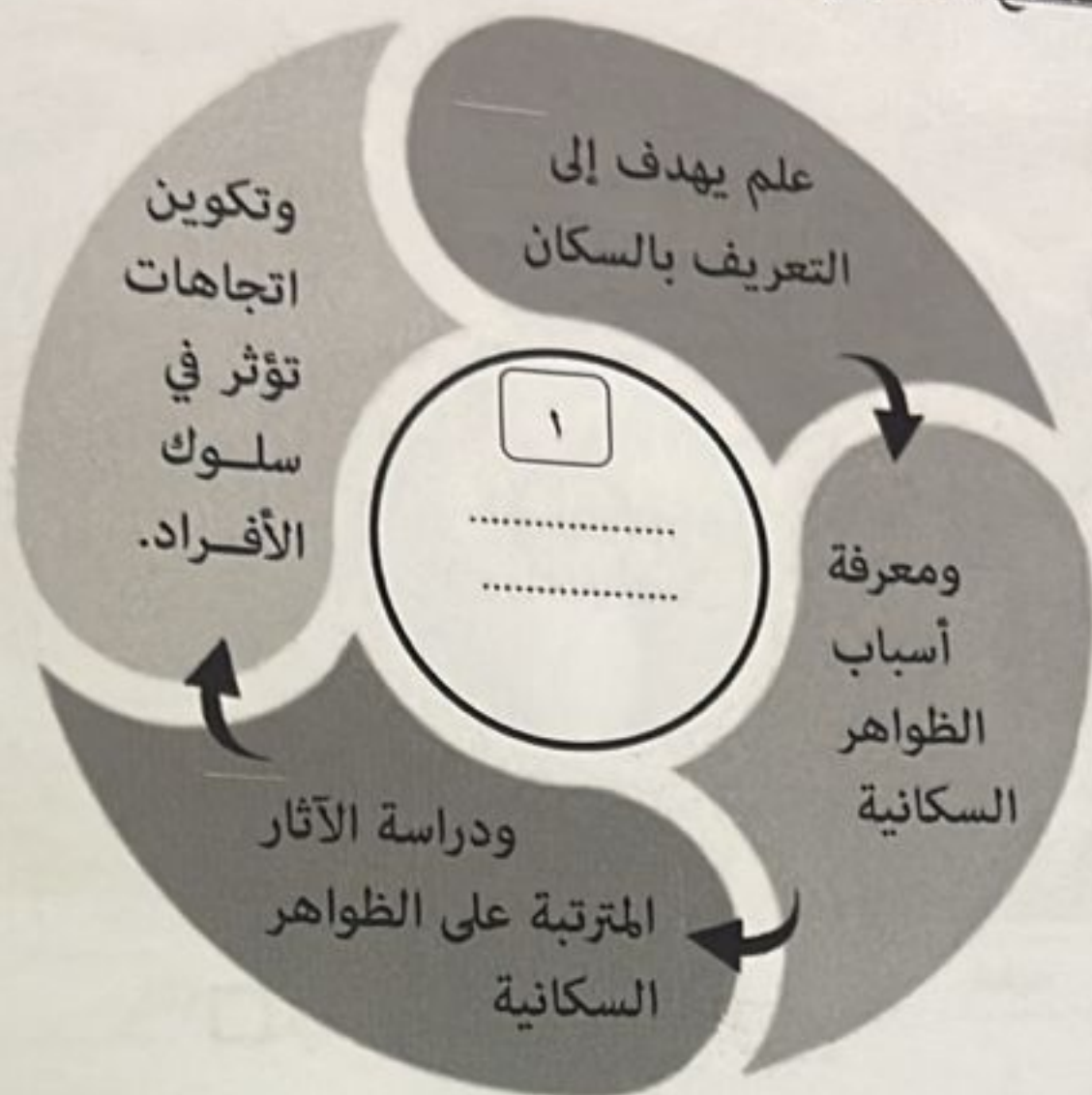
☐ الديني

[ظلل الإجابة الصحيحة]

انتهت الأسئلة مع الدعاء للجميع بالتوفيق والنجاح

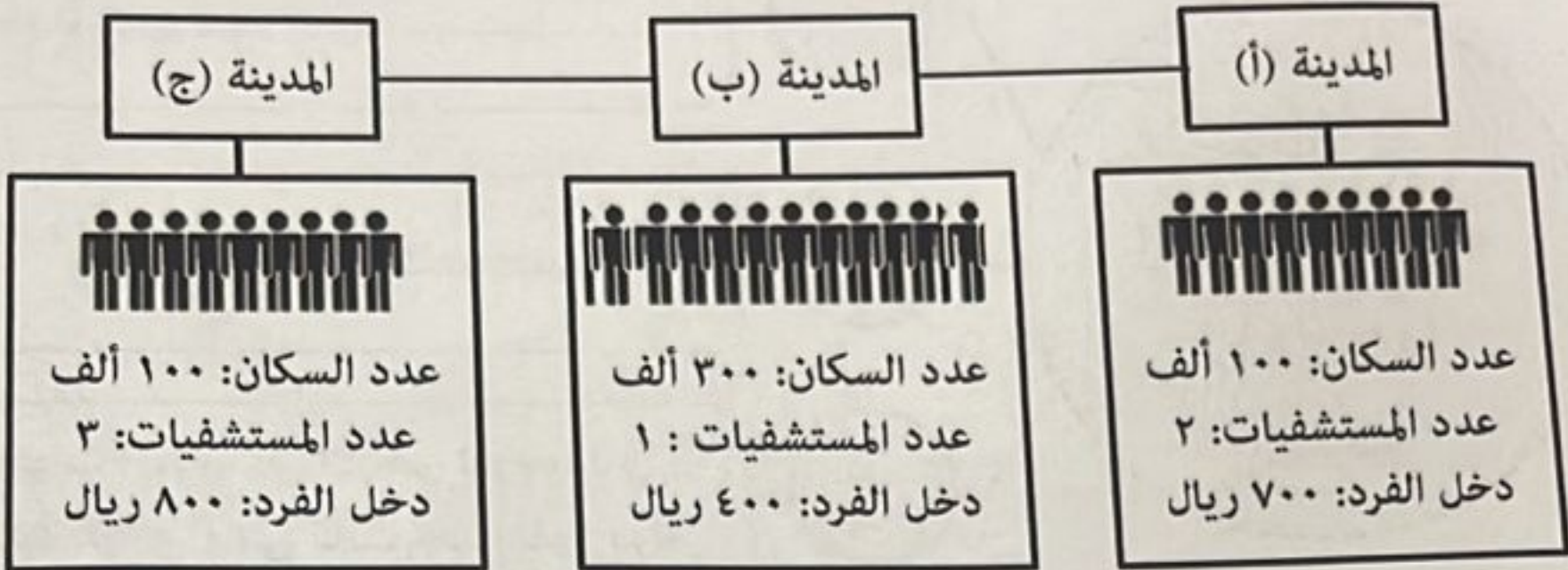


١٣- أ. اكتب المصطلح المناسب في المخططات التي تعبر عنه المعطيات الآتية:

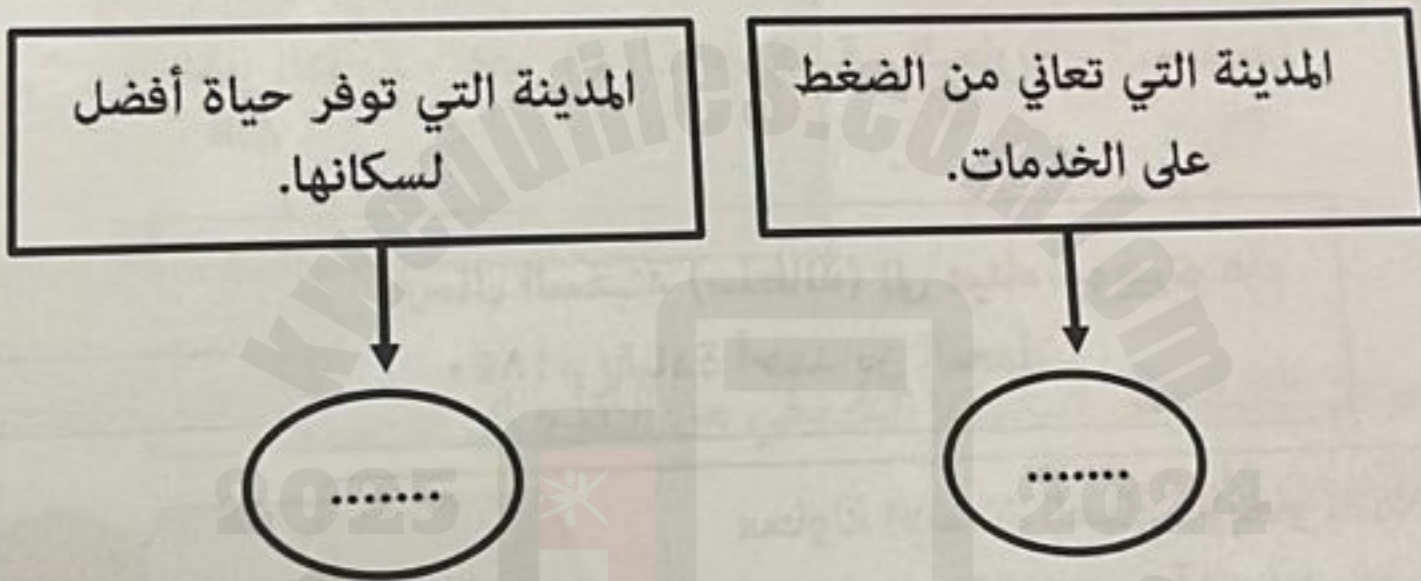




١٣ - ب. ادرس المخطط الذي يوضح الخدمات الأساسية في بعض المدن جيداً، ثم أجب عن الأسئلة الآتية:



١. اكتب رمز المدينة في المكان المناسب وفقاً للمعطيات الآتية:



٢. وضح العلاقة بين زيادة عدد السكان والضغط على الخدمات في المدن (أ) و (ب) و (ج).

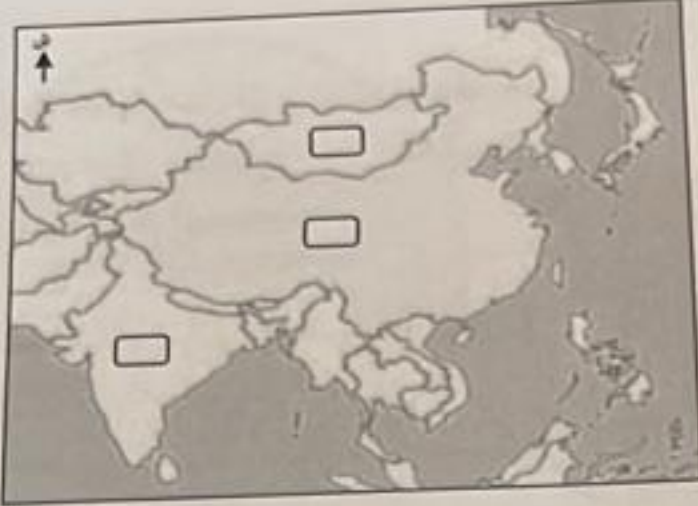
.....

.....

.....



١٥ - ب. ادرس الصورة والخريطة جيداً، ثم أجب عن الأسئلة الآتية:



١. اكتب اسم المَعْلَم الحضاري الواضح في الصورة.

٢. ظلل على الخريطة المربع الذي يشير للدولة التي يقع فيها هذا المَعْلَم.

٣. اذكر سبباً واحداً جعل الإمبراطور (شيه هوانج) يصدر أمراً لإتمام بناء المَعْلَم الواضح في الصورة.

١٦- أ. اعطِ نتيجة واحدة ترتبت على الآتي:

٧ درجات

١. اختراع الصينيون للورق وابتكارهم لأسلوب الكتابة الخاص بهم.

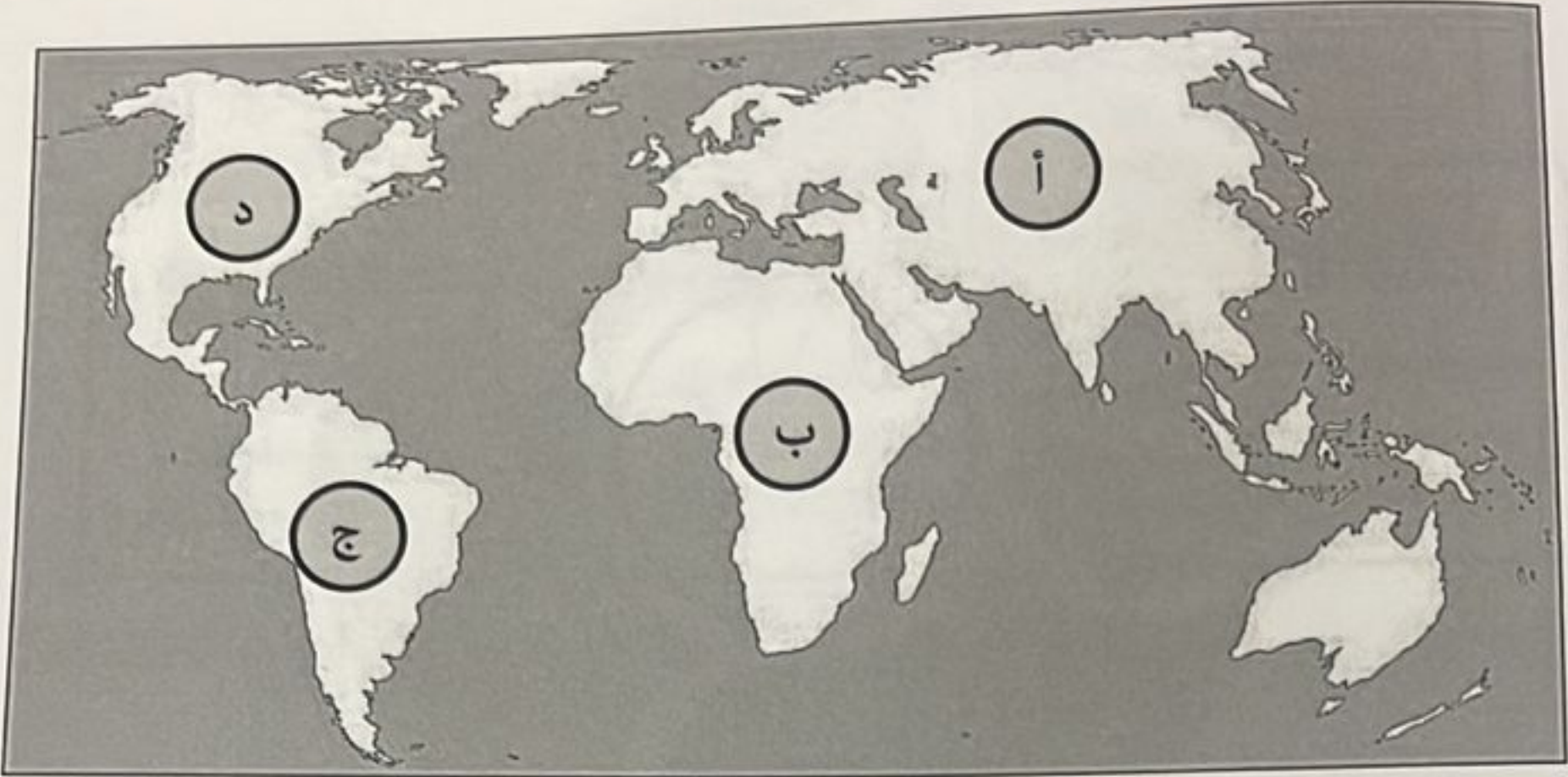
٢. تنوع ثروات المحيط الهندي وشدة الطلب عليها في العصور التاريخية.

٣. حركة التيارات البحرية والرياح الموسمية على الملاحة البحرية العُمانية.



المادة: الدراسات الاجتماعية - الصف: التاسع - الفصل الدراسي الثاني - الدور الأول (الفترة الصباحية) - العام الدراسي ٢٠٢٤/٢٠٢٥ م  
تابع أولاً: الأسئلة الموضوعية:

١١- الرمز الصحيح للقارة التي يتركز فيها (٢٠%) من الطلب العالمي على الوقود والغاز في الخريطة التي أمامك:

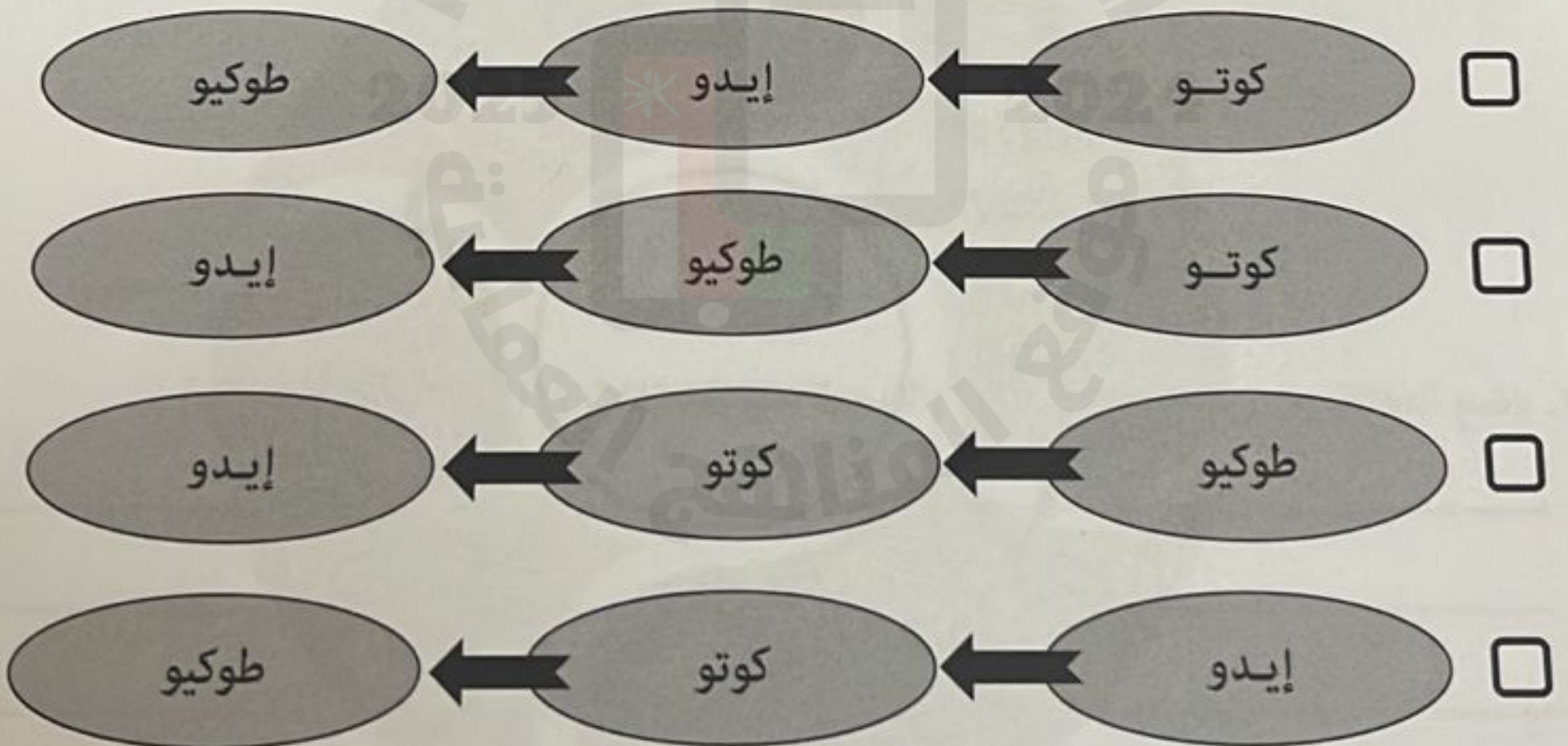

☐ د

☐ ج

☐ ب

☐ أ

١٢- التسلسل الصحيح لأسماء العواصم اليابانية بعد تسلم الإمبراطور هينو العرش:





تابع أولاً: الأسئلة الموضوعية:

٥- المعادلة الرياضية المستخدمة لحساب حجم الباحثين عن العمل في دولة ما:

- ☐ مجموع قوة العمل + مجموع العاملين فعلاً.
- ☐ مجموع قوة العمل - مجموع العاملين فعلاً.
- ☐ مجموع قوة العمل + مجموع العاملين فعلاً X ١٠٠.
- ☐ مجموع العاملين فعلاً - مجموع العاملين فعلاً X ١٠٠.

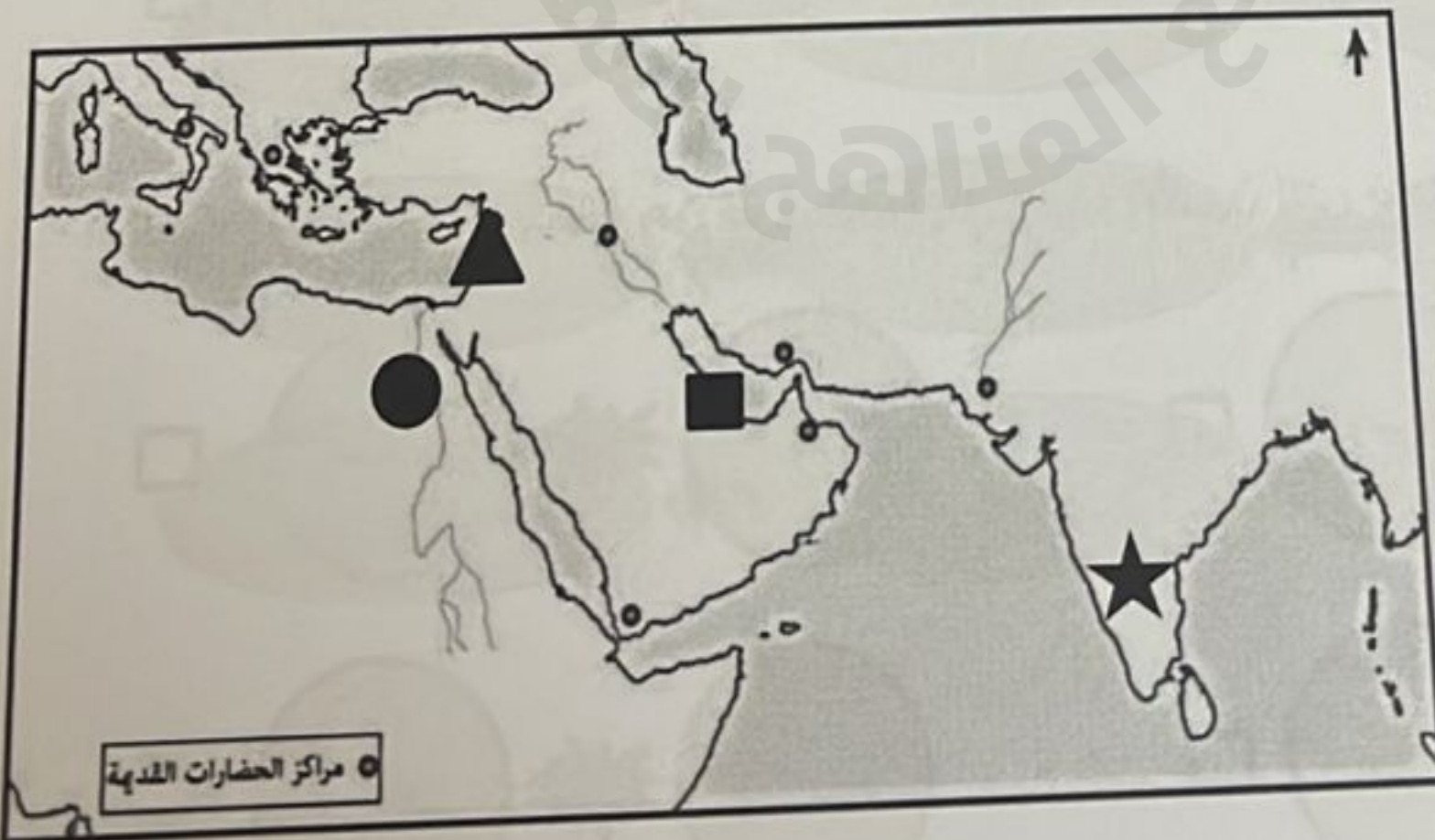
مستعيناً بالنص الآتي، أجب عن المفردتين (٦،٧):

"وقوع عُمان بين مناطق متباينة مناخياً وصلاحية الساحل العُماني لإقامة الموانئ ساعد على توجه العُمانيين نحو البحر والتجارة والملاحة، ويؤكد العديد من المؤرخين إلى علاقة عُمان مع الحضارات القديمة كحضارة بلاد الشام، كما كانت السواحل العُمانية بعيدة عن الصراعات والاضطرابات التي تحدث في غيرها من المناطق، وحرصت على تأمين الملاحة البحرية وحمايتها من القرصنة".

٦- العوامل التي أشار إليها النص وأدت إلى تطور الملاحة البحرية العُمانية:

- ☐ الطبيعية - التاريخية - السياسية.
- ☐ الطبيعية - التاريخية - الأمنية.
- ☐ التاريخية - الأمنية - السياسية.
- ☐ الطبيعية - السياسية - الأمنية.

٧- الرمز الذي يشير إلى الموقع الصحيح للحضارة التي تحتها خط في النص السابق:



- ☐ ☐ ☐ ☐
- ☐ ☐ ☐ ☐
- ☐ ☐ ☐ ☐
- ☐ ☐ ☐ ☐



أولاً: الأسئلة الموضوعية:  
ظل الشكل ( ) المقترون بالإجابة الصحيحة لكل مفردة من المفردات الآتية:

١- الدولة التي يقع فيها ميناء الزيتون:

☐ الصين

☐ الهند

☐ المغرب

☐ تونس

٢- قائل العبارة المقابلة عن عُمان:

☐ سقراط

☐ بطليموس

☐ أرسطو

☐ أفلاطون

"إن مجدها وشهرتها التي كانت مصدر  
فخرها إنما جاء عن طريق ما كانت تقوم به  
من نشاط بحري وملاحي وليس عن طريق  
النشاط البري".

٣- الصحراء التي تشكل القسم الأكبر من المناطق الشمالية للصين:

☐ تار

☐ اتكاما

☐ جوبي

☐ بتجونيا

٤- الشكل البياني الصحيح الذي يوضح العلاقة بين الزيادة السكانية والمستوى المعيشي في الدول النامية:

