

تم تحميل هذا الملف من موقع المناهج العُمانية



\*للحصول على أوراق عمل لجميع الصفوف وجميع المواد اضغط هنا

<https://almanahj.com/om>

\* للحصول على أوراق عمل لجميع مواد الصف التاسع اضغط هنا

<https://almanahj.com/om/9>

\* للحصول على جميع أوراق الصف التاسع في مادة اجتماعيات ولجميع الفصول, اضغط هنا

<https://almanahj.com/om/9social>

\* للحصول على أوراق عمل لجميع مواد الصف التاسع في مادة اجتماعيات الخاصة بـ الفصل الأول اضغط هنا

<https://almanahj.com/om/9social1>

\* لتحميل كتب جميع المواد في جميع الفصول للـ الصف التاسع اضغط هنا

<https://almanahj.com/om/grade9>

للتحدث إلى بوت على تلغرام: اضغط هنا

[https://t.me/omcourse\\_bot](https://t.me/omcourse_bot)



المديرية العامة للتربية والتعليم بمحافظة شمال الباطنة  
 قسم العلوم الإنسانية – وحدة الجغرافيا  
 امتحان تدريبي في مادة الدراسات الاجتماعية للصف التاسع  
 للعام الدراسي ٢٠١٩/٢٠٢٠م  
 الفصل الدراسي الأول

- زمن الامتحان: ساعة ونصف (● عدد صفحات أسئلة الامتحان) ٦ صفحات
- الإجابة في الدفتر نفسه.

		اسم الطالب
الصف		المدرسة

السؤال	الدرجة		التوقيع بالاسم	
	بالأرقام	بالحروف	المصحح الأول	المصحح الثاني
١				
٢				
٣				
٤				
٥				
المجموع			جمعه	مراجعة الجمع
المجموع الكلي				

## أجب عن جميع الأسئلة الآتية

السؤال الأول: ضع دائرة حول الحرف الدال على الإجابة الصحيحة:

١- يدرس سعيد في الصف الحادي عشر ويبلغ عمره ١٧ سنة، وفقاً للبنية العمرية للسكان يصنف سعيد في فئة :  
 أ) صغار السن      ب) الشباب      ج) كبار السن      د) الفئة المعالة

٢- المهنة التي عملت بها التجمعات الأفريقية التي قدمت من داخل القارة الأفريقية إلى زنجبار وبمبا في عهد السيد سعيد بن سلطان:

أ- التجارة      ب- الزراعة      ج- الصناعة      د- النقل

٣- المسطرة الزمنية التي تشير إلى التسلسل الصحيح للهجرات العربية إلى شرقي أفريقيا:



(ب)



(ا)



(د)



(ج)

٤- توضح الخريطة المقابلة حركة الرياح الموسمية على منطقة المحيط الهندي والتي مكنت العمانيين من القيام برحلاتهم التجارية في شهر:



أ) نوفمبر      ب) ابريل

ج) يونيو      د) يوليو

٥- تبلغ نسبة النوع للأسرة العمانية في الصورة المقابلة :



أ) ١٠٠-١٠٢ (ب) ١٠٠-١٠٣

ج) ١٠٠- ١٠٤ (د) ١٠٠- ١٠٥

٦- الخريطة الصحيحة لموقع الجزيرة الخضراء:

(د)

(ج)

(ب)

(أ)



٧- انضمت سلطنة عمان لمشروع شبكة المدارس المنتسبة لليونسكو في العام الميلادي:-

د) ١٩٩٨

ج) ١٩٧٢

ب) ١٩٧١

أ) ١٩٧٠

٨- الجهة التي قدمت لها السلطنة المساعدات للمتضررين من المد البحري الذي اعقبه تسونامي:

أ) شمال شرق آسيا (ب) شمال غرب آسيا (ج) جنوب شرق آسيا (د) جنوب غرب آسيا

٩- يعتبر من المصادر الثانوية للبيانات السكانية:

أ) سجلات المدارس (ب) التعداد سكاني (ج) الأحوال المدنية (د) المسوحات بالعينة

١٠- تختص منظمة (الفاو) التابعة للأمم المتحدة بـ :

أ- رعاية الطفولة ب- العمل الدولي ج- الأغذية والزراعة د- التربية والثقافة

١١- حسب تعداد السكان بالسلطنة عام ٢٠١٠ م بلغ عدد الذكور في محافظة الظاهرة (٨٧,٤٤) نسمة وبلغ عدد الإناث (٦٤,٢٢٠) نسمة ، بناءً على المعطيات السابقة تكون نسبة النوع في المحافظة:

أ) ١٢٠,٥ (ب) ١٣٠,١ (ج) ١٣٦,١ (د) ١٣٨,٤

١٢- توضح الصورة جانب من علاقات عمان بالعالم الإسلامي :



أ-السياسية

ب -الثقافية

ج-الاقتصادية

د-الاجتماعية

**السؤال الثاني :** أجب على الأسئلة التالية :

أولاً: استبدل العبارات الآتية بالاسم الدال عليها:

أ -تأسست في عهده المطبعة السلطانية في زنجبار(.....)

ب -يعد السلطة الفعلية لمنظمة الأمم المتحدة (.....)

ج -المنظمة الإسلامية للتربية والعلوم والثقافة (.....)

ثانياً: ادرس الشكل ثم أجب على الأسئلة الآتية:-

أ -ما البنية السكانية التي تمثلها البيانات في الشكل؟

.....

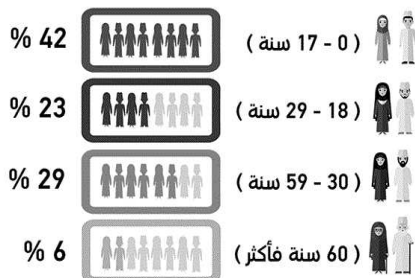
ب -ما الفئتان العمريتان اللتان زيادتهما ترفع نسبة

الإعالة في المجتمع؟

الفئة (.....) - الفئة (.....)

ولماذا؟

التوزيع النسبي للعُمانيين حتى منتصف 2017



ثالثاً:

أ) صنف السلع الآتية (الأخشاب، العاج، التوابل، العنبر) والتي جلبها التجار العمانيون إلى أسواقهم من حيث مصدرها:

المصدر	السلع
شرقي افريقيا	
الصين	

السؤال الثالث: أجب عن الأسئلة التالية:

أ) اعط مثالين لكل مما يأتي:

١- المسوحات التي تقوم بها المؤسسات الحكومية والأهلية في معرفة بعض الخصائص السكانية.

.....  
.....

٢- الوثائق الرسمية التي يتم إصدارها من سجل الأحوال المدنية.

.....  
.....

ب) تم افتراض عدد المواليد الأحياء في دولة ما ( 33.000 ) نسمة ، وكانت تقديرات السكان في العام نفسه نحو (3.188.888) نسمة.

.....  
.....

ثالثاً : أدرس الخريطة التي أمامك ثم أجب عن الأسئلة الآتية :




أ) استخراج من الخريطة دولة تنتسب الى رابطة الدول المطلة على المحيط الهندي.....

ب) اسم المحيط المشار إليه بالرقم (٢) .....

ج) اسم القارة المشار إليها بالرقم (٣) .....

ب) أنقل أرقام الحوادث التالية في أماكنها الصحيحة على المسطرة الزمنية التي أمامك:  
 ١- إعلان بريطانيا الحماية على زنجبار. ٢- إعلان اتحاد زنجبار مع تنجانيقا.  
 ٣- حصول زنجبار على استقلالها. ٤- وفاة السيد سعيد بن سلطان وانقسمت دولته بين اثنين من أبنائه.



السؤال الرابع: أجب عن الأسئلة التالية :

أ) علل ما يلي:

١) عدم توغل التجار والمهاجرين العرب في بداية هجراتهم لشرقي افريقيا للمناطق الداخلية.

.....  
 .....

٢) يعد الطريق الشمالي من أخطر طرق القوافل العربية في شرقي أفريقيا.

.....  
 .....

ب) وضح موقف سلطنة عمان من الاحتلال الإسرائيلي للأراضي الفلسطينية والعربية الأخرى.

.....  
 .....

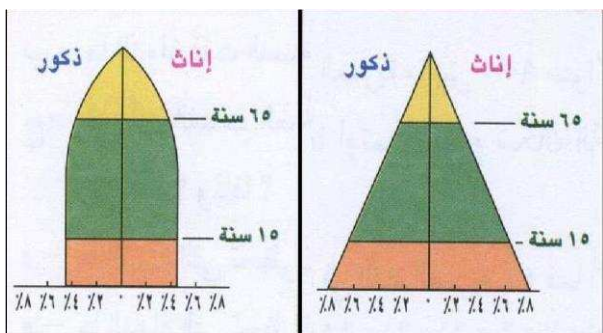
ج) صنف كل منظمة من المنظمات التابعة للأمم المتحدة، في الجدول الآتي حسب المجالات التي تختص بها:

(تعميم حماية الأمومة – العمل على رفع مستوى التغذية – نشر الثقافة العالمية)

م	المنظمة التابعة للأمم المتحدة	اختصاصها
1	اليونسكو	
2	العمل الدولية	
3	الفاو	

السؤال الخامس: -

أ) أمامك أشكال توضح بعض أنواع الأهرام السكانية، ادرسها جيداً ثم أجب عن الأسئلة التي تليها :



١- أكتب نوع الهرم السكاني أسفل الشكل.

٢- ما المتغيرات المؤثرة في شكل الهرم السكاني.

.....  
.....

.....(٢) .....(١).....

ب) ظلل الوصف الصحيح لمرحلة الانتقال السكاني في الجدول الآتي :

المرحلة الأولى	<input type="checkbox"/>	ارتفاع معدلات المواليد الوفيات
	<input type="checkbox"/>	انخفاض معدلات المواليد الوفيات
المرحلة الثالثة	<input type="checkbox"/>	زيادة أعداد السكان في فئات الأعمار العليا
	<input type="checkbox"/>	انخفاض أعداد السكان في فئات الأعمار العليا
المرحلة الرابعة	<input type="checkbox"/>	ارتفاع أمد الحياة المتوقع
	<input type="checkbox"/>	انخفاض أمد الحياة المتوقع

انتهت الأسئلة مع الدعاء للجميع بالنجاح والتوفيق

إعداد: أستاذة سليمة الروشدية

أستاذة بدرية المزروعية



نموذج إجابة امتحان الصف التاسع  
للعام الدراسي ٢٠١٩/٢٠٢٠ م  
الفصل الدراسي الاول

المادة: الدراسات الاجتماعية الدرجة الكلية: ٤٠ درجة.  
تنبيه: نموذج الإجابة في ٦ صفحات.

أولاً: إجابة السؤال الموضوعي:

المفردة	البديل الصحيح	الإجابة	الدرجة	الصفحة
1	ب	الشباب	١	15
2	ب	الزراعة	١	58
3	أ		١	40
4	ا	نوفمبر	١	41
5	د	١٠٠-١٠٥	١	16
6	أ		١	49
7	د	١٩٩٨	١	83
8	ج	جنوب شرق اسيا	١	76
9	أ	سجلات المدارس	١	11

84	١	الأغذية والزراعة	ج	10
16	١	١٣٦,١	ج	11
73	١	السياسية	أ	12

الصفحة	الدرجة	الإجابة	المفردة
٥٦	١	برغش بن سعيد	أ
٨٦	١	مجلس الأمن	ب
٧٥	١	إيسيسكو	ج

## ثانياً:

الصفحة	الدرجة	الإجابة	المفردة
١٥	١	البنية العمرية	أ
١٥	١	كبار السن و صغار السن لأنها فئات غير منتجة/ لأنها فئات غير قادرة على العمل/أو بما يفيد المعنى	ب

ثالثاً:

إجابة السؤال الثالث (٨ درجات)

الصفحة	الدرجة	الإجابة	المفردة
١٣	١ لكل مثال نصف درجة	مسح الخصوبة /مسح العمالة/مسح الباحثين عن عمل /التركيب النوعي	1
١٣	١ لكل مثال نصف درجة	شهادة الميلاد/شهادة الوفاة /عقد الزواج /وثيقة الطلاق	2

تابع السؤال الثالث

ثانياً:

الصفحة	الدرجة	الإجابة	المفردة
٢٨	١	معدل المواليد الخام = $\frac{10000 \times 33,000}{1000000}$ ٣,١٨٨,٨٨٨ = ١, لكل ألف	1

السؤال الثالث

ثالثاً:

الصفحة	الدرجة	الإجابة	المفردة								
٧٩	١ يكتفى بذكر مثال واحد	يذكر احدى الدول التالية : سلطنة عمان -موريشيوس - الهند - جنوب افريقيا - استراليا - سنغافورة -كينيا	1								
٨١	١	المحيط الهندي	2								
٨١	١	استراليا	3								
٦٢ ٦٣	٢ لكل جزئية نصف درجة	<table border="1" style="margin: auto;"> <tr> <td>١٨٥٦م</td> <td>١٨٩١م</td> <td>١٩٦٣م</td> <td>١٩٦٤م</td> </tr> <tr> <td>(٤)</td> <td>(١)</td> <td>(٢)</td> <td>(٣)</td> </tr> </table>	١٨٥٦م	١٨٩١م	١٩٦٣م	١٩٦٤م	(٤)	(١)	(٢)	(٣)	ب
١٨٥٦م	١٨٩١م	١٩٦٣م	١٩٦٤م								
(٤)	(١)	(٢)	(٣)								

الصفحة	الدرجة	الإجابة	المفردة
٤٠	١	بسبب قسوة المناخ والغابات الاستوائية والحيوانات المفترسة والجبال الشاهقة	أ
٥٢	١	بسبب تعرض القوافل التي ترتاده لهجمات قبائل الماساي	ب
٧٣	١	تدين استمرار احتلال إسرائيل للأراضي الفلسطينية والعربية وتدعو الى تحرير جميع الأراضي العربية المحتلة	ثانيا
٨٢	٣ لكل جزئية درجة واحدة	اختصاصها	م
٨٤		نشر الثقافة العالمية	١
٨٤		تعميم حماية الامومة	٢
٨٤		العمل على رفع مستوى التغذية	٣
		المنظمة التابعة للأمم المتحدة	
		اليونسكو	
		العمل الدولية	
		الفاو	
		ثالثا	

المفردة	الإجابة	الدرجة	الصفحة						
أ	<p>١- الهرم ذو القاعدة العريضة ٢- الهرم ذو القاعدة الضيقة</p>	٢ لكل جزئية درجة	٢٣						
ب	المواليد والوفيات والهجرة الداخلية والخارجية	١	٢٣						
ثانيا	<table border="1"> <tbody> <tr> <td>المرحلة الاولى</td> <td> <input checked="" type="checkbox"/> ارتفاع معدلات المواليد الوفيات  <input type="checkbox"/> انخفاض معدلات المواليد الوفيات                 </td> </tr> <tr> <td>المرحلة الثالثة</td> <td> <input checked="" type="checkbox"/> زيادة اعداد السكان في فئات الاعمار العليا  <input type="checkbox"/> انخفاض اعداد السكان في فئات الاعمار العليا                 </td> </tr> <tr> <td>المرحلة الرابعة</td> <td> <input checked="" type="checkbox"/> ارتفاع أمد الحياة المتوقع  <input type="checkbox"/> انخفاض أمد الحياة المتوقع                 </td> </tr> </tbody> </table>	المرحلة الاولى	<input checked="" type="checkbox"/> ارتفاع معدلات المواليد الوفيات <input type="checkbox"/> انخفاض معدلات المواليد الوفيات	المرحلة الثالثة	<input checked="" type="checkbox"/> زيادة اعداد السكان في فئات الاعمار العليا <input type="checkbox"/> انخفاض اعداد السكان في فئات الاعمار العليا	المرحلة الرابعة	<input checked="" type="checkbox"/> ارتفاع أمد الحياة المتوقع <input type="checkbox"/> انخفاض أمد الحياة المتوقع	٣ لكل جزئية درجة	٢٥- ٢٦
المرحلة الاولى	<input checked="" type="checkbox"/> ارتفاع معدلات المواليد الوفيات <input type="checkbox"/> انخفاض معدلات المواليد الوفيات								
المرحلة الثالثة	<input checked="" type="checkbox"/> زيادة اعداد السكان في فئات الاعمار العليا <input type="checkbox"/> انخفاض اعداد السكان في فئات الاعمار العليا								
المرحلة الرابعة	<input checked="" type="checkbox"/> ارتفاع أمد الحياة المتوقع <input type="checkbox"/> انخفاض أمد الحياة المتوقع								

انتهى نموذج الإجابة