

شكراً لتحميلك هذا الملف من موقع المناهج العمانية



مذكرة إثرائية مع نموذج الإجابة

[موقع المناهج](#) ⇨ [المناهج العمانية](#) ⇨ [الصف التاسع](#) ⇨ [رياضيات](#) ⇨ [الفصل الثاني](#) ⇨ [الملف](#)

تاريخ نشر الملف على موقع المناهج: 2023-02-16 04:59:15 | اسم المدرس: هيفاء بنت سلطان المحروقية

التواصل الاجتماعي بحسب الصف التاسع



روابط مواد الصف التاسع على تلغرام

[الرياضيات](#)

[اللغة الانجليزية](#)

[اللغة العربية](#)

[التربية الاسلامية](#)

المزيد من الملفات بحسب الصف التاسع والمادة رياضيات في الفصل الثاني


الاختبار النهائي الرسمي في محافظة شمال الباطنة	1
الاختبار النهائي الرسمي في محافظة الداخلية	2
الاختبار النهائي الرسمي لعدة محافظات	3
الاختبار النهائي الرسمي في محافظة جنوب الشرقية	4
نموذج إجابة الامتحان الرسمي النهائي لمحافظة جنوب الباطنة	5

هامي وإن طال المرى سأناله . . ما دام لي فوق السماء معين

مذكرتي

للفصل التاسع
الفصل الدراسي الثاني (مع نموذج الإجابة)

إعداد الأستاذة: هيفاء بنت سلطان المحروقية



مذكرتي

للفصل التاسع / الوحدة العاشرة

١ ارتفع سعر جهاز كهربائي من ٣٥٠ ريال عماني إلى ٣٨٠ ريال عماني.
ما النسبة المئوية للزيادة؟ (مقرباً النسبة لأقرب عدد كامل)

٢ ما قيمة العدد ٨٠ بعد زيادته بنسبة ١٥ ٪ ؟

١٢

٨٠

٩٢

٩٥

(ضع دائرة حول الإجابة الصحيحة)

٣ ضع علامة ✓ في المكان المناسب:

العبارة	صح	خطأ
١ النسبة ٣٤ : ١٧ في صورة (ن : ١) هي ٢ : ١		
٢ النسبة ١٠ : ١٠١ في صورة (١ : ن) هي ١ : ١١		

٤ اشترت فاطمة ثوباً بنسبة تخفيض ٣٠ ٪ حيث كان سعره الأصلي ٢٤ ريال عُماني.
ما سعر الثوب بعد التخفيض؟

٥ قيمة س في النسبة المتكافئة التالية:
س : ٤ = ٢١ : ٢٨ هي:

٢٨

٢١

٣

٢

(ضع دائرة حول الإجابة الصحيحة)



مذكرتي

للفصل التاسع/الوحدة العاشرة

١ اشترى علي أدوات رياضية بسعر ٧٤ ريال عُُماني ، حيث وجد أنها مخفضة بنسبة ٢٠٪ . ما السعر الأصلي للأدوات الرياضية؟

٢ نسبة ٨ لتر إلى ١٤ متر في أبسط صورة هي:

٧ : ٤

١٠ : ٤

٧ : ٢

١٤ : ٨

(ضع دائرة حول الإجابة الصحيحة)

٣ في أحد أصناف الحلويات الذي صنعتة سارة إذا كانت النسبة بين الزبدة و الشوكولاته هي ٨ : ٥ ، فإذا استخدمت سارة ٢٥ غراما من الزبدة. ما مقدار الشوكولاته الذي استخدمته؟

٤ الكسر ٩ : ١٨٠٠ في صورة ١ : ن هو:

١ : ٢٠٠

٢٠٠٠ : ١

٢٠٠ : ١

٢٠ : ١

(ضع دائرة حول الإجابة الصحيحة)

٥ صل كل عبارة بما يناسبها:

لا توجد علاقة

العلاقة بين السرعة والزمن

تناسب عكسي

العلاقة بين طول ضلع المربع ومساحته

تناسب طردي

١	استهلكت سيارة ٣٨ لترا من الوقود لتقطع ٤١٨ كم . كم لترا من الوقود ستستهلكه السيارة لتقطع مسافة ١٠٠ كم ؟
٢	واحدة فقط من الحالات التالية لا تمثل تناسب طردي: وزن الطلاب في أحد الصفوف وأعمارهم عدد اللترات المستهلكة لسيارة والمسافة المقطوعة طول قطر الدائرة ومساحتها حجم الإناء وعدد اللترات التي يستوعبها من السائل (ضع دائرة حول الإجابة الصحيحة)
٣	ثمن ٦ علب من الحلوى ٣٠ ريال عُماني . ما ثمن علبتين من الحلوى ؟
٤	جسر طوله الحقيقي ١٥ مترا . كم سيكون طوله بالسنتيمترات على خريطة مقياس رسمها ١ : ١٠٠٠ ؟ ١٥ سم ١,٥ سم ٠,١٥ سم ٠,٠١٥ سم (ضع دائرة حول الإجابة الصحيحة)
٥	انخفض سعر أثاث منزلي من ٨٠٠ ريال عُماني إلى ٦٥٠ ريال عُماني . ما النسبة المئوية للانخفاض ؟ ٤,٧٥ % ٩ % ١٨,٧٥ % ٢٣ % (ضع دائرة حول الإجابة الصحيحة)

١ صل كل مربع بفكه الصحيح:

$$س^2 - ٤س + ٤$$

$$(س + ٢)^2$$

$$س^2 + ٤س + ٤$$

$$(س - ٢)^2$$

$$س^2 - ٤س + ١$$

$$(س + ٢)(س + ١)$$

$$س^2 + ٤س + ١$$

٢ حلل العبارات الجبرية التالية إلى عوامل:

$$١[س ص + ٣س + ٩ص + ٢٧]$$

$$٢[٢ل - ٢ل م + ٣ل ط - م ط]$$

٣ تحليل العبارة الجبرية التالية : $ص^2 - ١٨ص + ٨١$ هو:

$$(ص + ٩)^2$$

$$(ص - ٩)^2$$

$$(ص + ٨١)^2$$

$$(ص - ٨١)^2$$

(ضع دائرة حول الإجابة الصحيحة)

٤ ضع علامة ✓ في المكان المناسب:

خطأ	صح	العبارة	
		$س^2 + ٤س + ٥ = (س - ٥)(س + ١)$	١
		$س^2 - س - ٢ = (س - ٢)(س + ١)$	٢

١ حلل العبارات الجبرية التالية إلى عوامل:

[١] $٥س^٢ + ١٣س - ٦$

[٢] $٢س^٢ - ٣س - ٥$

٢ صل كل معادلة تربيعية بحلها الصحيح:

$$\frac{٣}{٢}, \frac{٣}{٢}$$

$$٩, ٤$$

$$٠, ٠, ٥, ٠$$

$$٣-, ١$$

$$٦س^٢ + ٣س = ٠$$

$$٤س^٢ - ٩ = ٠$$

$$٢س^٢ + ٣س - ٣ = ٠$$

٣ مستطيل مساحته ٢٤ سم^٢ و طوله يزيد عن عرضه بمقدار ٢. أوجد بُعديه.٤ تحليل العبارة الجبرية : $٩ص^٢ - ٦٤$ هو:

$$(٦٤ص - ٣)(٦٤ص + ٣)$$

$$(٩ص - ٨)(٩ص + ٨)$$

$$(٨ص - ٣)(٨ص + ٣)$$

$$(٨ص - ٣)(٨ص - ٣)$$

(ضع دائرة حول الإجابة الصحيحة)

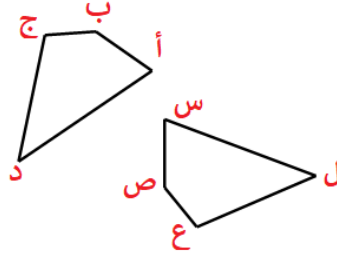
٦

مذكرتي

للصف التاسع / الوحدة ١٢

المضلعان الموضحان في الشكل المقابل متطابقين:

صِل ما يلي بما يناسبه



ص ع

ق (س)

ق (ع)

س ص

ج د

أ ب =

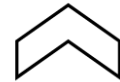
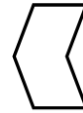
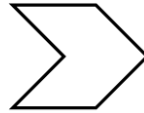
ع ل =

ق (أ) =

ق (ج) =

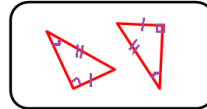
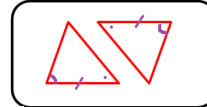
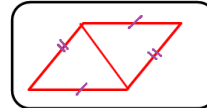
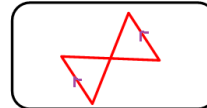


الشكل المطابق للشكل



(ضع دائرة حول الإجابة الصحيحة)

صِل كل حالة من حالات تطابق المثلثات بالشكل المناسب :

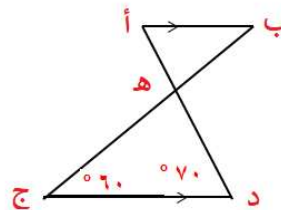


ض ض ض

ض ز ض

ز ض ز

في الشكل المقابل:



ق (أ) =


° ٦٠

° ٥٠

° ١٣٠

° ٧٠

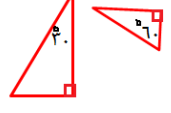
(ضع دائرة حول الإجابة الصحيحة)

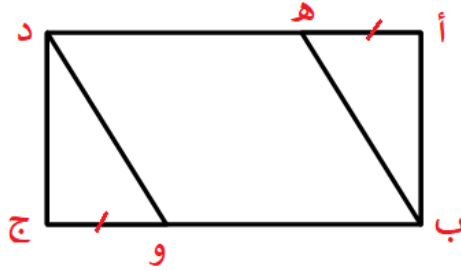


مذكرتي

للفصل التاسع / الوحدة ١٢

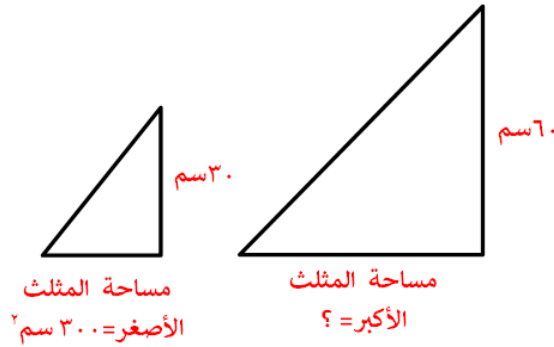
ضع علامة ✓ في المكان المناسب:

العبارة	صح	خطأ
١ يتشابه المثلثان إذا تطابقت أضلاعهما المتناظرة		
٢ المثلثان متشابهان 		



في الشكل المقابل:
أب ج د مستطيل . إذا كان أه = ج و
أثبت أن : $\Delta أب ه \cong \Delta ج د و$

إذا كان الشكلان التاليان متشابهين ، فما مساحة الشكل الأكبر؟



إذا علمت أن طول أحد الأضلاع في الشكل الأول هو (أ) وطول الضلع المناظر له في الشكل الثاني هو (ب):

صِل ما يلي:

$$\left(\frac{أ}{ب}\right)^3$$

$$\frac{أ}{ب^2}$$

$$\frac{أ}{ب}$$

$$\frac{أ^2}{ب^2}$$

معامل تشابه الأطوال

معامل تشابه المساحات

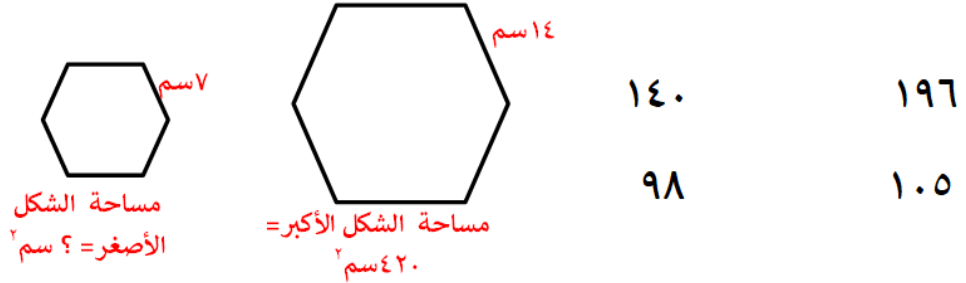
معامل تشابه الحجوم



مذكرتي

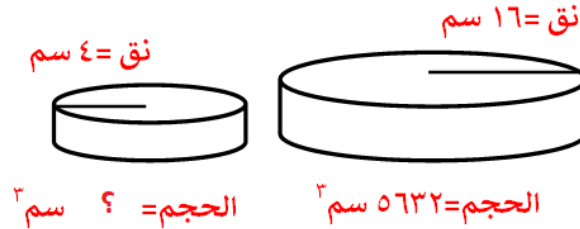
للفصل التاسع / الورقة ١٢

١ إذا كان الشكلان التاليان متشابهين ، فإن مساحة الشكل الأصغر =

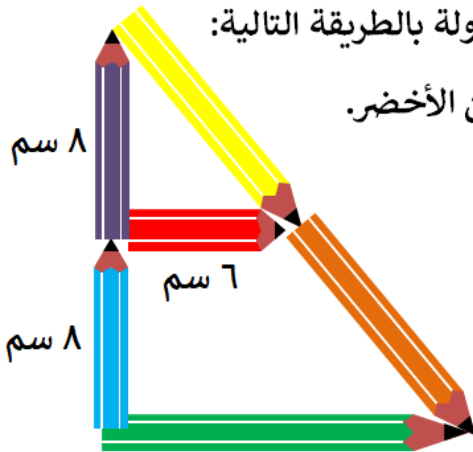


(ضع دائرة حول الإجابة الصحيحة)

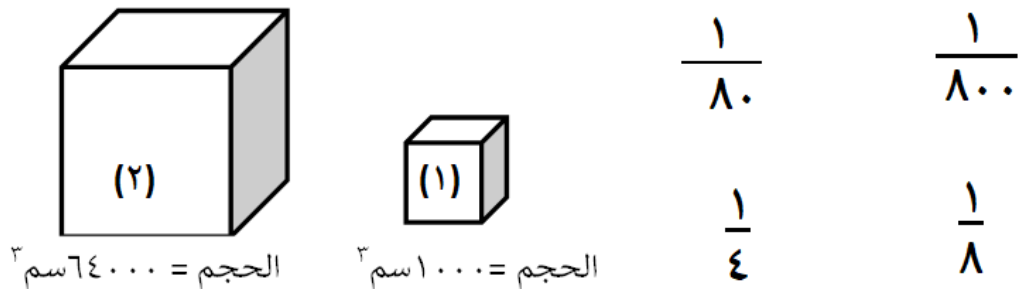
٢ صنعت جويرية قالبان من الكعك اسطوانيان متشابهان كما بالشكل. ما حجم القالب الأصغر؟



٣ استخدم عليّ أقلام التلوين الموجودة في حقيبته ورتبها على الطاولة بالطريقة التالية: فإذا كان القلم الأحمر والأخضر متوازيان فأوجد طول قلم التلوين الأخضر.



٤ إذا كان المجسمان التاليان متشابهين ، فإن معامل تشابه المجسم (١) إلى المجسم (٢) =



مذكرتي

٩

لصف التاسع / الوحدة ١٣

١ بدأ سالم بمذاكرة دروسه عند الساعة ٧:٣٠ م وانتهى عند الساعة ٩:١٠ م.
ما الزمن الذي استغرقه سالم في المذاكرة؟

٢ ضبط مروان التوقيت في سيارته بنظام ٢٤ ساعة ، فإذا خرج من منزله في الساعة ٥:١١ م ، ما الوقت الذي سيظهر في سيارته؟

١٩:١١ ١٨:١١ ١٧:١١ ٠٥:١١

(ضع دائرة حول الإجابة الصحيحة)

٣ الجدول التالي يوضح مواقيت الصلاة في إحدى ولايات السلطنة في أحد الأشهر:

		
الظهر	الشروق	الفجر
12:29 م	6:48 ص	5:31 ص
		
العشاء	المغرب	العصر
7:17 م	6:05 م	3:41 م

١] ما المدة المستغرقة من صلاة العصر لصلاة العشاء؟
٢] إذا وصل أحمد للمسجد قبل أذان المغرب عند الساعة ٥:٥١ م. ما المدة التي سينتظر فيها أحمد إلى أن يحين وقت الأذان؟

٤ أعدت فاطمة الغداء عند الساعة ١١:٢١ ص ، واستغرقت في إعدادة ٥٧ دقيقة.
متى انتهت فاطمة من إعداد الغداء؟

١٢:٢١ م ١٢:١٨ م ١٢:١٨ ص ١١:٥٧ ص

(ضع دائرة حول الإجابة الصحيحة)



مذكرتي

للفص التاسع/الوحدة ١٣

ضع علامة ✓ في المكان المناسب:

خطأ	صح	العبارة	
		الزمن المستغرق من الساعة ٣:١٠م إلى ٧:٠٥م هو ٤ ساعات و٥ دقائق.	١
		إذا كانت الساعة الآن ٨:١٨ ص فإنها بعد ٥٥ دقيقة ستكون ٩:١٣ ص.	٢

تسير سيارة بسرعة ١٢٠ كم/س . ما المسافة التي تقطعها السيارة في ساعة ونصف؟

١٨٠ كم ١٢٥ كم ٨٠ كم ٢٥٠,٠ كم

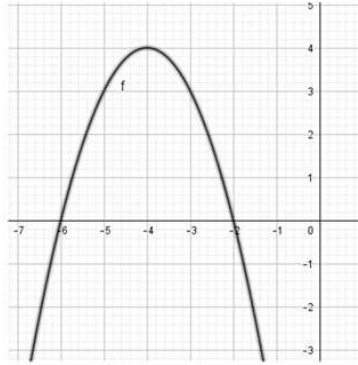
(ضع دائرة حول الإجابة الصحيحة)

خرج عمران من منزله إلى أحد المراكز التجارية الموجود في منطقة أخرى فاستغرق في الطريق ساعة و١٢ دقيقة، ثم تسوق لمدة ٤٩ دقيقة، وبعدها وصل لمحطة تعبئة الوقود بعد نصف ساعة من خروجه من المركز التجاري.
ما المدة التي استغرقها عمران حتى وصل لمحطة تعبئة الوقود مستخدماً الآلة الحاسبة؟

ينتج مصنع عصائر ٢٠٠٠ لتر من العصير في الساعة.
ما كمية العصير في ٤ ساعات؟

يمارس محمود رياضة المشي حيث يمشي ١٨ كم خلال ٣ ساعات.
فإن المعدل في أبسط صورة يكون:
١٨ كم/س ١٥ كم/س ١٢ كم/س ٦ كم/س

(ضع دائرة حول الإجابة الصحيحة)



في الشكل المقابل :
معادلة محور التماثل هي:

س = -٤ ص = -٤
س = ٠ ص = ٠

(ضع دائرة حول الإجابة الصحيحة)

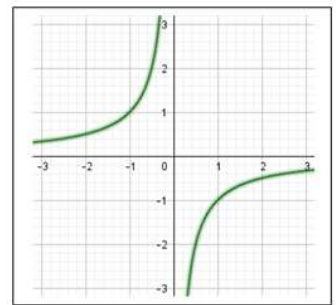
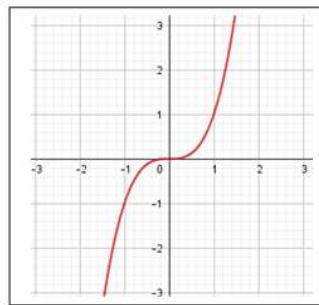
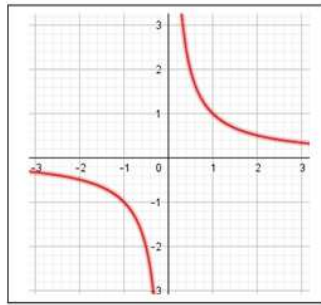
إذا كانت ص = س^٢ + س^٤ فأكمل الجدول التالي:

١	٠	١-	٢-	٣-	س
.....	٠	٣-	ص

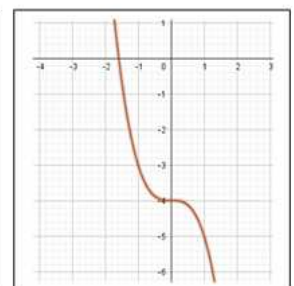
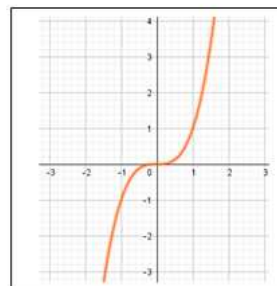
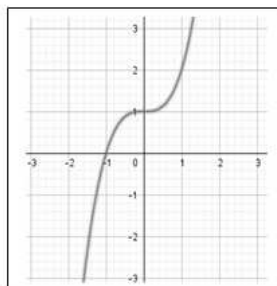
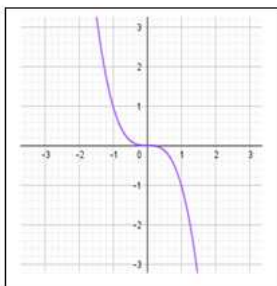
صِل كل دالة بالرسم البياني الدال عليها:

ص = $\frac{1}{s}$

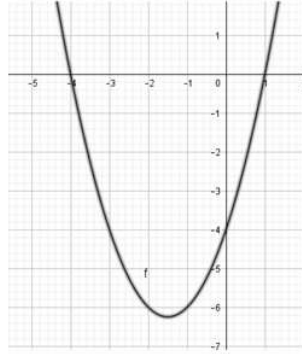
ص = $\frac{1}{s}$



الرسم البياني الذي يمثل الدالة : ص = س^٣ هو:



(ضع دائرة حول الإجابة الصحيحة)

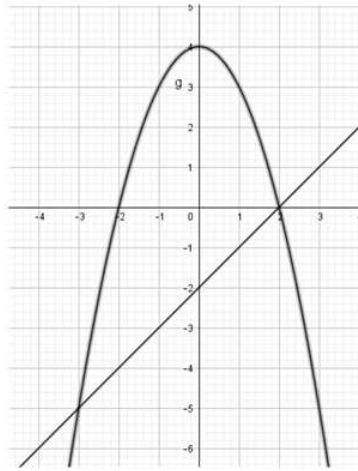


التمثيل البياني الموضح هو للدالة : $ص = س^2 + ٣س - ٤$

مستعينا بالشكل أوجد حل المعادلات التالية:

[١] $س^2 + ٣س - ٤ = ٠$

[٢] $س^2 + ٣س - ٤ = -٤$



في الشكل المقابل :

نقاط تقاطع المستقيم مع المنحنى هي:

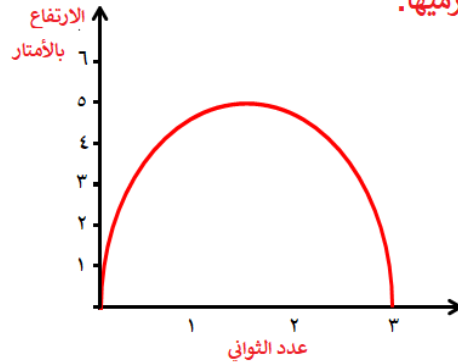
$(٠, ٢), (-٣, ٥)$

$(٢, ٠), (٥, ٣)$

$(٤, ٠), (٠, ٢)$

$(٢, ٢), (٣, ٤)$

(ضع دائرة حول الإجابة الصحيحة)



الشكل المقابل يمثل رسم تخطيطي لكرة تم رميها.

[١] ما أعلى ارتفاع لكرة؟

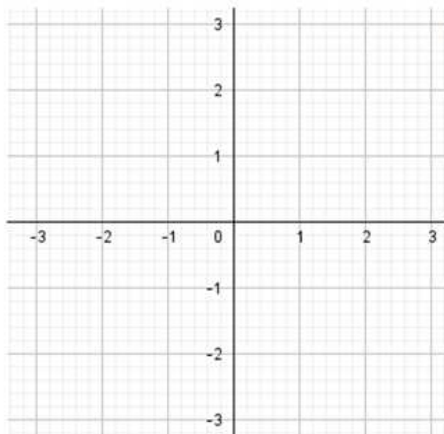
[٢] ما إشارة الدالة الموضحة في الشكل؟

[٣] كم ثانية بقيت الكرة في الهواء على

ارتفاع أعلى من ٣ متر؟

مستخدما البيانات الموضحة في الجدول أكمل رسم الدالة

$ص = س^2 + ٢س$



١	٠	١-	٢-	٣-	س
٣	٠	١-	٠	٣	ص

١ في المتتالية $(٥, ٢)^n$ عند أي عدد صحيح من قيم n ستتجاوز المتتالية العدد ١٠٠ ؟

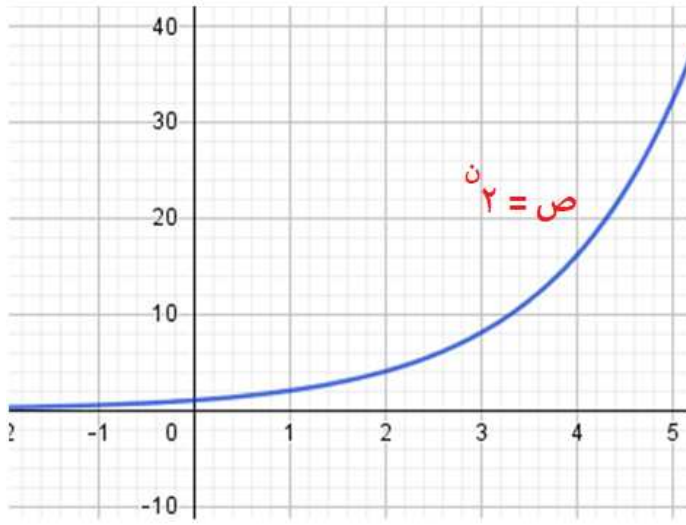
٥

٤

٣

٢

(ضع دائرة حول الإجابة الصحيحة)



٢ يبين التمثيل البياني التالي الزيادة في عدد البكتيريا خلال ٥ ساعات.

١[ما عدد البكتيريا بعد ساعتين؟

٢[ما الزمن الذي تستغرقه البكتيريا ليتجاوز عددها ٣٠؟

٣[إذا استمر نمو البكتيريا بنفس المعدل،

فمتى في رأيك سيتجاوز عددها الألف؟

٣ تتناقص قيمة هاتف نقال جديد بنسبة مئوية مقدارها ٢٠٪ في العام. إذا كان سعر الهاتف ٤٢٥ ريال عُُماني ، فكم سيبلغ سعره بعد ثلاث سنوات؟

٤ يتزايد سعر أرض سكنية بنسبة مئوية مقدارها ٣٪ كل عام. إذا كان سعر الأرض ١٥٠٠٠ ريال عُُماني ، فكم سيبلغ سعرها بعد خمس سنوات؟

١٢٨٨١ ريال عُُماني

٢٥٢١ ريال عُُماني

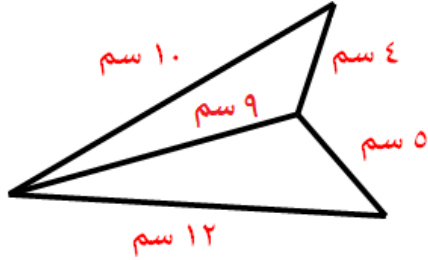
٥٥٦٩٣ ريال عُُماني

١٧٣٨٩ ريال عُُماني

(ضع دائرة حول الإجابة الصحيحة)

١

محيط الشكل الموضح =



٢٢ سم

٩ سم

٤٠ سم

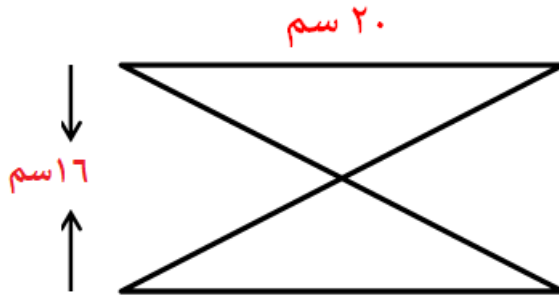
٣١ سم

(ضع دائرة حول الإجابة الصحيحة)

٢

ما مساحة الشكل الموضح ؟

(علما بأن المثلثين متطابقين)



٣

اشترى سعود كمة عُمانية طول قطر قاعدتها = ١٢ سم ،

فإن محيط قاعدة الكمة بدلالة π = $\pi ٢٤$ $\pi ١٤٤$ $\pi ٦$ $\pi ١٢$

(ضع دائرة حول الإجابة الصحيحة)

٤

اسطوانة حجمها $\pi ٣٠٠$ سم^٣ ، ما حجم المخروط الذي يشترك معها في الارتفاع والقاعدة؟ $\pi ٢٠٠$ $\pi ٣٠٠$ $\pi ١٠٠$ $\pi ١٥٠$

(ضع دائرة حول الإجابة الصحيحة)



مذكرتي

للفصل التاسع / الوحدة ١٦


١ ما محيط شكل عُشاري منتظم طول ضلعه $\frac{3}{2}$ ب ؟

١٥ ب ٣٠ ب ١٠ ب ١٠ ب

(ضع دائرة حول الإجابة الصحيحة)

٢ وضعت مريم ٣ قطع بسكويت دائرية الشكل في صحن مربع الشكل فكانت كما بالشكل:

أوجد مساحة المنطقة الفارغة (علما بأن قطر قطعة البسكويت = ٤ سم ، طول ضلع الصحن ٤ سم)



٣ صنعت عائشة قالب من البيتزا دائري الشكل طول قطره ١٨ سم وقسمته إلى ٦ قطع متساوية.




١ [ما مساحة القطعة الواحدة؟

٢ [ما محيط القطعة الواحدة؟

٤ لدى عُمَر حصالة معدنية اسطوانية الشكل كما بالشكل الموضح ، وضع بداخلها قطع نقدية من فئة ال ٥٠ بيسة.

فإذا وضع ٣٥ قطعة نقدية حجم كل واحدة منها ٠,٩٨ سم^٣.

ما حجم المنطقة الفارغة من الحصالة؟



١٠ سم

نق = ٥ سم

١ قامت سارة بصنع كرات من الصلصال قطرها ٨ سم. ما المساحة السطحية لكرة الصلصال الواحدة ؟

٥٠ سم^٢١٢,٥ سم^٢٨٠٤ سم^٢٢٠١ سم^٢

(ضع دائرة حول الإجابة الصحيحة)

ضع علامة ✓ في المكان المناسب:

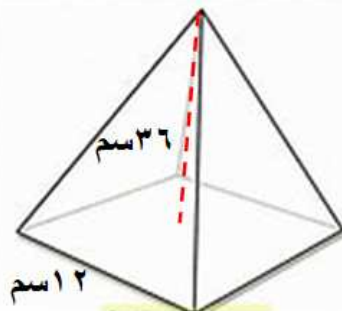
العبارة	صح	خطأ
١ حجم الكرة = $\frac{4}{3} \pi \text{ نق}^3$		
٢ المساحة السطحية للأسطوانة = $\pi \text{ نق}^2 \text{ ع}$		

٢



٣ اشترى زكريا بوظة على شكل مخروط ونصف كرة كما بالشكل. ما حجم البوظة إذا علمت أن نصف قطر قاعدة المخروط ٢ سم وارتفاعه العمودي ١٢ سم؟

٤ صمّم حسن مجسماً على شكل هرم قاعدته مربعة الشكل ، وارتفاعه العمودي ٣٦ سم كما هو موضح بالشكل . ما حجم الهرم؟

١٤٤ سم^٢٤٨ سم^٢١٧٢٨ سم^٢٧٥٦ سم^٢

(ضع دائرة حول الإجابة الصحيحة)

١	إذا علمت أن ١ دينار كويتي = ١,٢٧٠ ريال عُُماني . كم ريال عُُماني في ٧١ دينار كويتي؟
	١٣,٣٨٦ ٢١,٥٩٠ ٥٥,٩٠٥ ٩٠,١٧٠
	(ضع دائرة حول الإجابة الصحيحة)
٢	تتقاضى رقية ٦,٢٠٠ ريال عُُماني مقابل كل ثوب تخرطه. كم ريالاً عُُمانيًا تتقاضى مقابل خياطة ١١ ثوب؟
٣	استثمر سعيد مبلغ ٩٠٠ ريال عُُماني بمعدل فائدة بسيطة نسبتها ١٢٪ في السنة . ما مقدار الفائدة التي سيكسبها سعيد في ٤ سنوات؟
	٤٣٢ ريال عُُماني ٢٢٥ ريال عُُماني ٩٠ ريال عُُماني ٤٨ ريال عُُماني
	(ضع دائرة حول الإجابة الصحيحة)
٤	ما إجمالي قرض سكني قيمته ٥٠٠٠٠ ريال عُُماني بعد ١٢ سنة إذا كان معدل الفائدة المركبة ٣٪ سنوياً؟
	٣٤٦٩٢ ريال عُُماني ٧١٢٨٨ ريال عُُماني ٦٠٠٠٠٠ ريال عُُماني ١١٦٥٤٣٩ ريال عُُماني
	(ضع دائرة حول الإجابة الصحيحة)
٥	يعمل خالد في إحدى المراكز التجارية بمعدل ٧ ساعات في اليوم الواحد ولمدة ستة أيام في الأسبوع، حيث يتقاضى ٥,٥٠٠ ريال عُُماني للساعة الواحدة، فإذا عمل في إحدى الأيام ساعتين إضافيتين، فما إجمالي المبلغ الذي سيتقاضاه في ذلك اليوم؟
	١٠٠ ريال عُُماني ٤٩,٥٠٠ ريال عُُماني ٤٤ ريال عُُماني ٣٨,٥٠٠ ريال عُُماني
	(ضع دائرة حول الإجابة الصحيحة)

١	<p>يتقاضى سالم ٩٨,٩٧٥ ريال عُُماني مقابل عمل ٦ ساعات . كم ريالاً عُُمانياً يتقاضى في الساعة؟</p> <p>١٦,٤٩٦ ريال عُُماني ١٠٤,٩٧٥ ريال عُُماني</p> <p>١٤,٩٩٥ ريال عُُماني ٩٢,٩٧٥ ريال عُُماني</p> <p>(ضع دائرة حول الإجابة الصحيحة)</p>
٢	<p>إذا علمت أن ١ ريال عُُماني = ٢,١١ يورو .</p> <p>١] كم ريال عُُماني في ١٠٠ يورو؟ ٢] كم يورو في ٣٥٠٠ ريال عُُماني؟</p>
٣	<p>استثمر عمار سلعة بمبلغ ٨٥٠ ريال عُُماني ، وباعها بمبلغ ١١٠٠ ريال عُُماني . ما النسبة المئوية للربح؟</p> <p>١٢,٩٪ ٢٣٪ ٢٥٪ ٢٩٪</p> <p>(ضع دائرة حول الإجابة الصحيحة)</p>
٤	<p>استثمر سلطان مبلغ ٤٠٠ ريال عُُماني بمعدل فائدة بسيطة ٧٪ وأصبح المبلغ الإجمالي ٥٤٠ ريال عُُماني بعد مدة زمنية . ما المدة التي استثمر فيها سلطان المبلغ؟</p>
٥	<p>سافر أيوب إلى أستراليا مُبتعثاً من سلطنة عمان وكان سعر الصرف ١ ريال عُُماني = ٣,٦٢ دولار أسترالي ، فإذا أراد أيوب صرف ١٥٠٠ ريال عُُماني فإنه بالدولار الأسترالي =</p> <p>٤١٤,٣٦٤ ريال عُُماني ٤٨٩٠ ريال عُُماني</p> <p>٤٦٠,٣٦٤ ريال عُُماني ٥٤٣٠ ريال عُُماني</p> <p>(ضع دائرة حول الإجابة الصحيحة)</p>

١

استثمر محمود مبلغ ٢٠٠٠ ريال عُُماني بمعدل فائدة مركبة نسبتها ٧٪ سنوياً .
ما قيمة المبلغ الإجمالي بعد ٤ سنوات ؟

٢

ضع علامة ✓ في المكان المناسب :

خطأ	صح	العبارة	
		الخسارة = سعر التكلفة - سعر البيع	١
		إذا كانت قيمة الشراء ٣٢٠ ريال عُُماني ، وقيمة البيع ٢٨٠ ريال عُُماني فإن النسبة المئوية للخسارة = ١٤,٣ ٪	٢

٣

اشترى ابراهيم أجهزة كهربائية بمبلغ ١٢٠٠ ريال عُُماني، وقام ببيعها
بخسارة ٨ ٪ من سعر الأجهزة. ما سعر البيع ؟

٩٦ ريال عُُماني ١١٠٤ ريال عُُماني
١٢٠٨ ريال عُُماني ١٢٩٦ ريال عُُماني

(ضع دائرة حول الإجابة الصحيحة)

٤

باع راشد سلعة بمبلغ ١٠٥ ريال عُُماني. إذا كان قد حقق ربحاً نسبته ٢٠ ٪
ما سعر تكلفة السلعة ؟

٨٧,٥٠٠ ريال عُُماني ٢٢٥ ريال عُُماني
١٠٥٠ ريال عُُماني ٧٨٥٠ ريال عُُماني

٥

اشترت جمانة حقيبة يد من إحدى المراكز التجارية في فترة التنازلات بقيمة
١٨,٩٥٠ ريال عُُماني بنسبة تخفيض ٢٥ ٪ .
ما قيمة الحقيبة قبل التخفيض ؟

٧٥,٨٠٠ ريال عُُماني ٢٥,٢٦٧ ريال عُُماني
٦,٣١٧ ريال عُُماني ٤ ريال عُُماني

(ضع دائرة حول الإجابة الصحيحة)



مذكرتي

للصف التاسع / الوهرة ١٧

١	<p>خلال موسم التنزيلات قدم أحد محلات الملابس خصما على سلعة مقداره ٢٠٪ سعرها الأصلي ٣٨ ريال عُُماني. ما سعر البيع في موسم التنزيلات؟</p> <table><tr><td>٢٢,٨٠٠ ريال عُُماني</td><td>٧,٦٠٠ ريال عُُماني</td></tr><tr><td>٣٨ ريال عُُماني</td><td>٣٠,٤٠٠ ريال عُُماني</td></tr></table> <p>(ضع دائرة حول الإجابة الصحيحة)</p>	٢٢,٨٠٠ ريال عُُماني	٧,٦٠٠ ريال عُُماني	٣٨ ريال عُُماني	٣٠,٤٠٠ ريال عُُماني
٢٢,٨٠٠ ريال عُُماني	٧,٦٠٠ ريال عُُماني				
٣٨ ريال عُُماني	٣٠,٤٠٠ ريال عُُماني				
٢	<p>اشترى تاجر بيع الأثاث ١٨٠ كرسي من نفس النوع بقيمة ٤٨٦٠ ريال عُُماني ، وكان سعر البيع ٣٢ ريال عُُماني للكرسي الواحد. ما النسبة المئوية للربح أو الخسارة؟</p>				
٣	<p>اشترى ناصر سيارة سعرها ٨٠٠٠ ريال عُُماني، دفع مقدما ١٥٪ من سعرها، وتم احتساب فائدة سنوية نسبتها ١٠٪ على المبلغ المستحق لفترة السداد ، بحيث يتم التقسيط بدفع ١٢ قسطا متساويا في السنة. ما قيمة القسط الواحد؟</p>				
٤	<p>اشترى حمزة أثاثا لمنزله بقيمة ٣٧٨٥ ريال عُُماني ، حيث دفع ٣٠٪ من سعرها مقدّمًا ، وقسّط الباقي بمعدل فائدة نسبتها ٢٥٪ فإن المبلغ المقدم الذي دفعه حمزة هو:</p> <table><tr><td>٢٧٥ ريال عُُماني</td><td>٩٤٦,٢٥٠ ريال عُُماني</td></tr><tr><td>١١٣٥,٥٠٠ ريال عُُماني</td><td>٢٦٤٩,٥٠٠ ريال عُُماني</td></tr></table> <p>(ضع دائرة حول الإجابة الصحيحة)</p>	٢٧٥ ريال عُُماني	٩٤٦,٢٥٠ ريال عُُماني	١١٣٥,٥٠٠ ريال عُُماني	٢٦٤٩,٥٠٠ ريال عُُماني
٢٧٥ ريال عُُماني	٩٤٦,٢٥٠ ريال عُُماني				
١١٣٥,٥٠٠ ريال عُُماني	٢٦٤٩,٥٠٠ ريال عُُماني				

إعداد: أ. هيفاء المحروقية

غونج

الإجابة

مذكرتي

للفصل التاسع / الوحدة العاشرة

١

١ ارتفع سعر جهاز كهربائي من ٣٥٠ ريال عماني إلى ٣٨٠ ريال عماني.
ما النسبة المئوية للزيادة؟ (مقرباً النسبة لأقرب عدد كامل)

$$٣٨٠ - ٣٥٠ = ٣٠ \text{ ريال عُماني}$$

$$\text{النسبة المئوية للزيادة} = \frac{\text{مقدار الزيادة}}{\text{السعر الأصلي}} \times ١٠٠ \%$$

$$= \frac{٣٠}{٣٥٠} \times ١٠٠ \% = ٩ \%$$

٢ ما قيمة العدد ٨٠ بعد زيادته بنسبة ١٥ % ؟

٩٥

٩٢

٨٠

١٢

٣ ضع علامة ✓ في المكان المناسب:

	العبارة	صح	خطأ
١	النسبة ١٧:٣٤ في صورة (ن : ١) هي ١ : ٢	✓	
٢	النسبة ١٠:١٠٠ في صورة (١ : ن) هي ١١ : ١		✓

٤ اشترت فاطمة ثوباً بنسبة تخفيض ٣٠ % حيث كان سعره الأصلي ٢٤ ريال عُماني.
ما سعر الثوب بعد التخفيض؟

$$\text{مقدار التخفيض} = \frac{٣٠}{١٠٠} \times ٢٤ = ٧,٢٠٠ \text{ ريال عُماني}$$

$$\text{سعر الثوب بعد التخفيض} = ٧,٢٠٠ - ٢٤ = ١٦,٨٠٠ \text{ ريال عُماني}$$

٥ قيمة س في النسبة المتكافئة التالية:

$$\text{س : ٤} = ٢٨ : ٢١ \text{ هي}$$

٢٨

٢١

٣

٢



مذكرتي

للفصل التاسع / الوحدة العاشرة

١	<p>اشترى علي أدوات رياضية بسعر ٧٤ ريال عُُماني ، حيث وجد أنها مخفضة بنسبة ٢٠٪ . ما السعر الأصلي للأدوات الرياضية؟</p> <p>نفرض أن سعر السلعة الأصلي هو س</p> $\text{س} - ٢٠\% \text{ س} = ٧٤$ $\frac{١٠٠}{١٠٠} \text{ س} - \frac{٢٠}{١٠٠} \text{ س} = ٧٤$ $\frac{٨٠}{١٠٠} \text{ س} = ٧٤$ $\text{س} = \frac{٧٤ \times ١٠٠}{٨٠} = ٩٢,٥٠٠ \text{ ريال عماني}$
٢	<p>نسبة ٨ لتر إلى ١٤ متر في أبسط صورة هي:</p> <p>١٤ : ٨ ٧ : ٢ ١٠ : ٤ ٧ : ٤</p>
٣	<p>في أحد أصناف الحلويات الذي صنعته سارة إذا كانت النسبة بين الزبدة و الشوكولاته هي ٨ : ٥ ، فإذا استخدمت سارة ٢٥ غراما من الزبدة. ما مقدار الشوكولاته الذي استخدمته؟</p> <p>نفرض أن مقدار الشوكولاته س غرام</p> <p>الزبدة : الشوكولاته = ٨ : ٥ = ٢٥ : س</p> $\frac{٢٥}{٨} = \frac{٥}{\text{س}}$ $\text{س} = \frac{٢٥ \times ٨}{٥} = ٤٠ \text{ غم}$
٤	<p>الكسر ٩ : ١٨٠٠ في صورة ١ : ن هو:</p> <p>١ : ٢٠٠ ٢٠٠٠ : ١ ٢٠٠ : ١ ٢٠٠ : ١</p>
٥	<p>صِل كل عبارة بما يناسبها:</p> <div><div>لا توجد علاقة</div><div>تناسب عكسي</div><div>تناسب طردي</div></div> <div><div>العلاقة بين السرعة والزمن</div><div>العلاقة بين طول ضلع المربع ومساحته</div></div>

١ استهلكت سيارة ٣٨ لترا من الوقود لتقطع ٤١٨ كم .
كم لترا من الوقود ستستهلكه السيارة لتقطع مسافة ١٠٠ كم ؟

$$\frac{س}{١٠٠} = \frac{٣٨}{٤١٨}$$

$$س = \frac{١٠٠ \times ٣٨}{٤١٨} = ٩ \text{ لتر}$$

٢ واحدة فقط من الحالات التالية لا تمثل تناسب طردي:

وزن الطلاب في أحد الصفوف وأعمارهم

٣ ثمن ٦ علب من الحلوى ٣٠ ريال عُماني .
ما ثمن علبتين من الحلوى ؟

ثمن العلبة الواحدة = $٣٠ \div ٦ = ٥$ ريال
ثمن علبتين = $٥ \times ٢ = ١٠$ ريال

حل آخر:

$$\frac{٢}{س} = \frac{٦}{٣٠}$$

$$س = \frac{٢ \times ٣٠}{٦} = ١٠ \text{ ريال}$$

٤ جسر طوله الحقيقي ١٥ مترا . كم سيكون طوله بالسنتيمترات على خريطة مقياس رسمها ١ : ١٠٠٠ ؟

١٥ سم

١,٥ سم

٠,١٥ سم

٠,٠١٥ سم

$$س = \frac{١٥ \times ١}{١٠٠٠} = ٠,٠١٥ \text{ متر}$$

$$١,٥ = ١٠٠ \times ٠,٠١٥ =$$

مقياس الرسم = $\frac{\text{الطول على الخريطة}}{\text{الطول الفعلي}}$

$$\frac{س}{١٥} = \frac{١}{١٠٠٠}$$

٥ انخفض سعر أثاث منزلي من ٨٠٠ ريال عُماني إلى ٦٥٠ ريال عُماني .
ما النسبة المئوية للانخفاض ؟

$$\frac{\text{مقدار الانخفاض}}{\text{السعر الأصلي}} = \frac{٨٠٠ - ٦٥٠}{٨٠٠} \times ١٠٠\%$$

$$= ١٨,٧٥\%$$

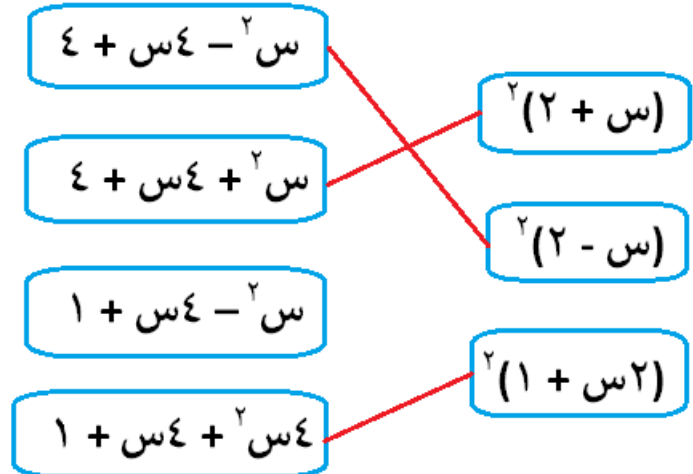
٢٣%

١٨,٧٥%

٩%

٤,٧٥%

١ صل كل مربع بفكه الصحيح:



٢ حلل العبارات الجبرية التالية إلى عوامل:

$$١] \text{س ص} + ٣ \text{س} + ٩ \text{ص} + ٢٧$$

$$= \text{س} (٣ + \text{ص}) + ٩ (٣ + \text{ص}) = (٣ + \text{ص}) (٣ + ٩ \text{س})$$

$$٢] ٦ \text{ل} - ٢ \text{م} + ٣ \text{ل ط} - \text{م ط}$$

$$= ٢ \text{ل} (٣ - \text{م}) + \text{ط} (٣ - \text{م}) = (٣ - \text{م}) (٢ \text{ل} + \text{ط})$$

٣ تحليل العبارة الجبرية التالية : ص² - ١٨ ص + ٨١ هو:

$$(٩ + \text{ص})^٢$$

$$(٩ - \text{ص})^٢$$

$$(٨١ + \text{ص})^٢$$

$$(٨١ - \text{ص})^٢$$

٤ ضع علامة ✓ في المكان المناسب:

خطأ	صح	العبارة	
✓		$\text{س}^٢ + ٤ \text{س} + ٥ = (\text{س} + ١)(٥ - \text{س})$	١
	✓	$\text{س}^٢ - \text{س} - ٢ = (\text{س} + ١)(٢ - \text{س})$	٢



مذكرتي

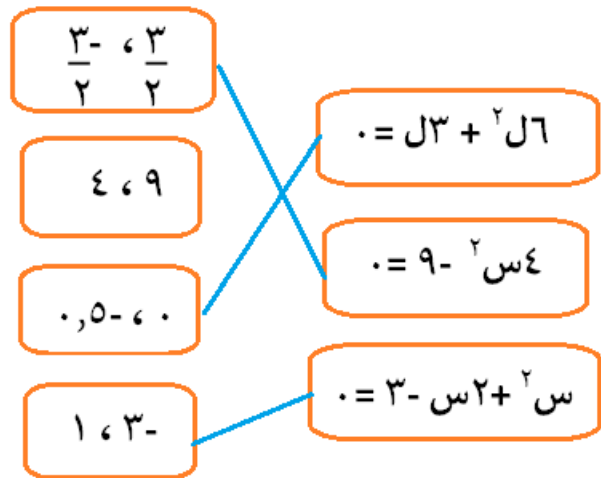
للاصف التاسع / الوحدة ١١

١ حلل العبارات الجبرية التالية إلى عوامل:

$$[١] ٥س^٢ + ١٣س - ٦ = (٥س - ٢)(٣ + س)$$

$$[٢] ٢س^٢ - ٣س - ٥ = (٢س - ٥)(١ + س)$$

٢ صِل كل معادلة تربيعية بحلها الصحيح:



٣ مستطيل مساحته ٢٤ سم^٢ و طوله يزيد عن عرضه بمقدار ٢. أوجد بُعديه.

$$\begin{aligned} ٠ &= (٦ + ض)(٤ - ض) \\ \text{إما } ٠ &= ٦ + ض \quad \text{أو} \quad ٠ = ٤ - ض \\ ض &= ٤ \text{ سم} \quad \text{أو} \quad ض = -٦ \\ \text{مرفوض (لأنه لا يوجد طول إشارته سالبة)} \\ \therefore ل &= ٢ + ٤ = ٦ \text{ سم} \\ \therefore \text{البُعدان هما: } ٦ \text{ سم, } ٤ \text{ سم} \end{aligned}$$

$$\begin{aligned} \text{نفرض أن طول المستطيل } ل \text{ وعرضه } ض \\ ل + ض = ٦ \\ \text{مساحة المستطيل} = \text{الطول} \times \text{العرض} \\ ٢٤ = ل \times ض \\ ل = ٢٤ / ض \\ ٢٤ = ض \times (٦ + ض) \\ ٢٤ = ٦ض + ض^٢ \\ ٠ = ٢٤ - ٦ض - ض^٢ \end{aligned}$$

٤ تحليل العبارة الجبرية : ٩ص^٢ - ٦٤ هو:

$$(٦٤ - ٣ص)(٦٤ + ٣ص)$$

$$(٨ - ٣ص)(٨ + ٣ص)$$

$$(٨ - ٣ص)(٨ + ٣ص)$$

$$(٨ - ٣ص)(٨ + ٣ص)$$

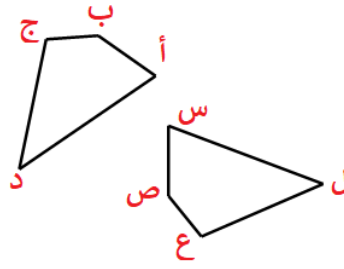
٦

مذكرتي

للصف التاسع / الوحدة ١٢

المضلعان الموضحان في الشكل المقابل متطابقين:

صِل ما يلي بما يناسبه

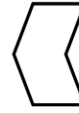
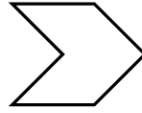


ص ع		أب =
ق (س)		ع ل =
ق (ع)		ق (أ) =
س ص		ق (ل) =
ج د		

١



الشكل المطابق للشكل



(ضع دائرة حول الإجابة الصحيحة)

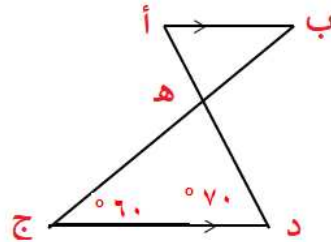
٢

صِل كل حالة من حالات تطابق المثلثات بالشكل المناسب :

		ض ض ض
		ض ز ض
		ز ض ز

٣

في الشكل المقابل:




° ٦٠

° ١٣٠

ق (أ) = ° ٥٠

° ٧٠

٤

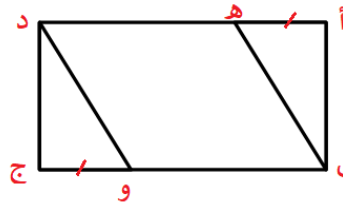
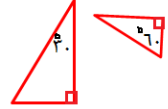


مذكرتي

للفصل التاسع / الوحدة ١٢

ضع علامة ✓ في المكان المناسب:

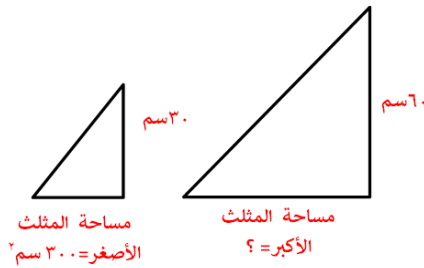
العبارة	صح	خطأ
١ يتشابه المثلثان إذا تطابقت أضلاعهما المتناظرة		✓
٢ المثلثان متشابهان	✓	



في الشكل المقابل:
أب ج د مستطيل . إذا كان أه = ج و
أثبت أن : $\Delta أ ب ه \cong \Delta ج د و$

- ∴ أب ج د مستطيل
∴ ق(أ) = ق(ج) = 90° (من خواص المستطيل جميع زواياه قوائم) (١)
أب = ج د (من خواص المستطيل كل ضلعين متقابلين متطابقين) (٢)
∴ أه = ج و معطى (٣)
من ١، ٢، ٣
∴ $\Delta أ ب ه \cong \Delta ج د و$ (ض ز ض)

إذا كان الشكلان التاليان متشابهين ، فما مساحة الشكل الأكبر؟



$$\frac{س}{٣٠٠} = \left(\frac{٦٠}{٣٠}\right)^2$$

$$\frac{س}{٣٠٠} = ٢(٢)$$

$$س = ١٢٠٠ = ٣٠٠ \times ٤$$

إذا علمت أن طول أحد الأضلاع في الشكل الأول هو (أ) وطول الضلع المناظر له في الشكل الثاني هو (ب):

صِل ما يلي:

$$\left(\frac{أ}{ب}\right)^3$$

$$\frac{أ}{ب}$$

$$\frac{أ}{ب}$$

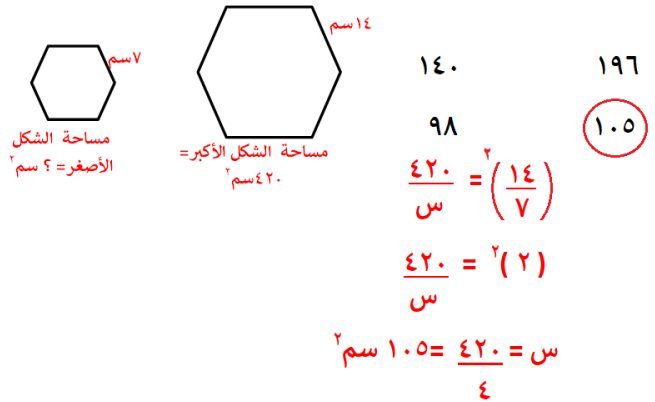
$$\frac{أ^3}{ب^3}$$

معامل تشابه الأطوال

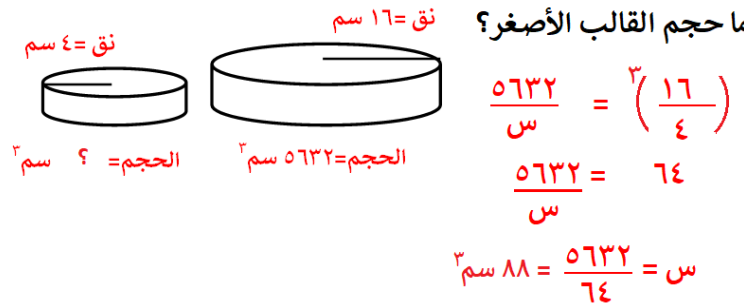
معامل تشابه المساحات

معامل تشابه الحجوم

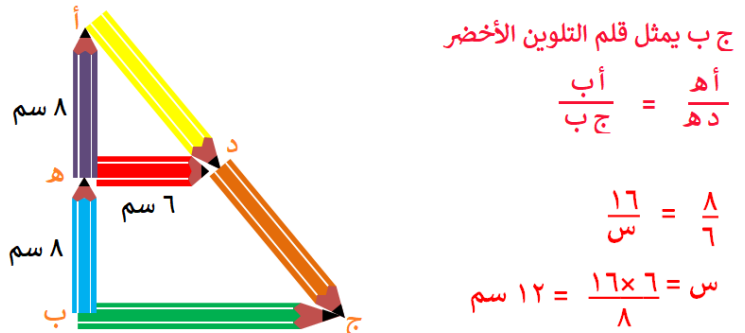
إذا كان الشكلان التاليان متشابهين ، فإن مساحة الشكل الأصغر =



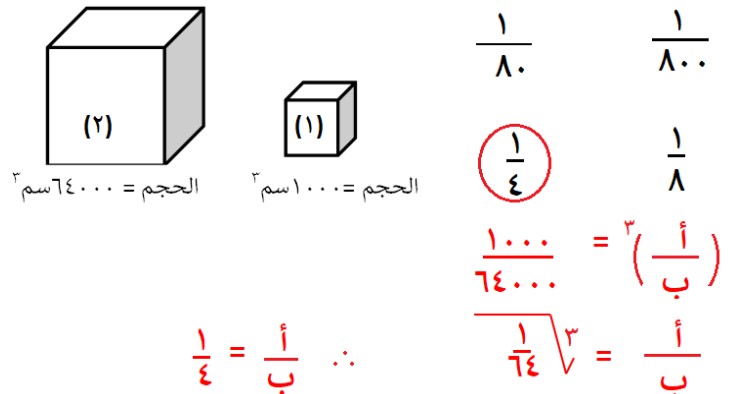
صنعت جويرية قالبان من الكعك اسطوانيان متشابهان كما بالشكل.
ما حجم القالب الأصغر؟



استخدم علي أقلام التلوين الموجودة في حقيبته ورتّبها على الطاولة بالطريقة التالية:
فإذا كان القلم الأحمر والأخضر متوازيان فأوجد طول قلم التلوين الأخضر.



إذا كان المجسمان التاليان متشابهين ، فإن معامل تشابه المجسم (١) إلى المجسم (٢) =



١ بدأ سالم بمذاكرة دروسه عند الساعة ٧:٣٠ م وانتهى عند الساعة ٩:١٠ م.
ما الزمن الذي استغرقه سالم في المذاكرة؟

$$\begin{array}{r} 8:70 \\ 7:30 \\ \hline 1:40 \end{array} \quad \leftarrow \quad \begin{array}{r} 8:70 \\ 9:10 \\ 7:30 \\ \hline \end{array}$$

الزمن الذي استغرقه سالم هو ساعة و ٤٠ دقيقة

٢ ضبط مروان التوقيت في سيارته بنظام ٢٤ ساعة ، فإذا خرج من منزله في الساعة ٥:١١ م ، ما الوقت الذي سيظهر في سيارته؟

١٩:١١

١٨:١١

١٧:١١

٠٥:١١

٦:٧٧

٣:٤١

٣:٣٦

٦:٧٧

٣:٤١

٥:٦٥

٥:٥١

٠:١٤

٥:٦٥

٥:٥١

سينتظر ١٤ دقيقة

٤ أعدت فاطمة الغداء عند الساعة ١١:٢١ ص ، واستغرقت في إعدادها ٥٧ دقيقة.
متى انتهت فاطمة من إعداد الغداء؟

١٢:٢١ م

١٢:١٨ م

١٢:١٨ ص

١١:٥٧ ص

١٨+ دقيقة

٣٩+ دقيقة

١٢:١٨ م

١٢:٠٠ م

١١:٢١ ص



مذكرتي

للفصل التاسع / الوحدة ١٣

ضع علامة ✓ في المكان المناسب:

خطأ	صح	العبارة	
✓		الزمن المستغرق من الساعة ٣:١٠ م إلى ٧:٠٥ م هو ٤ ساعات و ٥٥ دقائق.	١
	✓	إذا كانت الساعة الآن ٨:١٨ ص فإنها بعد ٥٥ دقيقة ستكون ٩:١٣ ص.	٢

تسير سيارة بسرعة ١٢٠ كم/س . ما المسافة التي تقطعها السيارة في ساعة ونصف؟

٠,٢٥ كم

٨٠ كم

١٢٥ كم

١٨٠ كم

السرعة = $\frac{ع}{ف}$
ن

$\frac{ف}{ن} = ١٢٠$
١,٥

$\therefore ف = ١,٥ \times ١٢٠ = ١٨٠$ كم

$$1 \text{ } \boxed{\text{000}} \text{ } 12 \text{ } \boxed{\text{000}} + 0 \text{ } \boxed{\text{000}} \text{ } 49 \text{ } \boxed{\text{000}} + 0 \text{ } \boxed{\text{000}} \text{ } 30 \text{ } \boxed{\text{000}} = 2^{\circ} 31' 0''$$

استغرق ساعتين و ٣١ دقيقة

ينتج مصنع عصائر ٢٠٠٠ لتر من العصير في الساعة.
ما كمية العصير في ٤ ساعات؟

كمية العصير في ٤ ساعات = $٢٠٠٠ \times ٤ = ٨٠٠٠$ لتر

يمارس محمود رياضة المشي حيث يمشي ١٨ كم خلال ٣ ساعات.
فإن المعدل في أبسط صورة يكون:

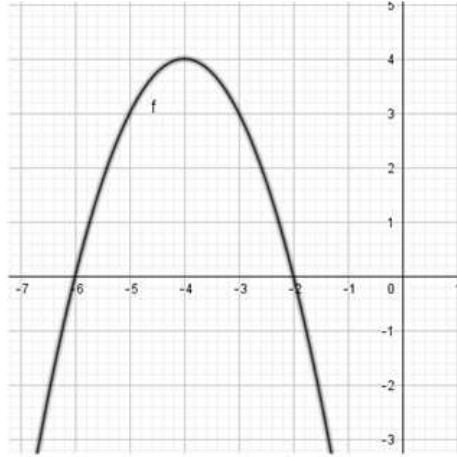
٦ كم/س

١٢ كم/س

١٥ كم/س

١٨ كم/س

المعدل = $\frac{١٨}{٣} = ٦$ كم/س



في الشكل المقابل :
معادلة محور التماثل هي:

$$x = -4$$

$$y = 0$$

$$x = -4$$

$$y = 0$$

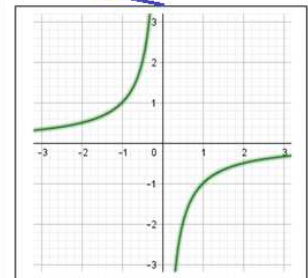
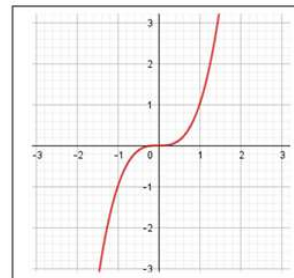
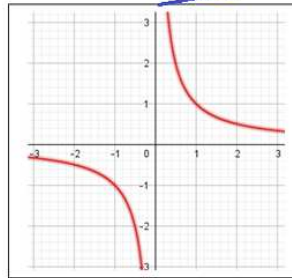
إذا كانت $x = 2$ و $y = 5$ فأكمل الجدول التالي:

١	٠	١-	٢-	٣-	س
٥	٠	٣-	٤-	٣-	ص

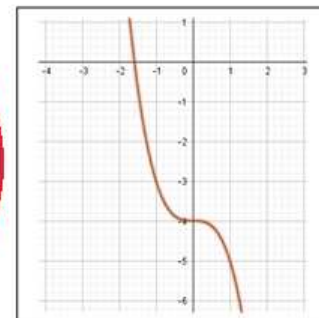
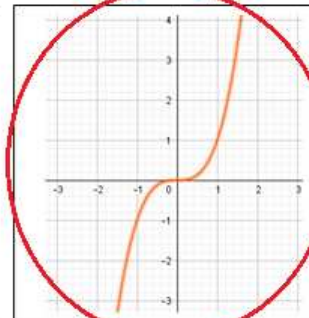
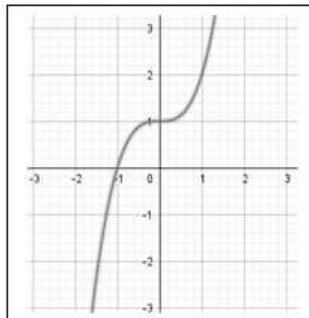
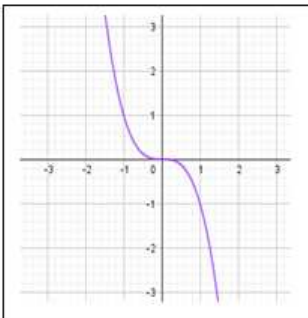
صِل كل دالة بالرسم البياني الدال عليها:

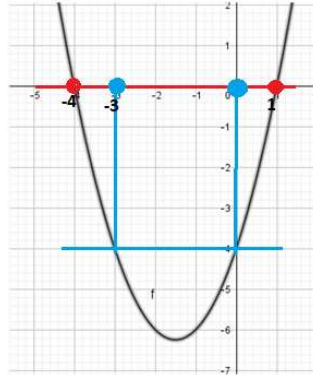
$$x = \frac{1}{y}$$

$$y = \frac{1}{x}$$



الرسم البياني الذي يمثل الدالة : $x = \frac{1}{y}$ هو:





التمثيل البياني الموضح هو للدالة : $v = s^2 + 3s - 4$
مستعينا بالشكل أوجد حل المعادلات التالية:

١] $s^2 + 3s - 4 = 0$

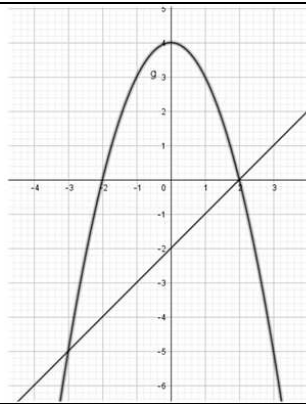
من خلال الخط الذي باللون الأحمر فإن

جذرا المعادلة هما: ١ ، -٤ وهما حل المعادلة

٢] $s^2 + 3s - 4 = -4$

من خلال الخط الذي باللون الأزرق فإن

جذرا المعادلة هما: ٠ ، -٣ وهما حل المعادلة



في الشكل المقابل :

نقاط تقاطع المستقيم مع المنحنى هي:

$(0, 2), (-5, 0)$

$(0, 0), (2, -3)$

$(0, 0), (4, -2)$

$(2, -2), (4, -3)$

الشكل المقابل يمثل رسم تخطيطي لكرة تم رميها.

١] ما أعلى ارتفاع لكرة ؟ ٥ متر

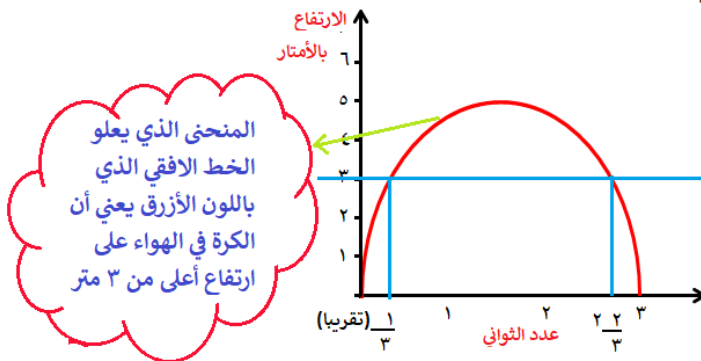
٢] ما إشارة الدالة الموضحة في الشكل ؟

سالبة؛ لأن المنحنى مفتوح لأسفل

٣] كم ثانية بقيت الكرة في الهواء على ارتفاع

أعلى من ٣ متر ؟ ٢ ثانية

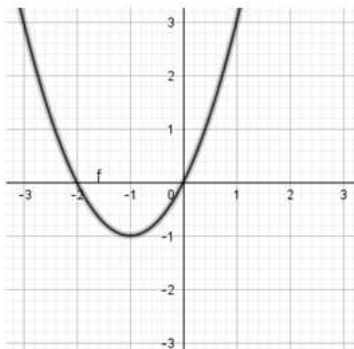
$2 = \frac{1}{3} - \frac{2}{3}$ ثانية



المنحنى الذي يعلو
الخط الأفقي الذي
باللون الأزرق يعني أن
الكرة في الهواء على
ارتفاع أعلى من ٣ متر

مستخدما البيانات الموضحة في الجدول أكمل رسم الدالة

$v = s^2 + 2s$



١	٠	١-	٢-	٣-	س
٣	٠	١-	٠	٣	ص

١ في المتتالية $(٥, ٢)^n$ عند أي عدد صحيح من قيم n ستتجاوز المتتالية العدد ١٠٠ ؟

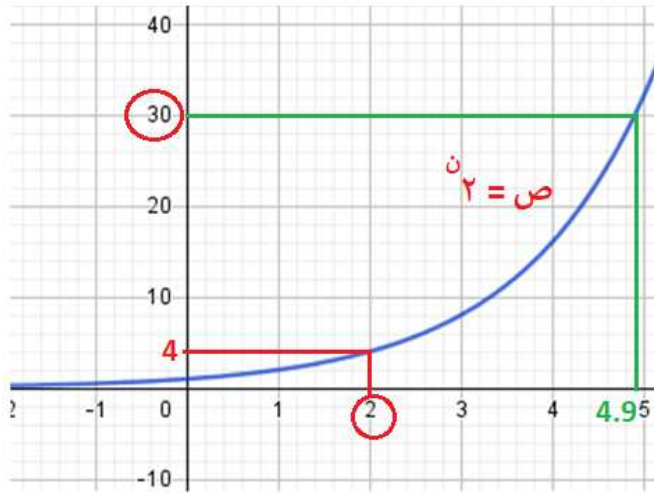
n	$(٥, ٢)^n$
١	٥, ٢
٢	٢٧, ٠٤
٣	١٤٠, ٦٠٨

٥

٤

٣

٢



يبين التمثيل البياني التالي الزيادة في عدد البكتيريا خلال ٥ ساعات.

١] ما عدد البكتيريا بعد ساعتين ؟ ٤

٢] ما الزمن الذي تستغرقه البكتيريا ليتجاوز عددها ٣٠ ؟ ٤, ٩ ساعات

٣] إذا استمر نمو البكتيريات بنفس المعدل، فمتى في رأيك سيتجاوز عددها الألف ؟

بعد ١٠ ساعات

٣ تتناقص قيمة هاتف نقال جديد بنسبة مئوية مقدارها ٢٠٪ في العام. إذا كان سعر الهاتف ٤٢٥ ريال عُُماني ، فكم سيبلغ سعره بعد ثلاث سنوات ؟

القيمة = $(١ - r)^n$

$$= ٤٢٥ \times (١ - ٠,٢)^٣$$

$$= ٢١٧,٦٠٠ \text{ ريال عُُماني} = ٤٢٥ \times (٠,٨)^٣$$

٤ يتزايد سعر أرض سكنية بنسبة مئوية مقدارها ٣٪ كل عام. إذا كان سعر الأرض ١٥٠٠٠ ريال عُُماني ، فكم سيبلغ سعرها بعد خمس سنوات ؟

١٢٨٨١ ريال عُُماني

٢٥٢١ ريال عُُماني

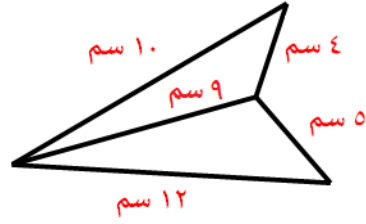
٥٥٦٩٣ ريال عُُماني

١٧٣٨٩ ريال عُُماني

القيمة = $(١ + r)^n$

$$= ١٥٠٠٠ \times (١ + ٠,٠٣)^٥$$

$$= ١٧٣٨٩ \text{ ريال عُُماني} = ١٥٠٠٠ \times (١,٠٣)^٥$$



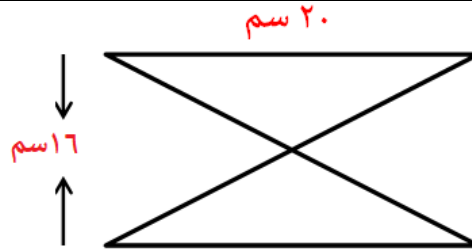
محيط الشكل الموضح =

٢٢ سم

٩ سم

٤٠ سم

٣١ سم



ما مساحة الشكل الموضح ؟
(علما بأن المثلثين متطابقين)

$$\text{ارتفاع المثلث الواحد} = \frac{16}{2} = 8 \text{ سم}$$

$$\text{مساحة الشكل} = 2 \times \text{مساحة المثلث}$$

$$= \frac{1}{2} \times 2 \times 8$$

$$= 8 \times 2$$

$$= 16 \times 2 = 32 \text{ سم}^2$$



اشترى سعود كعكة عُمانية طول قطر قاعدتها = ١٢ سم ،

فإن محيط قاعدة الكعكة بدلالة π = $\pi 24$ $\pi 144$ $\pi 6$ $\pi 12$ محيط قاعدة الكعكة = محيط الدائرة = 2π نق

$$= 2\pi \times 6 = 12\pi \text{ سم}$$





اسطوانة حجمها 300π سم^٣ ، ما حجم المخروط الذي يشترك معها في الارتفاع والقاعدة؟

 $\pi 200$ $\pi 300$ $\pi 100$ $\pi 150$ حجم الاسطوانة = π نق^٢ ع

$$\text{حجم المخروط} = \frac{1}{3} \pi \times \text{نق}^2 \times \text{ع}$$

أي أن حجم المخروط = ثلث حجم الاسطوانة

$$= \frac{1}{3} \times 300\pi = 100\pi \text{ سم}^3$$

	<p>١ ما محيط شكل عُشاري منتظم طول ضلعه $\frac{3}{2}$ ب ؟</p> <p>ب ١٥ ب ٣٠ ب ١٠ ب ١٠</p> <p>محيط الشكل العُشاري المنتظم = $10 \times \text{طول الضلع}$ $\frac{3}{2} \times 10 = 15$ ب</p>
<p>٢ وضعت مريم ٣ قطع بسكويت دائرية الشكل في صحن مربع الشكل فكانت كما بالشكل: أوجد مساحة المنطقة الفارغة (علما بأن قطر قطعة البسكويت = ٤ سم ، طول ضلع الصحن ١٤ سم)</p>  <p>مساحة المنطقة = مساحة المربع - مساحة الدوائر الثلاث الفارغة = طول الضلع \times نفسه - $3 \times \pi \text{ نق}^2$</p> <p>$14 \times 14 - 3 \times \pi (2)^2 =$ $196 - 37.7 =$ $158.3 \text{ سم}^2 =$</p>	<p>٣ صنعت عائشة قالب من البيتزا دائري الشكل طول قطره ١٨ سم وقسمته إلى ٦ قطع متساوية. [١] ما مساحة القطعة الواحدة؟</p> <p>المساحة = $\frac{\text{هـ}}{360} \times \pi \text{ نق}^2$</p> <p>$\frac{60}{360} \times \pi (9)^2 = 42.4 \text{ سم}^2$</p> <p>[٢] ما محيط القطعة الواحدة؟</p> <p>المحيط = $\frac{60}{360} \times 2 \times \pi \times 9 + 9 + 9 = 27.4 \text{ سم}$</p> <p>قياس زاوية قطاع قطعة البيتزا = $\frac{360}{6} = 60^\circ$</p>  
<p>٤ لدى عُمر حصالة معدنية اسطوانية الشكل كما بالشكل الموضح ، وضع بداخلها قطع نقدية من فئة ال ٥٠ بيسة. فإذا وضع ٣٥ قطعة نقدية حجم كل واحدة منها ٠,٩٨ سم^٣. ما حجم المنطقة الفارغة من الحصالة؟</p> <p>حجم المنطقة الفارغة = حجم الحصالة - حجم القطع النقدية = حجم الأسطوانة - $35 \times \text{حجم القطعة الواحدة}$</p> <p>$\pi \text{ نق}^2 \text{ ع} - 0.98 \times 35 =$ $\pi (5)^2 - 34.3 =$ $75.1 \text{ سم}^3 =$</p> 	

١ قامت سارة بصنع كرات من الصلصال قطرها ٨ سم. ما المساحة السطحية لكرة الصلصال الواحدة ؟

٥٠ سم^٢١٢,٥ سم^٢٨٠٤ سم^٢٢٠١ سم^٢مساحة سطح الكرة = $4\pi r^2$ نق^٢

$$= 4\pi (4)^2 = 201 \text{ سم}^2$$

ضع علامة ✓ في المكان المناسب:

العبارة	صح	خطأ
١ حجم الكرة = $\frac{4}{3}\pi r^3$ نق ^٣	✓	
٢ المساحة السطحية للأسطوانة = $2\pi r h$ نق ^٢ ع		✓



٣ اشترى زكريا بوظة على شكل مخروط ونصف كرة كما بالشكل. ما حجم البوظة إذا علمت أن نصف قطر قاعدة المخروط ١٢ سم وارتفاعه العمودي ١٢ سم؟

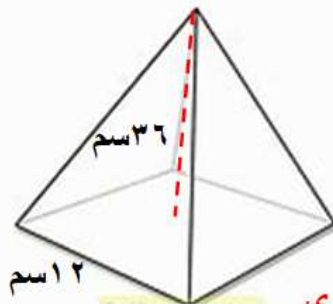
حجم البوظة = حجم المخروط + حجم نصف الكرة

$$= \frac{1}{3}\pi r^2 h + \frac{1}{2} \times \frac{4}{3}\pi r^3$$

$$= \frac{1}{3}\pi (12)^2 \times 12 + \frac{1}{2} \times \frac{4}{3}\pi (12)^3$$

$$= 50,3 + 16,8 = 67,1 \text{ سم}^3$$

٤ صمّم حسن مجسماً على شكل هرم قاعدته مربعة الشكل ، وارتفاعه العمودي ٣٦ سم كما هو موضح بالشكل . ما حجم الهرم؟

١٤٤ سم^٢٤٨ سم^٢١٧٢٨ سم^٣٧٥٦ سم^٣حجم الهرم = $\frac{1}{3} \times \text{مساحة القاعدة} \times \text{الارتفاع العمودي}$

$$= \frac{1}{3} \times (12)^2 \times 36 = 1728 \text{ سم}^3$$

١ إذا علمت أن ١ دينار كويتي = ١,٢٧٠ ريال عُُماني . كم ريال عُُماني في ٧١ دينار كويتي؟

٩٠,١٧٠

٥٥,٩٠٥

٢١,٥٩٠

١٣,٣٨٦

١ دينار كويتي = ١,٢٧٠ ريال عُُماني

٧١ دينار كويتي = س

$$\text{س} = \frac{١,٢٧٠ \times ٧١}{١} = ٩٠,١٧٠ \text{ ريال عُُماني}$$

٢ تتقاضى رقية ٦,٢٠٠ ريال عُُماني مقابل كل ثوب تخطيه.
كم ريالاً عُُمانياً تتقاضى مقابل خياطة ١١ ثوب؟

$$٦٨,٢٠٠ = ١١ \times ٦,٢٠٠ \text{ ريال عُُماني}$$

٣ استثمر سعيد مبلغ ٩٠٠ ريال عُُماني بمعدل فائدة بسيطة نسبته ١٢٪ في السنة .
ما مقدار الفائدة التي سيكسبها سعيد في ٤ سنوات؟

$$\text{ف} = \frac{\text{ر} \times \text{م} \times \text{ن}}{١٠٠}$$

$$٤٣٢ = \frac{٩٠٠ \times ١٢ \times ٤}{١٠٠} \text{ ريال عُُماني}$$

٢٢٥ ريال عُُماني

٤٣٢ ريال عُُماني

٤٨ ريال عُُماني

٩٠ ريال عُُماني

٤ ما إجمالي قرض سكني قيمته ٥٠٠٠٠ ريال عُُماني بعد ١٢ سنة إذا كان معدل الفائدة المركبة ٣٪ سنوياً؟

٧١٢٨٨ ريال عُُماني

٣٤٦٩٢ ريال عُُماني

١١٦٥٤٣٩ ريال عُُماني

٦٠٠٠٠٠ ريال عُُماني

$$\text{ج} = \text{ر} \left(١ + \frac{\text{م}}{١٠٠} \right)^{\text{ن}} = ٥٠٠٠٠ \times (١ + ٠,٠٣)^{١٢} = ٧١٢٨٨ \text{ ريال عُُماني}$$

٥ يعمل خالد في إحدى المراكز التجارية بمعدل ٧ ساعات في اليوم الواحد ولمدة ستة أيام في الاسبوع، حيث يتقاضى ٥,٥٠٠ ريال عُُماني للساعة الواحدة، فإذا عمل في إحدى الأيام ساعتين إضافيتين، فما إجمالي المبلغ الذي سيتقاضاه في ذلك اليوم؟

٤٩,٥٠٠ ريال عُُماني

١٠٠ ريال عُُماني

٣٨,٥٠٠ ريال عُُماني

٤٤ ريال عُُماني

٩ = ٧ + الساعتين الإضافيتين

$$\text{إجمالي المبلغ} = ٩ \times ٥,٥٠٠ = ٤٩,٥٠٠ \text{ ريال عُُماني}$$

	<p>١ يتقاضى سالم ٩٨,٩٧٥ ريال عُُماني مقابل عمل ٦ ساعات . كم ريالاً عُُماني يتقاضى في الساعة؟</p> <p>١٦,٤٩٦ ريال عُُماني</p> <p>١٤,٩٩٥ ريال عُُماني</p> <p>٩٢,٩٧٥ ريال عُُماني</p> <p>١٠٤,٩٧٥ ريال عُُماني</p> <p>المبلغ الذي يتقاضاه سالم في الساعة = $\frac{٩٨,٩٧٥}{٦} = ١٦,٤٩٦$ ريال عُُماني</p>
<p>٢ إذا علمت أن ١ ريال عُُماني = ٢,١١ يورو .</p> <p>١ كم ريال عُُماني في ١٠٠ يورو؟</p> <p>٢ [كم يورو في ٣٥٠٠ ريال عُُماني؟</p> <p>١ ريال عُُماني = ٢,١١ يورو</p> <p>س = ١٠٠ يورو</p> <p>س = $\frac{١٠٠ \times ١}{٢,١١}$</p> <p>٤٧,٣٩٣ ريال عُُماني =</p> <p>١ ريال عُُماني = ٢,١١ يورو</p> <p>٣٥٠٠ ريال عُُماني = س يورو</p> <p>س = $\frac{٢,١١ \times ٣٥٠٠}{١}$</p> <p>٧٣٨٥ يورو =</p>	<p>٣ استثمر عمار سلعة بمبلغ ٨٥٠ ريال عُُماني ، وباعها بمبلغ ١١٠٠ ريال عُُماني . ما النسبة المئوية للربح؟</p> <p>١٢,٩% ٢٣% ٢٥% ٢٩%</p> <p>الربح = $١١٠٠ - ٨٥٠ = ٢٥٠$ ريال عُُماني</p> <p>النسبة المئوية للربح = $\frac{٢٥٠}{٨٥٠} \times ١٠٠ = ٢٩\%$</p>
<p>٤ استثمر سلطان مبلغ ٤٠٠ ريال عُُماني بمعدل فائدة بسيطة ٧% وأصبح المبلغ الإجمالي ٥٤٠ ريال عُُماني بعد مدة زمنية . ما المدة التي استثمر فيها سلطان المبلغ؟</p> <p>الفائدة = المبلغ الإجمالي - المبلغ الأصلي</p> <p>$٥٤٠ - ٤٠٠ = ١٤٠$ ريال عُُماني</p> <p>الفائدة = $\frac{١٤٠}{١٠٠} \times ٤٠٠$</p> <p>$١٤٠ = \frac{٤٠٠ \times ٧ \times ن}{١٠٠}$ ← $١٤٠ = ٢٨ ن$ ∴ ن = ٥ سنوات</p>	<p>سافر أيوب إلى أستراليا مُبتعثاً من سلطنة عمان وكان سعر الصرف ١ ريال عُُماني = ٣,٦٢ دولار أسترالي ، فإذا أراد أيوب صرف ١٥٠٠ ريال عُُماني فإنه بالدولار الأسترالي =</p> <p>٤١٤,٣٦٤ ريال عُُماني</p> <p>٤٦٠,٣٦٤ ريال عُُماني</p> <p>٤٨٩٠ ريال عُُماني</p> <p>٥٤٣٠ ريال عُُماني</p> <p>١ ريال عُُماني = ٣,٦٢ دولار أسترالي</p> <p>١٥٠٠ ريال عُُماني = س دولار أسترالي</p> <p>س = $\frac{٣,٦٢ \times ١٥٠٠}{١} = ٥٤٣٠$ ريال عُُماني</p>

١ استثمر محمود مبلغ ٢٠٠٠ ريال عُـمـاني بمعدل فائدة مركبة نسبتهـا ٧٪ سنوياً .
ما قيمة المبلغ الإجمالي بعد ٤ سنوات ؟

$$\text{جـ} = \left(1 + \frac{7}{100} \right)^4 \times 2000$$

$$= 2621,092 \text{ ريال عُـمـاني}$$

ضع علامة ✓ في المكان المناسب :

العبارة	صح	خطأ
١ الخسارة = سعر التكلفة - سعر البيع	✓	
٢ إذا كانت قيمة الشراء ٣٢٠ ريال عُـمـاني ، وقيمة البيع ٢٨٠ ريال عُـمـاني فإن النسبة المئوية للخسارة = ١٤,٣٪		✓

الخسارة = التكلفة - البيع

$$= 280 - 320 = -40 \text{ ريال عُـمـاني}$$

$$\text{نسبة الخسارة} = \frac{-40}{320} \times 100 = -12,5\%$$

٣ اشترى ابراهيم أجهزة كهربائية بمبلغ ١٢٠٠ ريال عُـمـاني، وقام ببيعها
بخسارة ٨٪ من سعر الأجهزة. ما سعر البيع ؟

$$96 \text{ ريال عُـمـاني} \quad 1104 \text{ ريال عُـمـاني}$$

$$1208 \text{ ريال عُـمـاني} \quad 1296 \text{ ريال عُـمـاني}$$

$$\begin{aligned} \text{سعر البيع} &= \text{سعر التكلفة} - \text{الخسارة} \\ 96 &= 1200 - \text{الخسارة} \\ \text{الخسارة} &= 1200 \times 8\% = 96 \\ \text{سعر البيع} &= 1200 - 96 = 1104 \text{ ريال عُـمـاني} \end{aligned}$$

٤ باع راشد سلعة بمبلغ ١٠٥ ريال عُـمـاني. إذا كان قد حقق ربحاً نسبته ٢٠٪
ما سعر تكلفة السلعة ؟

$$87,500 \text{ ريال عُـمـاني} \quad 225 \text{ ريال عُـمـاني}$$

$$1050 \text{ ريال عُـمـاني} \quad 7850 \text{ ريال عُـمـاني}$$

$$\text{سعر التكلفة} + \text{الربح} = \text{سعر البيع}$$

$$\text{سعر البيع} = 120\% \text{ من سعر التكلفة}$$

$$105 = \frac{120}{100} \times \text{سعر التكلفة}$$

$$\text{سعر التكلفة} = \frac{105}{120} \times 100 = 87,500 \text{ ريال عُـمـاني}$$

٥ اشترت جمانة حقيبة يد من إحدى المراكز التجارية في فترة التزييلات بقيمة
١٨,٩٥٠ ريال عُـمـاني بنسبة تخفيض ٢٥٪ .

ما قيمة الحقيبة قبل التخفيض ؟

$$25,267 \text{ ريال عُـمـاني}$$

$$75,800 \text{ ريال عُـمـاني}$$

$$4 \text{ ريال عُـمـاني}$$

$$6,317 \text{ ريال عُـمـاني}$$

نفترض أن السعر قبل التخفيض هو س

$$س - 0,25 س = 18,950$$

$$0,75 س = 18,950$$

$$س = \frac{18,950}{0,75} = 25,267 \text{ ريال عُـمـاني}$$



مذكرتي

للصف التاسع / الوهرة ١٧

١	<p>خلال موسم التنزيلات قدم أحد محلات الملابس خصما على سلعة مقداره ٢٠٪ سعرها الأصلي ٣٨ ريال عُُماني. ما سعر البيع في موسم التنزيلات؟</p> <p>٧,٦٠٠ ريال عُُماني ٢٢,٨٠٠ ريال عُُماني</p> <p>٣٨ ريال عُُماني ٣٠,٤٠٠ ريال عُُماني</p> <p>الخصم = $\frac{20}{100} \times 38 = 7,600$ ريال عُُماني</p> <p>سعر البيع = السعر الأصلي - الخصم $38 - 7,600 = 30,400$ ريال عُُماني</p>
٢	<p>اشترى تاجر بيع الأثاث ١٨٠ كرسي من نفس النوع بقيمة ٤٨٦٠ ريال عُُماني ، وكان سعر البيع ٣٢ ريال عُُماني للكرسي الواحد. ما النسبة المئوية للربح أو الخسارة؟</p> <p>الربح = سعر البيع - سعر التكلفة $32 \times 180 - 4860 = 5760$</p> <p>$5760 - 4860 = 900$ ريال عُُماني</p> <p>النسبة المئوية للربح = $\frac{900}{4860} \times 100 = 18,5\%$</p>
٣	<p>اشترى ناصر سيارة سعرها ٨٠٠٠ ريال عُُماني، دفع مقدما ١٥٪ من سعرها، وتم احتساب فائدة سنوية نسبتها ١٠٪ على المبلغ المستحق لفترة السداد ، بحيث يتم التقسيط بدفع ١٢ قسطا متساويا في السنة. ما قيمة القسط الواحد؟</p> <p>قيمة المبلغ المقدم = $\frac{15}{100} \times 8000 = 1200$ ريال عُُماني</p> <p>المبلغ المستحق = $8000 - 1200 = 6800$ ريال عُُماني</p> <p>الفائدة = $\frac{10}{100} \times 6800 = 680$ ريال عُُماني</p> <p>المبلغ الذي سيدفعه عند الدفع بالتقسيط = $680 + 6800 = 7480$ ريال عُُماني</p> <p>قيمة كل قسط = $\frac{7480}{12} = 623,333$ ريال عُُماني</p>
٤	<p>اشترى حمزة أثاثا لمنزله بقيمة ٣٧٨٥ ريال عُُماني ، حيث دفع ٣٠٪ من سعرها مقدّمًا ، وقسّط الباقي بمعدل فائدة نسبتها ٢٥٪ فإن المبلغ المقدم الذي دفعه حمزة هو:</p> <p>٢٧٥ ريال عُُماني ٩٤٦,٢٥٠ ريال عُُماني</p> <p>١١٣٥,٥٠٠ ريال عُُماني ٢٦٤٩,٥٠٠ ريال عُُماني</p> <p>المبلغ المقدم = $\frac{30}{100} \times 3785 = 1135,500$ ريال عُُماني</p>