

## شكراً لتحميلك هذا الملف من موقع المناهج العمانية



## اختبار قصير ثاني نموذج ثاني

[موقع المناهج](#) ⇨ [المناهج العمانية](#) ⇨ [الصف التاسع](#) ⇨ [فيزياء](#) ⇨ [الفصل الأول](#) ⇨ [الملف](#)

تاريخ نشر الملف على موقع المناهج: 04:30:42 2023-11-30

## التواصل الاجتماعي بحسب الصف التاسع



## روابط مواد الصف التاسع على تلغرام

[الرياضيات](#)

[اللغة الانجليزية](#)

[اللغة العربية](#)

[التربية الاسلامية](#)

## المزيد من الملفات بحسب الصف التاسع والمادة فيزياء في الفصل الأول

[اختبار قصير ثاني مع نموذج الإجابة](#)

1

[اختبار قصير ثاني](#)

2

[اختبار قصير أول نموذج ثاني](#)

3

[اختبار قصير أول](#)

4

[نموذج اختبار مع الإجابات](#)

5

اختبار قصير (2)

الفيزياء صف تاسع

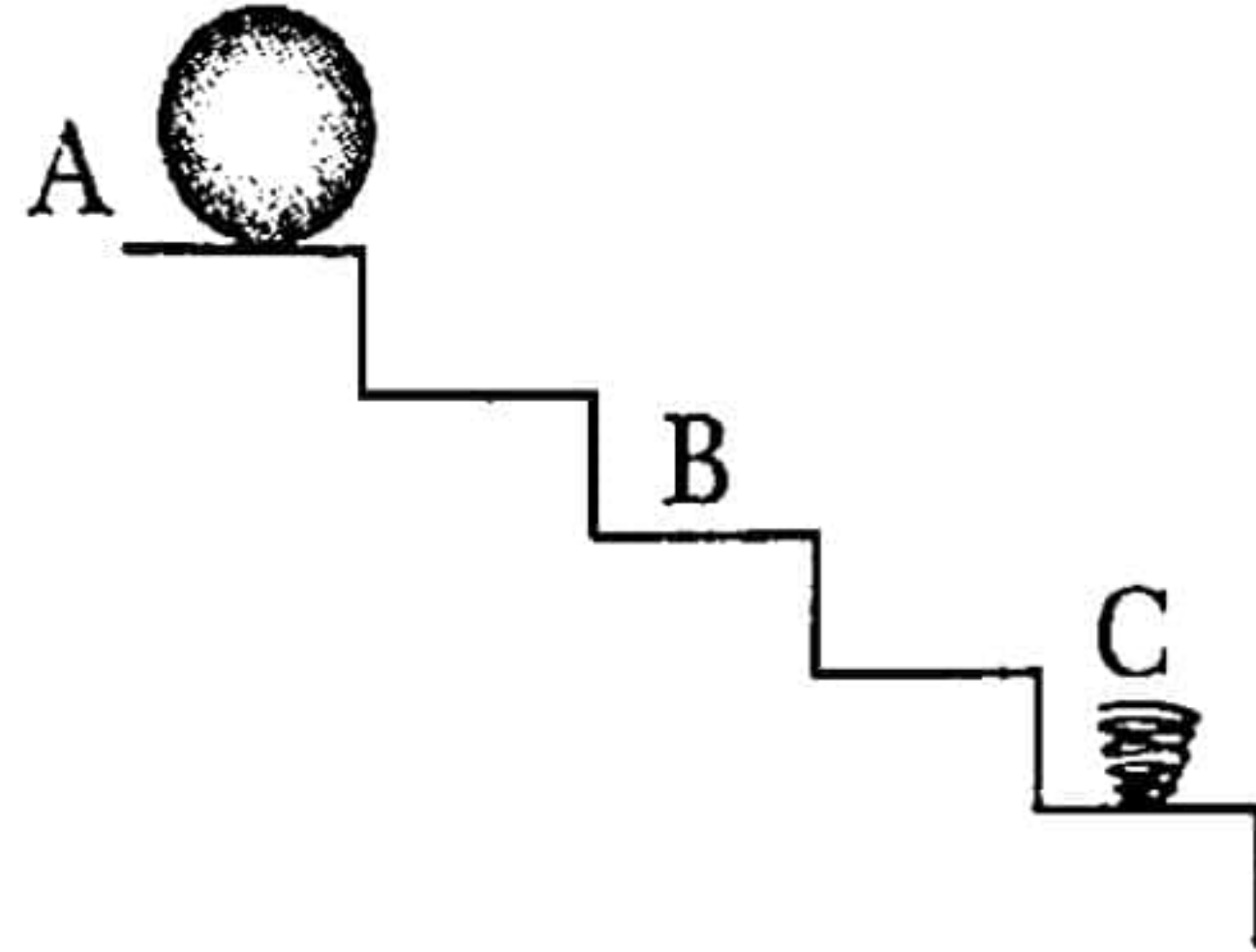
الاسم : ..... الصف : .....

أجب عن الأسئلة الآتية :

1- تحول المادة من الحالة السائلة إلى الحالة الغازية عند درجة حرارة أقل من درجة غليانها يسمى:

أ- التكثف ب- الغليان ج- الانصهار د- التبخر

ب- بدأت كرة حركتها من السكون من أعلى درج من النقطة (A) إلى النقطة (B) كما في الشكل المقابل .



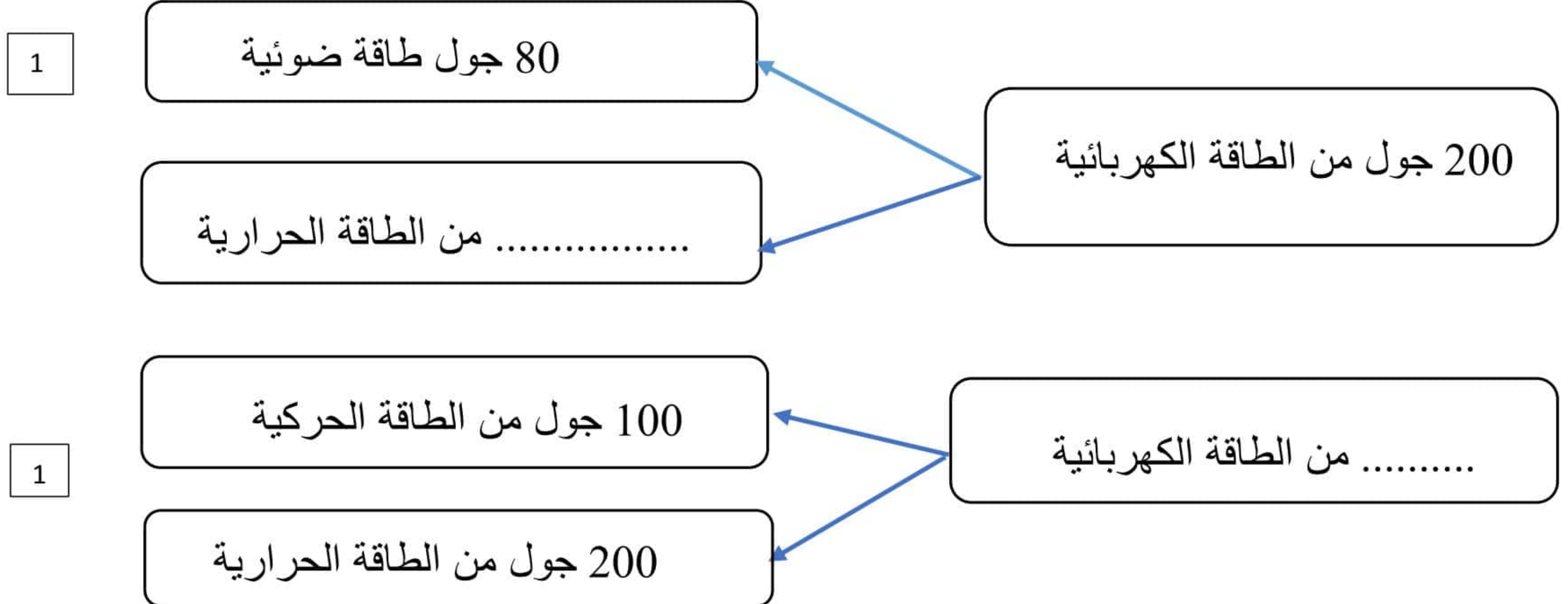
ما نوع الطاقة التي تمتلكها الكرة عند كل من :

النقطة (A): .....

النقطة (B): .....

(أكمل الفراغ بما يناسبه)

2- اكمل المخطط التالي لتوضيح حفظ الطاقة في نوعين من الأجهزة المنزلية:



3- تكون جسيمات المادة أكثر ترابطاً و كل جسيم على تماس مع جميع الجسيمات المجاورة في المادة :-


أ- الصلبة ب- السائلة ج- الغازية د- الصلبة و الغازية

ب - عرف الكثافة ؟

1

ج - فسر اجابتك يتكون الثلج من الماء ولكن نلاحظ طفو الثلج على سطح الماء السائل؟

1



4- سيارة كتلتها 450kg تتحرك بسرعة 60km/h. عند ضغط السائق على كبح السرعة توقفت

بعد 5s . احسب مايلي :

أ- عرف طاقة الحركة.

1

ب- طاقة حركة السيارة.

1

5- ضع ( √ ) امام العبارة الصحيحة و ( × ) أمام العبارة الخاطأ

أ - طاقة وضع الجاذبية تعتمد على الارتفاع فقط

( )

ب - طاقة الحركة تعتمد على الكتلة والسرعة

( )

1

1

6- اللحوم التي تأكلها تعتبر مخزن للطاقة :

أ- الضوئية

ب- وضع المرونية

ج- وضع كيميائية

د- وضع جاذبية

1



7- الشكل الذي أمامك مثال على تغيرات الطاقة

1- تتغير في الشكل من الطاقة ----- الى الطاقة -----

انتهت الأسئلة أرجو لكم التوفيق والنجاح