

تم تحميل هذا الملف من موقع المناهج العُمانية



\* للحصول على أوراق عمل لجميع الصفوف وجميع المواد اضغط هنا

<https://almanahj.com/om>

\* للحصول على أوراق عمل لجميع مواد الصف التاسع اضغط هنا

<https://almanahj.com/om/9>

\* للحصول على جميع أوراق الصف التاسع في مادة اجتماعيات وجميع الفصول, اضغط هنا

<https://almanahj.com/om/9social>

\* للحصول على أوراق عمل لجميع مواد الصف التاسع في مادة اجتماعيات الخاصة بـ الفصل الثاني اضغط هنا

<https://almanahj.com/om./9social2>

\* لتحميل كتب جميع المواد في جميع الفصول للـ الصف التاسع اضغط هنا

<https://almanahj.com/om./grade9>

للتحدث إلى بوت المناهج العمانية على تلغرام: اضغط هنا

[https://t.me/omcourse\\_bot](https://t.me/omcourse_bot)



**امتحان الصف : التاسع**  
**للعام الدراسي ١٤٣٧/١٤٣٨ هـ - ٢٠١٦/٢٠١٧ م**  
**الدور الاول - الفصل الدراسي الثاني**

- المادة: الدراسات الاجتماعية
- زمن الإجابة: ساعة و نصف
- عدد صفحات أسئلة الامتحان: ( ٨ ) صفحات.
- الإجابة في الورقة نفسها.

اسم الطالب		
الصف	المدرسة	

السؤال	الدرجة		التوقيع بالاسم	
	بالأرقام	بالحروف	المصحح الأول	المصحح الثاني
١				
٢				
٣				
٤				
المجموع			جمعه	مراجعة الجمع
المجموع الكلي				

(١)

امتحان الصف التاسع

للعام الدراسي ١٤٣٧/١٤٣٨ هـ - ٢٠١٦/٢٠١٧ م

الدور الاول - الفصل الدراسي الثاني

المادة: الدراسات الاجتماعية

أجب عن جميع الأسئلة الآتية:

السؤال الأول: ضع دائرة حول رمز الإجابة الصحيحة لكل مفردة من المفردات الآتية :

١- الفترة الزمنية التي شهدت النمو السكاني الكبير الذي اطلق عليه اسم الانفجار السكاني هي :

أ - الثلث الأول من القرن التاسع عشر .

ب- الثلث الأخير من القرن التاسع عشر .

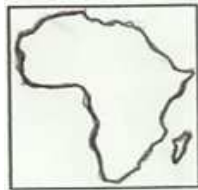
ج- الثلث الأول من القرن العشرين .

د - الثلث الأخير من القرن العشرين .

٢- رمز القارة الأعلى في معدل المواليد و الوفيات من بين القارات التي امامك :



د -



ج -



ب -



أ -

٣- يعتبر من أكثر الأمراض الوراثية انتشارا في السلطنة :

أ- فقر الدم المنجلي ب- فقر دم البحر المتوسط ج- الإعاقة العقلية د- السرطان

٤- الخريطة التي توضح الترتيب الصحيح لمواقع موانئ الساحل الأفريقي

الشرقي من بين الخرائط التي امامك :



ب -



أ -



د -



ج -

(٢)

تابع امتحان الصف التاسع

للعام الدراسي ١٤٣٧/١٤٣٨ هـ - ٢٠١٦/٢٠١٧ م

الدور الاول - الفصل الدراسي الثاني

المادة: الدراسات الاجتماعية

تابع السؤال الأول :

٥- من العوامل الأمنية التي أسهمت في ازدهار دور عمان في الملاحة والتجارة البحرية قديما :

أ - جفاف الأراضي العمانية .

ب - إقامة علاقات حضارية جيدة مع الحضارات و الدول المجاورة .

ج - بعد السواحل العمانية عن الصراعات و الاضطرابات .

د - استيطان الجماعات البشرية للسواحل العمانية منذ القدم .

٦- الجدول الذي يوضح التصنيف الصحيح لمهام الافراد العاملين في السفينة :

ب -

المهام	الوظيفة
قيادة دفة السفينة	الوكيل
المسؤول عن ميرة السفينة و تموينها	السكوتي
صاحب المعرفة في شؤون الفلك و الخرائط البحرية	المعلم

أ -

المهام	الوظيفة
صاحب المعرفة في شؤون الفلك و الخرائط البحرية	الوكيل
قيادة دفة السفينة	السكوتي
المسؤول عن ميرة السفينة و تموينها	المعلم

د -


المهام	الوظيفة
المسؤول عن ميرة السفينة و تموينها	الوكيل
قيادة دفة السفينة	السكوتي
صاحب المعرفة في شؤون الفلك و الخرائط البحرية	المعلم

ج -


المهام	الوظيفة
المسؤول عن ميرة السفينة و تموينها	الوكيل
صاحب المعرفة في شؤون الفلك و الخرائط البحرية	السكوتي
قيادة دفة السفينة	المعلم

٧- رمز الصورة التي توضح احد معالم الحضارة الهندية :

أ -



ب -



ج -



د -



يتبع / ٣

(٣)

تابع امتحان الصف التاسع

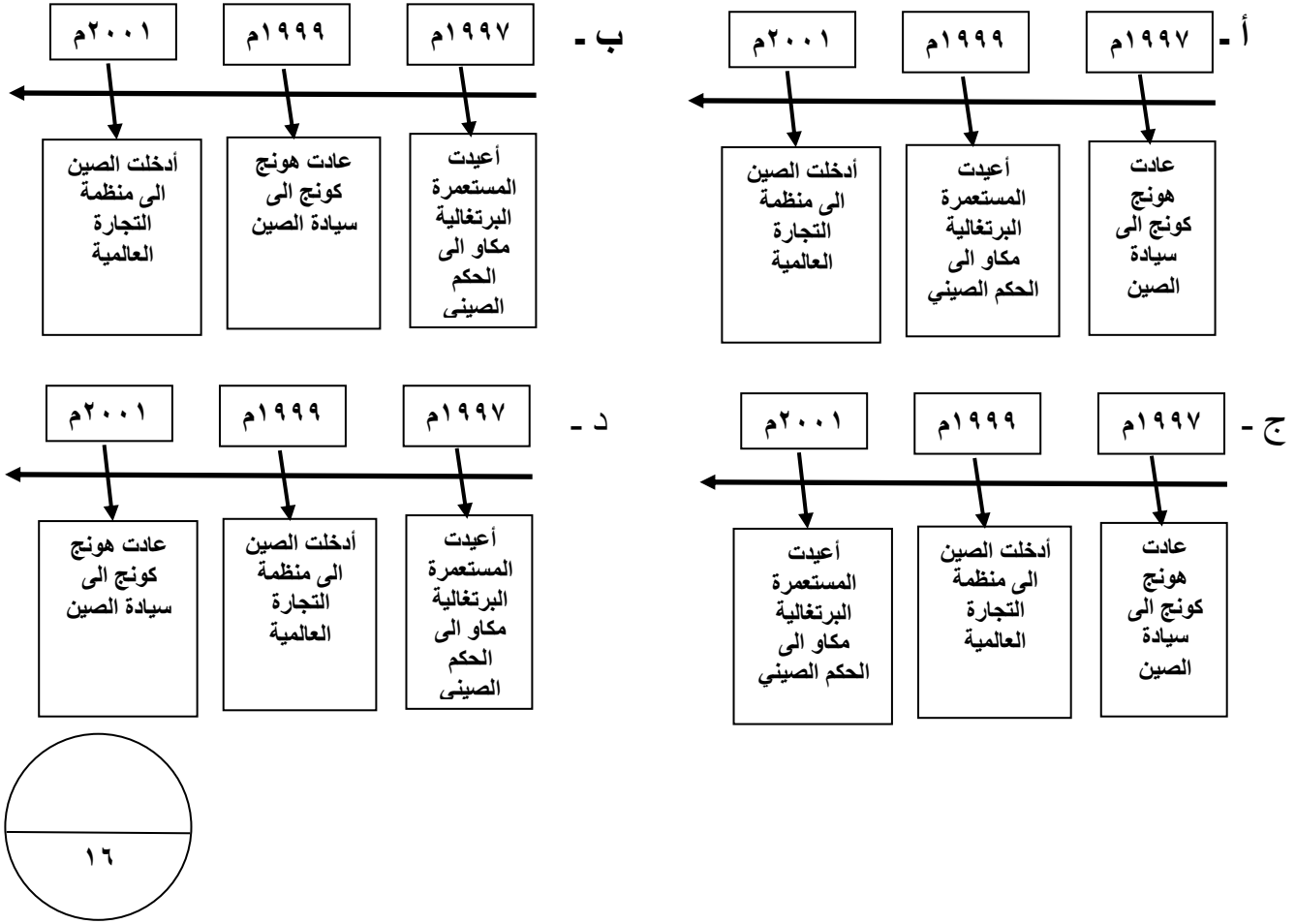
للعام الدراسي ١٤٣٧/١٤٣٨ هـ - ٢٠١٦/٢٠١٧ م

الدور الأول - الفصل الدراسي الثاني

المادة: الدراسات الاجتماعية

تابع السؤال الأول :

٨- المسطرة الزمنية التي تمثل الترتيب الصحيح للأحداث البارزة في تاريخ الصين :



السؤال الثاني : اجب عن الأسئلة التالية :

أ) - عرف ما يلي :

١ - التحضر :

.....

٢ - الفرقاطة :

.....

يتبع / ٤

(٤)

تابع امتحان الصف التاسع  
للعام الدراسي ١٤٣٧/١٤٣٨ هـ - ٢٠١٦/٢٠١٧ م  
الدور الاول - الفصل الدراسي الثاني  
المادة : الدراسات الاجتماعية

تابع السؤال الثاني :

ب) ١ - ( قامت الحكومة في احدى الدول النامية بإنشاء محطة لتوليد الطاقة الكهربائية بالديزل لتخدم قرية عدد سكانها ٧٠ ألف نسمة وبعد مرور عشر سنوات زاد عدد السكان في القرية ليصل الى ١٨٠ ألف نسمة دون ان يتم التوسعة في محطة الكهرباء مما أدى الى انقطاع التيار الكهربائي في أجزاء من القرية لعدة ساعات في اليوم) .  
في ضوء هذه العبارة اكمل الجدول التالي :

المشكلة	
السبب	
اثنين من الحلول	١ - .....
المقترحة	٢ - .....

٢ - اذكر أهمية واحدة لكل من :

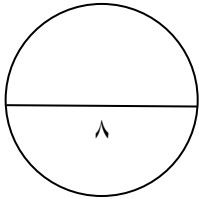

أ - الرضاعة الطبيعية لوزن الطفل .

.....

ب - الفحص قبل الزواج .

.....

ج - ١ - أمامك شكل يوضح التطور المستقبلي لمساهمة القطاعات الاقتصادية الأساسية في الناتج المحلي للسلطنة حسب الرؤية المستقبلية (٢٠٢٠م) أدرسه جيدا ثم وزع عليه القطاعات التالية ( الغاز - التجارة - الصناعة - النفط) في المربعات الموجودة أسفل كل عمود حسب النسبة الصحيحة لمساهمة كل منها .



يتبع / ٥

(٥)



تابع امتحان الصف التاسع  
للعام الدراسي ١٤٣٧/١٤٣٨ هـ - ٢٠١٦/٢٠١٧ م  
الدور الاول - الفصل الدراسي الثاني  
المادة: الدراسات الاجتماعية

السؤال الثالث : أجب عن الأسئلة التالية.

أ - ١. أمامك شكلين يوضحان نوعان من أنواع الأشرعة المستخدمة في السفن العمانية قديما أدرسهما جيدا ثم أجب عن الأسئلة التي تليهما :

( ب )

( أ )

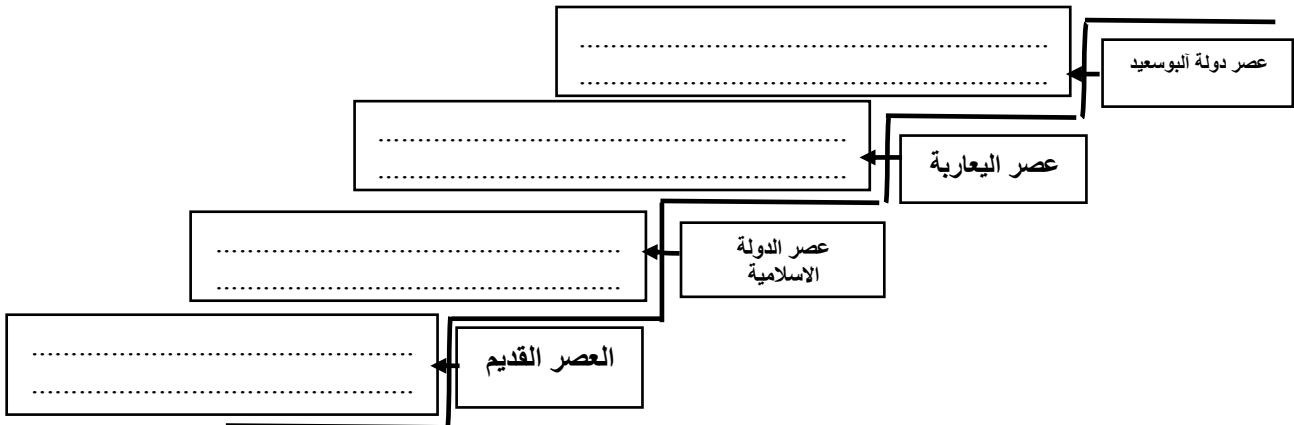


أ - اكتب أسفل كل شكل نوع الشراع المستخدم .

ب - أهمية الشراع في الشكل ( ب ) .....

.....

ب - أمامك سلم زمني يوضح التطور التاريخي للملاحة العمانية أدرسه جيدا ثم ضع الأحداث الموجودة بين القوسين في المكان المناسب على الشكل .  
( ازدهار مدن عمان الساحلية و في طليعتها مدينة صحار - وصف المصادر السومرية القديمة أهل عمان برواد الملاحة البحرية - يأتي الاسطول العماني في المرتبة الثانية بعد الاسطول البريطاني في المحيط الهندي - استطاعت القوة البحرية العمانية تعقب البرتغاليين في الخليج العربي و المحيط الهندي ) .



(٦)

تابع امتحان الصف التاسع

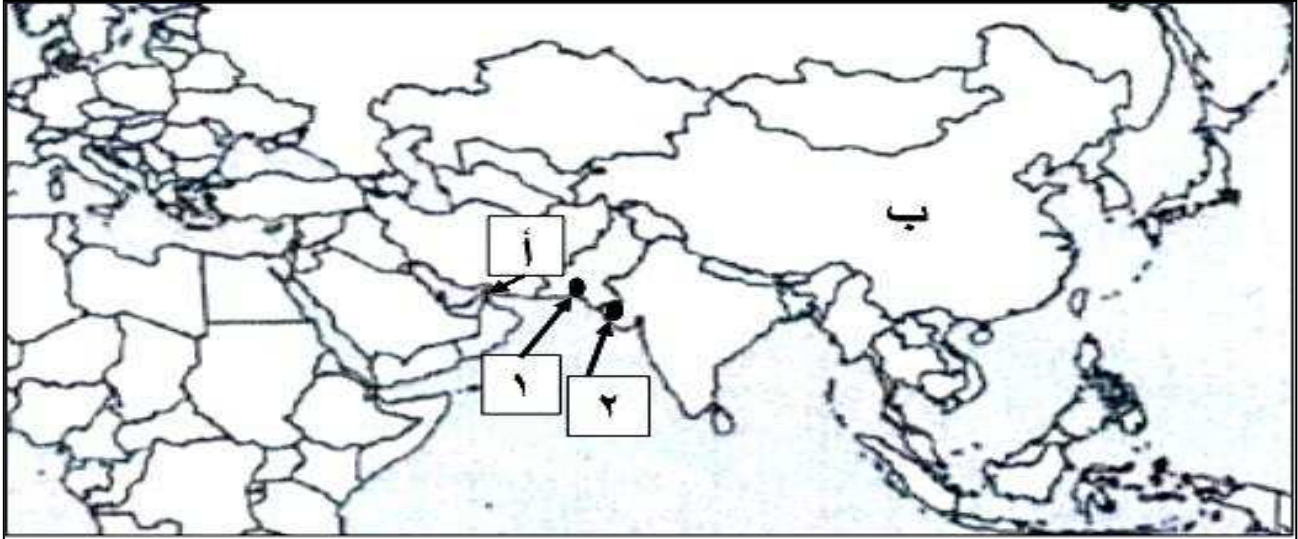
للعام الدراسي ١٤٣٧/١٤٣٨ هـ - ٢٠١٦/٢٠١٧ م

الدور الاول - الفصل الدراسي الثاني

المادة: الدراسات الاجتماعية

تابع السؤال الثالث :

ج - ١ - امامك خريطة المحيط الهندي و الدول المطلة عليه أدرسها جيدا ثم أجب عن الأسئلة التي تليها :



أ - المشكلة الملاحية الموجودة في المنطقة المشار إليها بالرمز ( أ ) .

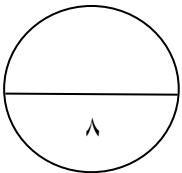
ب - ضع في الجدول التالي أمام السلعة رقم الميناء المرتبط بها و المشار إليها بالأرقام ١ و ٢ في الخريطة .

السلعة	رقم الميناء
التوابل	
الخيول	

ج - أكمل البطاقة التعريفية التالية للدولة المشار إليها بالرمز ( ب ) .

العاصمة	
العملة	

د - ضع الرمز ( ج ) في موقع الدولة التي تنتمي إليها صورة الشخصية التاريخية التالية .



(٧)

تابع امتحان الصف التاسع

للعام الدراسي ١٤٣٧/١٤٣٨ هـ - ٢٠١٦/٢٠١٧ م

الدور الاول - الفصل الدراسي الثاني

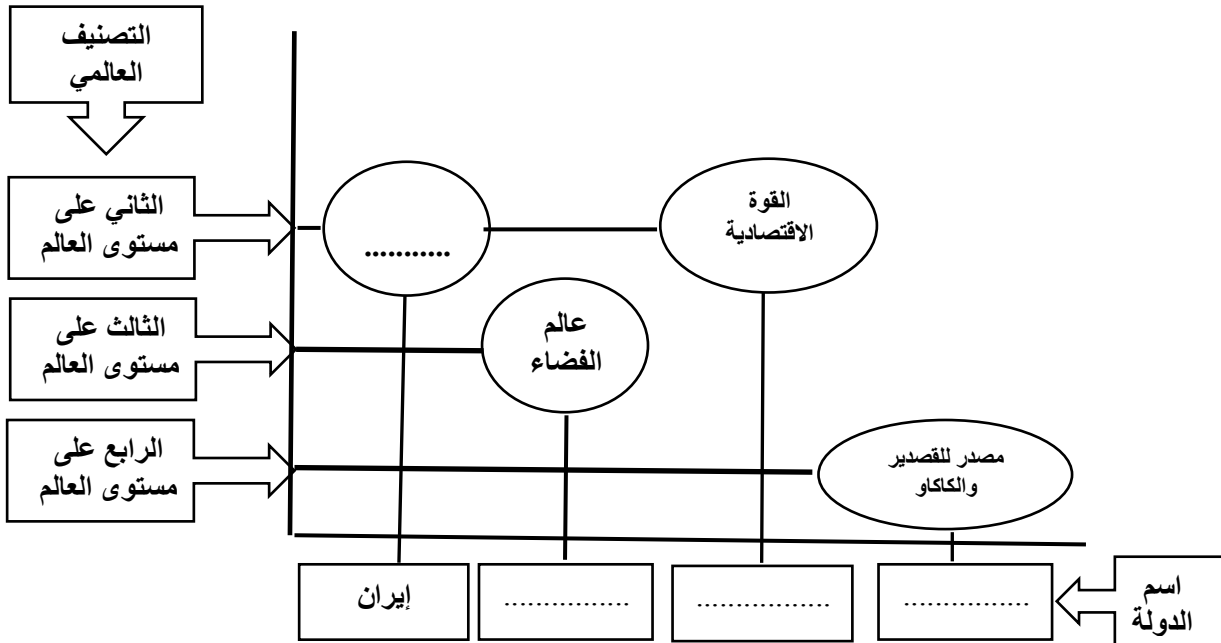
المادة: الدراسات الاجتماعية

السؤال الرابع :

أ - أكمل الجدول التالي الذي يوضح تأثير الفرس بحضارات الشعوب التي عاصرتهم :

المجال	الشعوب و الحضارات
	بلاد الرافدين
العمارة	
	اليونانيين
بناء السفن	

ب - أمامك مخطط يوضح التصنيف العالمي لبعض الدول في مجالات مختلفة ادرسه ثم أكمل نواقص المخطط من خلال الربط بين عناصره :



(٨)

تابع امتحان الصف التاسع  
للعام الدراسي ١٤٣٧/١٤٣٨ هـ - ٢٠١٦/٢٠١٧ م  
الدور الاول - الفصل الدراسي الثاني  
المادة: الدراسات الاجتماعية

تابع السؤال الرابع :

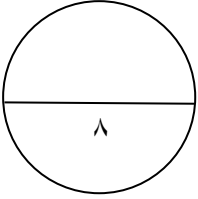
٢ - اكتب نتيجة سلبية واحدة ترتبت على كل من :  
أ - فيضان النهر الأصفر في الصين .

ب - دخول اليابان في الحرب العالمية الثانية ضد الحلفاء .

ج - علل ما يلي :

١ - تعد ملقا الميناء الأكثر تأثيرا في جنوب شرقي آسيا .

٢ - تسمية الأرقام الهندية بالغبارية .



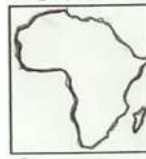

انتهت الأسئلة مع الدعاء للجميع بالتوفيق والنجاح.




**نموذج إجابة امتحان الصف التاسع**  
**للعام الدراسي ١٤٣٧/١٤٣٨ هـ - ٢٠١٦/٢٠١٧ م**  
**الدور الأول - الفصل الدراسي الثاني**

**المادة: الدراسات الاجتماعية**  
**الدرجة الكلية: ( ٤٠ ) درجة.**  
**تنبيهه: نموذج الإجابة في ( ٧ ) صفحات.**

**أولاً: إجابة السؤال الموضوعي :**

إجابة السؤال الأول													
الدرجة الكلية: (١٦) درجة													
المفردة	البديل الصحيح	الإجابة	الدرجة	الصفحة	المستوى المعرفي								
١	د	الثالث الأخير من القرن العشرين	درجتان	٨	المعرفة								
٢	ج		درجتان	١١	قدرات عليا								
٣	أ	فقر الدم المنجلي	درجتان	٢٥	المعرفة								
٤	ب		درجتان	٥٤	فهم و تطبيق								
٥	ج	بعد السواحل العمانية عن الصراعات و الاضطرابات .	درجتان	٤٣	المعرفة								
٦	د	<table><tr><td>الوظيفة</td><td>المهام</td></tr><tr><td>الوكيل</td><td>المسؤول عن ميرة السفينة و تموينها</td></tr><tr><td>السكوتي</td><td>قيادة دفة السفينة</td></tr><tr><td>المعلم</td><td>صاحب المعرفة في شؤون الفلك و الخرائط البحرية</td></tr></table>	الوظيفة	المهام	الوكيل	المسؤول عن ميرة السفينة و تموينها	السكوتي	قيادة دفة السفينة	المعلم	صاحب المعرفة في شؤون الفلك و الخرائط البحرية	درجتان	٦٥	فهم و تطبيق
الوظيفة	المهام												
الوكيل	المسؤول عن ميرة السفينة و تموينها												
السكوتي	قيادة دفة السفينة												
المعلم	صاحب المعرفة في شؤون الفلك و الخرائط البحرية												

( ٢ )  
 تابع نموذج إجابة امتحان الصف التاسع  
 للعام الدراسي ١٤٣٧/١٤٣٨ هـ - ٢٠١٦/٢٠١٧ م  
 الدور الاول - الفصل الدراسي الثاني  
 المادة : الدراسات الاجتماعية

تابع إجابة السؤال الأول					
المفردة	البديل الصحيح	الإجابة	الدرجة	الصفحة	المستوى المعرفي
٧	أ		درجتان	٨١	المعرفة
٨	أ	<div style="display: flex; justify-content: space-around; align-items: center;"> <div style="text-align: center;"> <div>٢٠٠١ م</div> <div style="border: 1px solid black; padding: 5px; margin-top: 10px;">                     أدخلت الصين إلى منظمة التجارة العالمية                 </div> </div> <div style="text-align: center;"> <div>١٩٩٩ م</div> <div style="border: 1px solid black; padding: 5px; margin-top: 10px;">                     أعيدت المستعمرة البرتغالية مكاو إلى الحكم الصيني                 </div> </div> <div style="text-align: center;"> <div>١٩٩٧ م</div> <div style="border: 1px solid black; padding: 5px; margin-top: 10px;">                     عادت هونغ كونج إلى سيادة الصين                 </div> </div> </div>	درجتان	٩٢	فهم و تطبيق
المجموع			١٦ درجة		

( ٣ )

تابع نموذج إجابة امتحان الصف التاسع  
للعام الدراسي ١٤٣٧/١٤٣٨ هـ - ٢٠١٦/٢٠١٧ م  
الدور الاول - الفصل الدراسي الثاني  
المادة : الدراسات الاجتماعية



ثانيا: إجابة الأسئلة المقالية :

إجابة السؤال الثاني					الدرجة الكلية: (٨) درجة						
الجزئية	المفردة	الإجابة الصحيحة	الدرجة	الصفحة	المستوى المعرفي						
أ	١	التحضر: تحول سكان منطقة معينة من الأرياف أو البادية الى حياة المدن .	درجة	٢٩	معرفة						
	٢	الفرقاطة: سفينة حربية صغيرة الحجم سريعة تستخدم للمناورة .	درجة	٤٩	معرفة						
ب	١	<table><tr><td>المشكلة</td><td>زيادة الضغط على محطة توليد الطاقة الكهربائية</td></tr><tr><td>السبب</td><td>زيادة أعداد السكان دون التوسع في محطة انتاج الطاقة الكهربائية</td></tr><tr><td>اثنين من الحلول المقترحة</td><td>١ - البحث عن مصادر بديلة للطاقة ٢ - التوسع في محطة انتاج الطاقة</td></tr></table> <p>ملاحظة مع مراعاة إجابة الطالب .</p>	المشكلة	زيادة الضغط على محطة توليد الطاقة الكهربائية	السبب	زيادة أعداد السكان دون التوسع في محطة انتاج الطاقة الكهربائية	اثنين من الحلول المقترحة	١ - البحث عن مصادر بديلة للطاقة ٢ - التوسع في محطة انتاج الطاقة	نصف درجة نصف درجة درجة لكل مفردة نصف درجة بمقتري فقط	١٧	قدرات عليا
	المشكلة	زيادة الضغط على محطة توليد الطاقة الكهربائية									
السبب	زيادة أعداد السكان دون التوسع في محطة انتاج الطاقة الكهربائية										
اثنين من الحلول المقترحة	١ - البحث عن مصادر بديلة للطاقة ٢ - التوسع في محطة انتاج الطاقة										
٢	أ - تحمي الطفل من السمنة و البدانة .	درجة	٢٢	معرفة							
	ب - تفادي حدوث مشكلات مستقبلية تؤثر بشدة على العلاقة الزوجية و الصحة الإنجابية و صحة الأبناء .	درجة	٢٣	معرفة							
ج	١	 <p>التجارة      الغاز      الصناعة      النفط</p>	درجتان لكل مفردة نصف درجة	٣٤	فهم و تطبيق						

(٤)

تابع نموذج إجابة امتحان الصف التاسع  
للعام الدراسي ١٤٣٧/١٤٣٨ هـ - ٢٠١٦/٢٠١٧ م  
الدور الاول - الفصل الدراسي الثاني  
المادة : الدراسات الاجتماعية

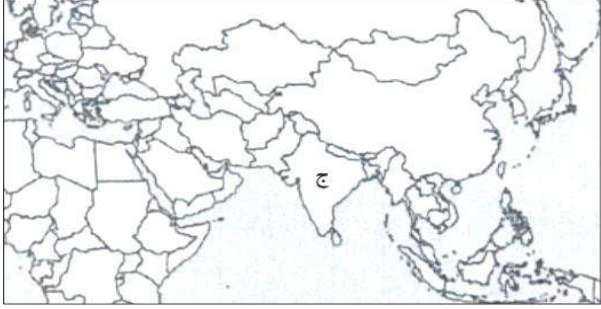
تابع ثانيا: إجابة الأسئلة المقالية :

إجابة السؤال الثالث				
الدرجة الكلية: (٨) درجة				
الجزئية	المفردة	الإجابة الصحيحة	الدرجة	الصفحة
أ	١	أ ( أ )  الشراع المربع ( ب )  الشراع المثلث	درجة لكل مفردة نصف درجة	٦١
		ب - استغلال الرياح العرضية و التحكم في مسار السفينة في المضائق المائية .	درجة	٦١
ب	١	عصر دولة اليمسود الأسطول العثماني يأتي في المرتبة الثانية بعد الأسطول البريطاني في المحيط الهندي عصر البعارة القوة البحرية العثمانية استطاعت تغلب البرتغاليين في الخليج العربي و المحيط الهندي عصر الدولة الإسلامية ازدهار مدن عمان الساحلية و في ظليعتها صحار العصر القديم وصف المصادر السومرية القديمة أهل عمان بـرواد الملاحة البحرية	درجتان لكل مفردة نصف درجة	٤٥ الى ٤٨
		أ - الدردور حركة التفاف الماء بشدة .	درجة	٦٧
ج	١	ب السلعة التوابل الخيول رقم الميناء ٢ ١	درجة لكل مفردة نصف درجة	٥١ الى ٥٤
		ج العاصمة العملة بكين يوان	درجة لكل مفردة نصف درجة	٨٥
فهم و تطبيق				

(٥)

تابع نموذج إجابة امتحان الصف التاسع  
للعام الدراسي ١٤٣٧/١٤٣٨ هـ - ٢٠١٦/٢٠١٧ م  
الدور الاول - الفصل الدراسي الثاني  
المادة : الدراسات الاجتماعية

تابع ثانيا: إجابة الأسئلة المقالية:

تابع إجابة السؤال الثالث				
الجزئية	المفردة	الإجابة الصحيحة	الدرجة	الصفحة
ج	١	<p>د</p>  <p>يضع الرمز ( ج ) في موقع الهند .</p>	درجة	٧٨
فهم و تطبيق				

(٦)

تابع نموذج إجابة امتحان الصف التاسع  
للعام الدراسي ١٤٣٧/١٤٣٨ هـ - ٢٠١٦/٢٠١٧ م

الدور الاول - الفصل الدراسي الثاني

المادة : الدراسات الاجتماعية

تابع ثانيا: إجابة الأسئلة المقالية :

إجابة السؤال الرابع					
الدرجة الكلية: (٨) درجة					
الجزئية	الم فردة	الإجابة الصحيحة		الدرجة	الصفحة
أ		المجال	الشعوب و الحضارات	درجتان لكل مفردة نصف درجة	٧٣
		الكتابة	بلاد الرافدين		
		العمارة	المصريين		
		النقود	اليونانيين		
		بناء السفن	الفينيقيين		
ب	١				فهم و تطبيق
	٢	أ- تضرر الأراضي الزراعية - تهدم المدن والقرى .			٨٦
		ب - خسرت الحرب و تعرضت ارضيها لدمار - القيت القنابل النووية على مدينتي هيروشيما - ناجازاكي - تدمير معظم المدن اليابانية الكبرى - اتلفت شبكات المواصلات - تدمير البنية التحتية - النقص الشديد في الغذاء - تدمير الأسلحة - تقليص عدد الجنود - سيطرة الحلفاء على أراضيها - فقدت أراضيها التي استولت عليه بعد عام ١٨٩٤ م - فقدت جزءا من أراضيها .			
فهم و تطبيق		درجة يكفي بنتيجة واحدة فقط			٩٨

(٧)  
 تابع نموذج إجابة امتحان الصف التاسع  
 للعام الدراسي ١٤٣٧/١٤٣٨ هـ - ٢٠١٦/٢٠١٧ م  
 الدور الاول - الفصل الدراسي الثاني  
 المادة : الدراسات الاجتماعية

تابع ثانيا: إجابة الأسئلة المقالية:

تابع إجابة السؤال الرابع				
الجزئية	المفردة	الإجابة الصحيحة	الدرجة	الصفحة
ج	١	لان سلاطينها عملوا على تسهيل التجارة لكل السفن القادمة اليها حيث وجدت في الميناء هيئة تجارية منظمة و متعددة اللغات و يتولى موظفيها كل حاجات السفينة .	درجة	١٠٦
	٢	لان الهنود كانوا يأخذون غبارا خفيفا و يبسطونه على لوح من الخشب و يرسمون عليه الأرقام .	درجة	٨٠
				المستوى المعرفي
				فهم و تطبيق
				فهم و تطبيق

نهاية نموذج الإجابة