

## أسئلة اختبارات نهائية لدرس الأقاليم المناخية



### تم تحميل هذا الملف من موقع المناهج العمانية

موقع فايلاتي ⇨ المناهج العمانية ⇨ الصف الثامن ⇨ اجتماعيات ⇨ الفصل الأول ⇨ ملفات متنوعة ⇨ الملف

تاريخ إضافة الملف على موقع المناهج: 2025-11-21 00:06:35

ملفات اكتب للمعلم اكتب للطالب ا اختبارات الكترونية ا اختبارات ا حلول ا عروض بوربوينت ا أوراق عمل  
منهج انجليزي ا ملخصات وتقارير ا مذكرات وبنوك ا الامتحان النهائي ا للمدرس

المزيد من مادة  
اجتماعيات:

إعداد: لخيار العمري

### التواصل الاجتماعي بحسب الصف الثامن



صفحة المناهج  
العمانية على  
فيسبوك

### المزيد من الملفات بحسب الصف الثامن والمادة اجتماعيات في الفصل الأول

ملخص شامل لدروس الوحدات الأولى (عناصر المناخ) والثانية (دولة البوسعيد)	1
ملخص شرح دروس الوحدة الثانية (دولة البوسعيد)	2
نموذج إجابة الامتحان النهائي الرسمي الدور الأول الفترة الصباحية	3
الامتحان النهائي الرسمي الدور الأول الفترة الصباحية	4
امتحان تجريبي مع نموذج الإجابة في محافظة ظفار	5


**السؤال الأول: ضع دائرة حول رمز الإجابة الصحيحة من بين البدائل المعطاة:**

(١) الإقليم الذي تنمو فيه الغابات الكثيفة بسبب غزارة الأمطار:

- (أ) الصحراوي. (ب) الاستوائي. (ج) الموسمي. (د) البحر المتوسط.

١- من خصائص المناخ الاستوائي:

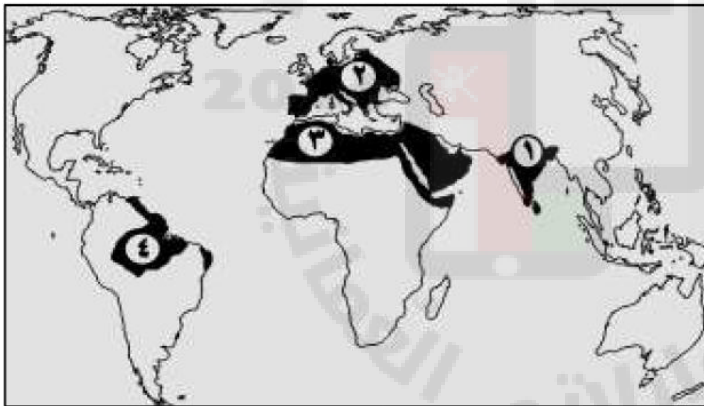
أ- مناخ معتدل	ب- مناخ بارد	ج- مناخ ثابت	د- مناخ جاف
درجات حرارة منخفضة	درجات حرارة ثابتة	أمطار تصاعديه	درجات حرارة عالية



٢- أقل كمية مطر سجلت في مدينة بالم في البرازيل حسب الشكل البياني الآتي سجل في شهر:

- أ- أغسطس ب- سبتمبر ج- أكتوبر د- نوفمبر

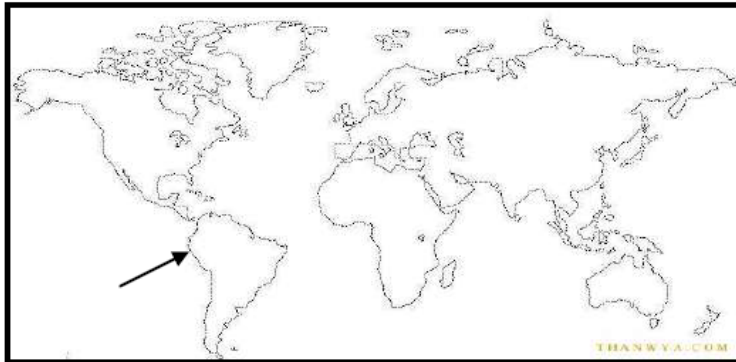
٣- الرقم الذي يشير إلى المنطقة التي تتأثر بمناخ الإقليم الاستوائي في الشكل المقابل:



أ- (١) ب- (٢)

ج- (٣) د- (٤)

٧) الصحراء المشار إليها في قارة أمريكا الجنوبية :



(أ) أتكاما

(ب) تار

(ج) بتجونيا

(د) ناميبيا

٣) يمتد الإقليم الموسمي بين دائرتي عرض :

(أ) (١٨-٣٠) شمال دائرة الاستواء وجنوبها

(ب) (١٨-٣٠) شمال دائرة الاستواء وجنوبها

(ج) (٣٠-٤٠) شمال دائرة الاستواء وجنوبها

(د) (٦٦-٩٠) شمال دائرة الاستواء وجنوبها



١) من خلال الخريطة التي أمامك نستنتج أن القارة الوحيدة التي لا تظهر فيها صحاري هي قارة :

- أ) أوروبا      ب) آسيا      ج) استراليا      د) أفريقيا

٣- تتكون المنخفضات الجوية في فصل الشتاء على حوض البحر المتوسط نتيجة هبوب:

- أ- الرياح التجارية      ب- الرياح العكسية      ج- الرياح الغربية      د- الرياح الموسمية

٣- الإقليم الذي تسقط عليه الأمطار بسبب تعرضها للرياح الرطبة التي تهب من البحر هو:

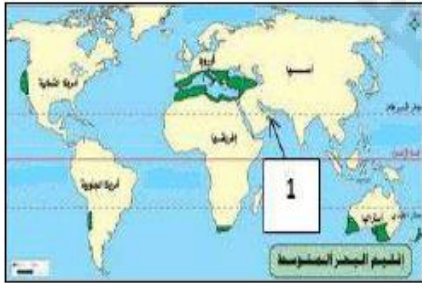
- أ- الاستوائي      ب- الصحراوي      ج- القطبي البارد      د- الموسمي

٢- تتساقط الأمطار على إقليم البحر المتوسط شتاء بسبب هبوب الرياح:

- أ- الموسمية      ب- القطبية      ج- التجارية      د- العكسية

٣ ( من بين المناطق التي يظهر بها إقليم البحر المتوسط :

- أ ( تكساس      ب ( نيويورك      ج ( واشنطن      د ( كاليفورنيا



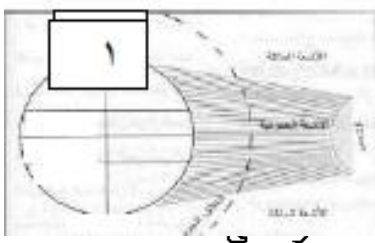
١) تتأثر المنطقة المشار إليها بالرقم (1) بمناخ البحر المتوسط نتيجة :

- أ ( ارتفاعها عن سطح الأرض      ب ( بعدها عن دائرة الاستواء  
ج ( وقوعها ضمن المنطقة الاستوائية      د ( تأثرها بالرياح الموسمية

( عاصمة عمان في الجزء الأفريقي من الإمبراطورية العمانية :

١) تسقط معظم أمطار إقليم البحر المتوسط بسبب تكون المنخفضات الجوية في فصل:

- أ) الصيف      ب) الربيع      ج) الخريف      د) الشتاء



١- من خلال الشكل الذي أمامك المناخ السائد في المنطقة (١) هو :

- أ- الاستوائي      ب- المتوسطي      ج- الصحراوي      د- القطبي

٤-

- أ- القطبي      ب- الموسمي      ج- الاستوائي

٤- الإقليم المناخي الذي يمتد بين دائرتي عرض (٦٦- ٩٠ ) درجة شمال دائرة الاستواء وجنوبها :

- أ- القطبي      ب- الموسمي      ج- الاستوائي      د- المتوسطي

٥. تعد من خصائص الإقليم القطبي البارد :

أ/	اختلاف طول الليل والنهار ، يمتد بين درجتَي عرض (٣٠-٤٠) شمالاً وجنوباً ، أشعة الشمس مائلة .
ب/	اختلاف طول الليل والنهار ، يمتد بين درجتَي عرض (٦٦-٩٠) شمالاً وجنوباً ، هبوب الرياح العكسية
ج/	اختلاف طول الليل والنهار ، يمتد بين درجتَي عرض (٦٦-٩٠) شمالاً وجنوباً ، أشعة الشمس مائلة .
د	اختلاف طول الليل والنهار ، هبوب رياح موسمية ، ارتفاع معدلات التبخر .

السؤال الثاني : الأسئلة المقالية:

١- عرف الاقليم

٢- أذكر خصائص الأقاليم التالية:-

الاستوائي- الحار الجاف ( الصحراوي)- البحر المتوسط - الموسمي - القطبي البارد

٤-فسر:

كثافة الغطاء النباتي في الإقليم الاستوائي

تكون المنخفضات الجوية في فصل الشتاء في حوض البحر المتوسط

٥- علل: يظهر مناخ البحر المتوسط في الجبل الأخضر بالسلطنة ٣

٢- من خلال الشكل الذي أمامك ، أجب عن الاسئلة التي تليه :

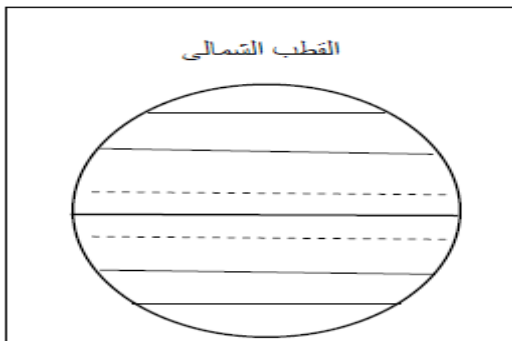
أ) ظلل على الشكل المنطقة التي تمثل موقع الاقليم الاستوائي .

ب) اذكر ميزة واحدة لهذا الإقليم .

ج) ما الإقليم المناخي الذي يأتي بعد الاقليم الاستوائي

من حيث دوائر العرض ؟ .....

-حدد الأمتداد الفلكي والجغرافي للأقاليم التالية:-



المقارنة	الاستوائي	الحار الجاف ( الصحراوي )	البحر المتوسط	الموسمي	القطبي البارد
الامتداد الفلكي					
الموقع الجغرافي					

١٥) قارن بين الإقليم الموسمي وإقليم البحر المتوسط حسب الجدول الآتي:

نوع الإقليم	إقليم البحر المتوسط	إقليم الموسمي
الامتداد (شمال وجنوب دائرة الاستواء)		
المنطقة التي تتأثر بهذا النوع من المناخ في السلطنة		

ثالثاً : صنف في الجدول التالي الأقاليم التالية حسب دوائر العرض المعطاة :

دوائر العرض هي : ( ٣٠ - ١٨ ) - ( ٨ - ١٨ ) - ( ٣٠ - ٤٠ )

الإقليم	الدائرة العرضية
١- الحار الجاف	١- .....
٢- البحر المتوسط	٢- .....
٣- الموسمي	٣- .....

ثالثاً: صنف الصحاري الآتية وفق موقعها من الكرة الأرضية في الجدول التالي .

( بتجونيا - جوبي - سونوران - كلهاري )

صحاري تقع في نصف الكرة الشمالي	صحاري تقع في نصف الكرة الجنوبي

٢- سمي الإقليم المناخي الذي يتميز بالآتي من خلال الخيارات مابين القوسين التاليين:

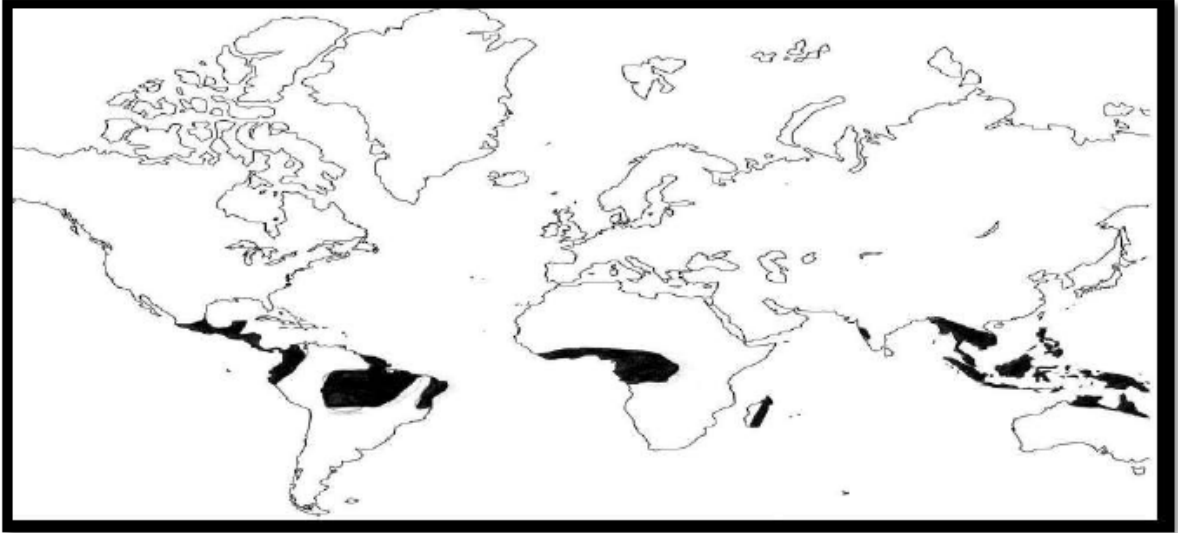
(الاستوائي - الصحراوي - الموسمي )

أ- ارتفاع المدى الحراري في الصيف والشتاء وبين الليل والنهار. (.

ب- تنمو فيه الغابات الكثيفة بسبب غزارة الأمطار. (.



أولاً:- من الخريطة أكمل ما يأتي :-



- (١) الإقليم المناخي الذي تمثله الخريطة .....
- (٢) خصائص هذا الإقليم من حيث:-  
درجة الحرارة.....  
الأمطار.....
- (٣) استخرج من الخريطة قارة لا تظهر به خصائص هذا الإقليم قارة .....

١٤ (أمامك خريطة لأحد الأقاليم المناخية في العالم، ادرسها جيداً ثم اجب عن الأسئلة الآتية:

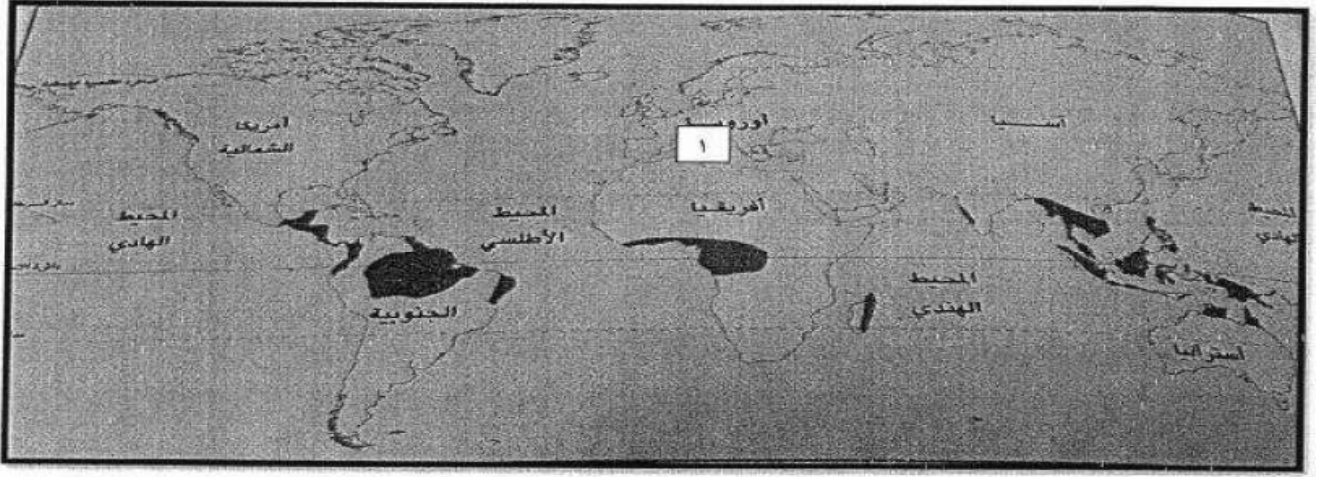


- (أ) ما اسم الإقليم المناخي الذي تمثله الخريطة؟ .....
- (ب) بين خصائص هذا الإقليم من حيث درجة الحرارة والأمطار.

درجة الحرارة	.....
الأمطار	.....

(ج) استخرج من الخريطة القارة التي لا تظهر بها خصائص هذا الإقليم . .....

ج- أمامك خريطة العالم ادرسها جيدا ثم أجب عن الأسئلة الآتية :-



١- ظلل امتداد الإقليم الصحراوي في قارة أفريقيا.

٢- ما اسم المسطح المائي المشار إليه بالرقم (١)؟

٣- ما اسم الإقليم في المناطق المظلمة في الخريطة؟

ج) أمامك خريطة للإقليم الحار الجاف (الصحراوي)، ادرسها جيدا ثم أجب عن الأسئلة التالية:

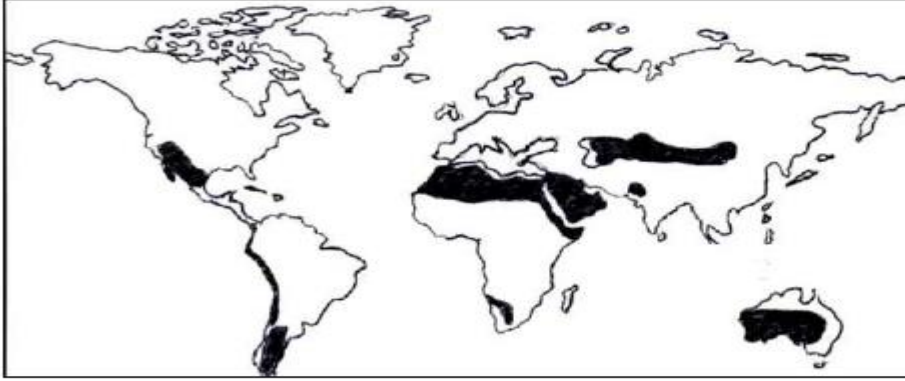


١- استنتج من الخريطة أسماء اثنتين من الصحاري المطلة على المحيط الأطلسي.

٢- استخرج من الخريطة اسم القارة الوحيدة التي لا توجد بها صحاري.

٣- في أي جهة تقع صحراء أتكاما بالنسبة لقارة أمريكا الجنوبية؟

انيا : تأمل الخريطة التالية ثم أجب عن الأسئلة التي تليها:

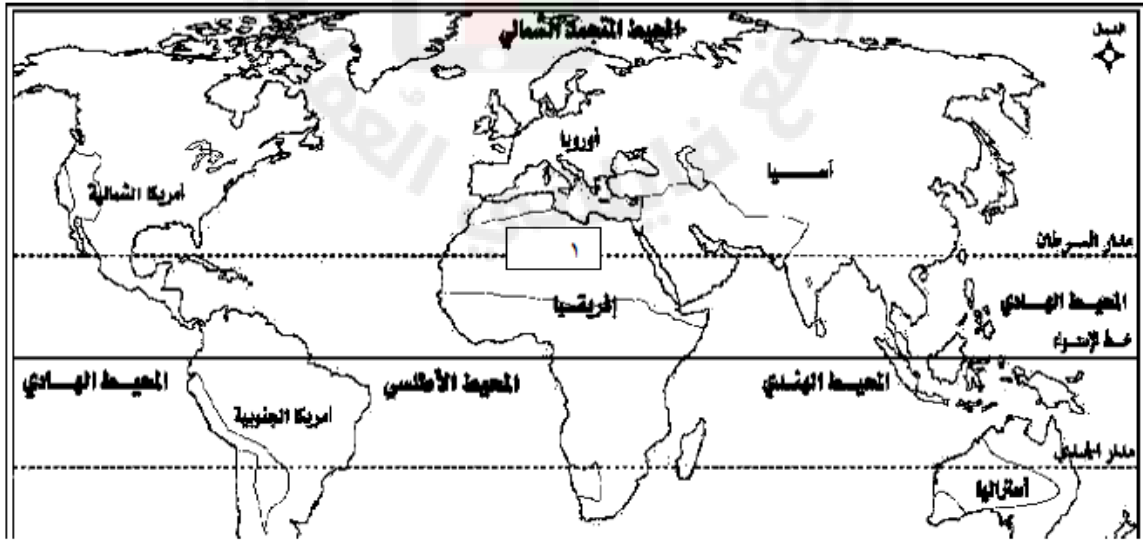


١. ما اسم الإقليم المناخي الذي توضحه الخريطة؟

٢. بماذا يتميز المدى الحراري في هذا الإقليم؟

٣. ظلل على الخريطة القارة التي لا يظهر فيها هذا الإقليم.

ثانياً: تأمل الخريطة التي أمامك ثم أجب عما يليها من أسئلة :



١- الامتداد الفلكي لهذا الإقليم من ..... وإلى .....

٢- يشير الرقم ( ١ ) إلى الصحراء .....

٣- ظلل على الخريطة صحراء شبه الجزيرة العربية

٤- ضع إشارة / حول النسبة التي تمثل هذا الإقليم من مساحة اليابسة

$$\frac{1}{2}$$

$$\frac{1}{3}$$

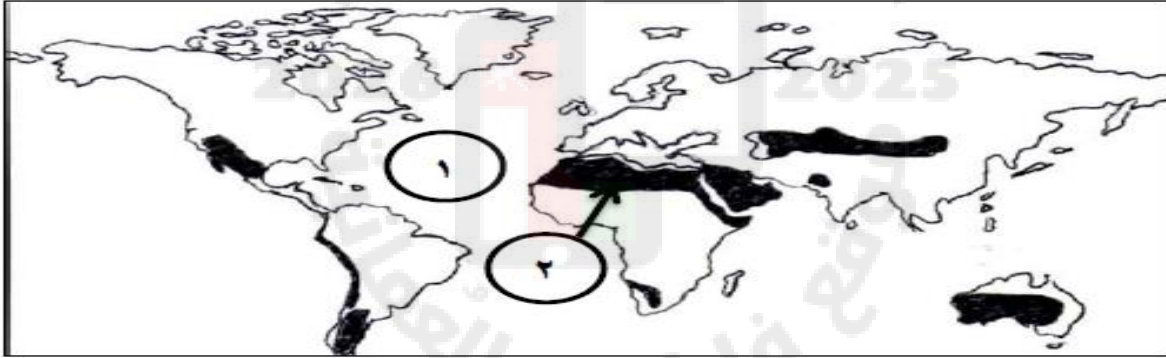


١-أ- انظر إلى الخريطة التي امامك، ثم أجب عن الأسئلة الآتية



٣- كم يبلغ معدل التساقط السنوي في المنطقة المظللة في الخريطة.  
(درجة).....

ثانيا : ادرس الخريطة الآتية ثم أجب عن الأسئلة التي تليها:



أ- الإقليم المناخي الذي توضحه هذه الخريطة:

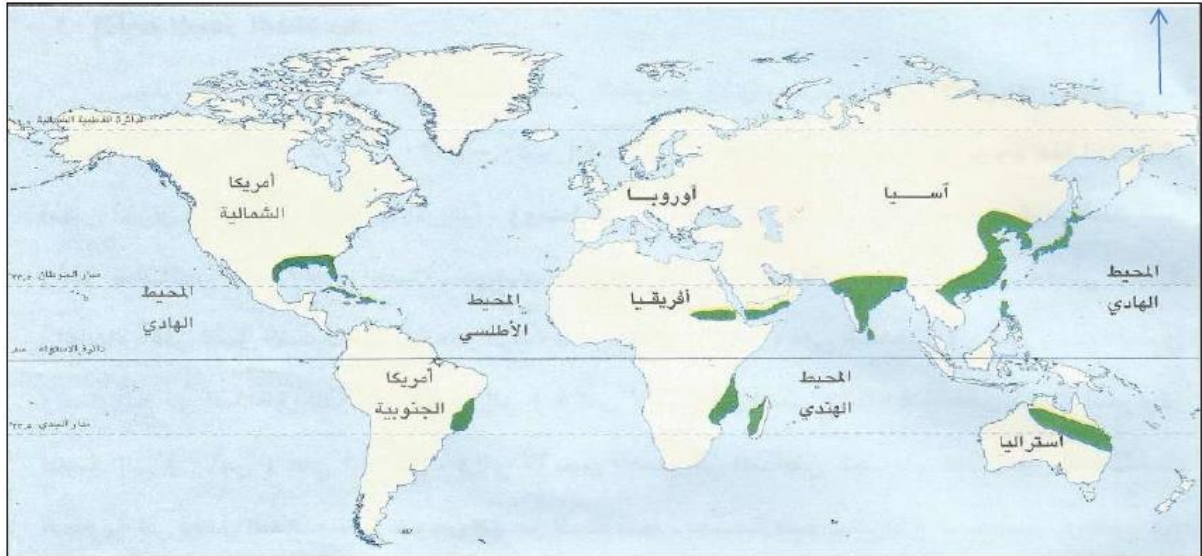
□ الاستوائي □ الحار الجاف (اختر الصواب)

ب- أكتب ما تشير إليه الأرقام الموضحة على الخريطة.

١. المحيط..... ٢- الصحراء.....

ج- ظلل على الخريطة القارة التي لا يظهر فيها هذا النوع من المناخ.

ج) أمامك خريطة للإقليم الموسمي ، ادرسها جيداً ثم اجب عن الأسئلة التالية:



١- استخراج من الخريطة دولتين عربيتين يظهر فيهما هذا الاقليم .

\_\_\_\_\_

٢- استنتج من الخريطة اسم القارة الوحيدة التي لا يظهر فيها هذا الاقليم .

\_\_\_\_\_

٣- ما الجهة يظهر فيها المناخ الموسمي في قارة أمريكا الجنوبية ؟

\_\_\_\_\_

### السؤال الثالث:

أ) من خلال الشكل الذي أمامك أجب عن الأسئلة الآتية

١- أسم الإقليم المناخي المظلل في الخريطة.

.....

٢- الموقع الفلكي لهذا الإقليم.

.....

٣- نوع الأمطار التي تسقط على هذا الإقليم في فصل الشتاء.

.....



أمامك خريطة أحد الاقليم المناخية في العالم ، ادرسها جيداً ثم أجب عن الأسئلة التي تليها :

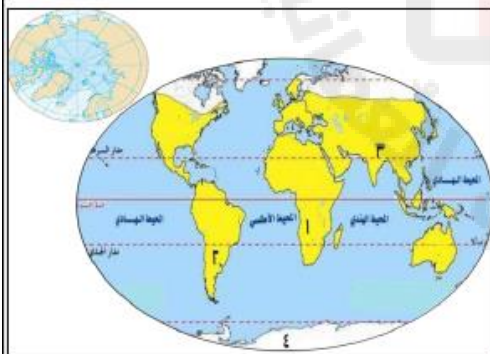


أ- سمِّ الإقليم المناخي الموضح في الخريطة .

ب- في أي جهة من قارة أمريكا الشمالية يظهر هذا المناخ ؟

ج- ظلل على الخريطة الدولة التي يوجد فيها هذا المناخ في شبه الجزيرة العربية .

د- ما سبب سقوط الأمطار شتاء في حوض البحر المتوسط ؟



ثانياً: من خلال الخريطة الموضحة أمامك ، أجب عن الأسئلة الآتية :

١- من الأمثلة على الحيوانات التي تعيش في هذا الإقليم :

ضع علامة (√)



( )



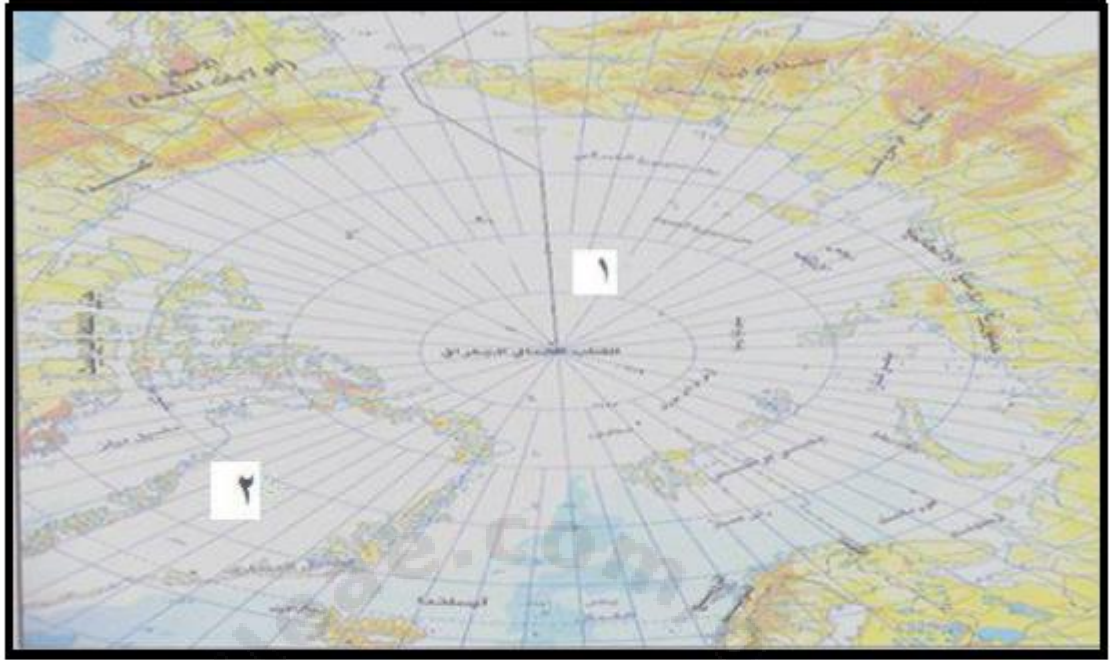
( )

٢- يتمثل هذا الإقليم في نصف الكرة الجنوبي بالقارة المشار إليها بالرقم ( ) .

٣- ماذا سيحدث لهذا الإقليم لو ارتفعت درجات الحرارة بالأرض عما هي عليه حالياً ؟



ج- أمامك خريطة لأحد الاقاليم المناخية في العالم ادرسها جيدا ثم أجب عما يلي:

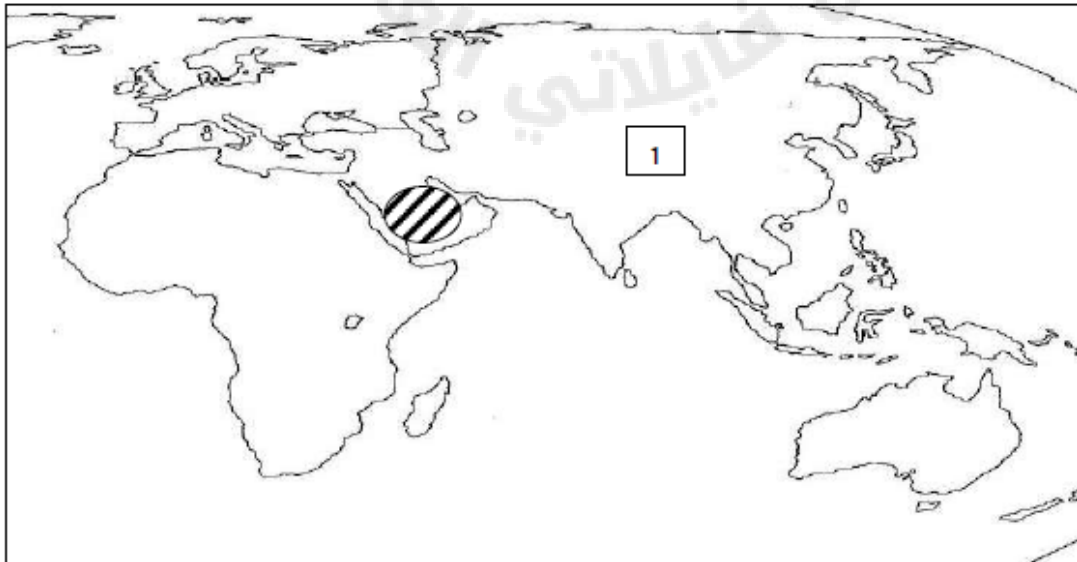


١- سم الاقليم المناخي المبين في الخريطة.

٢- اكتب على الخريطة :

- اسم المحيط المشار اليه بالرقم (١).
- اسم الجزيرة المشار إليها بالرقم (٢)

3- أمامك خريطة العالم صماء ، ادرسها ، ثم أجب عن الاسئلة التي تليها :



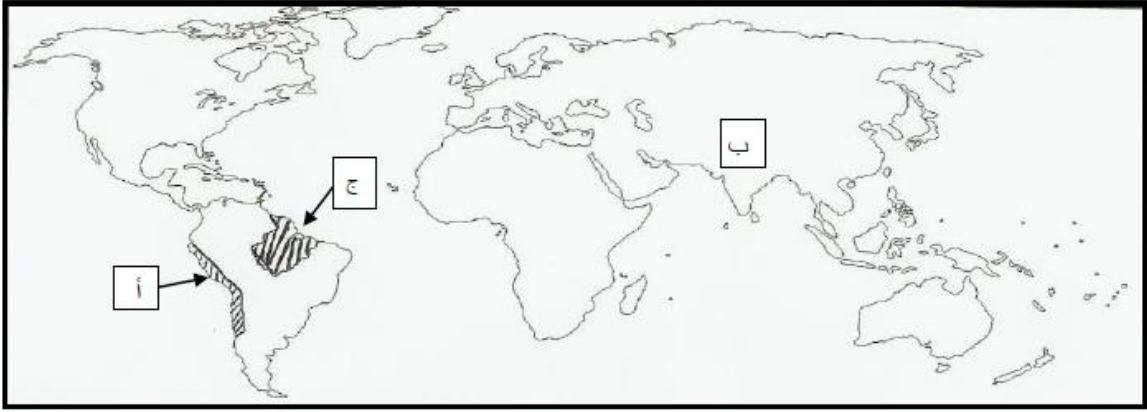
(أ) ما نوع الاقليم المناخي في المنطقة المظلمة ؟

(ب) ظلل على الخريطة التي أمامك المنطقة التي يوجد بها إقليم البحر المتوسط .

(ج) ما اسم الصحراء التي يشهد بها الـ (1) ؟

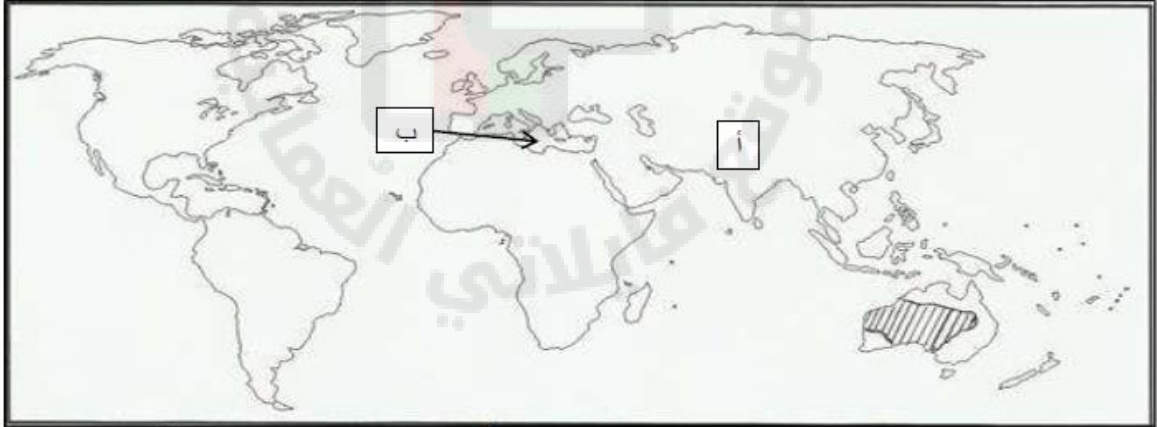


ب . أمامك خريطة العالم ادرسها جيدا ، ثم أجب عما يلي :



١. ارسم خط يوضح الموقع الصحيح لدائرة الاستواء في الخريطة .
٢. اسم الصحراء في المنطقة المظللة و المشار إليها بالرمز ( أ ) .
٣. نوع الضغط الجوي على المنطقة المشار إليها بالرمز ( ب ) في فصل الصيف.
- ٤ . فسر كثافة الغطاء النباتي في المنطقة المشار إليها بالرمز ( ج ) .

٣) أمامك خريطة العالم ادرسها جيدا ، ثم اجب عما يلي :



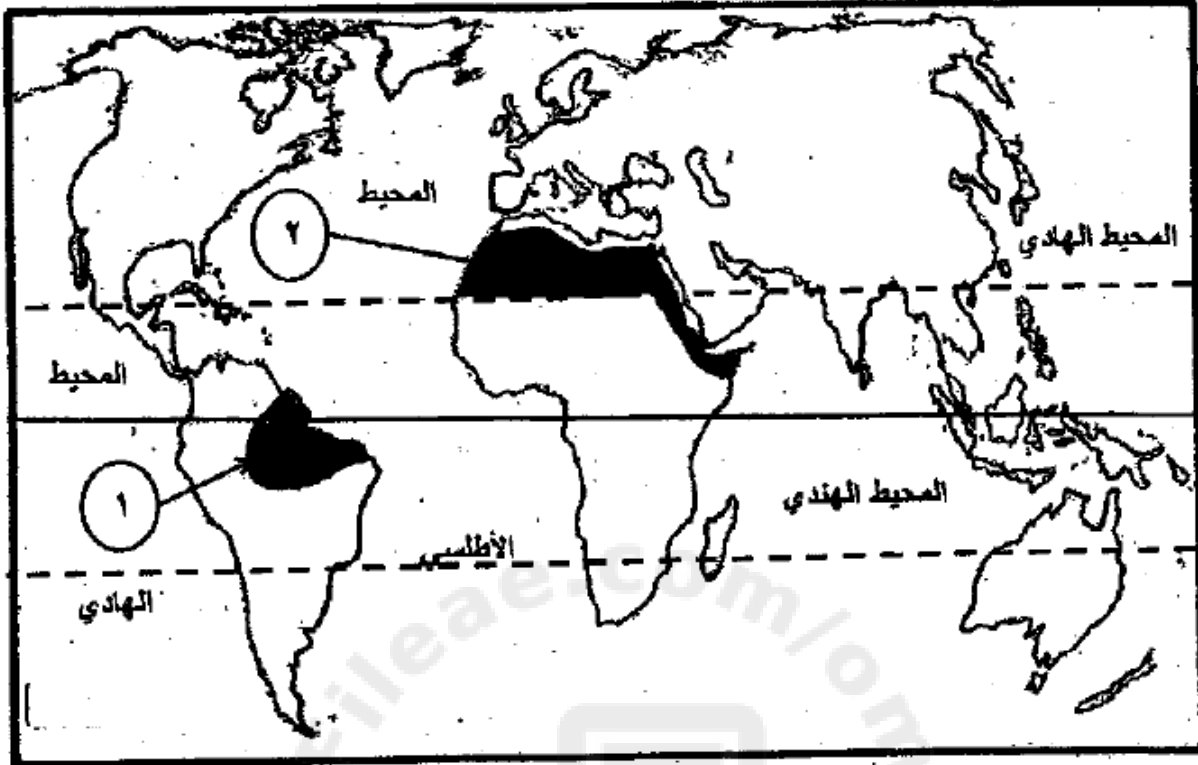
- ١) نوع الضغط الجوي في فصل الصيف على المنطقة المشار إليها بالرمز ( أ )

٢) اسم الصحراء في المنطقة المظللة على الخريطة .

٣) نوع الاقليم المناخي في المناطق المطلة على البحر المشار اليه بالرمز (ب)

٤) وقع على الخريطة المحيط الاطلسي في موقعه الصحيح .

ثالثا : ادرس الخريطة التالية ثم أجب عن الأسئلة التي تليها :



أ- اكتب نوع الإقليم الذي يشير إليه الرقم ( ١ ) في الخريطة ؟ .....

ب- اكتب اثنين من الخصائص المناخية للإقليم المشار إليه بالرقم ( ٢ ) ؟

١- .....

٢- .....

ج- ضع دائرة حول المحافظة التي تتأثر بالمناخ الموسمي في سلطنة عمان ؟