

تم تحميل هذا الملف من موقع المناهج العمانية



## امتحان تجريبي مع نموذج الإجابة في محافظة ظفار

موقع فايلاتي ← المناهج العمانية ← الصف الثامن ← اجتماعيات ← الفصل الأول ← الامتحان النهائي ← الملف

تاريخ إضافة الملف على موقع المناهج: 18:41:00 2025-01-10

ملفات اكتب للمعلم اكتب للطالب | اختبارات الكترونية | اختبارات | حلول | عروض بوربوينت | أوراق عمل  
منهج انجليزي | ملخصات وتقارير | مذكرات وبنوك | الامتحان النهائي للمدرس

المزيد من مادة  
اجتماعيات:

## التواصل الاجتماعي بحسب الصف الثامن



صفحة المناهج  
العمانية على  
فيسبوك

الرياضيات

اللغة الانجليزية

اللغة العربية

التربية الاسلامية

المواد على تلغرام

## المزيد من الملفات بحسب الصف الثامن والمادة اجتماعيات في الفصل الأول

اختبار قصير ثاني بمحافظة الداخلية

1

اختبار قصير ثاني محلول

2

اختبار قصير ثاني حول دولة البوسعيد

3

مذكرة إثرائية سؤال وجواب في الوحدة الثانية (دولة البوسعيد)

4

مذكرة إثرائية في الوحدة الثالثة مؤسسات الدولة الحديثة بطريقة سؤال وجواب

5



امتحان مادة الدراسات الاجتماعية للصف الثامن

الفصل الدراسي: الأول – الدور الأول

للعام الدراسي ١٤٤٦ / ١٤٤٧ هـ - ٢٠٢٤ / ٢٠٢٥ م

▪ عدد صفحات أسئلة الامتحان: ٩ صفحة	▪ زمن الامتحان: ساعة ونصف
▪ الدرجة الكلية للامتحان: ٤٠	▪ الإجابة في دفتر الأسئلة نفسه.
	▪ تكتب الإجابة بالقلم الأزرق أو الأسود.

اسم الطالب: \_\_\_\_\_ الصف: \_\_\_\_\_

التوقيع بالاسم		الدرجة		السؤال
اسم المراجع	اسم المصحح	بالحروف	بالأرقام	
				أولاً: الأسئلة الموضوعية (١ - ١٢)
				١٣
				١٤
				١٥
				١٦
مراجعة الجمع	جمعه			المجموع
			٤٠	المجموع الكلي

أجب عن جميع الأسئلة الآتية

أولاً: الأسئلة الموضوعية

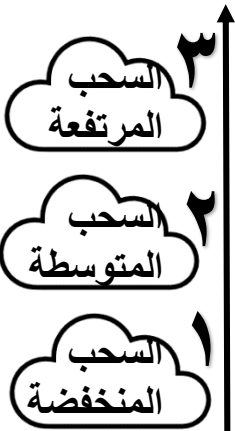
١٢

ظل الشكل ( □ ) المقترن بالإجابة الصحيحة لكل مفردة من المفردات الآتية :

(١) البضاعة التي كانت تحملها السفن العُمانية إلى الهند :

□ اللؤلؤ □ الصندل □ الأرز □ الكافور

(٢) الوصف الصحيح للعبارات الواردة في الشكل أمامك وفقاً لنوع السحب :



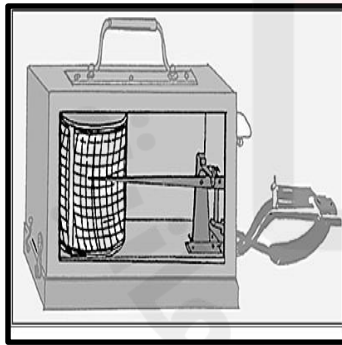
١- غزارة الأمطار  
٢- تسقط منها أمطار بسيطة □  
٣- لا تسقط منها الأمطار

١- لا تسقط منها الأمطار □  
٢- تسقط منها أمطار بسيطة □  
٣- غزارة الأمطار


١- غزارة الأمطار □  
٢- لا تسقط منها الأمطار □  
٣- تسقط منها أمطار بسيطة

١- لا تسقط منها الأمطار □  
٢- غزارة الأمطار □  
٣- تسقط منها أمطار بسيطة

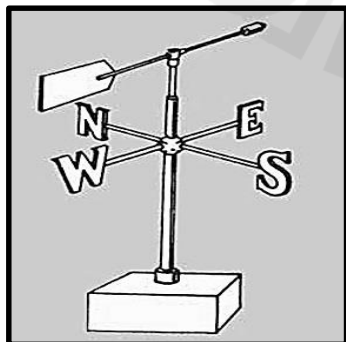
(٣) الصورة التي توضح الجهاز المستخدم لقياس الضغط الجوي :



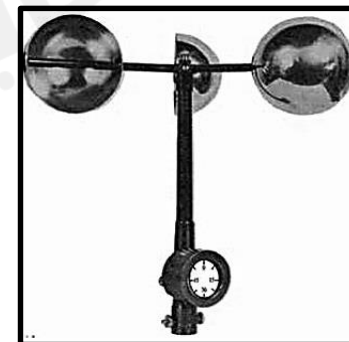
□



□



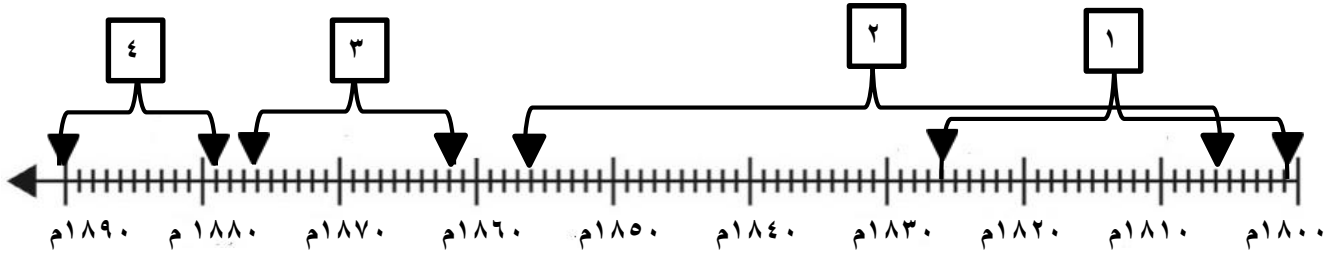
□



□

**تابع أولاً: الأسئلة الموضوعية:**

(٤) الرقم الذي يشير إلى الفترة الزمنية الصحيحة لحكم السيد سعيد بن سلطان لعُمان في المسطرة الزمنية الآتية:



- ١  ٢  ٣  ٤

(٥) العام الميلادي الذي تشكل فيه مجلس الدولة :

- ١٩٩٦  ١٩٩٧  ١٩٩٨  ١٩٩٩

(٦) الفصل الذي تتكون فيه المنخفضات الجوية على حوض البحر المتوسط :

- الربيع  الصيف  الشتاء  الخريف

(٧) المحطتان التي تستخدم لرصد طبقات الجو العليا في سلطنة عُمان :

- مطرح و قلعات  صحار و بهلاء  مرمول وفهود  السيب و صلالة

(٨) الخيار الصحيح الذي يمثل خصائص الإقليم اللذان يمثلهما الرمزان ( أ ) و ( ب ) في الجدول الذي أمامك:

الرمز ( أ )	الرمز ( ب )
ارتفاع المدى الحراري بين الصيف والشتاء	تنمو فيه الغابات الكثيفة بسبب غزارة الأمطار

- |                         |                          |                         |                          |
|-------------------------|--------------------------|-------------------------|--------------------------|
| أ - (الإقليم الصحراوي)  | <input type="checkbox"/> | أ - (الإقليم الاستوائي) | <input type="checkbox"/> |
| ب - (الإقليم الاستوائي) | <input type="checkbox"/> | ب - (الإقليم الموسمي)   | <input type="checkbox"/> |
| أ - (الإقليم الاستوائي) | <input type="checkbox"/> | أ - (الإقليم الموسمي)   | <input type="checkbox"/> |
| ب - (الإقليم الصحراوي)  | <input type="checkbox"/> | ب - (الإقليم الاستوائي) | <input type="checkbox"/> |

**تابع أولاً: الأسئلة الموضوعية:**

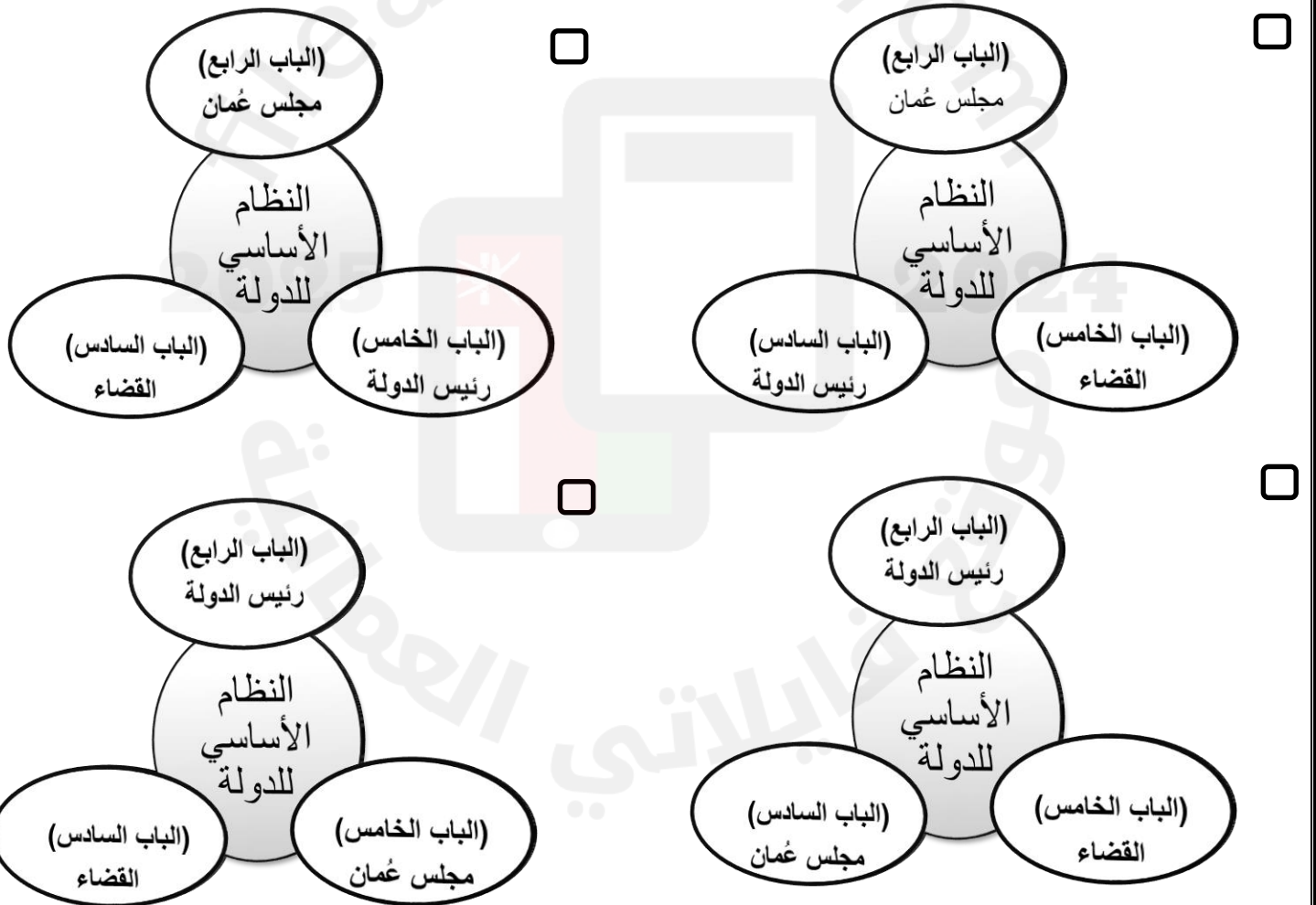
٩) الرمز الذي يمثل أقصى درجة حرارة تصل إليها مدينة صلالة في الفترة بين شهري يوليو وسبتمبر:



أ  ب

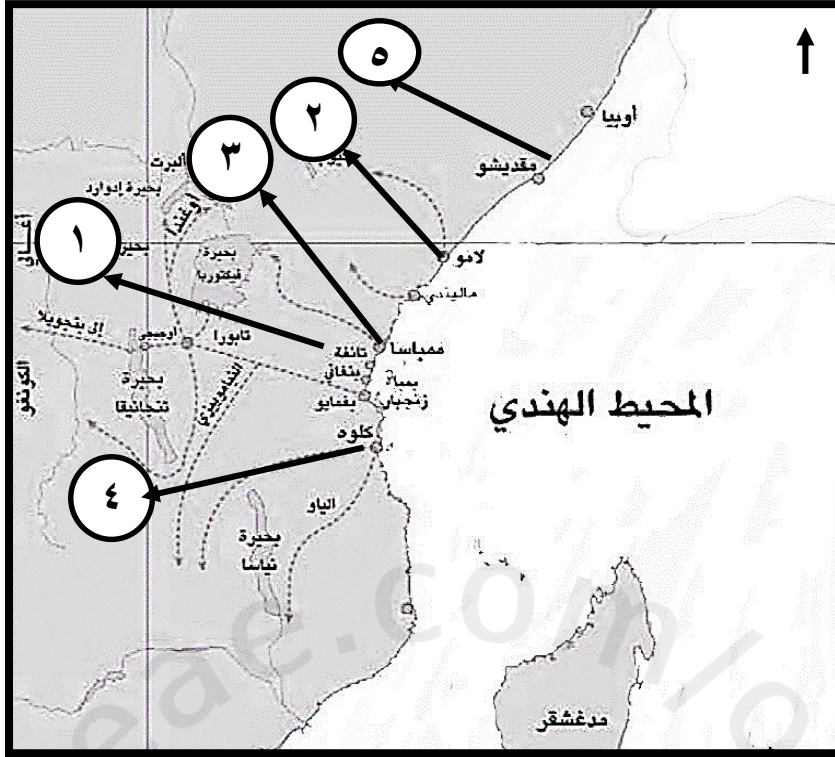
ج  د

١٠) الشكل الصحيح الذي يمثل الباب الرابع والخامس والسادس للنظام الأساسي للدولة :



تابع أولاً: الأسئلة الموضوعية

١١) الجدول الصحيح الذي يمثل طرق القوافل التجارية البرية العُمانية في شرقي أفريقيا وفق الأرقام الموضحة في الخريطة أمامك:



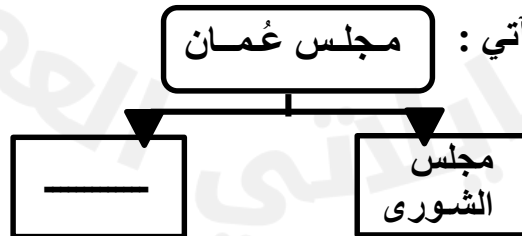
الرقم	اسم الطريق
٢	الشمالي
٣	الأوسط
١	الجنوبي

الرقم	اسم الطريق
٥	الشمالي
٣	الأوسط
٤	الجنوبي

الرقم	اسم الطريق
٥	الشمالي
٢	الأوسط
١	الجنوبي

الرقم	اسم الطريق
٣	الشمالي
١	الأوسط
٤	الجنوبي

١٢) الخيار الصحيح المكمل للشكل الآتي :



الهيئات والمؤسسات

السلطة القضائية

مجلس الدولة

الشؤون المالية

ثانياً : الأسئلة المقالية

٧

١٣) أ. اكتب اسم نوع الرياح لكل من ( س ) و ( ص ) أسفل الشكليين الآتيين:

[٢]

( ص )

- تهب خلال مدة لا تزيد عن أسبوع.
- من الأمثلة عليها رياح الخماسين.

٢-

( س )

- تهب بشكل مستمر طوال أيام السنة.
- من الأمثلة عليها الرياح التجارية.

١-

ب. أراد أحمد دراسة أحد العوامل المؤثرة في الطقس والمناخ الواضح في الشكل أمامك.

[٣]



(١) سمّ العامل الذي قام بدراسته.

(٢) صف كيف يؤثر هذا العامل في تلطيف الجو؟

ج. إذا علمت أن قراءة الترمومتر الجاف (٤٥ س°) وكان المبلل (٣٥ س°)، أحسب النسبة المئوية للرطوبة في الهواء بالاستعانة بالجدول أمامك .

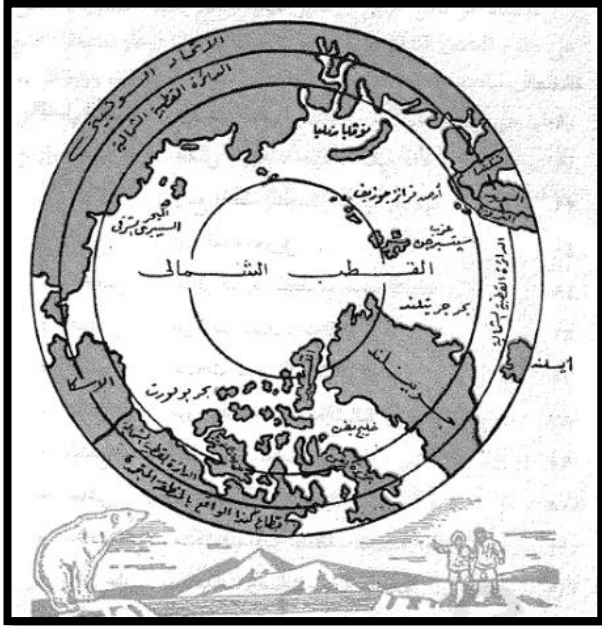
الفرق بين قرائتي الترمومتريين الجاف والمبلل															قراءة الترمومتر
١٥	١٤	١٣	١٢	١١	١٠	٩	٨	٧	٦	٥	٤	٣	٢	١	قراءة الجاف
٣٤	٣٧	٤٠	٤٤	٤٨	٥٢	٥٦	٦٠	٦٤	٦٩	٧٣	٧٨	٨٣	٨٩	٩٤	٤٧
٣٣	٣٦	٤٠	٤٣	٤٧	٥١	٥٥	٥٩	٦٤	٦٨	٧٣	٧٨	٨٣	٨٩	٩٤	٤٦
٣٢	٣٥	٣٩	٤٢	٤٦	٥٠	٥٤	٥٩	٦٣	٦٨	٧٣	٧٨	٨٣	٨٨	٩٤	٤٥
٣١	٣٤	٣٨	٤٢	٤٦	٥٠	٥٤	٥٨	٦٣	٦٨	٧٣	٧٨	٨٣	٨٨	٩٤	٤٤

تابع ثانياً : الأسئلة المقالية

٧

١٤ أ. يبين الشكل أمامك أحد الأقاليم المناخية يظهر في العروض العليا بين درجتي عرض (٦٦-٩٠).

[٢]



(١) اكتب واحدة من خصائص هذا الإقليم.

---

---

---

(٢) تنبأ ماذا يحدث لهذه المنطقة إذا ارتفعت درجة الحرارة.

---

---

[٤]

ب. صنف مصادر الحرارة الآتية وفق الجدول الآتي:

الإشعاع الشمسي - البراكين - الشهب - الإشعاع الأرضي

_____	_____	المصادر الأساسية
_____	_____	المصادر الثانوية

[١]

ج. اكتب تعريفاً مناسباً للظاهرة في الصورة المقابلة أمامك.

---

---

---

---

---

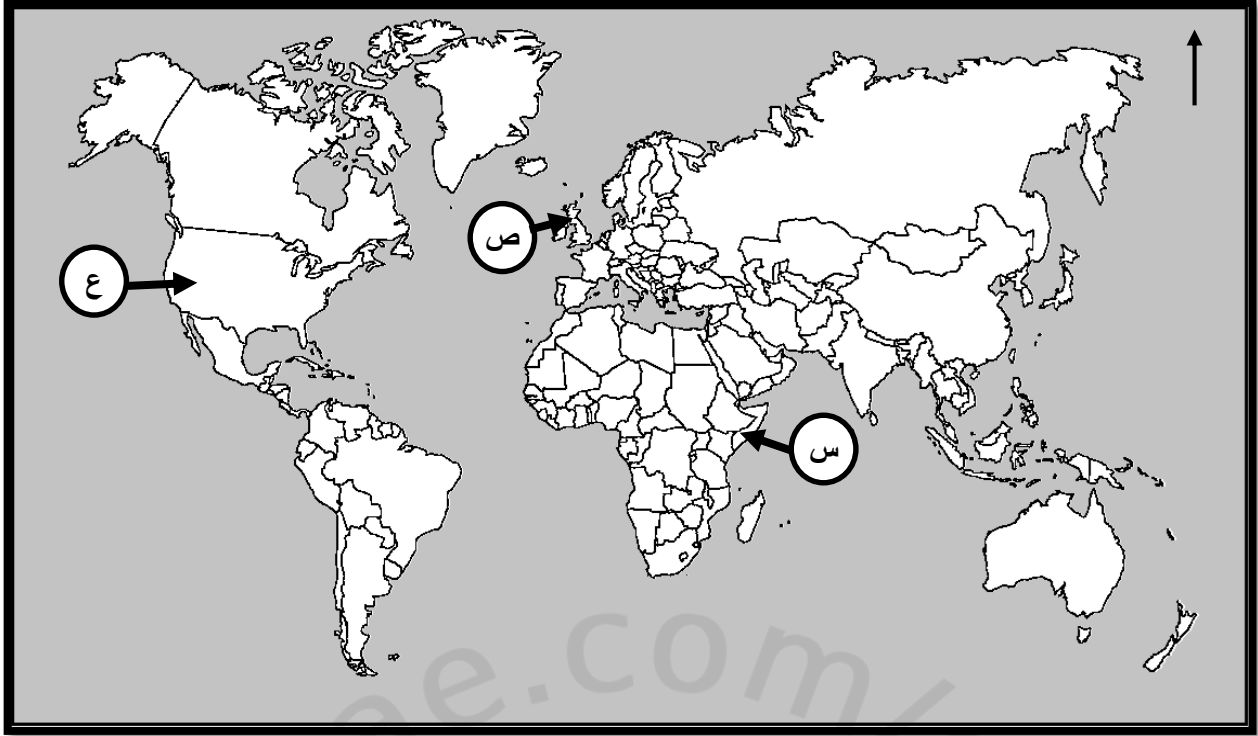




تابع ثانياً : الأسئلة المقالية

٧

(١٥)

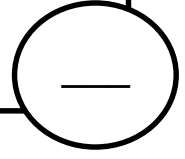
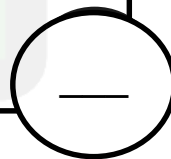


أ. مستعيناً بالخريطة السابقة أعلاه ، انسب الحروف الدالة على مواقع الدول التي كانت لها علاقة [٣] بعمان في عصر دولة البوسعيد أمام العبارات التي تناسبها في الشكل الآتي :

انتشار بعض العادات والتقاليد الاجتماعية العمانية في مجال الزي (الدشداشة).

أصبح تجارها يتاجرون داخل الإمبراطورية مقابل ٥% كرسوم على البضاعة التي يصدرونها.

توقيع شركة الهند الشرقية اتفاقية مع السيد سلطان بن أحمد معاهدة تجارية عام ١٧٩٨م.



ب. كتبت أحد الصحف تصف الأسطول العماني "حينما كان الأسطول العماني مرعباً للأوروبيين [١] والقراصنة "

اثبت صحة العبارة السابقة في عهد الأمام أحمد بن سعيد.

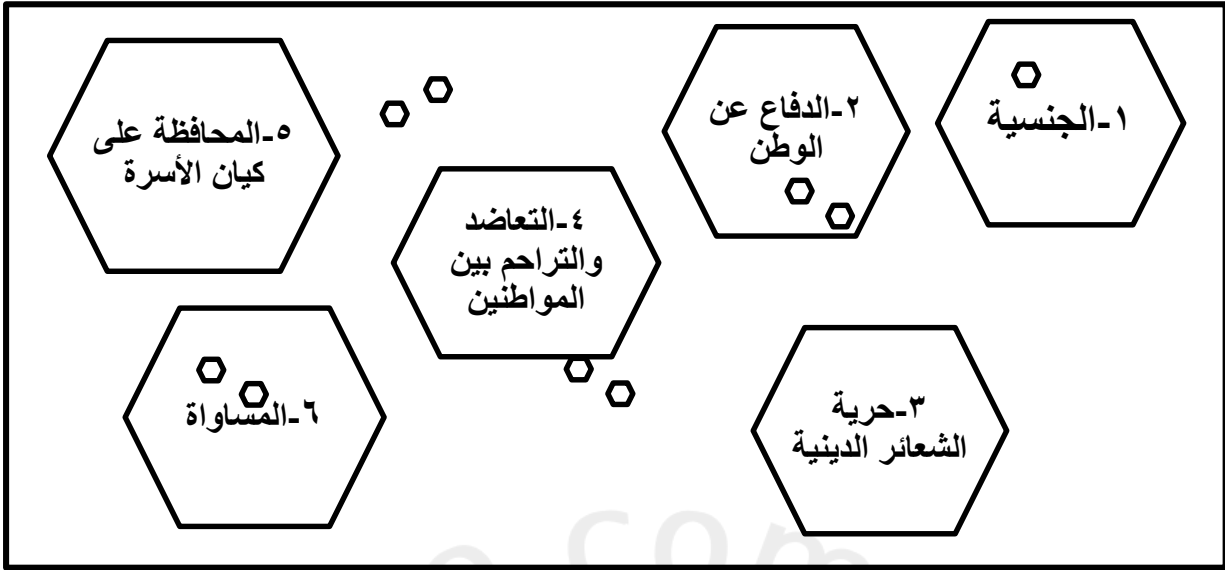
---

---

تابع ثانياً : الأسئلة المقالية

أ. اكتب أرقام العبارات الصحيحة التي تنطبق على حقوق كمواطن :

[٣]



[١]

أرقام العبارات الصحيحة

_____	_____	_____
-------	-------	-------

٧

١٦ ب. تظهر الصورة أمامك احدى تطبيقات الشورى فى السلطنة، استعن بها للإجابة عن الأسئلة

[٢]

الآتية:

(١) برأيك هل يحق لك المشاركة؟

لا

نعم

( ظلل الإجابة الصحيحة )

(٢) وضح إجابتك:

الوثائق المطلوبة لتقديم طلب الترشح  
لانتخابات أعضاء مجلس الشورى للفترة العاشرة:

- صورة شخصية بالزى الرسمي العماني باللون الأبيض، بخلفية زرقاء وجودة عالية.
- صورة للبطاقة الشخصية سارية المفعول من الجهتين.
- شهادة حسن السيرة والسلوك ((عدم المحكومية)).
- المؤهل العلمي لا يقل عن شهادة دبلوم التعليم العام.

ضرورة معادلة الشهادات والمؤهلات العلمية الصادرة من خارج سلطنة عمان من الجهات الرسمية.

elections.om | moigovom | انتخابات أعضاء مجلس الشورى للفترة العاشرة ٢٠٢٣ م

يتبع/١١

## تابع ثانياً : الأسئلة المقالية

" تعد العمارة العُمانية أحد أهم المنجزات الحضارية التي سطرها العمانيون عبر التاريخ ، والتي ما زالت شواهدا قائمة حتى الآن ، ولقد نالت العمارة العُمانية نصيباً وافراً من اهتمام حُكّام البوسعيد فبنوا القصور والقلاع والحصون والأبراج والحارات القديمة والأسواق الشعبية والمدارس والمساجد والجوامع ومن الأمثلة عليها : حصن البريمي ، قلعة بيت الفلج ، قلعة بركاء ومن القصور التي بنوها قصر بيت العلم بمسقط ، وجاءت هذه العمارة استجابة لطبيعة البيئة العُمانية ومكوناتها فلقد استخدموا الحجارة والجص والصاروج العُماني "

ب. استنتج من الفقرة السابقة ما يأتي:

[١] (١) اسم عمارة عُمانية بنيت في عهد الإمام أحمد بن سعيد. \_\_\_\_\_

[١] (٢) اكتب واحدة من المواد التي استخدمها العُمانيون في عمارتهم. \_\_\_\_\_

[١] (٣) استخرج من الخريطة أمامك الرقم الذي يشير إلى موقع القصر الذي تحته خط في الفقرة السابقة.



[٢] ج. اكتب اثنين من مميزات العمارة العُمانية في عهد دولة البوسعيد.

\_\_\_\_\_ ➤

\_\_\_\_\_ ➤

انتهت الأسئلة مع الدعاء للجميع بالتوفيق والنجاح



نموذج إجابة الامتحان التجريبي للصف الثامن


المادة : الدراسات الاجتماعية

الفصل الدراسي : الأول

للعام الدراسي ١٤٤٦ هـ - ٢٠٢٤م/٢٠٢٥م

المادة : الدراسات الاجتماعية الدرجة الكلية: ( ٤٠ ) درجة.  
تنبيهه: نموذج الإجابة في ( ٦ ) .

أولاً: إجابة الأسئلة الموضوعية. الدرجة ( ١٢ )

المفردة	الإجابة	الدرجة	الصفحة
١	اللؤلؤ	١	٧٢
٢	١- غزارة الأمطار ٢- لا تسقط منها الأمطار ٣- تسقط منها أمطار بسيطة	١	٣٩
٣		١	٣٠
٤	١	١	٦٠
٥	١٩٩٧	١	٩٦
٦	الشتاء	١	٤٨
٧	السيب وصلالة	١	١٩
٨	أ - (الإقليم الصحراوي) ب- (الإقليم الاستوائي)	١	٤٤،٤٢
٩	أ	١	٢٦



نموذج إجابة الامتحان التجريبي للصف الثامن

المادة : الدراسات الاجتماعية

الفصل الدراسي : الأول

للعام الدراسي ١٤٤٦ هـ - ٢٠٢٤م/٢٠٢٥م

المادة : الدراسات الاجتماعية الدرجة الكلية: (٤٠) درجة.  
تنبيهه: نموذج الإجابة في ( ٦ ) .

الدرجة (١٢)

أولاً: إجابة الأسئلة الموضوعية.

المفردة	الإجابة	الدرجة	الصفحة						
١٠	<p>رئيس الدولة (الباب الرابع)</p> <p>النظام الأساسي للدولة</p> <p>مجلس عُمان (الباب الخامس)</p> <p>القضاء (الباب السادس)</p>	١	٨٦						
١١	<table border="1"><tr><td>٣</td><td>الطريق الشمالي</td></tr><tr><td>١</td><td>الطريق الأوسط</td></tr><tr><td>٤</td><td>الطريق الجنوبي</td></tr></table>	٣	الطريق الشمالي	١	الطريق الأوسط	٤	الطريق الجنوبي	١	٦٦
٣	الطريق الشمالي								
١	الطريق الأوسط								
٤	الطريق الجنوبي								
١٢	مجلس الدولة	١	٩٥						



## نموذج إجابة الامتحان التجريبي للصف الثامن

المادة : الدراسات الاجتماعية

الفصل الدراسي : الأول

للعام الدراسي ١٤٤٦ هـ - ٢٠٢٤م/٢٠٢٥م

المادة : الدراسات الاجتماعية  
الدرجة الكلية: (٤٠) درجة.  
تنبيهه: نموذج الإجابة في ( ٦ ) .

الدرجة ( ٧ )

أولاً: إجابة الأسئلة المقالية.

المفردة	الجزئية	الإجابة	الدرجة	الصفحة	
١٣	أ	١- رياح دائمة.	١	٣٢	
		٢- رياح محلية.	١	٣٣	
	ب	١- الغطاء النباتي.	١	١٣	
		٢- (تعمل النباتات على تلطيف الجو بمنعها الإشعاع الشمسي من الاتصال المباشر مع سطح الأرض / تعمل النباتات على تكثيف بخار الماء في الهواء .	٢	١٧	
	معياري التصحيح: تقبل إجابة الطالب بما يفيد المعنى * يكتفى بذكر واحدة				
	ج		٤٥ س° - ٣٥ س° = ١٠ س° النسبة المئوية للرطوبة الجوية في الهواء = ٥٠%	٢	٣٧



## نموذج إجابة الامتحان التجريبي للصف الثامن

المادة : الدراسات الاجتماعية

الفصل الدراسي : الأول

للعام الدراسي ١٤٤٦ هـ - ٢٠٢٤م/٢٠٢٥م

المادة : الدراسات الاجتماعية  
الدرجة الكلية: ( ٤٠ ) درجة.  
تنبيهه: نموذج الإجابة في ( ٦ ) .

الدرجة ( ٧ )

أولاً: إجابة الأسئلة المقالية.

المفردة	الجزئية	الإجابة	الدرجة	الصفحة						
	أ	١- (اختلاف طول الليل والنهار بين الصيف والشتاء / وصول أشعة الشمس مائلة )	١	٥٠						
		٢- ذوبان الكتل الجليدية - ارتفاع منسوب المياه	١							
<u>معياري التصحيح</u> : تقبل أي إجابة للطالب بما يفيد المعنى										
١٤	ب	<table border="1"><tr><td>المصادر الأساسية</td><td>الإشعاع الشمسي</td><td>الإشعاع الأرضي</td></tr><tr><td>المصادر الثانوية</td><td>البراكين</td><td>الشهب</td></tr></table>	المصادر الأساسية	الإشعاع الشمسي	الإشعاع الأرضي	المصادر الثانوية	البراكين	الشهب	٤	٢١
		المصادر الأساسية	الإشعاع الشمسي	الإشعاع الأرضي						
المصادر الثانوية	البراكين	الشهب								
<u>معياري التصحيح</u> : لكل درجة										
	ج	مظهر من مظاهر التكاثف يسمى الندى وهي قطرات مائية تتكون أثناء الليل وبخاصة في ساعات الصباح الباكر على الأسطح الباردة وذلك بعد أن يصل الهواء إلى نقطة الندى ويتشكل الندى في حالة صفاء الجو وسكون الهواء .	١	٣٨						





## نموذج إجابة الامتحان التجريبي للصف الثامن

المادة : الدراسات الاجتماعية

الفصل الدراسي : الأول

للعام الدراسي ١٤٤٦ هـ - ٢٠٢٤م/٢٠٢٥م

المادة : الدراسات الاجتماعية  
الدرجة الكلية: (٤٠) درجة.  
تنبيهه: نموذج الإجابة في ( ٦ ) .

الدرجة ( ٧ )

أولاً: إجابة الأسئلة المقالية.

المفردة	الجزئية	الإجابة	الدرجة	الصفحة			
١٥	أ	<p>توقيع شركة الهند الشرقية اتفاقية مع السيد سلطان بن أحمد معاهدة تجارية عام ١٧٩٨م.</p> <p>ص</p> <p>اصبح تجارها يتاجرون داخل الإمبراطورية مقابل ٥% كرسوم على البضاعة التي يصدرونها.</p> <p>ع</p> <p>انتشار بعض العادات والتقاليد الاجتماعية العمانية في مجال الزي (الدشداشة).</p> <p>س</p>	٣	٧٣ ٧٥ ٧٦			
	معيار التصحيح: لكل درجة						
	ب	ارسل حملة تأديبية للقضاء على القراصنة الذين كانوا يعترضون السفن التجارية القادمة إلى عُمان من منطقة بنجلور بالهند .		١	٧٢		
ج		<table border="1"><tr><td>٦</td><td>٣</td><td>١</td></tr></table>	٦	٣	١	٣	٩١
٦	٣	١					



## نموذج إجابة الامتحان التجريبي للصف الثامن

المادة : الدراسات الاجتماعية

الفصل الدراسي : الأول

للعام الدراسي ١٤٤٦ هـ - ٢٠٢٤م/٢٠٢٥م

المادة : الدراسات الاجتماعية  
الدرجة الكلية: ( ٤٠ ) درجة.  
تنبيهه: نموذج الإجابة في ( ٦ ) .

الدرجة ( ٧ )

أولاً: إجابة الأسئلة المقالية.

المفردة	الجزئية	الإجابة	الدرجة	الصفحة
	أ	١- لا	٢	٩٦
		٢- لأن من شروط الترشيح أن لا يقل عن سن ثلاثين سنة .		
<u>معياري التصحيح</u> : يشترط الحصول على الدرجتان كتابة الاختيار والتفسير الصحيح للمفردة/ تقبل إجابة الطالب بما يفيد المعنى.				
١٦	ب	١- قلعة بيت الفلج / قلعة بركاء.	١	٦٩-٦٨
		٢- الحجارة / الجص / الصاروج العُماني.	١	
	٣- هندستها الرائعة / تصميماتها المتنوعة / زخارفها التي تظهر على الجدران والسقوف.	٢		
	ج	٤- ١	١	

انتهى نموذج الإجابة