

أسئلة الامتحان النهائي الرسمي الفترة الصباحية



تم تحميل هذا الملف من موقع المناهج العمانية

موقع فايلاتي ← المناهج العمانية ← الصف الثامن ← اجتماعيات ← الفصل الثاني ← ملفات متنوعة ← الملف

تاريخ إضافة الملف على موقع المناهج: 09:33:58 2025-06-03

ملفات اكتب للمعلم اكتب للطالب | اختبارات الكترونية | اختبارات | حلول | عروض بوربوينت | أوراق عمل
منهج انجليزي | ملخصات وتقارير | مذكرات وبنوك | الامتحان النهائي للمدرس

المزيد من مادة
اجتماعيات:

التواصل الاجتماعي بحسب الصف الثامن



صفحة المناهج
العمانية على
فيسبوك

الرياضيات

اللغة الانجليزية

اللغة العربية

التربية الاسلامية

المواد على تلغرام

المزيد من الملفات بحسب الصف الثامن والمادة اجتماعيات في الفصل الثاني

مراجعة شاملة لوحدات المادة

1

ملخص شرح درس الثورة الصناعية

2

تقرير عن مدينة صحارى العمانية

3

تقرير عن مصادر المياه

4

تقرير عن الأفلاج في سلطنة عمان

5

١٢ درجة

أولاً: الأسئلة الموضوعية:
ظلل الشكل () المقترن بالإجابة الصحيحة لكل مفردة من المفردات الآتية:

- ١- المشروع الذي نجحت حكومة سلطنة عمان في استغلاله لسد العجز المائي في محافظة الظاهرة:
☐ حوض رمال الشرقية ☐ حوض المسرات ☐ الحوض الجاف ☐ حوض النجد

☐ ١٥ سنة

☐ ١٤ سنة

☐ ١٣ سنة

٢- استغرق بناء قلعة نزوى:

☐ ١٢ سنة

٣- البطاقة التعريفية الصحيحة التي تصف فلج عين الحمام:

فلج غيلي	<input type="checkbox"/>
مصدره مياه الجريان السطحي	
يقع في نزوى	

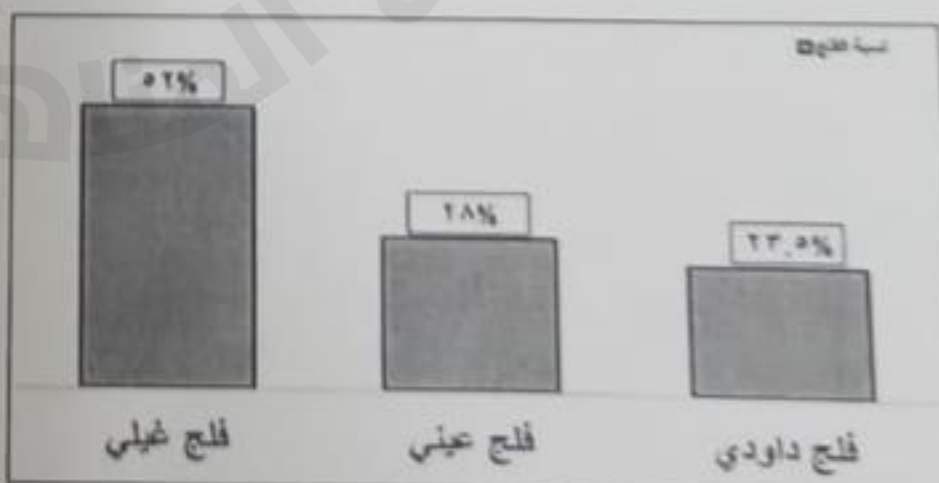


فلج عيني	<input type="checkbox"/>
مصدره مياه الجريان السطحي	
يقع في قريات	

فلج عيني	<input type="checkbox"/>
مصدره مياه العيون والينابيع	
يقع في بوشر	

فلج داودي	<input type="checkbox"/>
مصدره مياه العيون والينابيع	
يقع في الرستاق	

- ٤- الإمام العماني الذي شيد حصن الحزم:
☐ محمد بن عبدالله ☐ سعيد بن سلطان ☐ سلطان بن سيف ☐ أحمد بن سعيد

٥- الشكل البياني الصحيح لنسبة أنواع الأفلاج في سلطنة عمان:



تابع أولاً: الأسئلة الموضوعية:

٦- الدولة التي بدأت فيها النهضة الأوروبية:
☐ ألمانيا ☐ أسبانيا

☐ بريطانيا ☐ إيطاليا

٧- الرقم الدال على القارة التي أطلق عليها ((العالم الجديد)):



☐ ٤

☐ ٣

☐ ٢

☐ ١

٨- المدينة العمانية التي وصفها ابن بطوطة بقوله (ولهذه المدينة بساتين فيها موز كثير، وهو طيب الطعم، وبها أيضاً التارجيل، وقومها أهل تجارة لا عيش لهم إلا منها):

☐ نزوى

☐ ظفار

☐ الرستاق

☐ صحار

٩- القرن الهجري لتاريخ إنشاء جامع البياضة:

☐ التاسع

☐ الثامن

☐ السابع

☐ السادس

١٠- السفينة العمانية التي خصصت لتنفيذ رحلة بحرية لدراسة طريق الحرير البحري والتجارة القديمة:

☐ سلطنة

☐ صحار

☐ فلك السلامة

☐ الرحماني

١١- الصورة المقابلة توضح إحدى مظاهر تملح المياه:

☐ سوء استخدام المياه

☐ تناقص المياه الجوفية العذبة

☐ زيادة ضخ المياه

☐ تسرب المياه الماحلة إلى الآبار الساحلية



١٢- مخترع آلة الطباعة عام ١٤٤٥م:

☐ جاك كارتيه

☐ يوحنا جوتنبرغ

☐ كريستوفر كولمبو

☐ جيمس واط

٧ درجات

ثانيًا: الأسئلة المقالية:

١- اكتب اسم المفهوم الصحيح مقابل كل عبارة في الجدول التالي:

المفهوم	العبارة
.....	٢- تتدفق المياه إلى أعلى لعدة أمتار بفعل عاملي الضغط العالي والحرارة، وتأتي هذه المياه من أعماق بعيدة عن مستوى سطح الأرض
.....	ب- تحويل مادة القطن أو الكتان أو الصوف إلى خيوط
.....	ج- أحواض مائية داخلية محدودة المساحة محاطة باليابس من جميع الجهات.

٢- قارن بين الصورة (١) والصورة (٢) حسب معطيات الجدول أدناه :



(٢)



(١)

أوجه المقارنة	الصورة (١)	الصورة (٢)
نوع النقل	أ-	ب-
أهميته (المميزات)	ج-	د-

يتبع/٤

تابع ثانيًا: الأسئلة المقالية:

٧ درجات

١٤١- ادرس خريطة أوروبا السياسية الصماء ثم أجب عن ما يليها :



- انسب الاكتشافات الجغرافية للدول الأوروبية، حسب الأرقام الموضحة في الجدول أدناه:

الاكتشاف الجغرافي	إثبات كروية الأرض	اكتشاف أجزاء من أمريكا الشمالية	اكتشاف نهر سانت لويس في كندا	الدوران حول قارة أفريقيا
رقم الدولة الدال عليه	أ-	ب-	ج-	د-

٢- قرأ سالم في مجلة قصة قصيرة عن مدينة الرستاق:

(في أحد الأيام، قرر خالد استكشاف ولاية الرستاق. بدأ جولته في سوق الرستاق، حيث أعجب بازدهار التجارة والنشاط الاقتصادي. بعدها زار المناطق الصناعية التي تضم مشاريع تسهم في تنمية الاقتصاد المحلي. مرَّ أيضًا بجامعة التقنية والعلوم التطبيقية بالرستاق والمدارس التي تعكس الاهتمام بتأهيل الأجيال لخدمة الاقتصاد. وأنهى يومه بزيارة مستشفى الرستاق، مبهورًا بالخدمات الطبية المتقدمة. غادر خالد المكان معجبًا بالتنمية الاقتصادية والحضارية للولاية).

استنادًا إلى النص، صنف المنجزات الحضارية التي تمت الإشارة إليها في القصة وفق المجال الذي تنتمي إليه في الجدول أدناه:

المجال التعليمي والثقافي	المجال الصحي	المجال الاقتصادي
أ-	ب-	ج-

يتبع/

المادة: الدراسات الاجتماعية - الصف: الثامن - الفصل الدراسي الثاني - الدور الأول (الفترة الصباحية) العام الدراسي ٢٠٢٤ / ٢٠٢٥ م

٧ درجات

تابع ثانيًا: الأسئلة المقالية:

(١٥) ١- أذكر ما يأتي:

أ- أهمية واحدة للعيون المائية المعدنية الساخنة التي تتمتع بها مدينة الرستاق .

ب- عامل واحد أسهم في قيام النهضة الأوربية.

ج- دليل واحد على ازدهار صحار بصناعة الثياب الجيدة منذ القدم.

(١٥) ٢- أمامك جدول عدد سكان كل ولاية من ولايات محافظة مسقط ادرسه جيداً ثم أجب عن الأسئلة التالية:

الولاية	مطرح	بوشر	السيب	العامرات	مسقط	قريات
عدد سكانها	١٥٠١٢٤	١٩٢٢٣٥	٣٠٢٩٩٢	٥٨٤٠٠	٢٧٢١٦	٤٤٩١١

أ- الولاية التي احتلت المرتبة الثالثة من حيث ارتفاع عدد السكان.

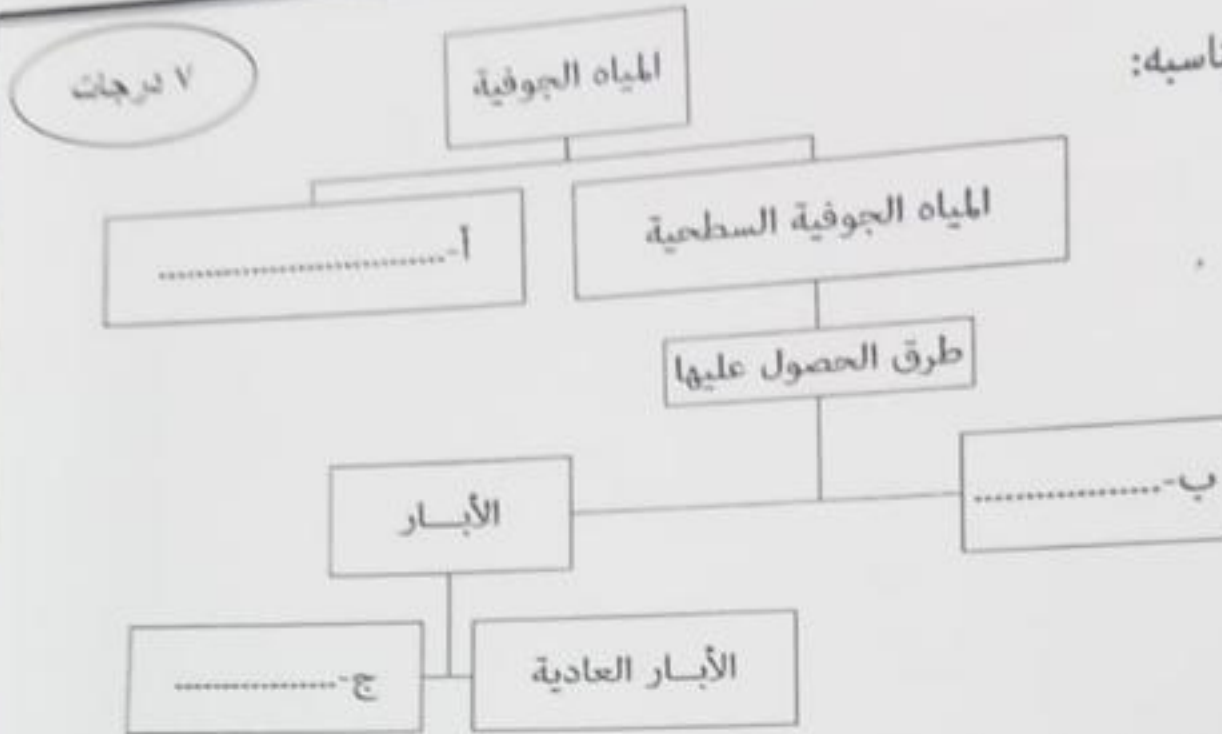
ب- فسر النمو السكاني الكبير لسكان محافظة مسقط في السنوات الأخيرة.

ج- أقل الولايات من حيث عدد السكان.

د- عدد سكان ولاية العامرات.

تابع ثانيًا: الأسئلة المقالية:

١٦) ١- أكمل المخطط الآتي بما يناسبه:



١٦) ٢- اكتب رمز كل صورة من المنجزات الحضارية داخل الدائرة التي تمثل موقعها الصحيح في محافظات سلطنة عمان على الخريطة:



أ



ب



ج



د

انتهت الأسئلة مع الدعاء للجميع بالتوفيق والنجاح