

تم تحميل هذا الملف من موقع المناهج العُمانية



\* للحصول على أوراق عمل لجميع الصفوف وجميع المواد اضغط هنا

<https://almanahj.com/om>

\* للحصول على أوراق عمل لجميع مواد الصف الثامن اضغط هنا

<https://almanahj.com/om/8>

\* للحصول على جميع أوراق الصف الثامن في مادة علوم ولجميع الفصول, اضغط هنا

<https://almanahj.com/om/8science>

\* للحصول على أوراق عمل لجميع مواد الصف الثامن في مادة علوم الخاصة بـ الفصل الأول اضغط هنا

<https://almanahj.com/om/8science1>

\* لتحميل كتب جميع المواد في جميع الفصول للـ الصف الثامن اضغط هنا

<https://almanahj.com/om/grade8>


\* لتحميل جميع ملفات المدرس مدرسة دارسيات للتعليم الأساسي اضغط هنا

للتحدث إلى بوت على تلغرام: اضغط هنا

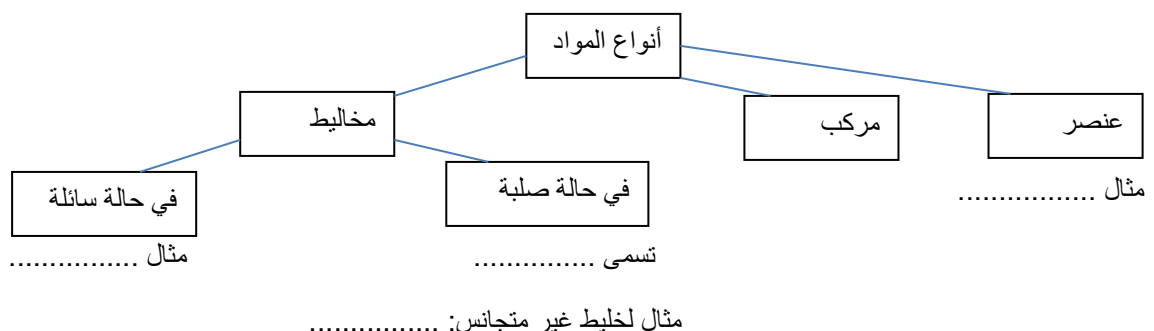
[https://t.me/omcourse\\_bot](https://t.me/omcourse_bot)

[illegible]

العبارة	صح	خطأ
درجة غليان Li أقل من درجة غليان K		
حجم ذرة F أكبر من حجم ذرة Cl		
عدد الكترونات آخر مدار للعنصر Si أربعة الكترونات		
تفاعل عنصر Ar قوي مع الماء		



سبيكة	الماء	الصلب	أكسجين	ماء البحر	برونز
-------	-------	-------	--------	-----------	-------

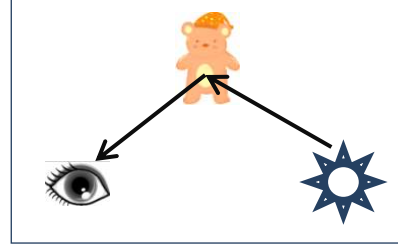
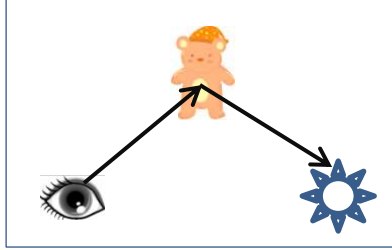
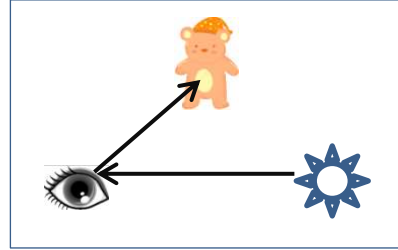
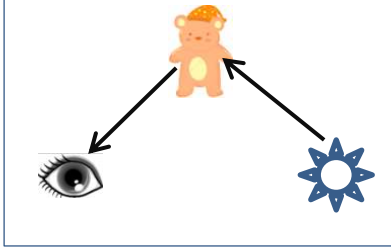




4- علي لا يمكن للطفل رؤية الشمعة باستخدام الأنبوب كما في الصورة

(1) .....

5- أي المخططات التالية توضح كيف بإمكاننا رؤية الدمية (1)



انتهت الأسئلة .. أنار الله عقلك وسدد خطاك ..