

شكراً لتحميلك هذا الملف من موقع المناهج العمانية



الامتحان الرسمي النهائي لمحافظة الشرقية

[موقع المناهج](#) ⇨ [المناهج العمانية](#) ⇨ [الصف السابع](#) ⇨ [اجتماعيات](#) ⇨ [الفصل الثاني](#) ⇨ [الملف](#)

التواصل الاجتماعي بحسب الصف السابع

روابط مواد الصف السابع على تلغرام

[الرياضيات](#)

[اللغة الانجليزية](#)

[اللغة العربية](#)

[التربية الاسلامية](#)

المزيد من الملفات بحسب الصف السابع والمادة اجتماعيات في الفصل الثاني

[الامتحان الرسمي النهائي بمحافظة الداخلية](#)

1

[الاختبار النهائي الرسمي في محافظة مسقط](#)

2

[نموذج إجابة الاختبار النهائي الرسمي في محافظة شمال الشرقية](#)

3

[الامتحان الرسمي النهائي لمحافظة الشرقية](#)

4

[الامتحان الرسمي النهائي لمحافظة الداخلية](#)

5

أجب عن جميع الأسئلة الآتية

السؤال الأول: ضع دائرة حول رمز الإجابة الصحيحة لكل مفردة من المفردات الآتية:
١- الشعب الذي أقام في المناطق الشمالية من بلاد الرافدين:

- (أ) الآشوري (ب) الأكادي (ج) البابلي (د) الكلداني

٢- الشكل البياني الذي يوضح نسبة سكان المدن في الدول النامية بالنسبة لسكان المدن في العالم :



٣- الرقم الذي يشير إلى الموقع الصحيح للمحافظة التي عُقد فيها "ندوة التصحر" عام 2002م في الخريطة المقابلة:




- (أ) ١
(ب) ٢
(ج) ٣
(د) ٤

٤- يطلق على التجمع السكاني الذي تتوافر فيه خدمات البنى التحتية:

- (أ) الريف (ب) المدينة (ج) التنمية الريفية (د) التراجع الحضري

٥- الملك الذي بنى المعلم المعماري الذي تشير إليه الصورة المقابلة :



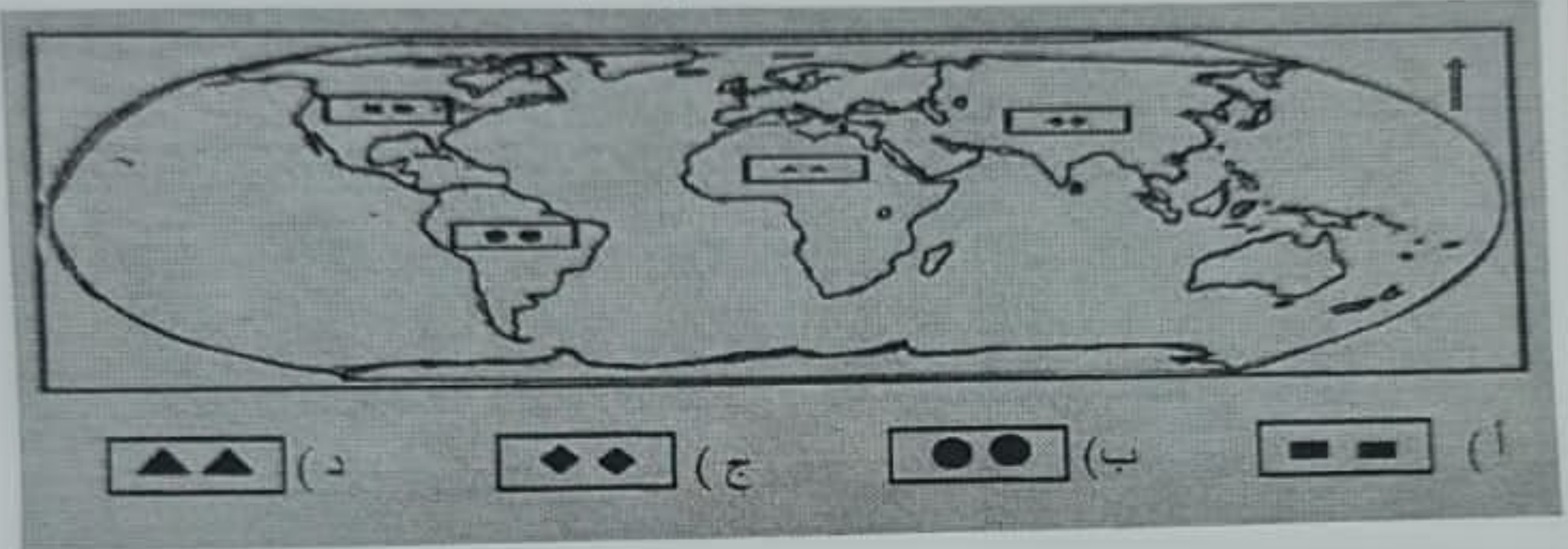
- (أ) نبوخذ نصر (ب) آشور بانيبال (ج) نارام سن (د) نابوبولاسر

تابع السؤال الأول:

٦- استقر السومريون في السهل الجنوبي للعراق منذ الألف :

(أ) الثانية ق.م (ب) الثالثة ق.م (ج) الرابعة ق.م (د) الخامسة ق.م

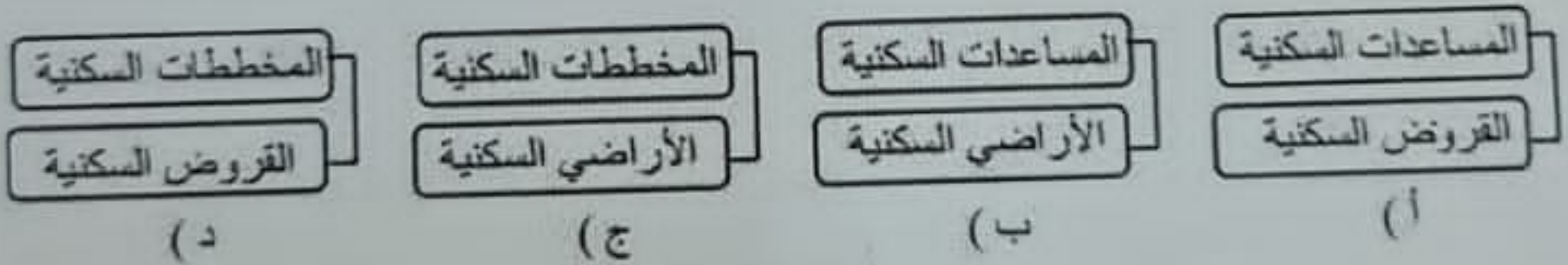
٧- الرمز الدال على القارة التي توجد بها المدينة الأسرع نموا في العالم :



٨- يعدّ الأموريون من الشعوب السامية لأنهم جاءوا من :

(أ) شرق أسيا (ب) شبه جزيرة سيناء (ج) شرق افريقيا (د) شبه الجزيرة العربية

٩- المخطط الصحيح للبرامج التي يشملها مجال الإسكان الاجتماعي في سلطنة عُمان:



١٠- الحرف الدال على الموقع الجغرافي الصحيح

للإهرامات في خريطة مصر القديمة المقابلة:

(أ) س

(ب) ع

(ج) ك

(د) و



المادة: الدراسات الاجتماعية الصف السابع الدور الأول - الفصل الدراسي الثاني - العام الدراسي ٢٠٢٢/٢٠٢٣ م (٣)

تابع السؤال الأول:

١١- جميع ما يأتي ينطبق على مفهوم الحضرة عدا:
(أ) توفر الخدمات (ب) ضعف العلاقات الأسرية

١٢- الجدول الذي يمثل التسلسل الصحيح ملوك الدولة المصرية الحديثة من الأقدم إلى الأحدث:
(ج) الوسط والمركزية (د) انتشار الأسر الكبيرة.

١	حشيشوت
٢	تحتس الثالث
٣	أخناتون
٤	رمسيس الثاني

(أ)

١	رمسيس الثاني
٢	تحتس الثالث
٣	أخناتون
٤	حشيشوت

(ب)

١	حشيشوت
٢	رمسيس الثاني
٣	أخناتون
٤	تحتس الثالث

(ج)

١	أخناتون
٢	تحتس الثالث
٣	حشيشوت
٤	رمسيس الثاني

(د)

12

السؤال الثاني:

أولاً: اكتب المصطلح أو المفهوم الدال على العبارات في الجدول الآتي:

المصطلح / المفهوم	العبرة
.....	١- صخور صلبة قوية تعترض مجرى النهر وتعوق حركة الملاحة فيه .
.....	٢- المدن التي يزيد سكانها عن (12) مليون نسمة.

ثانياً: أعط نتيجة واحدة ترتبت على الآتي :

١- استغلال المصريون المناجم والمحاجر في عصر الدولة الوسطى .

٢- بناء المهاجرين إلى المدن مساكن متواضعة على أرض لا يمتلكونها وبمواد غير ثابتة .

(٦)

المادة : الدراسات الاجتماعية الصف السابع الدور الأول - الفصل الدراسي الثاني - العام الدراسي ٢٠٢٢/٢٠٢٣ م

السؤال الرابع:

أولاً: أمامك جدول يوضح النسبة المئوية لسكان المدن في بعض الأقاليم في العالم. أدرسه جيداً، ثم أجب عن الأسئلة الآتية:

أقاليم العالم	النسبة المئوية لسكان المدن (%)		
	١٩٢٠ م	١٩٨٠ م	٢٠٠٠ م
• الدول النامية	١٠	٣٢	٤٣
- شرقي آسيا	٩	٣١	٤٠
- أمريكا اللاتينية	٢٢	٦٠	٨٠
- أفريقيا	٧	٢٨	٣٩
• الدول المتقدمة	٤٠	٧٠	٨٠
- أوروبا	٤٦	٤٦	٧١
- أمريكا الشمالية	٥٢	٦٥	٧٨
أستراليا والمحيط الهادي	٤٧	٦٨	٨٠
• العالم	١٩	٤٦	٥١

١- صف اتجاه نمو سكان المدن بصفة عامة خلال الفترة ١٩٢٠ - ٢٠٠٠ م.

٢- احسب نسبة نمو سكان المدن في أستراليا والمحيط الهادي بين عامي ١٩٨٠ و ٢٠٠٠ م.

٣- ما أقل القارات نمواً في عام ١٩٢٠ م؟

ثانياً: انظر إلى صور الكتابات في الحضارات القديمة التي أمامك، ثم أجب عن الأسئلة التي تليها:

N	J	G	A
S	K	H	B
T	M	I	D
W	R	Q	F

(ص)



(س)

١- تنتمي الكتابات في الصورة (ص) إلى الحضارة:

(ضع علامة ✓ على الإجابة الصحيحة) ☐ المصرية ☐ الفينيقية

٢- ما الاسم الذي أطلق على الكتابة التي تمثلها الصورة (س)؟

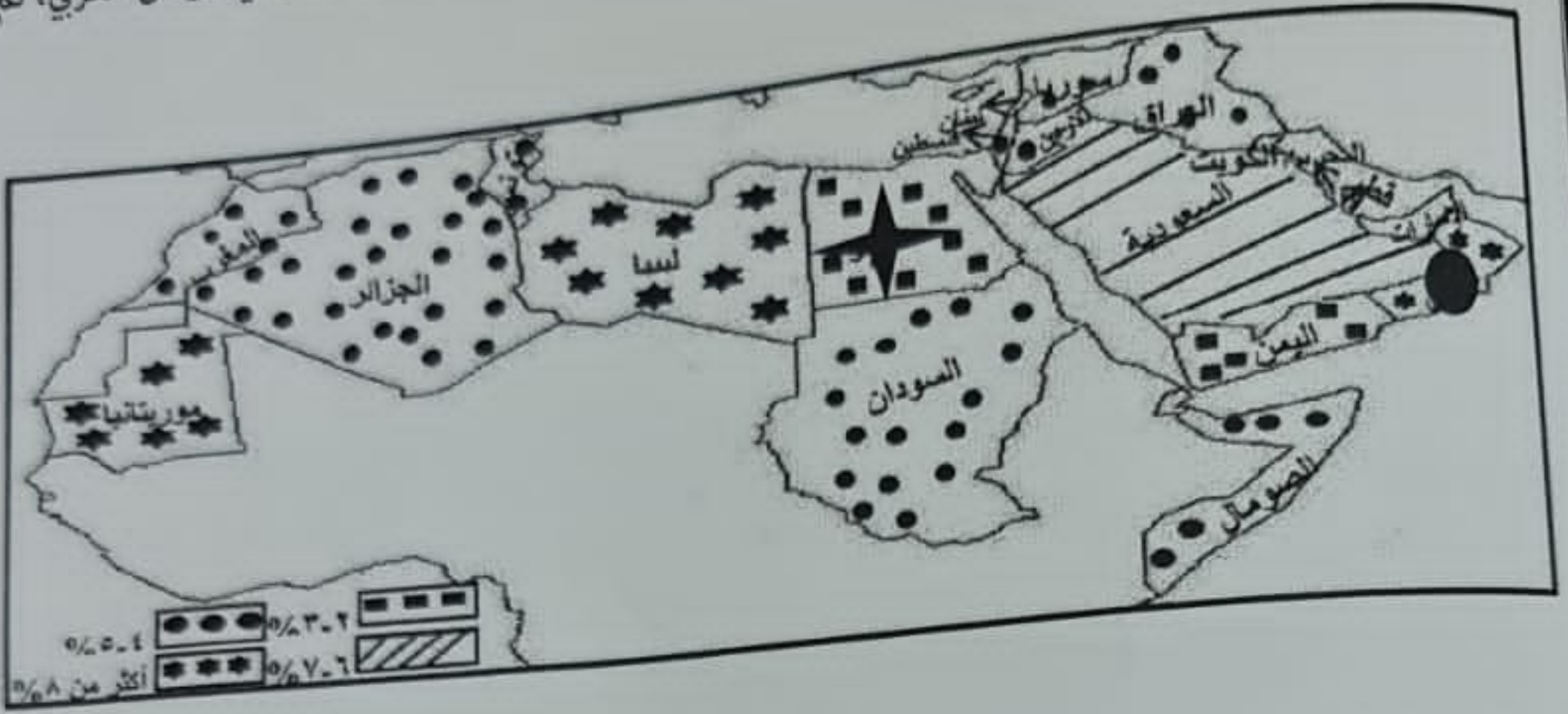
٣- ما الأداة التي استخدمت في الكتابة الموضحة بالصورة (س)؟

٦

المادة : الدراسات الاجتماعية الصف السابع الدور الأول - الفصل الدراسي الثاني - العام الدراسي ٢٠٢٢/٢٠٢٣ م (٥)

السؤال الثالث:

ثالثًا: ادرس الخريطة التي أمامك جيدًا، والتي توضح النسبة المئوية لزيادة سكان المدن في الوطن العربي، ثم أجب عن الأسئلة التي تليها:



١- كم يبلغ النمو السنوي لسكان ليبيا ؟

٢- وضح سبب تزايد سكان المدن في الدولة المشار إليها بالرمز ●

٣- استخرج دولة عربية اسيوية تتراوح فيها نسبة نمو سكان المدن بين ٢-٣ %

٤- سمّ المدينة المليونية التي يزيد سكانها عن ١٠ مليون نسمة في الدولة المشار إليها بالرمز ★

المدينة الرئيسية

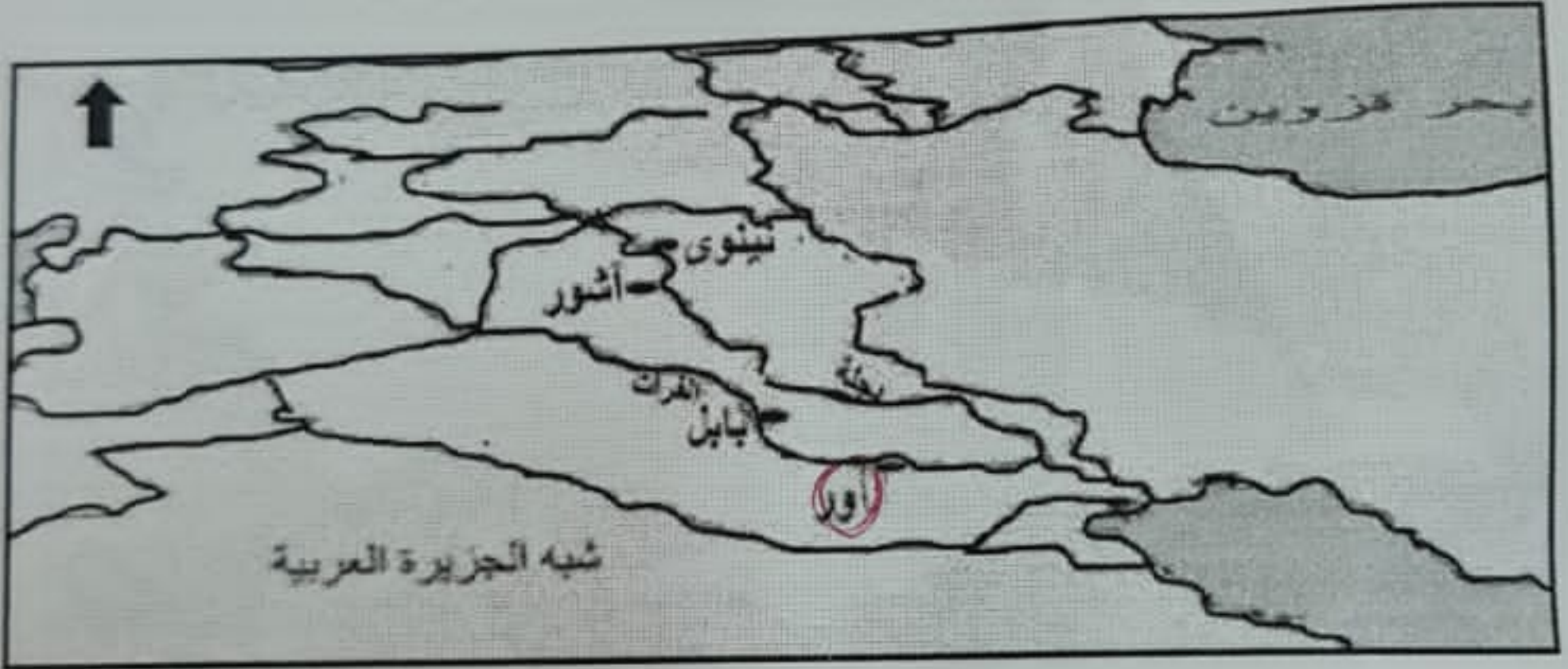
السؤال الخامس:

أولاً: تنقسم بلاد الرافدين جغرافياً إلى إقليمين مختلفين، أذكرهما.

ثانياً: قارن بين استخدامات خشب الأرز و نبات البردي عند قدماء المصريين في الجدول الآتي :

المادة المستخدمة	خشب الأرز	نبات البردي
الإستخدام

ثالثاً: ادرس خريطة الأمبراطورية الآشورية جيداً، ثم أجب عن الأسئلة التي تليها :



١- استخرج من الخريطة عاصمة الآشوريين الجديدة في عهد آشور بانيبال. (.....)

٢ - ضع دائرة حول المدينة السومرية التي قامت على نهر الفرات.

٣- اكتب اسم المسطح المائي الذي يصب فيه نهري دجلة والفرات في موقعه الصحيح على الخريطة.

انتهت الأسئلة مع الدعاء للجميع بالتوفيق والنجاح.

المادة : الدراسات الاجتماعية الصف : الثامن - الدور الأول - الفصل الدراسي الثاني
(٦)
العام الدراسي ٢٠٢٢/٢٠٢٣ م


السؤال الرابع : أجب عن الأسئلة التالية :

٦

- أولاً : صنف أرقام العبارات التالية بما يعد وصفاً صحيحاً للحواضر العمانية الواردة بالجدول .
- ١- تقع على السهل الفيضي لوادي السحتن وتحيط بها الجبال من عدة جهات .
 - ٢- وصفها المقدسي بأنها قصبة عمان حين زارها في القرن العاشر الميلادي .
 - ٣- تتميز بمناخ استثنائي في فصل الصيف عن بقية مدن السلطنة .
 - ٤- تعد منطقة البليد من أبرز معالمها الأثرية والتاريخية .
 - ٥- يوجد بها حصن الحزم الذي شيده الإمام سلطان بن سيف اليعربي .
 - ٦- اشتهرت منذ القدم بتصدير النحاس إلى الصين وإيران والعراق .

صلالة	الرسنق	صحار

ثانياً : تأمل الشكل التالي ثم أجب عن الأسئلة التالية .



١- استنتج العامل الطبيعي في إنتاج الطاقة الكهربائية .

٢- اعط مثلاً على دولة عربية وظفت هذه الطريقة في توليد الطاقة الكهربائية .

٣- عبر بأسلوبك طريقة توليد الكهرباء بهذه الطريقة