

## السلاسل الغذائية



### تم تحميل هذا الملف من موقع المناهج العمانية

موقع فايلاتي ← المناهج العمانية ← الصف السابع ← علوم ← الفصل الثاني ← ملفات متنوعة ← الملف

تاريخ إضافة الملف على موقع المناهج: 21:20:10 2026-01-31

ملفات اكتب للمعلم اكتب للطالب | اختبارات الكترونية | اختبارات | حلول | عروض بوربوينت | أوراق عمل  
منهج انجليزي | ملخصات وتقارير | مذكرات وبنوك | الامتحان النهائي | للمدرس

المزيد من مادة  
علوم:

### التواصل الاجتماعي بحسب الصف السابع




صفحة المناهج  
العمانية على  
فيسبوك

### المزيد من الملفات بحسب الصف السابع والمادة علوم في الفصل الثاني

السلاسل الغذائية	1
الوحدة السابعة مراجعة شاملة لمفاهيم القوى والحركة القياس والتأثيرات والعلاقات	2
مراجعة شاملة لوحدة القوى المفاهيم الأساسية أنواع القوى والتطبيقات العملية	3
أسئلة الامتحان النهائي الرسمي الدور الأول الفترة الصباحية	4
نموذج إجابة الامتحان النهائي الرسمي الدور الأول الفترة الصباحية	5

# 2-7 السلاسل الغذائية



# ملخص

السلسلة الغذائية تبين كيف **تنتقل الطاقة** من كائن حيّ إلى آخر، وذلك عندما ينتج هذا الكائن الغذاء أو يستهلكه.

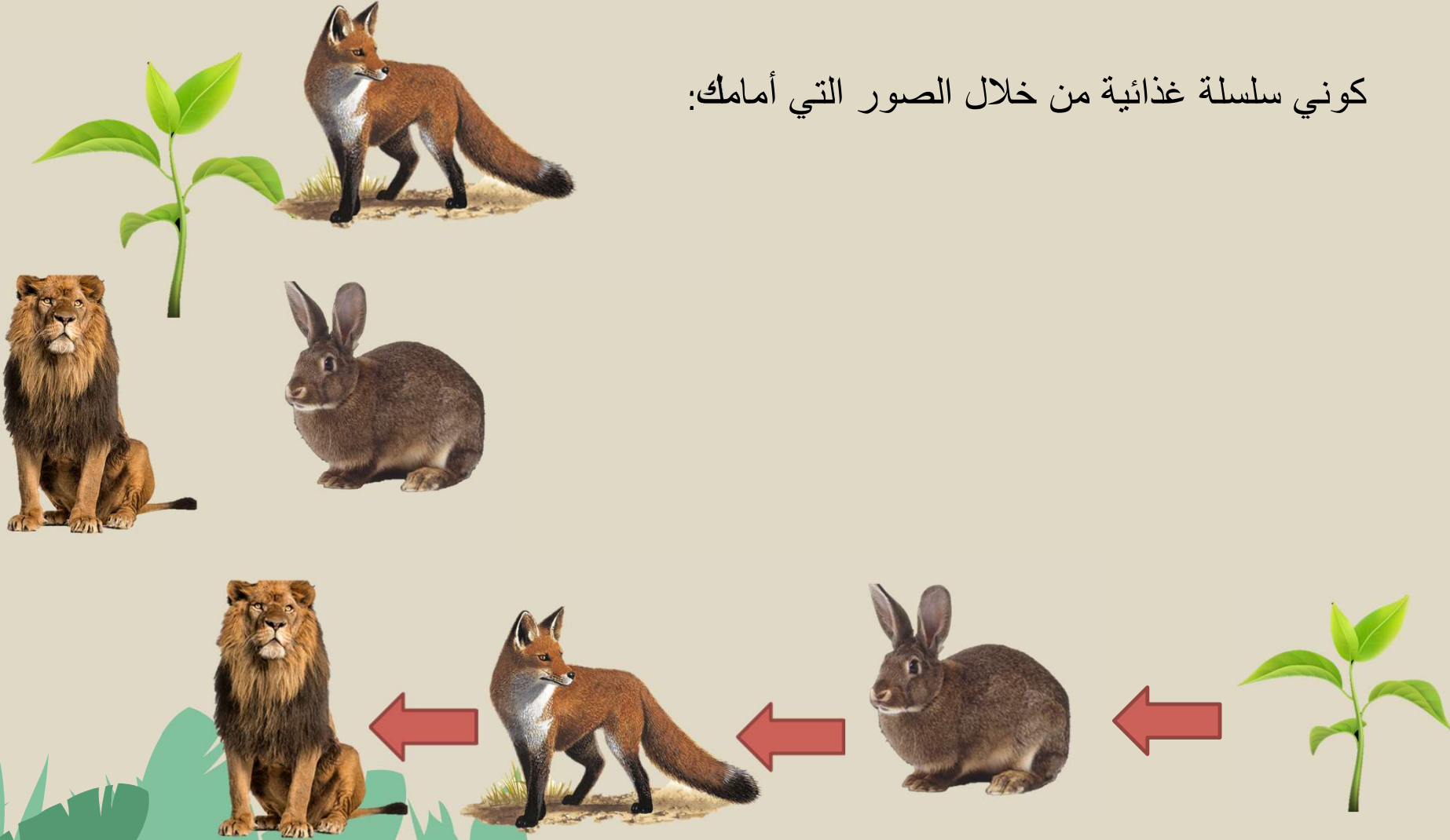
تبدأ السلاسل الغذائية **بالنباتات** التي تستخدم الطاقة من ضوء الشمس لصناعة الغذاء.

**النباتات كائنات منتجة** لأنها تُنتج الغذاء.


**الحيوانات كائنات مستهلكة** لأنها تستهلك الغذاء الذي أنتجته النباتات.



كوني سلسلة غذائية من خلال الصور التي أمامك:



من خلال السلسلة الغذائية التي أمامك، حدي كائن منتج، كائن  
مستهلك أول، كائن مستهلك ثاني:



كائن مستهلك ثاني

كائن مستهلك أول

كائن منتج

• جميع الكائنات التالية منتجة للغذاء ما عدا:

1. الأشجار
2. الأبقار
3. الحشائش
4. المزروعات

• السلسلة الغذائية الصحيحة هي:

1. سمك صغير - سمك كبير - طحالب
2. نبات - ثعلب - نمر
3. نبات - فأر - ثعلب
4. نبات - أرنب - جمل

• كائنات تستخدم ضوء الشمس لصنع الغذاء  
من الماء وثنائي أكسيد الكربون:

**كائنات منتجة**

• كائنات تستهلك كائنات حية أخرى لتأمين

**غذائها: كائنات مستهلكة**

• جميع الكائنات التالية من المستهلكات ما عدا:

1. الخراف
2. الديدان
3. السمك الصغير
4. الطحالب

