

تم تحميل هذا الملف من موقع المناهج العُمانية



* للحصول على أوراق عمل لجميع الصفوف وجميع المواد اضغط هنا

<https://almanahj.com/om>

* للحصول على أوراق عمل لجميع مواد الصف السابع اضغط هنا

<https://almanahj.com/om/7>

* للحصول على جميع أوراق الصف السابع في مادة علوم ولجميع الفصول, اضغط هنا

<https://almanahj.com/om/7science>

* للحصول على أوراق عمل لجميع مواد الصف السابع في مادة علوم الخاصة بـ الفصل الأول اضغط هنا

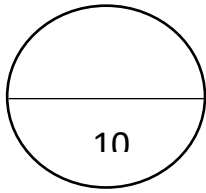
<https://almanahj.com/om/7science1>

* لتحميل كتب جميع المواد في جميع الفصول للـ الصف السابع اضغط هنا

<https://almanahj.com/om/grade7>

للتحدث إلى بوت على تلغرام: اضغط هنا

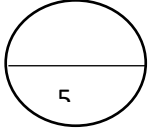
https://t.me/omcourse_bot



الاختبار القصير الثاني للصف السابع

الاسم :

الصف : 6 /



السؤال الاول :

(1) تنمو معظم الكائنات الدقيقة بصورة أسرع في حالة توفر الظروف التالية ما عدا .

(ظلل الاجابة الصحيحة)

الرطوبة ☐

الدفء ☐

الأكسجين ☐

الجفاف ☐

(2) تأمل الشكل المقابل

أيا من البالونين سينتفخ :

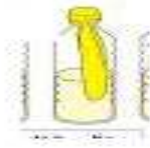
ب ☐

أ ☐

فسر اجابتك



أ



ب

(درجة واحدة)

ضع (صح) او (خطأ) امام العبارات التالية :

3- الكائنات الدقيقة هي كائنات حية صغيرة يمكن رؤيتها بالعين المجردة (.....)

4- بعض أنواع البكتيريا تغير الحليب الى زبادي وذلك عن طريق تحويل السكر في الحليب الى حمض

الهيدروكلوريك (.....) (درجة واحدة)

- حضرت فاطمة كوبا من الزبادي ووضعت بعض الحليب الطازج في الوعاء (درجتان)

*أضافت ملعقة صغيرة من الزبادي الطازج

*غطت الوعاء بشريط لاصق

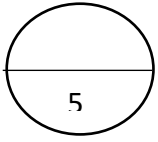
* وضعت الوعاء في الثلاجة

5- برأيك هل تجربة فاطمة صحيحة () نعم () لا

وضح اجابتك

(درجة واحدة)

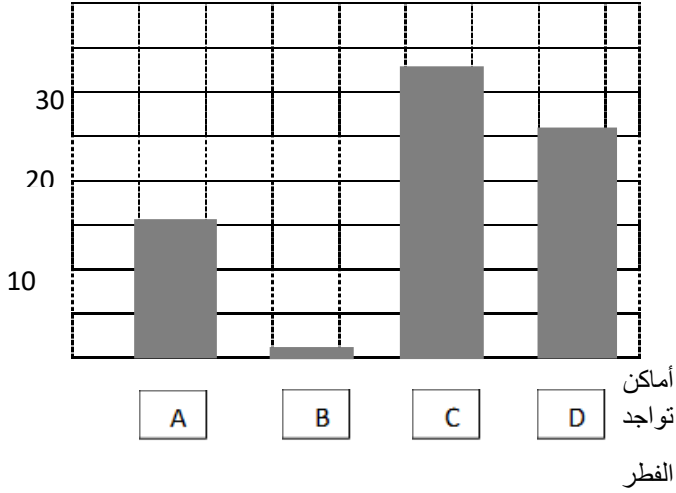
السؤال الثاني :



(1) - تمعني في الرسم البياني التالي .

أي الأماكن هي الأفضل لنمو فطر العفن بشكل أسرع : (درجة واحدة)

درجات الحرارة

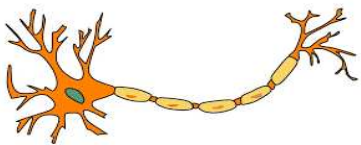


- A ☐
- B ☐
- C ☐
- D ☐

(درجتان)

(2) صنف التراكيب التالية في الجدول المقابل.

النواة	جدار الخلية	البلاستيدات الخضراء	فجوة صغيرة
خلية نباتية
خلية حيوانية



(3) الشكل المقابل يوضح احد الخلايا الحية في جسم الانسان

• ما اسم هذه الخلية ؟

..... (درجة واحدة)

• ما وظيفتها ؟ (درجة واحدة)