

شكراً لتحميلك هذا الملف من موقع المناهج العمانية



نموذج أسئلة الاختبار الرسمي (جنوب الشرقية)

[موقع المناهج](#) ⇨ [المناهج العمانية](#) ⇨ [الصف السابع](#) ⇨ [اجتماعيات](#) ⇨ [الفصل الأول](#) ⇨ [الملف](#)

تاريخ نشر الملف على موقع المناهج: 10:15:54 2023-01-09

التواصل الاجتماعي بحسب الصف السابع



روابط مواد الصف السابع على تلغرام

[الرياضيات](#)

[اللغة الانجليزية](#)

[اللغة العربية](#)

[التربية الاسلامية](#)

المزيد من الملفات بحسب الصف السابع والمادة اجتماعيات في الفصل الأول

[نموذج إجابة الامتحان النهائي الدور الأول الفترة الصباحية للمحافظات الداخلية ومسقط](#)

1

[اختبار نهائي رسمي في محافظة الظاهرة](#)

2

[الامتحان النهائي الدور الأول الفترة الصباحية للمحافظات الداخلية ومسقط](#)

3

[الامتحان النهائي الدور الأول الفترة الصباحية لمحافظة شمال الباطنة](#)

4

المزيد من الملفات بحسب الصف السابع والمادة اجتماعيات في الفصل الأول

[امتحان تحريبي نهائي مع نموذج الإجابة](#)

5

(٢)

المادة: الدراسات الاجتماعية - الصف: السابع - الدور الأول - الفصل الدراسي الأول
العام الدراسي ٢٠٢٢/٢٠٢٣ م

تابع السؤال الأول:

٥- العام الميلادي الذي تم فيه إجراء أول تعداد شامل للسكان في سلطنة عُمان:

(أ) ١٩٩٣ (ب) ٢٠٠٣ (ج) ٢٠١٠ (د) ٢٠٢٠

٦- البنية التي يقصد بها نسبة عدد الذكور إلى الإناث في المجتمع:

(أ) العمرية (ب) النوعية (ج) الاجتماعية (د) الاقتصادية

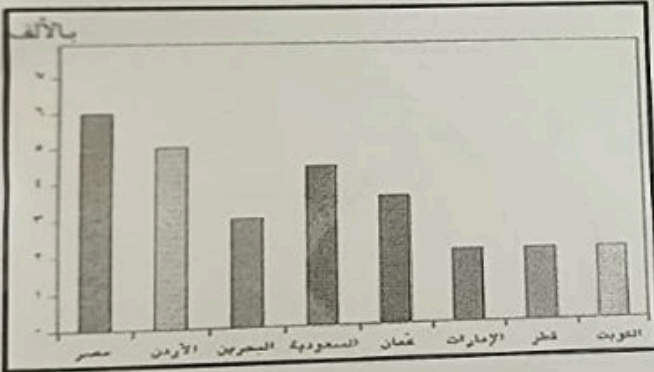
٧- إذا علمت أن عدد سكان السلطنة في منتصف عام ٢٠١٠ م بلغ (٢٧٧٣٤٧٩) نسمة وكان عدد المواليد (٥٦٠٠٠) في نفس العام، فإن الطريقة الصحيحة لحساب معدل المواليد:

(أ) $100 \times \frac{2773479}{56000}$ (ب) $100 \times \frac{56000}{2773479}$ (ج) $1000 \times \frac{56000}{2773479}$ (د) $1000 \times \frac{2773479}{56000}$

٨- الدولة التي تحتل المرتبة الأولى في معدل

الوفيات من خلال الشكل المقابل:

(أ) قطر (ب) السعودية
(ج) الكويت (د) مصر



- تتأثر العلاقة بين السكان والموارد الطبيعية:

(أ) سلباً بقلّة عدد السكان.

(ب) سلباً بزيادة عدد السكان.

(ج) سلباً وإيجاباً بزيادة عدد السكان.

(د) سلباً وإيجاباً بقلّة عدد السكان.

السؤال الرابع :

أ- صنف الموارد الطبيعية الواردة بين القوسين إلى موارد متجددة وموارد غير متجددة في الجدول التالي:
(المعادن ، الماء ، التربة ، النفط)

موارد غير متجددة	موارد متجددة
٣-.....	١-.....
٤-.....	٢-.....

ب- مستعيناً بالصورة المقابلة أجب عن الأسئلة الآتية:



١- سم الممارسة الضارة بالصحة التي تشير إليها الصورة.

.....


٢- اكتب اثنين من أضرار هذه الممارسة على الفرد.

.....

.....

٣- اقترح حلاً لتجنب هذه الممارسة.

.....



المادة: الدراسات الاجتماعية - الصف: السابع - الدور الاول - الفصل الدراسي الأول
العام الدراسي ٢٠٢٢/٢٠٢٣ م

السؤال الثالث:

أجب عن الأسئلة الآتية:

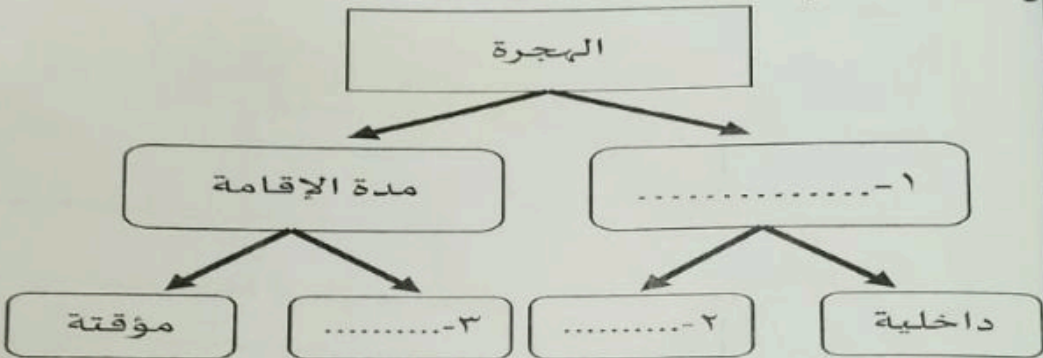
أ- اكتب اثنين من المواقع الأثرية الدالة على استخراج النحاس وتصنيعه قديماً في عُمان:

١- ٢-

ب- دُلّ على معرفة الإنسان العماني زراعة النخيل منذ العصور الحجرية القديمة

.....

ج- أكمل المخطط الذي أمامك بما يناسبه:



د- قيّم السلوكيات بوضع إشارة (✓) أمام السلوك الصحيح أو (x) أمام السلوك الخاطئ في الجدول

الآتي:

م	السلوكيات	تقيم السلوك
١	طالب يصعد إلى الحافلة قبل توقفها.	
٢	رب أسرة يصرف الدخل الشهري بالكامل في الأسبوع الأول من الشهر.	
٣	طالب يغلق مفاتيح المكيف والأنوار نهاية الدوام قبل مغادرة الصف.	
٤	طفل صغير يلبس حزام الأمان أثناء قيادة والده للسيارة.	

٨

أجب عن جميع الأسئلة الآتية

السؤال الأول: ضع دائرة حول رمز الإجابة الصحيحة لكل مفردة من المفردات الآتية:

١- الموقع الأثري الذي تم فيه اكتشاف المقابر الموضحة في الصورة المقابلة:



- (أ) الوطية
(ب) البليد
(ج) سيوان
(د) بات

٢- الحضارة التي أطلقت على عُمان قديماً اسم مجان:

- (أ) السومرية
(ب) الأكادية
(ج) الآشورية
(د) الفرعونية

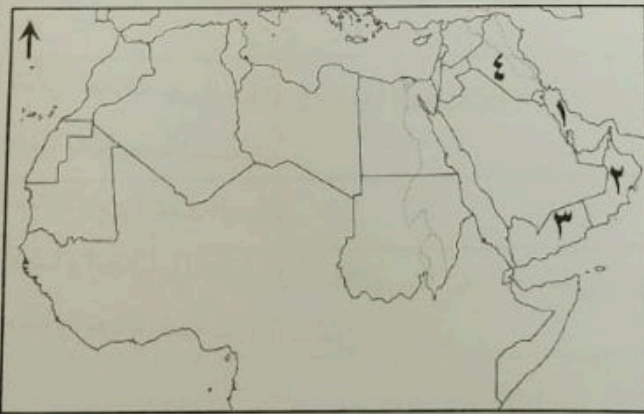
٣- الشكل الصحيح الذي يمثل المنجزات والخصائص التي ارتبطت بالعصر الحديدي:

ظهور المدن التجارية	استخدام النقود	ظهور نظام المقايضة	تحسن صناعة السفن
قلّة التبادل التجاري	ظهور نظام المقايضة	قلّة التبادل التجاري	ظهور المدن التجارية
أ	ب	ج	د

٤- الرقم الذي يشير إلى الموقع الصحيح

لحضارة دلمون في الخريطة المقابلة :

- (أ) ١
(ب) ٢
(ج) ٣
(د) ٤



(٣)

المادة :الدراسات الاجتماعية - الصف :السابع - الدور الاول - الفصل الدراسي الأول
العام الدراسي ٢٠٢٢/٢٠٢٣ م

تابع السؤال الأول:

١٠- الصورة التي تمثل شاهدًا تاريخيًا ساعد على تنشيط قطاع السياحة في السلطنة:



(د)



(ج)



(ب)



(أ)

١١- مصطلح يقصد به استغلال المال الزائد عن الحاجة لإقامة مشاريع تزيد من الدخل:

(أ) الاستهلاك (ب) الادخار (ج) الإنفاق (د) الاستثمار

١٢- السبب الرئيسي في زيادة حوادث المرور بسلطنة عمان

عام ٢٠٠٩م وفقًا للجدول المقابل:

(أ) سوء التصرف (ب) السرعة

(ج) التجاوز الخاطئ (د) الإهمال

السبب	عدد الحوادث
سوء التصرف	١٦٣٩
التجاوز الخاطئ	٣٧٤
السرعة	٣٧٤٤
الإهمال	٦١٥

١٢

السؤال الثاني :

أ- اكتب المصطلح أو المفهوم المناسب للعبارات الآتية:

١- كل ما أوجده الإنسان من أجل سد احتياجاته سواء كان مادي أو غير مادي.
٢- عدد السنوات التي يعيشها الفرد الواحد.

ب- علّل: يفضل السكان الانتشار في المناطق التي تشرف على المسطحات المائية

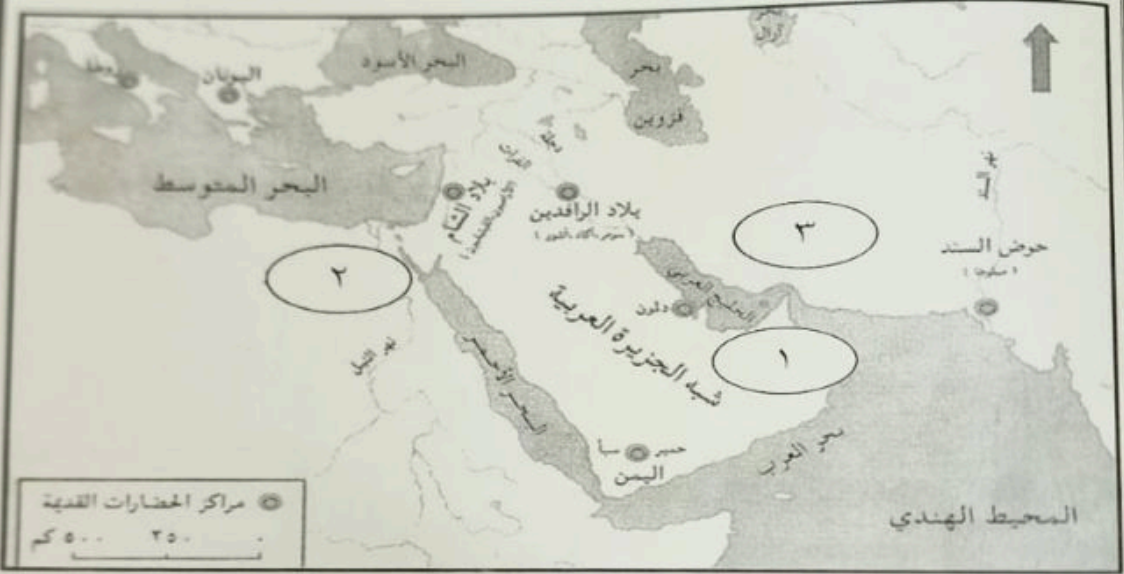
المادة: الدراسات الاجتماعية - الصف: السابع - الدور الأول - الفصل الدراسي الأول
العام الدراسي ٢٠٢٢/٢٠٢٣ م

السؤال الخامس :

أ- اذكر نتيجة واحدة مترتبة لكل مما يأتي:
١- انهيار سد مأرب.

٢- انتشار ظاهرة حوادث الطرق.

ب- أمامك خريطة الحضارات القديمة ادرسها جيداً ثم أجب عن الأسئلة التي تليها:



١- استخرج من الخريطة الآتي:

أ- الرقم الذي يدل على الموقع الصحيح لحضارة مجان ()

ب- الجهة التي تقع فيها حضارة بلاد الشام بالنسبة للبحر المتوسط

٢- ضع دائرة على الحضارة التي أطلق عليها اليونان اسم بلاد العرب السعيدة.

٣- أعط دليلاً واحداً على وجود تواصل بين حضارة مجان والحضارة المشار إليها برقم ٢ على الخريطة.

٦

انتهت الأسئلة مع الدعاء للجميع بالتوفيق والنجاح

المادة: الدراسات الاجتماعية - الصف: السابع - الدور الاول - الفصل الدراسي الأول
العام الدراسي ٢٠٢٢/٢٠٢٣ م

تابع السؤال الثاني :

ج- أمامك شكل يمثل الهرم السكاني ادرسه جيدًا، ثم أجب عن الأسئلة الآتية:

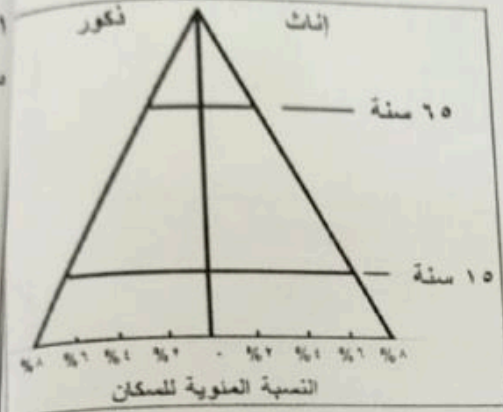
١- اكتب نوع الهرم السكاني الذي يوضحه الشكل.

٢- يمثل هذا الهرم المجتمع ☐ الفتي

☐ المسن

ضع علامة (✓) على الإجابة الصحيحة

٣- ظلل الفئة العمرية المنتجة في الهرم السكاني المقابل



د- رتب مراحل تطور الحضارة القديمة وفقا لتسلسلها التاريخي (من الأقدم إلى الأحدث) بكتابة الأرقام من (٤-١):

- () العصر الحديدي
- () العصر الحجري القديم
- () العصر البرونزي
- () العصر الحجري الحديث

٨

يتبع/٥