

اختبار قصير ثاني بمحافظة جنوب الشرقية



تم تحميل هذا الملف من موقع المناهج العمانية

موقع فايلاتي ← المناهج العمانية ← الصف السابع ← اجتماعيات ← الفصل الثاني ← ملفات متنوعة ← الملف

تاريخ إضافة الملف على موقع المناهج: 2025-05-26 16:45:16

ملفات اكتب للمعلم اكتب للطالب | اختبارات الكترونية | اختبارات | حلول | عروض بوربوينت | أوراق عمل
منهج انجليزي | ملخصات وتقارير | مذكرات وبنوك | الامتحان النهائي | للمدرس

المزيد من مادة
اجتماعيات:

إعداد: مدرسة المكارم

التواصل الاجتماعي بحسب الصف السابع



صفحة المناهج
العمانية على
فيسبوك

الرياضيات

اللغة الانجليزية

اللغة العربية

التربية الاسلامية

المواد على تلغرام

المزيد من الملفات بحسب الصف السابع والمادة اجتماعيات في الفصل الثاني

حصاد درس الاستيطان الريفي والحضري

1

مراجعة الدرس الأول الاستيطان الريفي والحضري بطريقة سؤال وجواب

2

ملخص شرح درس الاستيطان الريفي والحضري

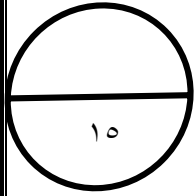
3

مراجعة الدرس الثاني الريف ومشكلاته بطريقة سؤال وجواب

4

نموذج إجابة الامتحان النهائي الرسمي الدور الأول بمحافظتي الداخلية وشمال الشرقية

5



الاختبار القصير (الثاني) لمادة الدراسات الاجتماعية

الصف السابع العام الدراسي ٢٠٢٤ / ٢٠٢٥ م "الفصل الدراسي الثاني"

الاسم:



المديرية العامة للتربية والتعليم بمحافظة جنوب الشرقية

مدرسة المكارم للتعليم الاساسي للصفوف (١٢-١)

أولاً: الأسئلة الموضوعية : ظلل الإجابة الصحيحة من بين البدائل المعطاة :-

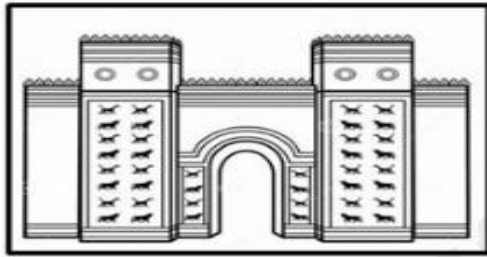
١- الشعب الذي أقام في المناطق الشمالية من بلاد الرافدين:

د- البابليون

ج- الأكاديون

ب- السومريون

أ- الآشوريون



٢- الملك الذي بنى المعلم المعماري الواضح في الصورة المقابلة:

ب- آشور بانيبال

أ- نبوخذ نصر

د- نابو بولاسر

ج- نارام سن

- استعن بخريطة الحضارات القديمة في بلاد الرافدين للإجابة على المفردات (٣ ، ٤) :



٣- المدينة التي يوجد بها أحد عجائب الدنيا
مشار لها بالرمز :

(ب)

(أ)

(د)

(ج)

٤- الترتيب الصحيح لموقع حضارات بلاد الرافدين من الجنوب إلى الشمال :

١- السومرية	٢- الأكادية	٣- الكلدانية	٤- الآشورية	(أ)
١- الآشورية	٢- الكلدانية	٣- الأكادية	٤- السومرية	(ب)
١- السومرية	٢- الكلدانية	٣- الأكادية	٤- الآشورية	(ج)
١- الكلدانية	٢- الآشورية	٣- السومرية	٤- الأكادية	(د)

٥- المدينة التي أطلق عليها الأكاديون اسم "باب- اليم":

د- كيش

ج- بابل

ب- نينوى

أ- آشور

ثانياً: الأسئلة المقالية :-

٦- "عرف السومريون منذ الألف الرابع قبل الميلاد بدايات الكتابة المسمارية..." في ضوء هذه العبارة:

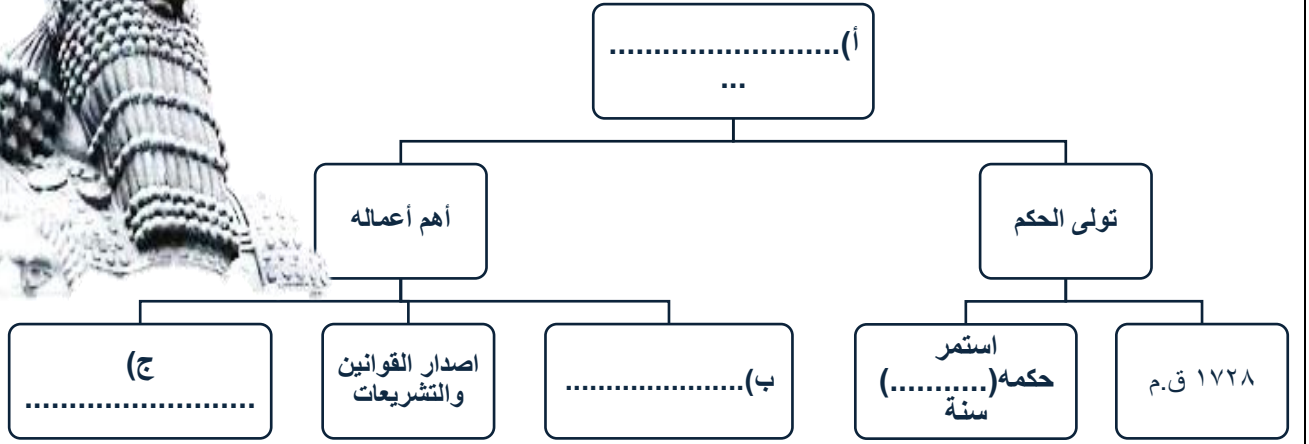
أ- فسري تسمية الكتابة المسمارية بهذا الاسم؟

.....

ب- فيم سجل السومريون كتاباتهم؟

.....

٧- اكمل تصميم مخطط الشخصية التاريخية الآتية:



٨- أ- ادرس الخريطة التالية، ثم اجب عن الاسئلة التي تليها:



- ١) استخرجي من الخريطة عاصمة الاشوريين الجديدة في عهد اشور بانيبال..... .
- ٢) من خلال الخريطة ما اسم المدينة التي بناها السومريون على نهر الفرات..... .
- ٣) وقع على الخريطة اسم المسطح المائي الذي يصب فيه نهري دجلة والفرات.

ب) فسري: "لم يعرف السومريون الوحدة السياسية".

انتهت الأسئلة