

قصير ثاني نموذج ثاني حول درس حضارة الرافدين بمحافظة الداخلية



تم تحميل هذا الملف من موقع المناهج العمانية

موقع فايلاتي ← المناهج العمانية ← الصف السابع ← اجتماعيات ← الفصل الثاني ← ملفات متنوعة ← الملف

تاريخ إضافة الملف على موقع المناهج: 2025-05-26 16:57:12

ملفات اكتب للمعلم اكتب للطالب ا اختبارات الكترونية ا اختبارات ا حلول ا عروض بوربوينت ا أوراق عمل
منهج انجليزي ا ملخصات وتقارير ا مذكرات وبنوك ا الامتحان النهائي ا للمدرس

المزيد من مادة
اجتماعيات:

التواصل الاجتماعي بحسب الصف السابع



صفحة المناهج
العمانية على
فيسبوك

الرياضيات

اللغة الانجليزية

اللغة العربية

التربية الاسلامية

المواد على تلغرام

المزيد من الملفات بحسب الصف السابع والمادة اجتماعيات في الفصل الثاني

اختبار قصير ثاني حول درس حضارة الرافدين بمحافظة جنوب الشرقية	1
حصاد درس الاستيطان الريفي والحضري	2
مراجعة الدرس الأول الاستيطان الريفي والحضري بطريقة سؤال وجواب	3
ملخص شرح درس الاستيطان الريفي والحضري	4
مراجعة الدرس الثاني الريف ومشكلاته بطريقة سؤال وجواب	5

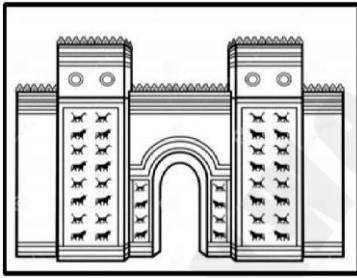
الاختبار القصير الثاني

في مادة الدراسات الاجتماعية للصف السابع للفصل الدراسي الثاني للعام الدراسي ٢٠٢٤-٢٠٢٥م

الاسم : الشعبة : ٧ / التاريخ : ٨ / ٥ / ٢٠٢٥م

أولاً: الأسئلة الموضوعية:اختر الإجابة الصحيحة بوضع دائرة حول رمز الإجابة الصحيحة من بين البدائل المعطاة : خمس درجات

١. الاسم الذي يطلق على المجرى الذي يلتقي فيه نهري دجلة والفرات :
 أ. شريط العرب ب. شط العرب ج. خط العرب د. خليج العرب



٢. اسم الملك الذي بنى المعلم المعماري الموضح في الصورة المقابلة :
 أ. نبوخذ نصر ب. آشور بانيبال ج. نارام سن د. نابوبولاسر

٣. المدينة التي يوجد فيها النصب الأصلي المسجل عليه قوانين حمورابي:
 أ. دمشق ب. باريس ج. لندن د. قبرص

٤. الترتيب الصحيح للحضارات التي قامت في بلاد الرافدين من الأقدم إلى الأحدث :

- أ. ١. السومرية ٢. الأكادية ٣. البابلية ٤. الآشورية
- ب. ١. الآشورية ٢. الأكادية ٣. البابلية ٤. السومرية
- ج. ١. السومرية ٢. الآشورية ٣. البابلية ٤. الأكادية
- د. ١. البابلية ٢. السومرية ٣. الأكادية ٤. الآشورية

٥. الغزو الذي قضى على الحكم الكلداني عام ٥٣٩ ق.م :
 أ. الروماني ب. الفرعوني ج. الفارسي د. الفينيقي

ثانياً: الأسئلة المقالية:

٦. فسر ما يأتي :

أ. لم يعرف السومريون الوحدة السياسية .

.....


ب. تسمية حدائق بابل المعلقة بهذا الاسم.

.....

٧. صف العبارات التالية وذلك بوضع علامة (√) بما يعد وصفاً صحيحاً للشخصية التي ارتبطت بالحدث:

م	المنجز	الشخصية		
		سرجون الأول	حمورابي	أشور باتيبال
١	حكم آشور ٤١ سنة وكان مهتماً بالعلم والأدب.			
٢	حكم بابل ٤٣ سنة وعمل على توحيد البلاد فازدهرت الزراعة والتجارة والصناعة في عهده.			
٣	اخضع المدن السومرية واتخذ من مدينة أكاد عاصمة لدولته.			

٨. ادرس صور الكتابات في الحضارات القديمة التي أمامك ثم أجب عن الأسئلة التالية:



أ. الصورة التي تمثل الكتابة المسمارية:

(أختار الإجابة الصحيحة)

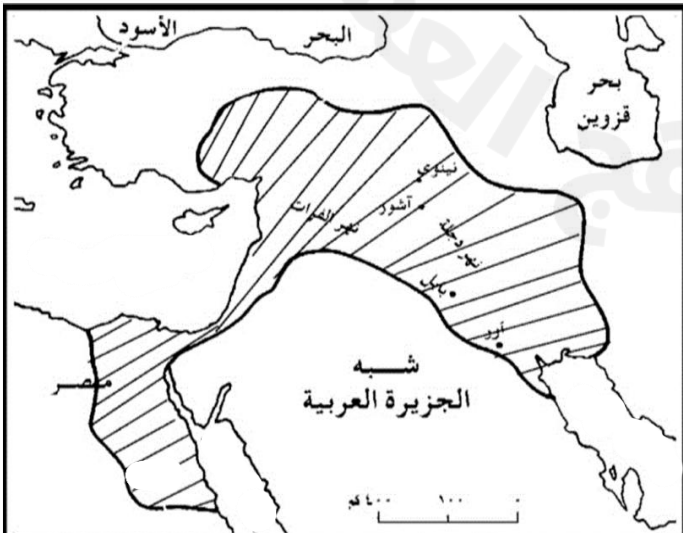
○ (ب)

○ (أ)

فسري اجابتك .

ب. برأيك ما هو السبب من اختراع هذا النوع من الكتابة ؟

.....



٩. ادرس الخريطة المقابلة عن إمبراطورية أحدى الحضارات القديمة في أقصى اتساعها والتي ظهرت في بلاد الرافدين ، ادرسها جيداً ثم أجب عن الأسئلة الآتية:

أ. ما اسم الحضارة الموضحة في الخريطة ؟

.....

- حددي على الخريطة كلاً من:

ب. العاصمة الجديدة التي اتخذتها هذه الحضارة بوضع دائرة حولها.

ج. المسطح المائي الذي يصب فيه نهري دجلة والفرات بكتابة اسمه في مكانه الصحيح.