

شكراً لتحميلك هذا الملف من موقع المناهج العمانية



الملف إجابات كتاب النشاط

موقع المناهج ⇨ المناهج العمانية ⇨ الصف الخامس ⇨ رياضيات ⇨ الفصل الأول ⇨ الملف

روابط مواقع التواصل الاجتماعي بحسب الصف الخامس



روابط مواد الصف الخامس على تلغرام

[الرياضيات](#)

[اللغة الانجليزية](#)

[اللغة العربية](#)

[التربية الاسلامية](#)

المزيد من الملفات بحسب الصف الخامس والمادة رياضيات في الفصل الأول



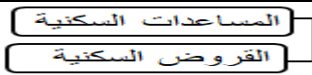
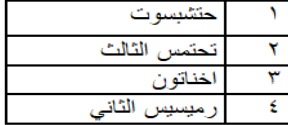
إجابات كتاب النشاط	1
إجابات كتاب النشاط	2
بنك أسئلة في وحدة الهندسة	3
نموذج إجابة الاختبار الرسمي لمحافظة (الداخلية)	4
نموذج إجابة الاختبار الرسمي لمحافظة (جنوب الباطنة)	5



نموذج إجابة امتحان الصف السابع
للعام الدراسي ١٤٤٣/١٤٤٤ هـ - ٢٠٢٢/٢٠٢٣ م
الدور الأول - الفصل الدراسي الثاني

المادة: الدراسات الاجتماعية الدرجة الكلية: (٤٠) درجة.
تنبيه: نموذج الإجابة في (٥) صفحات.

أولاً: إجابة السؤال الموضوعي:

إجابة السؤال الأول						
المفردة	البديل الصحيح	الإجابة	الدرجة	الصفحة	المخرج التعليمي	المستوى المعرفي
١	أ	الآشوري	١	٥٧		
2	ج		١	٢٣		
٣	د	٤	١	٢٢		
٤	ب	المدينة	١	١٥		
٥	أ	نبوخذ نصر	١	٥٩		
٦	ج	الألف الرابعة ق.م	١	٥٢		
٧	ب		١	٢٥		
٨	د	شبه الجزيرة العربية	١	٦٢		
٩	أ		١	٣١		
١٠	ج	ك	١	٤٣		
١١	د	انتشار الاسر الكبيرة	١	١٤		
١٢	أ		١	٤٧ - ٤٩		
المجموع			١٢			

(٢)

تابع نموذج إجابة امتحان الصف السابع
للعام الدراسي ١٤٤٣/١٤٤٤ هـ - ٢٠٢٢/٢٠٢٣ م
الدور الأول - الفصل الدراسي الثاني
المادة: الدراسات الاجتماعية

ثانيا: إجابة الأسئلة المقالية:

الدرجة الكلية: (٨) درجات							إجابة السؤال الثاني					
الجزئية	المفردة	الإجابة الصحيحة	الدرجة	الصفحة	المخرج التعليمي	المستوى المعرفي						
أولا	١	الجدول	١	٤٨								
	٢	المدن المليونية الضخمة	١	٢٥								
ثانيا	١	أدى إلى تقدم الصناعات / الفنون / العمارة	١	٤٥								
	٢	أدى إلى ظهور مدن الأكواخ	١	٢٧								
ثالثا	١	قلدوا الفراعنة في أسمائهم / أزيائهم / تقاليديهم / تكلموا اللغة المصرية / اعتنقوا معتقداتهم الدينية) يكتفى بذكر دليل واحد فقط) .	١	٤٦								
	٢	تمثال أبو الهول على هيئة جسم أسد ورأس إنسان ويرمز الجسم إلى القوة والرأس إلى العقل.	١	٤٤								
	٣	<table><tr><td>مرحلة الرعي والصيد</td><td>مرحلة الزراعة</td><td>مرحلة التجارة</td><td>مرحلة الصناعة</td></tr><tr><td>استأنس الحيوانات</td><td>اختراع المحراث</td><td>نشأت المدن التجارية</td><td>انقضاء المدن بالسكان</td></tr></table>	مرحلة الرعي والصيد	مرحلة الزراعة	مرحلة التجارة	مرحلة الصناعة	استأنس الحيوانات	اختراع المحراث	نشأت المدن التجارية	انقضاء المدن بالسكان	(٢) درجة لكل نصف درجة	١١-١٣
مرحلة الرعي والصيد	مرحلة الزراعة	مرحلة التجارة	مرحلة الصناعة									
استأنس الحيوانات	اختراع المحراث	نشأت المدن التجارية	انقضاء المدن بالسكان									
المجموع			٨ درجات									

يتبع ٣/

(٣)

تابع نموذج إجابة امتحان الصف السابع
للعام الدراسي ١٤٤٣/١٤٤٤ هـ - ٢٠٢٢/٢٠٢٣ م
الدور الأول - الفصل الدراسي الثاني
المادة : الدراسات الاجتماعية

تابع- ثانيا: إجابة الأسئلة المقالية:

إجابة السؤال الثالث																
الدرجة الكلية: (٨) درجات																
الجزئية	المفردة	الإجابة الصحيحة	الدرجة	الصفحة	المخرج التعليمي	المستوى المعرفي										
أولا	١	حفاظا على كيانها	١	٦٤												
	٢	- تربط التجمعات السكانية بالمدن. - تربط مواقع الإنتاج بأسواق الاستهلاك والتصدير. - تعد مؤشرا على التحضر في الدولة. - ربط الدولة بالدول المجاورة . " يكتفى بواحدة فقط "	١	٣٥												
ثانيا		<table><tr><td>الحضارة</td><td>اسم الملك</td></tr><tr><td>الكلدانية (الدولة البابلية الثانية)</td><td>نابوبولاسر</td></tr><tr><td>الاشورية</td><td>سرجون الثاني</td></tr><tr><td>البابلية</td><td>حمورابي</td></tr><tr><td>الأكادية</td><td>سرجون الأول</td></tr></table>	الحضارة	اسم الملك	الكلدانية (الدولة البابلية الثانية)	نابوبولاسر	الاشورية	سرجون الثاني	البابلية	حمورابي	الأكادية	سرجون الأول	(٢) درجة لكل مفردة نصف درجة	٥٤ - ٥٩		
الحضارة	اسم الملك															
الكلدانية (الدولة البابلية الثانية)	نابوبولاسر															
الاشورية	سرجون الثاني															
البابلية	حمورابي															
الأكادية	سرجون الأول															
ثالثا	١	أكثر من ٨ %	١	٢٦												
	٢	بسبب هجرة السكان من الريف إلى المدن	١	٢٣												
	٣	اليمن	١	٢٦												
	٤	القاهرة	١	٢٥												
المجموع			٨ درجات													

يتبع /٤

(٤)

تابع نموذج إجابة امتحان الصف السابع
للعام الدراسي ١٤٤٣/١٤٤٤ هـ - ٢٠٢٢/٢٠٢٣ م
الدور الأول - الفصل الدراسي الثاني
المادة : الدراسات الاجتماعية

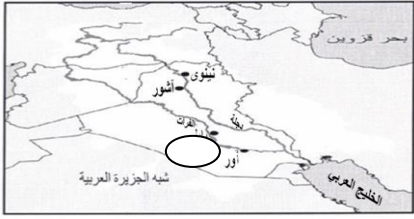

تابع - ثانيا: إجابة الأسئلة المقالية:

إجابة السؤال الرابع						
الدرجة الكلية: (٦) درجة						
الجزئية	المفردة	الإجابة الصحيحة	الدرجة	الصفحة	المخرج التعليمي	المستوى المعرفي
اولا	١	يتصف هو سكان المدن بصفة عامة بأنه مرتفع .	١	٢٤		
	٢	٨٠ - ٦٨ = ١٢ لا يشترط تطبيق المسألة فقط يكتفى (بالناتج)	١	٢٤		
	٣	افريقيا	١	٢٤		
ثانيا	١	المصرية	١	٤١		
	٢	المسمارية	١	٥٣		
	٢	العظم أو الخيزران (يكتفى بذكر واحدة)	١	٥٣		
المجموع			٦ درجات			

يتبع ٥/

(٥)

تابع نموذج إجابة امتحان الصف السابع
للعام الدراسي ١٤٤٣/١٤٤٤ هـ - ٢٠٢٢/٢٠٢٣ م
الدور الأول - الفصل الدراسي الثاني
المادة : الدراسات الاجتماعية

إجابة السؤال الخامس						
الدرجة الكلية: (٦) درجة						
الجزئية	المفردة	الإجابة الصحيحة	الدرجة	الصفحة	المخرج التعليمي	المستوى المعرفي
أولا		١- السهل الجنوبي المنبسط . ٢- هضبة في شمال غربي العراق. <u>لا يشترط كتابة الإجابات حسب الترتيب السابق .</u>	(٢) درجة لكل اقليم جغرافي درجة واحدة	٥٢		
ثانيا	أ	تزيين الأهرامات من الداخل	(٢) درجة لكل استخدام درجة واحدة	٤٣		
	ب	صنع الورق		٤١		
ثالثا	١- أ	نينوى	١	٥٧		
	٢	أي إشارة على مدينة أور 	نصف درجة	٥٣		
	٣	كتابة (الخليج العربي) في موقعه الصحيح على الخريطة. 	نصف درجة	٥١		
المجموع			٦ درجات			

نهاية نموذج الإجابة