

أسئلة الامتحان النهائي الرسمي الدور الأول الفترة الصباحية



تم تحميل هذا الملف من موقع المناهج العمانية

موقع فايلاتي ← المناهج العمانية ← الصف السابع ← اجتماعيات ← الفصل الثاني ← ملفات متنوعة ← الملف

تاريخ إضافة الملف على موقع المناهج: 2025-06-03 10:08:41

ملفات اكتب للمعلم اكتب للطالب | اختبارات الكترونية | اختبارات | حلول | عروض بوربوينت | أوراق عمل
منهج انجليزي | ملخصات وتقارير | مذكرات وبنوك | الامتحان النهائي للمدرس

المزيد من مادة
اجتماعيات:

التواصل الاجتماعي بحسب الصف السابع



صفحة المناهج
العمانية على
فيسبوك

الرياضيات

اللغة الانجليزية

اللغة العربية

التربية الاسلامية

المواد على تلغرام

المزيد من الملفات بحسب الصف السابع والمادة اجتماعيات في الفصل الثاني

قصير ثاني نموذج ثاني حول درس حضارة الرافدين بمحافظة الداخلية

1

اختبار قصير ثاني حول درس حضارة الرافدين بمحافظة جنوب الشرقية

2

حصاد درس الاستيطان الريفي والحضري

3

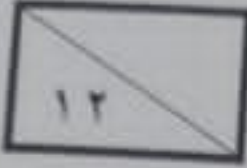
مراجعة الدرس الأول الاستيطان الريفي والحضري بطريقة سؤال وجواب

4

ملخص شرح درس الاستيطان الريفي والحضري

5

المادة: الدراسات الاجتماعية - الصف السابع - الفصل الدراسي الثاني - الدور الأول
(الفترة الصباحية) - العام الدراسي ٢٠٢٤ - ٢٠٢٥ م



أجب عن جميع الأسئلة الآتية

أولاً: الأسئلة الموضوعية:
ظّل الشكل () المُقترن بالإجابة الصحيحة لكل مفردة من المفردات الآتية:

(١) أبرز المنجزات التي حققها الإنسان في مرحلة الصيد والرعي:

☐ الهجرة من القرى. ☐ كون تجمعات بشرية متنقلة.

☐ الاستقرار في تجمعات بشرية. ☐ جمع ثمار الأشجار.

(٢) الجدول الصحيح الذي يوضح دور الحكومة في توفير احتياجات المواطنين:

الرعاية الصحية	توفير الكوادر الطبية المؤهلة.
الكهرباء	تعميم خدمة الانترنت.
الاتصالات	توفيرها للقطاعات الاقتصادية لتشجيع الاستثمار.



الرعاية الصحية	توفير الكوادر الطبية المؤهلة.
الكهرباء	توفيرها للقطاعات الاقتصادية لتشجيع الاستثمار.
الاتصالات	تعميم خدمة الانترنت.



الرعاية الصحية	توفيرها للقطاعات الاقتصادية لتشجيع الاستثمار.
الكهرباء	تعميم خدمة الانترنت.
الاتصالات	توفير الكوادر الطبية المؤهلة.



الرعاية الصحية	تعميم خدمة الانترنت.
الكهرباء	توفير الكوادر الطبية المؤهلة.
الاتصالات	توفيرها للقطاعات الاقتصادية لتشجيع الاستثمار.



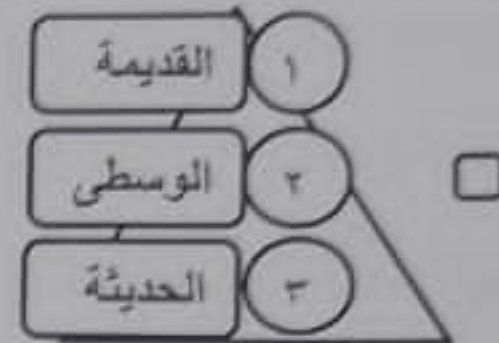
(٣) العام الميلادي الذي عُقدت فيه ندوة التصحر بمحافظة ظفار:

٢٠٠١ ☐ ٢٠٠٢ ☐ ٢٠٠٣ ☐ ٢٠٠٤ ☐ يتبع ٢

المادة: الدراسات الاجتماعية – الصف السابع – الفصل الدراسي الثاني – الدور الأول
(الفترة الصباحية) – العام الدراسي ٢٠٢٤ - ٢٠٢٥ م

تابع أولاً: الأسئلة الموضوعية:

٤ (الشكل الذي يمثل الترتيب الصحيح للدول التي حكمت مصر من الأكثر إلى الأقل في فترة الحكم:



٥) أمير فزعوني استطاع إعادة وحدة البلاد وأسس الأسرة الحادية عشر:

☐ خفرع ☐ خوفو ☐ أخمس الأول ☐ أمنمحات الثاني

٦) الرقم الذي يشير إلى موقع الدولة التي جلب منها المصريون القدماء خشب الأرز:



(١) ☐

(٢) ☐

(٣) ☐

(٤) ☐

يتبع ٣

المادة: الدراسات الاجتماعية - الصف السابع - الفصل الدراسي الثاني - الدور الأول
(الفترة الصباحية) - العام الدراسي ٢٠٢٤ - ٢٠٢٥ م

تابع أولاً: الأسئلة الموضوعية:

(٧) إقليم بلغت نسبة الفرق فيه لنمو سكان المدن بين عامي (١٩٨٠) و (٢٠٠٠) م (١١٪):

إقليم العالم	النسبة المئوية لسكان المدن (%)		
	١٩٢٠ م	١٩٨٠ م	٢٠٠٠ م
- أستراليا	٤٧	٦٨	٨٠
- جنوبى آسيا	٩	٢٥	٣٥
- روسيا	١٥	٨١	٨٥
- أفريقيا	٧	٢٨	٣٩

☐ جنوبى آسيا ☐ روسيا ☐ أفريقيا ☐ أستراليا

(٨) الرمز النقطة الذى على القارة التى توجد بها مدينة بومباي المليونية الضخمة:



- ☐ ΔΔ
- ☐ ■■
- ☐ ●●
- ☐ ○○

(٩) الأرقام الدالة على المشكلات الاقتصادية التى تواجه الريف فى الدول النامية:

م	مشكلات تواجه الريف فى الدول النامية
١	تخلخل البناء الاجتماعى.
٢	ظاهرة التصحر نتيجة الجفاف.
٣	ضعف الروابط الاجتماعية.
٤	ضعف إنتاجية الأراضي الزراعية.

☐ (٣، ١)

☐ (٤، ١)

☐ (٣، ٢)

☐ (٤، ٢)

يتبع ٤

المادة: الدراسات الاجتماعية – الصف السابع – الفصل الدراسي الثاني – الذور الأول
(الفترة الصباحية) – العام الدراسي ٢٠٢٤ - ٢٠٢٥ م

تابع أولاً: الأسئلة الموضوعية:

١٠ المدن التي بناها الأموريون (العموريون) في عهدهم: -

☐ حماة وحمص ☐ حلب وجبيل ☐ حماة وحلب ☐ جبيل وحماة

١١ البطاقة التعريفية الصحيحة لمملوك حضارات بلاد الرافدين:

نارام سن	مرجون الثاني
حكام بلاد الرافدين	
أشور باتييال	نارمر

☐

نارام سن	مرجون الثاني
حكام بلاد الرافدين	
أشور باتييال	أمنحوتب الرابع

☐

نارمر	مرجون الثاني
حكام بلاد الرافدين	
أشور باتييال	أمنحوتب الرابع

☐

نارام سن	مرجون الثاني
حكام بلاد الرافدين	
أشور باتييال	نبوخذ نصر الثاني


☐

١٢ المسطرة الزمنية التي تمثل الترتيب الصحيح لحضارات بلاد الشام من الأقدم إلى الأحدث:



يتبع ٥

المادة: الدراسات الاجتماعية - الصف السابع - الفصل الدراسي الثاني - الدور الأول
(الفترة الصباحية) - العام الدراسي ٢٠٢٤ - ٢٠٢٥ م



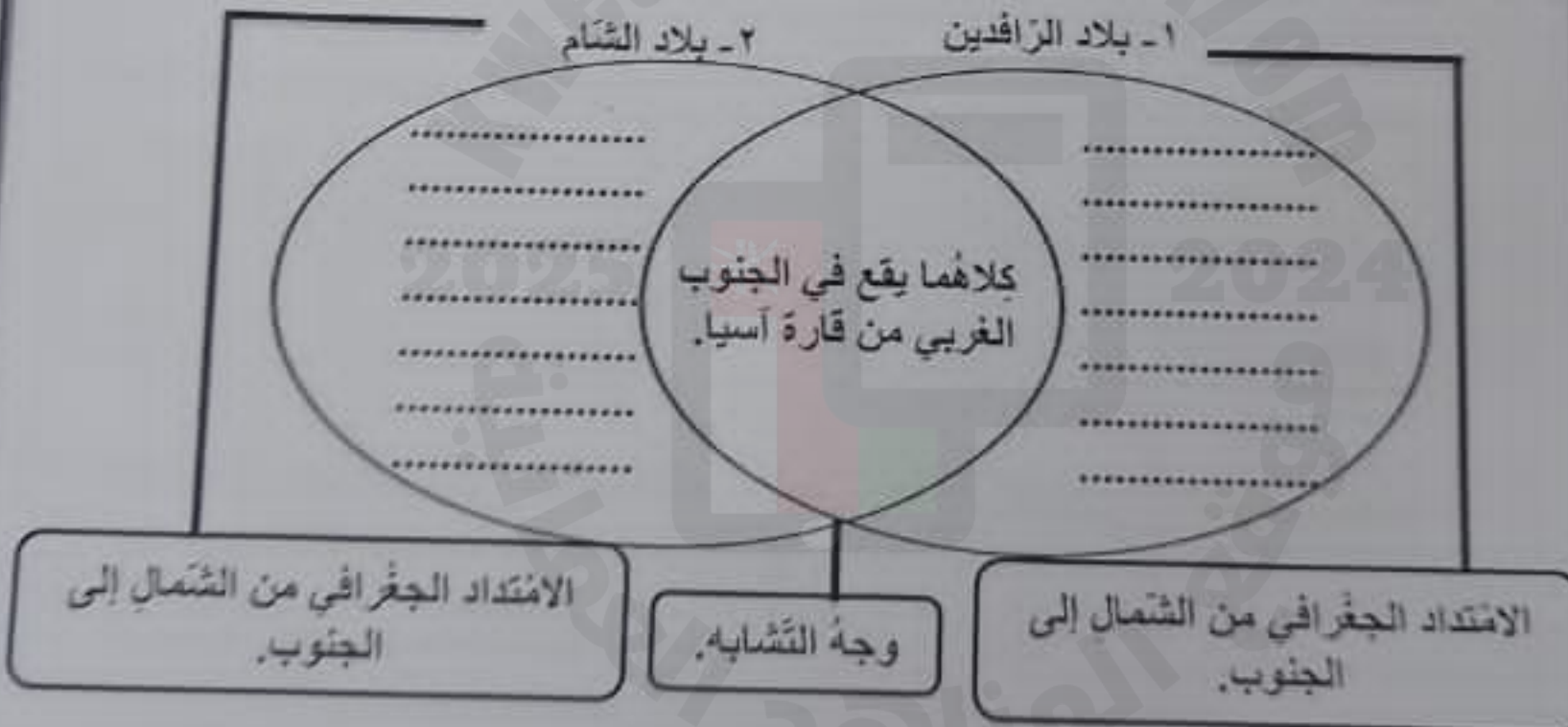
ثانيًا: الأسئلة المقالية:

(١٣) أ. انكر واحد لكل من:

١. أعمال الملك سرجون الأول.

٢. المشكلات الاجتماعية الناجمة عن ازدحام الطرق بالمركبات في المدن الكبرى.

ب. أكمل المخطط الآتي مستعينًا بالثنتين من المعلومات الواردة بين القوسين (بين جبال طوروس شمالًا والخليج العربي جنوبًا - بين هضبة الأناضول شمالًا والخليج العربي جنوبًا - بين هضبة الأناضول شمالًا وشبه الجزيرة العربية جنوبًا - بين جبال طوروس شمالًا وشبه الجزيرة العربية جنوبًا)




ج. صنف أرقام العبارات الآتية في الجدول الذي أمامك إلى خصائص كل من الريف والحضر (١ - ارتفاع قيمة الأراضي ٢ - انتشار نمط الأسرة الكبيرة ٣ - ممارسة التجارة والصناعة ٤ - قوة العلاقات الأسرية)

خصائص الريف	خصائص الحضر (المدينة)
(.....)	(.....)
(٢)	(.....)

يتبع ٦

المادة: الدراسات الاجتماعية – الصف السابع – الفصل الدراسي الثاني – الدور الأول
(الفترة الصباحية) – العام الدراسي ٢٠٢٤ - ٢٠٢٥ م

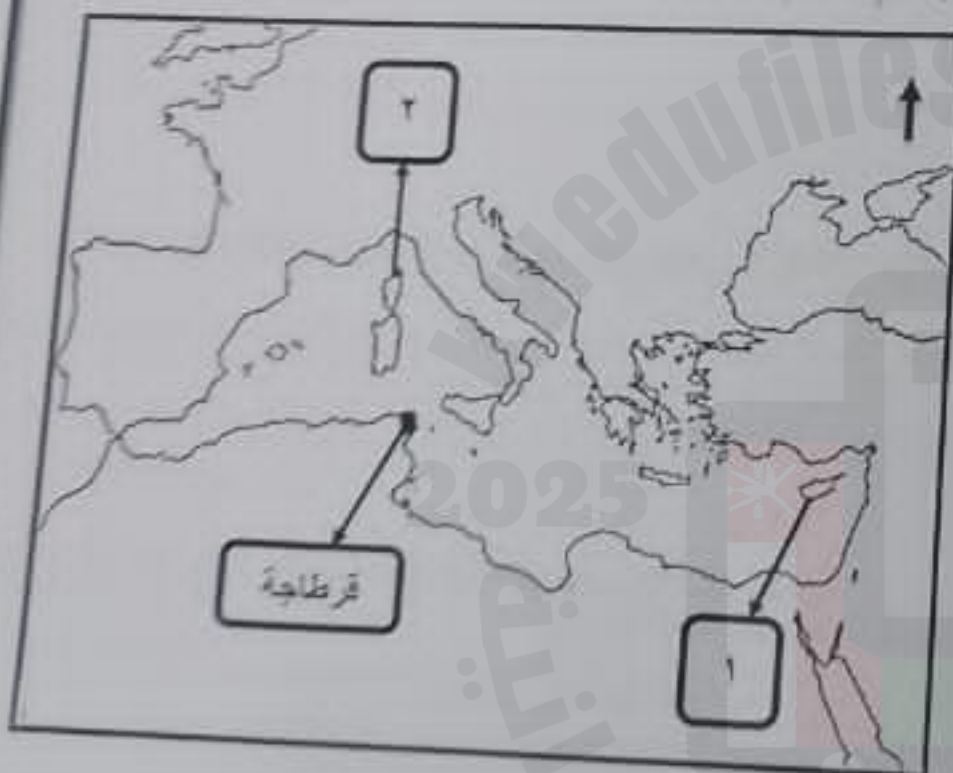
تابع ثانيًا: الأسئلة المقالية:



١٤ أ. اكتب اسم المفهوم / المصطلح الدال على العبارات الآتية.

م	العبارات	المفهوم / المصطلح
١	توسط الخدمات وتركزها في وسط المدينة.
٢	قبائل رعوية جاءت من آسيا اختلوا الدلتا ومصر الوسطى.

ب. ادرس الخريطة المقابلة جيدًا ثم أجب عن الأسئلة الآتية:



١. الجهة الرئيسية التي يقع فيها البحر المتوسط بالنسبة للمستعمرة الفينيقية قرطاجة

(.....)

٢. اكتب أسماء الجزر المشار إليها في الخريطة للتوسع الفينيقي في البحر المتوسط.

١.
٢.


ج. قارن بين معركة "مجدو" ومعركة "قادش" من حيث الآتي:

المعركة	مجدو	قادش
وجه المقارنة	شمالي فلسطين.
الدولة التي وقعت فيها	بين تختمس الثالث، وأمراء الشام، وزعماء القبائل، والبدو.	بين الخوشتين
أطراف المعركة		

يتبع ٧

المادة: الدراسات الاجتماعية - الصف السابع - الفصل الدراسي الثاني - النور الأول
(الفترة الصباحية) - العام الدراسي ٢٠٢٤-٢٠٢٥ م

تكمّل تالي الأسئلة المطلوبة:



١. اقرأ النص التالي ثم اجب عن الأسئلة التي تليها:

"تنتقل الهجرة من الريف إلى الحضر نتيجة تركز الخدمات والصناعات في المدن، وتوافر فرص العمل وارتفاع الدخل، وتؤدي الهجرة إلى الحضر عرقلة تنمية القطاع الزراعي في القرى والضغط على الخدمات في المدن"

١. "من نتائج الهجرة إلى المدن عرقلة تنمية القطاع الزراعي في الريف" فسر ذلك.

٢. اقترح حلاً لتقليل الهجرة من الريف إلى المدن. "يكفي بذكر اثنين".

ب. ادرس الخريطة المقابلة جيداً ثم اجب عن الأسئلة الآتية:

١. سمّ الحضارة التي تمثلها الخريطة المقابلة في النص أضعها.


٢. أشهر ملوك الحضارة التي تمثلها الخريطة المقابلة.



ينبع ٨

المادة: الدراسات الاجتماعية - الصف السابع - الفصل الدراسي الثاني - الدور الأول
(الفترة الصباحية) - العام الدراسي ٢٠٢٤ - ٢٠٢٥ م

تابع ثانياً: الأسئلة المقالية:
ج. تمعن الصور الآتية جيداً ثم أجب عن الأسئلة التي تليها:



ب




ا

١. البيعة التجارية في الصورة (ب) أرسلت في عصر الدولة:

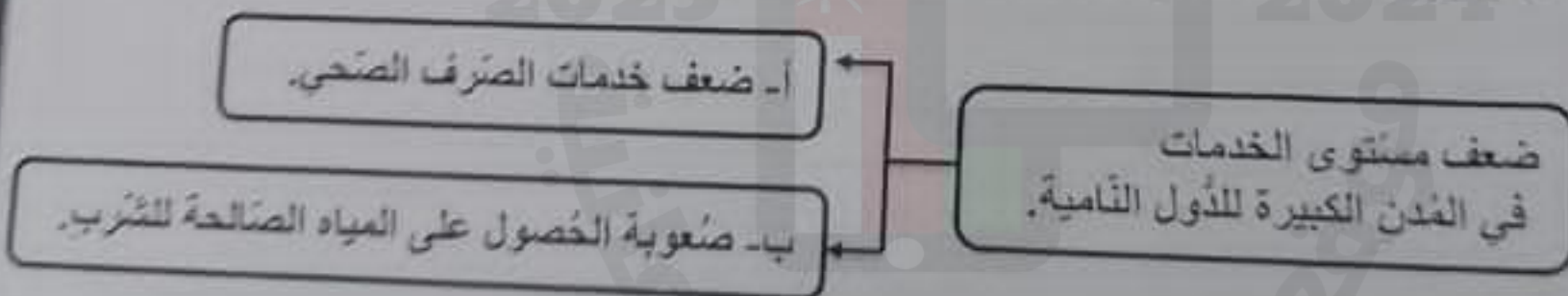
☐ القديمة ☐ الوسطى ☐ الحديثة (ظل على الإجابة الصحيحة)

٢. ما اسم الكتابة في الصورة (ا)؟

تابع ثانياً: الأسئلة المقالية:



١٦) أ. ادرس المخطط الآتي جيداً ثم أجب عن الأسئلة التي تليها:




١. علل سبب ضعف الخدمة المشار إليها بالحرف (ب).

٢. ما النتيجة المترتبة على ضعف الخدمة المشار إليها بالحرف (ا)؟

يتبع ٩

المادة: الدراسات الاجتماعية - الصف السابع - الفصل الدراسي الثاني - الدور الأول
(الفترة الصباحية) - العام الدراسي ٢٠٢٤ - ٢٠٢٥ م



تابع ثانياً: الأسئلة المقالية:
ب. وضح أهمية المعلم التاريخي الظاهر في الصورة
المقابلة. " يكتفي بواحدة"

ج. أكمل بيانات المخطط الآتي:

