

امتحان تدريبي بمحافظة الظاهرة



تم تحميل هذا الملف من موقع المناهج العمانية

موقع فايلاتي ← المناهج العمانية ← الصف السادس ← اجتماعيات ← الفصل الثاني ← ملفات متنوعة ← الملف

تاريخ إضافة الملف على موقع المناهج: 11:29:52 2025-06-01

ملفات اكتب للمعلم اكتب للطالب | اختبارات الكترونية | اختبارات | حلول | عروض بوربوينت | أوراق عمل
منهج انجليزي | ملخصات وتقارير | مذكرات وبنوك | الامتحان النهائي | للمدرس

المزيد من مادة
اجتماعيات:

التواصل الاجتماعي بحسب الصف السادس



الرياضيات



اللغة الانجليزية



اللغة العربية



التربية الاسلامية



المواد على تلغرام

صفحة المناهج
العمانية على
فيسبوك

المزيد من الملفات بحسب الصف السادس والمادة اجتماعيات في الفصل الثاني

امتحان تجريبي بمحافظة جنوب الباطنة	1
ملخص شرح الدولة الأموية	2
ملخص ومراجعة الدرس الثالث منجزات عمان في عصر الدولة الأموية من الوحدة الثانية	3
اختبار قصير ثاني نموذج ثاني في الوحدة الثانية عمان في العصر الأموي بمحافظة مسقط	4
اختبار قصير ثاني في الوحدة الثانية عمان في العصر الأموي	5



المديرية العامة للتربية والتعليم بمحافظة الظاهرة

دائرة القياس والتقويم التربوي

قسم تقويم تعلم مواد العلوم الإنسانية والمهارات الفردية

امتحان تدريبي لمادة الدراسات الاجتماعية

للفصل السادس - الفصل الدراسي الثاني

العام الدراسي ٢٠٢٤/٢٠٢٥م

▪ زمن الامتحان: ساعة ونصف.	▪ عدد صفحات أسئلة الامتحان: ٨ صفحات
▪ الإجابة في دفتر الأسئلة نفسه.	▪ الدرجة الكلية للامتحان: ٤٠ درجة
▪ تكتب الإجابة بالقلم الأزرق أو الأسود.	

اسم الطالب: _____ الصف: _____

السؤال	الدرجة		التوقيع بالاسم	
	بالأرقام	بالحروف	اسم المصحح	اسم المراجع
أولاً: الأسئلة الموضوعية (١ - ١٢)				
ثانياً: الأسئلة المقالية ١٣				
١٤				
١٥				
١٦				
المجموع			جمعه	مراجعة الجمع
المجموع الكلي				

أجب عن جميع الأسئلة الآتية

السؤال الأول: ضع دائرة حول رمز الإجابة الصحيحة لكل مفردة من المفردات الآتية:

١- الشكل الذي يمثل المصادر الأولية للبيانات السكانية:



ب



أ



د



ج

٢- أي من البدائل الآتية ليست من خصائص المسوحات بالعينة: -

(ب) توفر الوقت والجهد والتكلفة

(أ) تطبق على جزء من المجتمع

(ج) تعد من المصادر الأولية لجمع البيانات (د) تتمثل في سجلات المواليد والوفيات وحالات الطلاق

٣- المجال الذي ينتمي إليه الاسهام الحضاري في عصر الدولة الأموية في الصورة المقابلة:



(د) الثقافي

(ج) العسكري

(ب) العمراني

(أ) الإداري

٤- الشكل الذي يمثل التصنيف الصحيح للشخصيات العُمانية والمنجزات الثقافية لهم في العصر الأموي:

علم العروض	الشعر والخطابة	الفقه
• الخليل بن أحمد	• جابر بن زيد	• كعب بن معدان

ب

علم العروض	الشعر والخطابة	الفقه
• الخليل بن أحمد	• كعب بن معدان	• جابر بن زيد

أ

علم العروض	الشعر والخطابة	الفقه
• كعب بن معدان	• الخليل بن أحمد	• جابر بن زيد

د

علم العروض	الشعر والخطابة	الفقه
• جابر بن زيد	• كعب بن معدان	• الخليل بن أحمد

ج



٥- أي من المفاهيم التالية تعبر عنه الصورة التي أمامك؟

(أ) المجتمع المدني (ب) العمل التطوعي

(ج) المشاركة المجتمعية (د) الانتخابات

٦- الجدول الصحيح الذي يقارن بين المجتمعات المتقدمة والمجتمعات النامية:

وجه المقارنة	المجتمعات المتقدمة	المجتمعات النامية
مستوى أمد الحياة	مرتفع	منخفض
الأسباب	التقدم الصحي والاقتصادي	ضعف التقدم الصحي والاقتصادي

وجه المقارنة	المجتمعات المتقدمة	المجتمعات النامية
مستوى أمد الحياة	مرتفع	مرتفع
الأسباب	التقدم الصحي والاقتصادي	التقدم الصحي والاقتصادي

ب

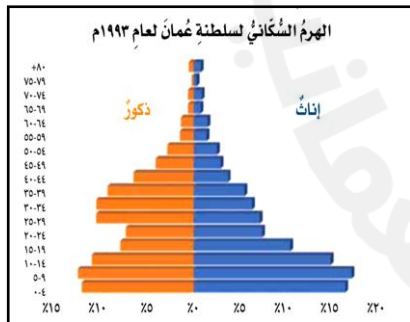
أ

وجه المقارنة	المجتمعات المتقدمة	المجتمعات النامية
مستوى أمد الحياة	منخفض	مرتفع
الأسباب	ضعف التقدم الصحي والاقتصادي	التقدم الصحي والاقتصادي

وجه المقارنة	المجتمعات المتقدمة	المجتمعات النامية
مستوى أمد الحياة	منخفض	منخفض
الأسباب	التقدم الصحي والاقتصادي	ضعف التقدم الصحي والاقتصادي

د

ج



٧- الفئة العمرية والنوعية ذات النسبة الأعلى في الهرم السكاني المقابل:

(أ) صغار السن / إناث (ب) متوسطو السن / ذكور

(ج) صغار السن / ذكور (د) متوسطو السن / إناث

٨- الخليفة الأموي الذي تحقق في عهده المنجز الحضاري في الصورة المقابلة:



(أ) عمر بن عبد العزيز (ب) عبد الملك بن مروان

(ج) معاوية بن أبي سفيان (د) يزيد بن معاوية



٩- الخدمة التي تقدمها مؤسسة المجتمع المدني كما يظهر في الشعار المقابل:

- (أ) الرعاية الصحية
(ب) رعاية الشباب
(ج) المساعدات الإنسانية
(د) الرعاية الاجتماعية

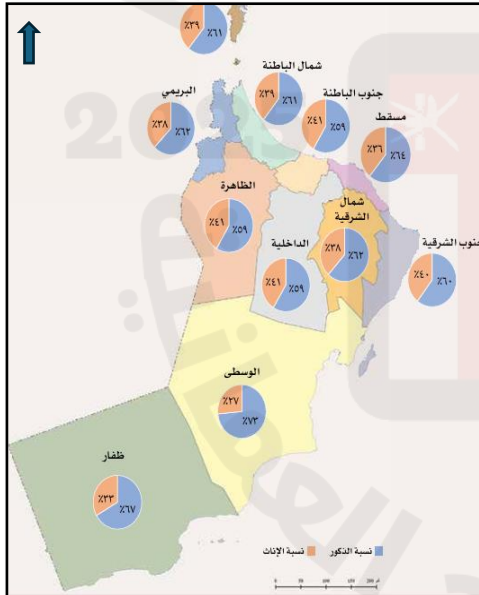
١٠- الشخصية العُمانية صاحبة مقولة (إذا رأيتم النعم مستدرة؛ فبادروا بالشكر قبل حلول الزوال):

- (أ) زياد بن المهلب الأزدي
(ب) الخليل بن أحمد الفراهيدي
(ج) هند بنت المهلب بن أبي صفرة
(د) سعيد بن عباد بن عبد الجلندي

١١- إذا علمت أن مساحة محافظة مسقط تبلغ ٣,٧٦٢ كم^٢ وعدد سكانها يبلغ ١,٤٠١,٤٥٩ نسمة في عام ٢٠٢٣م، فكم تساوي الكثافة السكانية لها:

- (أ) ٣٧٠,٥ (ب) ٣٧١,٥ (ج) ٣٧٢,٥ (د) ٣٧٣,٥

١٢- الترتيب التصاعدي للمحافظات من حيث نسبة عدد الإناث كما توضحه الخريطة المقابلة:



١	٢	٣
ظفار	الظاهرة	البريمي

(أ)

١	٢	٣
مسقط	ظفار	الداخلية

(ب)

١	٢	٣
البريمي	مسقط	الوسطى

(ج)

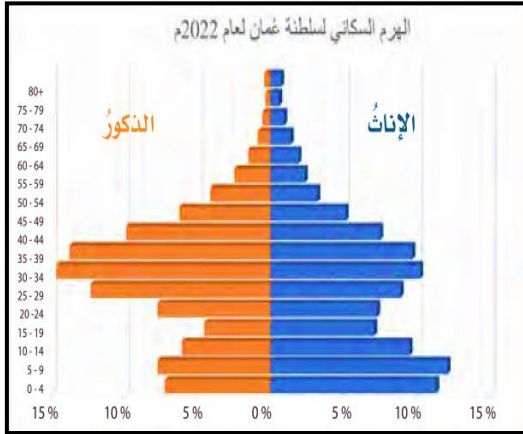
١	٢	٣
الوسطى	ظفار	مسقط

(د)

ثانيا : الأسئلة المقالية :

٧

١٣- أ- ادرس الشكل الذي أمامك ثم أجب عن الأسئلة التالية:



١- ما شكل قاعدة الهرم السكاني لسلطنة عمان عام

٢٠٢٠م؟.....

٢- أكمل:

- بلغت نسبة الذكور من نسبة السكان في الفئة العمرية (٣٠-٣٤). حوالي.....

٣- حدد الفئة العمرية الأكثر ارتفاعا في الشكل.

.....

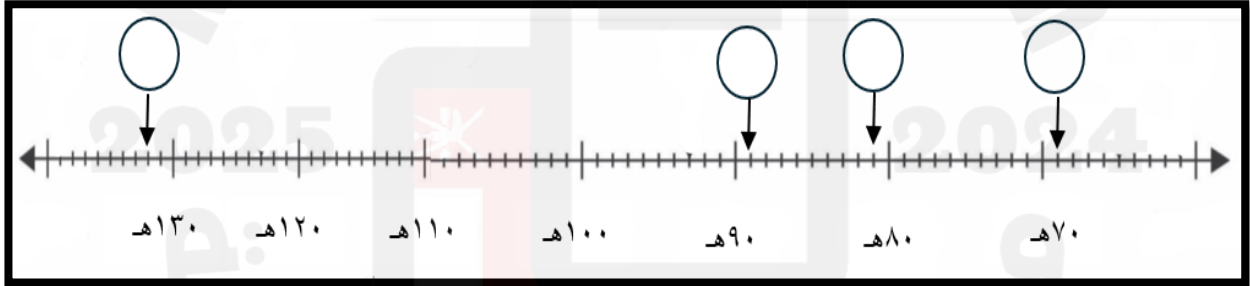
ب- اكتب أرقام الأحداث التاريخية الآتية في مواقعها حسب تسلسلها الصحيح على الخط الزمني التالي:

(١) انتهاء حكم آل الجندى لعمان.

(٢) سقوط الدولة الأموية.

(٣) تعرض عُمان لهجوم النجدات.

(٤) قاد يزيد بن المهلب الأزدي حملة لفتح مدينة جرجان الإيرانية.



١٤- أ- ما النتائج المترتبة على :-

- التبليغ الخاطئ عن نوع المولود؟

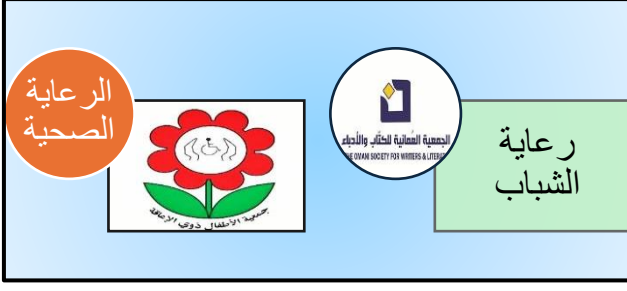
.....
.....

- توفر قاعدة من البيانات السكانية ؟


.....
.....

ب- من خلال الاستعانة بالشكل الآتي :

- استنتج مفهوم المجتمع المدني.



ج- ادرس الصور التي توضح العوامل المؤثرة في النمو السكاني ثم أجب عما يليها :

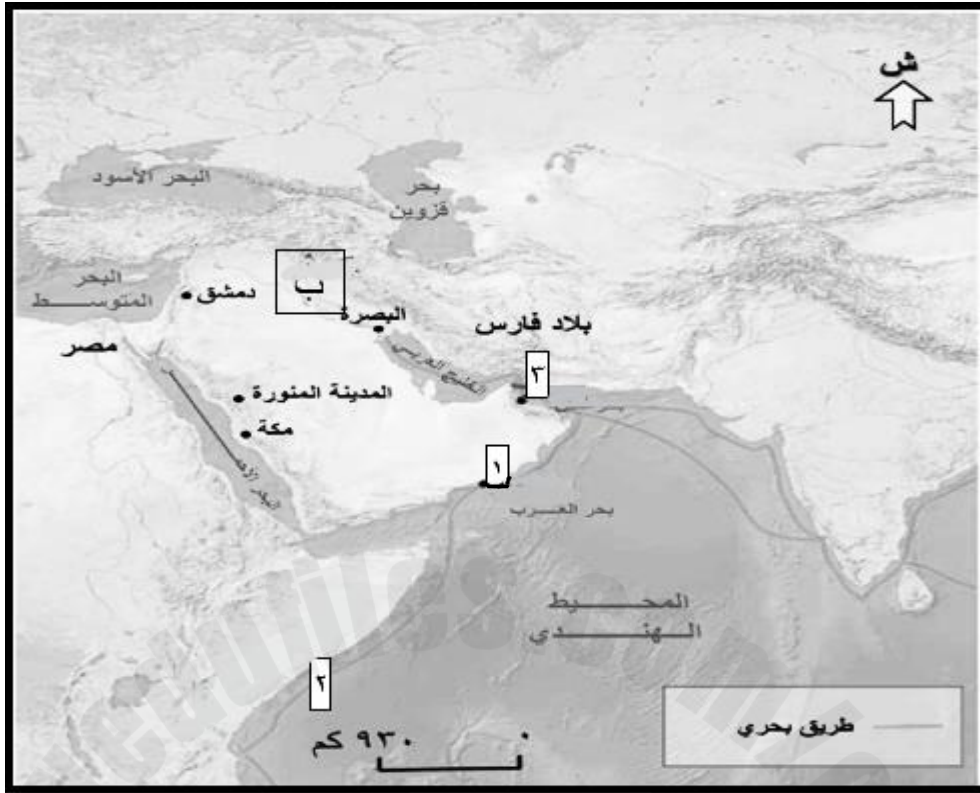


١- استنتج من الصور العوامل المؤثرة في الزيادة الطبيعية.

٢- اقترح بعض الإجراءات للتقليل من مخاطر الصورة رقم (٣).

٣- ما الآثار الناجمة عن انتشار الجائحة في رقم (٢) عام ٢٠٢٠م؟ (يكتفى بذكر واحد فقط)

١٥- أ- ادرس الخريطة التي أمامك ثم أجب عن الأسئلة التالية :-




- ١- استخرج أرقام اثنين من الموانئ العُمانية التي لعبت دورا بارزا في التجارة البحرية. ()
- ٢- الوالي الذي أرسل حملات من الدولة المشار إليها بالرمز (ب) للسيطرة على عمان. ()
- ٣- ضع الرمز (Δ) على إحدى المناطق التي وصلت إليها التجارة العُمانية قديما.

ب- اكتب أوجه الشبه والاختلاف بين مؤسسات المجتمع المدني (س و ص) من حيث الخدمة التي تقدمها للمجتمع والجهة المشرفة عليها في الشكل أمامك :

ص

س



١٦- أ- من خلال فهمك لقانون الزيادة الطبيعية أوجد الناتج في كلا من أ و ب

في الجدول أدناه:-

عوامل التَّمَوُّ السَّكَّانِي السَّنَةُ	٢٠١٠م	٢٠٢٠م
عَدَدُ المَوَالِيدِ	أ /	٨٢,٢٢٤
عَدَدُ الوَفَايَاتِ	٧,٤١٤	١٢,٦٤٩
الزِّيَادَةُ الطَّبِيعِيَّةُ	57316	ب /

ب- ١- عزيزي الطالب إذا كان عمرك الآن ١١ سنة، فما الفئة العمرية التي تنتمي إليها؟

٢- اكتب المصطلح الذي يقصد به عدد السنوات التي يتوقع أن يعيشها الفرد. () .

ج- أ- أعط دليلا واحدا على ما يأتي:

- اهتمام الدولة الأموية بالمجال الثقافي .

- دور العمانيين في المجال العسكري خارجيا.

ب- علل: يفضل الإنسان العيش في المناطق السهلية عن المناطق الجبلية .

انتهت الأسئلة