

تم تحميل هذا الملف من موقع المناهج العمانية



## امتحان تدريبي في محافظة الظاهرة

موقع فايلاتي ← المناهج العمانية ← الصف السادس ← اجتماعيات ← الفصل الأول ← الامتحان النهائي ← الملف

تاريخ إضافة الملف على موقع المناهج: 2025-01-05 20:46:37

ملفات اكتب للمعلم اكتب للطالب | اختبارات الكترونية | اختبارات | حلول | عروض بوربوينت | أوراق عمل  
منهج انجليزي | ملخصات وتقارير | مذكرات وبنوك | الامتحان النهائي للمدرس

المزيد من مادة  
اجتماعيات:

## التواصل الاجتماعي بحسب الصف السادس



صفحة المناهج  
العمانية على  
فيسبوك

الرياضيات

اللغة الانجليزية

اللغة العربية

التربية الاسلامية

المواد على تلغرام

## المزيد من الملفات بحسب الصف السادس والمادة اجتماعيات في الفصل الأول

ملخص الوحدة الثالثة

1

ملخص الوحدة الأولى

2

ملخص الوحدة الثانية

3

اختبار قصير ثاني في محافظة جنوب الشرقية

4

سؤال قصير ثاني في مدرسة مزون

5



المديرية العامة للتربية والتعليم بمحافظة الظاهرة

دائرة القياس والتقويم التربوي

قسم تقويم تعلم مواد العلوم الإنسانية والمهارات الفردية

امتحان تدريبي لمادة الدراسات الاجتماعية

للسف السادس - الفصل الدراسي الأول

العام الدراسي ٢٠٢٤/٢٠٢٥م

- زمن الامتحان: ساعة ونصف.
- الإجابة في دفتر الأسئلة نفسه.
- تُكتب الإجابة بالقلم الأزرق أو الأسود.
- عدد صفحات أسئلة الامتحان: ٦ صفحات
- الدرجة الكلية للامتحان: ٤٠ درجة

اسم الطالب: \_\_\_\_\_ الصف: \_\_\_\_\_

التوقيع بالاسم		الدرجة		السؤال
اسم المراجع	اسم المصحح	بالحروف	بالأرقام	
				أولاً: الأسئلة الموضوعية (١ - ١٢)
				ثانياً: الأسئلة المقالية ١٣
				١٤
				١٥
				١٦
مراجعة الجمع	جمعه			المجموع
				المجموع الكلي

## أجب عن جميع الأسئلة الآتية

السؤال الأول: ضع دائرة حول رمز الإجابة الصحيحة لكل مفردة من المفردات الآتية:



١- نوع الرمز الذي يستخدم لتمثيل الظاهرة الجغرافية الواضحة في الشكل المقابل على الخريطة:

(أ) نقطي (ب) خطي (ج) مساحي (د) كمي

٢- أي الرموز التالية توضح كم الظاهرة أو حجمها:

(أ) النقطية (ب) الخطية (ج) الكمية (د) المساحية

٣- الخليفة الذي تم اختياره بطريقة مشابهة لاختيار أعضاء مجلس الشورى في سلطنة عُمان :

(أ) أبو بكر الصديق (ب) عمر بن الخطاب (ج) عثمان بن عفان (د) علي بن أبي طالب

٤- الشكل الصحيح الذي يبين التمثيل الصحيح لرموز الخريطة:

الحدود الإدارية	الحدود الدولية
مطار	عاصمة

الحدود الإدارية	الحدود الدولية
ولاية	ميناء

الحدود الإدارية	الحدود الدولية
ولاية	ميناء

الحدود الإدارية	الحدود الدولية
ولاية	ميناء

د

ج

ب

أ

٥- الولاية التي يوجد بها أحد أكبر مشروعات تكرير النفط في الشرق الأوسط:

(د) بخاء

(ج) لوى

(ب) بركاء

(أ) الدقم

٦- الخليفة الراشد الذي أوصى الجيوش قبل مسيرها إلى بلاد الشام بالصبر عند اللقاء وعدم الغدر:

(د) أبو بكر الصديق

(ج) عمر بن الخطاب

(ب) عثمان بن عفان

(أ) علي بن أبي طالب

٧- الوزارة المسؤولة عن مبادرة المدارس الخضراء بسلطنة عُمان :

(أ) الزراعة والثروة السمكية وموارد المياه

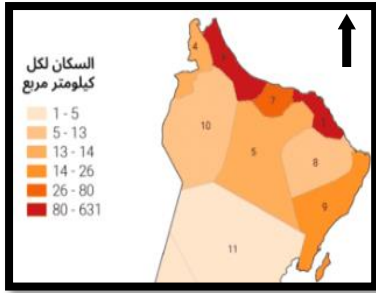
(ب) التراث والسياحة

(ج) التربية والتعليم

(د) الطاقة والمعادن

٨- الفترة الزمنية التي تولى فيها الخليفة عثمان بن عفان خلافة المسلمين:

(أ) (١-١١هـ) (ب) (١١-١٣هـ) (ج) (١٣-٢٣هـ) (د) (٢٣-٣٥هـ)



٩- نوع الرموز حسب ما توضحه الخريطة المقابلة:


(أ) مساحية نوعية

(ب) نقطية نوعية

(ج) مساحية كمية

(د) نقطية كمية

١٠- القطاع الذي يعد من المكونات المهمة في الاقتصاد العماني ويسهم في نمو الاقتصاد بشكل كبير:



د

ج

ب

أ

١١- المسمى الذي يطلق على ممثل حاكم الدولة في ولاية من الولايات فترة عصر الخلافة الراشدة:

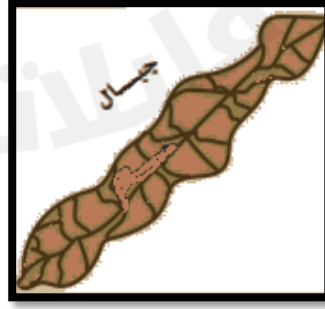

(د) العامل

(ج) الخليفة

(ب) الوالي

(أ) القاضي

١٢- الشكل الذي يدل على الكتابة الصحيحة للأسماء الجغرافية التالية:



د

ج

ب

أ


ثانيا : الأسئلة المقالية :

٧

١٣- أ- قارن بين أنواع رموز الخريطة حسب الجدول الآتي:


أنواع الرموز	النقطة	المساحية
استخداماتها	لتمثيل الحدود السياسية والأنهار	

ب- رتب الأحداث التالية من الأقدم للأحدث ( مواجهة عبد بن الجلندي للغساسنة - وفاة الرسول الكريم عليه الصلاة والسلام - تعيين عثمان بن أبي العاص على عُمان - تعيين حذيفة بن محصن على عُمان ) في الشكل التالي :-



٧

١٤- أ- تأمل الصورة المقابلة وأجب عن الأسئلة التالية:



- المؤسسة التي يشير إليها الشعار المقابل.

- ما أهمية هذه المؤسسة؟

ب- بالاستعانة بالصور استنتج مفهوم الصناعات التحويلية؟



ج- أراد عمر تنفيذ مشروع بيع العصائر، ادرس المواقع الآتية، واختر الموقع المناسب للمشروع مع التعليل



(ب)



(أ)

الموقع المناسب ( )

التعليل

١٥- أ- ادرس الخريطة التي أمامك ثم أجب عن الأسئلة التالية:-



١- استخراج اسم الدولة التي جلب منها العُمانيون الأخشاب لصناعة السفن.

.....

٢- اكتب كتابة صحيحة في الخريطة السابقة المواقع الجغرافية التالية:

- المدينة العُمانية التي تعتبر الميناء الرئيسي في عُمان قديماً.
- عاصمة دولة الخلافة الراشدة.

٣- وضح طريقة صنع السفن العُمانية قديماً؟

.....

ب- ضع إشارة (✓) مقابل المميزات التي يتميز بها كل مشروع من المشاريع الاقتصادية العُمانية في الجدول التالي :-

المميزات	المشروع	خزائن الصناعية	مجمع لوى	محطة مسندم
يعزز إمداد المشاريع الصناعية بالطاقة.				
يوفر المادة الخام للصناعات البلاستيكية.				
يضم مصانع لإعادة التدوير.				

١٦- أ- أمامك مجموعة من الصور التي توضح اختلاف أشكال السطح في سلطنة عُمان، وضح كيف من الممكن استثمارها اقتصاديا؟

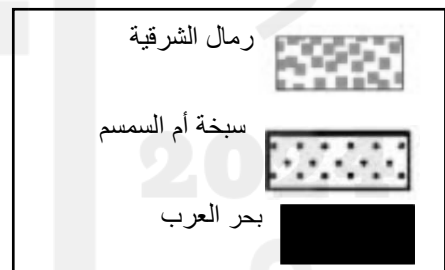


.....  
.....  
.....

.....  
.....  
.....

.....  
.....  
.....

ب- أراد أحد الطلبة تمثيل الظاهرات الجغرافية الآتية على خريطة سلطنة عُمان ( بحر عمان - رمال الشرقية - محمية امها ) أي من الشكلين مناسب لتمثيل الظاهرات الجغرافية ؟ مع التفسير ( ضع علامة ( √ ) في الشكل المناسب )



فسر إجابتك.....  
.....  
.....  
ج- استنتج دلالة مشاركة العُمانيين في الفتوحات البحرية الإسلامية في عهد الخليفة عمر بن الخطاب (رضي الله عنه).

.....  
.....  
.....

انتهت الأسئلة