

مراجعة شاملة للمنهج 2025



تم تحميل هذا الملف من موقع المناهج العمانية

موقع فايلاتي ← المناهج العمانية ← الصف السادس ← اجتماعيات ← الفصل الثاني ← ملفات متنوعة ← الملف

تاريخ إضافة الملف على موقع المناهج: 2026-01-27 12:27:48

ملفات اكتب للمعلم اكتب للطالب | اختبارات الكترونية | اختبارات | حلول | عروض بوربوينت | أوراق عمل
منهج انجليزي | ملخصات وتقارير | مذكرات وبنوك | الامتحان النهائي | للمدرس

المزيد من مادة
اجتماعيات:

إعداد: جلييلة الكلبانية

التواصل الاجتماعي بحسب الصف السادس



صفحة المناهج
العمانية على
فيسبوك

المزيد من الملفات بحسب الصف السادس والمادة اجتماعيات في الفصل الثاني

عرض تقديمي درس الكثافة السكانية

1

كراسة مراجعة شاملة كراستي اجتهد وإنجاز

2

تقرير عن التعداد السكاني أداة أساسية للتخطيط التنموي والاجتماعي

3

تقرير عن البيانات السكانية وأهميتها في التخطيط المجتمعي والتنموي

4

تقرير عن الدولة الأموية النشأة والتوسع والإرث التاريخي

5



سلطنة عُمان
وزارة التربية والتعليم

المديرية العامة للتربية والتعليم بمحافظة الظاهرة
مدرسة أم عطية الأنصارية للتعليم الأساسي (١٢-٥)

هيا نراجع

مادة الدراسات الاجتماعية

الصف السادس / الفصل الدراسي الثاني

٢٠٢٤ - ٢٠٢٥



إعداد: أ. جلييلة الكلبانية

معلمة تاريخ

مقدمة

أعزائي طلبة الصف السادس،

مرحبًا بكم في هذا الكتيب الذي سيساعدكم على مراجعة مادة الدراسات الاجتماعية بسهولة ومتعة!

حرصنا على تقديم أسئلة متنوعة بطريقة مبسطة ومنظمة؛ حتى تتمكنوا من تثبيت المعلومات واستيعابها بأفضل شكل ممكن. هدفنا هو أن تشعروا بالثقة والراحة أثناء مراجعتكم، وأن يكون هذا الكتيب دليلكم لتحقيق التفوق والنجاح.



أود أن ألفت انتباهكم إلى أن هذا الكتيب لا يحتوي على أسئلة اختير من متعدد؛ لتستوعبوا المعلومة بشكل كامل دون تلميحات، مما يساعدكم على التفكير العميق والتذكر بطريقة أفضل.



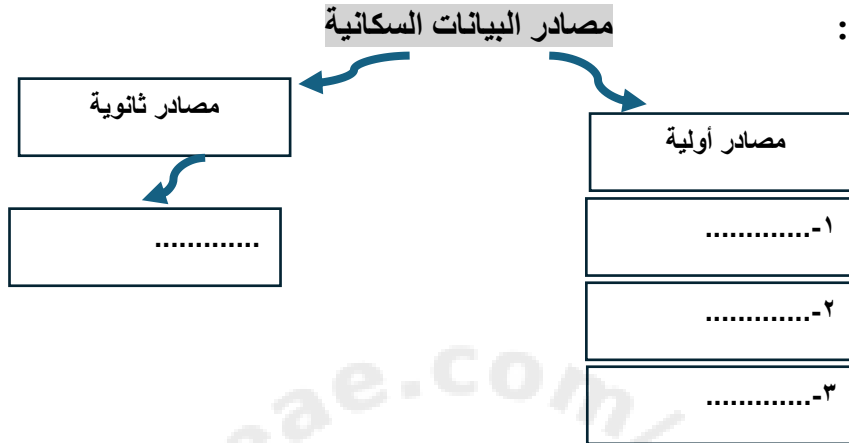
تذكروا أن كل معلومة تتعلمونها اليوم تفتح لكم آفاقًا جديدة لفهم العالم من حولكم، فاستمتعوا برحلة التعلم واجعلوها ممتعة ومثمرة!

الوحدة الأولى: جغرافية السكان

الدرس الأول: البيانات السكانية

١- عدد مصادر البيانات السكانية.

٢- أكمل المخطط الآتي:



٣- يعد من أشمل المصادر الإحصائية لدراسة الخصائص السكانية.....

٤- علل: يعد التعداد السكاني من أشمل المصادر الإحصائية لدراسة الخصائص السكانية ؟

٥- عرف التعداد؟

٦- أول مواطن تسجل بياناته في أول تعداد شامل بسلطنة عمان عام ١٩٩٣.....

٧- وضح كيف تطورت آلية التعداد في سلطنة عمان؟

٨- حل جدول قارن ص ٢٠

٩- نوع الاستثمارات المستخدمة في التعداد الميداني.....

١٠- نوع الاستثمارات المستخدمة في التعداد الالكتروني.....

١١- قارن بين التعداد الميداني والتعداد الالكتروني من خلال إكمال الجدول الآتي:

وجه المقارنة	التعداد الميداني	التعداد الالكتروني
العام الميلادي الذي بدأ تطبيقه		
السلطان الذي نُفِّذَ التعداد في عهده		

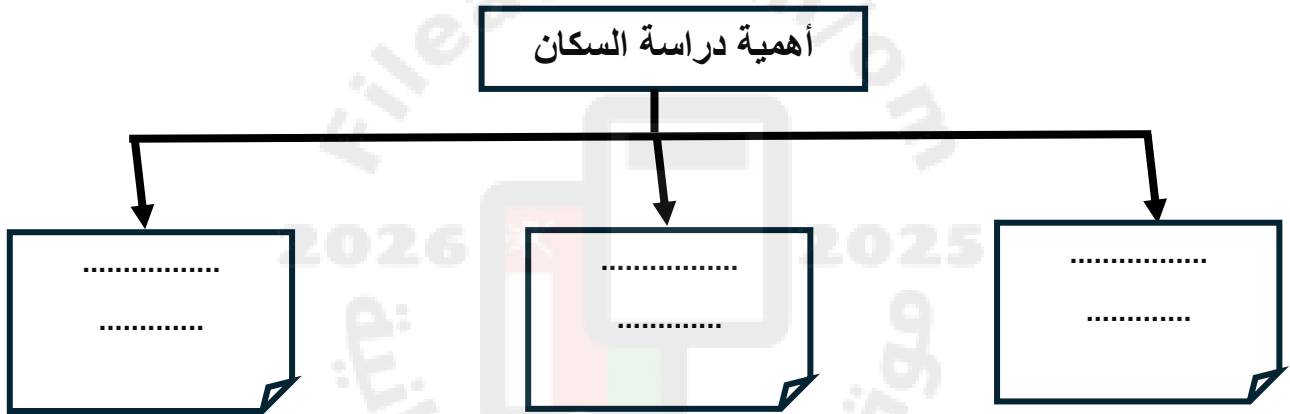
١٢- تم إجراء أول تعداد ميداني عام في عهد السلطان

١٣- أول تعداد إلكتروني عام في عهد السلطان.....

١٤- تسمى الإحصاءات الحيوية في سلطنة عمان ب.....

١٥- يتمثل سجل الأحوال المدنية ب و و و

- ١٦- من مصادر السكان الأولية التي تطبق على جزء من المجتمع
- ١٧- من مصادر السكان الأولية لجمع البيانات السكانية بين فترات التعداد.....
- ١٨- من مصادر السكان الأولية تتميز بتوفير الوقت والجهد والتكلفة
- ١٩- أذكر مميزات استخدام المسوحات بالعينة ؟
- ٢٠- علل تنتهج سلطنة عمان نظام الحكومة الالكترونية؟
- ٢١- اذكر أمثلة على مصادر البيانات السكانية الثانوية.
- ٢٢- تصنف سجلات المدارس والمستشفيات من مصادر البيانات السكانية
- ٢٣- حل نشاط صنف صفحة ٢٢
- ٢٤ - أكمل المخطط الآتي:




٢٥- فسر : الجهود التي تبذلها سلطنة عمان في جمع البيانات السكانية ؟

٢٦- ادرس النص التالي ثم أجب عن الأسئلة التي تليه:

من النطق السامي

«لقد تجلّت الجهود الوطنية -بفضل من الله تعالى- في استمرار مسيرة تطوير قطاعات الصحة والتعليم والخدمات التي عملنا جاهدين على أن تواكب التزايد في عدد السكان، وحرصنا على تنفيذها وتقديمها وفقاً لإستراتيجيات وخطط مدروسة وواقعية، تأخذ هذه العوامل في الحسبان، فشملت جميع المحافظات والولايات دون استثناء».

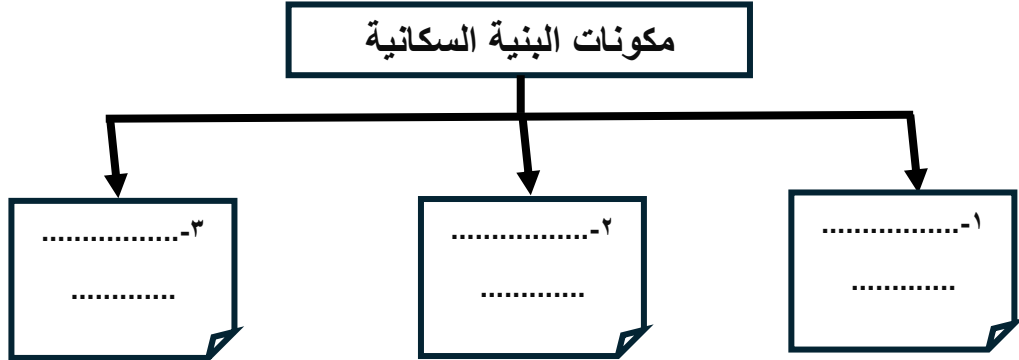
من خطاب حضرة صاحب الجلالة السلطان هيثم بن طارق المعظم -حفظه الله ورعاه-، نوفمبر ٢٠٢٣ م.



- أ- العام الميلادي الذي صدر فيه النطق السامي
- ب- استنتج من النص هدف واحد من الجهود الوطنية لتطوير قطاعات الصحة والتعليم والخدمات.

الدرس الثاني: بنية السكان

- ١- عرف البنية السكانية.
- ٢- يقصد بدراسة السكان كم حيث التركيب العمري والنوعي والحالة الاقتصادية والاجتماعية ب
- ٣- أكمل المخطط الآتي :



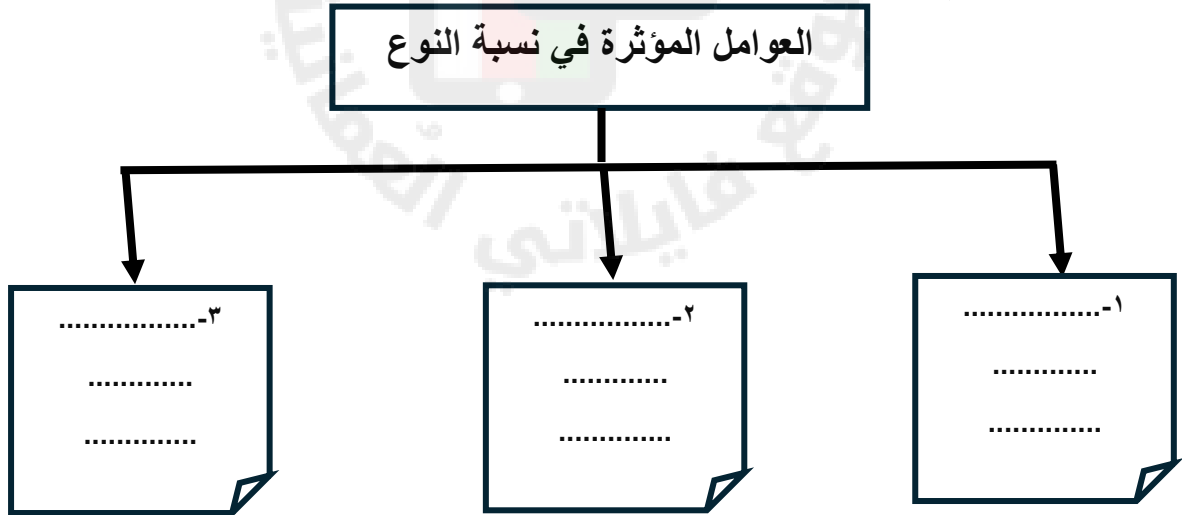
- ٤- يقصد بتصنيف السكان حسب النوع إلى ذكور وإناث ب
- ٥- عرف البنية النوعية .

٦- فسر : حكمة الله تعالى أن خلق الناس من ذكر وأنثى.

٧- أعطي دليلا من القرآن على أن الله خلق الناس من ذكر وأنثى .

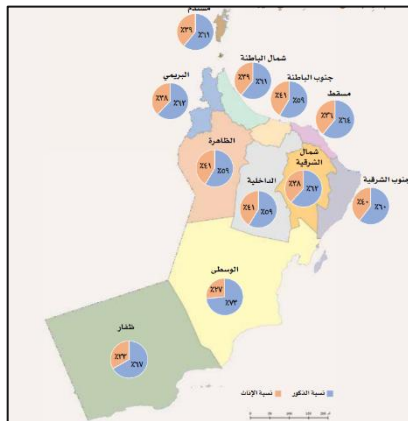
٨- عدد العوامل المؤثرة في نسبة النوع.

٩- أكمل المخطط الآتي:



- ١٠- علل: تؤثر الهجرة في اختلاف نسب الذكور والإناث.
- ١١- فسر تؤدي الحروب إلى زيادة نسبة الإناث.
- ١٢- أعطي مثال على عدم الدقة في تسجيل البيانات السكانية.
- ١٣- حل نشاط حلل صفحة ٢٧

٤١- ادرس الخريطة التالية ثم أجب عن الأسئلة التي تليها: (الخريطة موجودة في الكتاب صفحة ٢٧)



أ- المحافظة التي ترتفع فيها نسبة الذكور

ب- بلغ عدد الإناث في محافظة الظاهرة

ج- بلغ عدد الذكور في محافظة ظفار

د- علل: ارتفاع نسبة الذكور في محافظة الوسطى.

١٥- حل نشاط حل صفحة ٢٨

١٦- الدول الخليجية التي ترتفع فيها نسبة الذكورو.....

١٧- الدولة الخليجية التي تتخفّض فيها نسبة الإناثو.....

١٨ - يقصد بها تصنيف السكان حسب فئات العمر

١٩- عرف البنية العمرية.

٢٠- ينقسم السكان إلى ثلاث فئات عمرية، اذكرها.

٢١- حل نشاط صنف صفحة ٢٩

٢٢ - ادرس النص التالي ثم اجب عن الأسئلة التي تليه:

فاطمة تبلغ من العمر ٤٥ سنة لديها بنت اسمها سلمى عمرها ١١ سنة ، ذهبتا لزيارة جدهما البالغ من العمر ٧٧ سنة .

أ - ما الفئة العمرية التي ينتمي إليها كلا من :

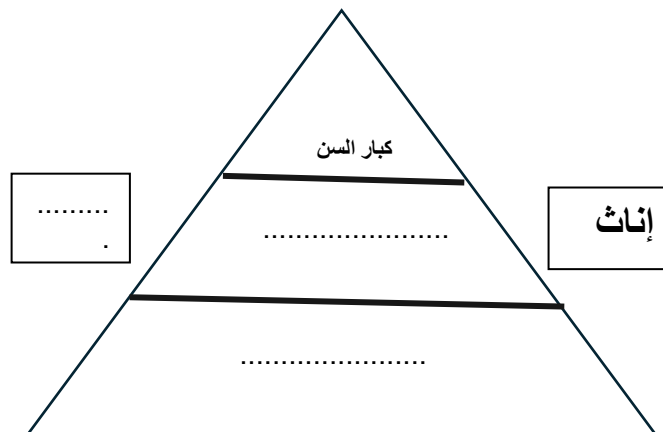
فاطمة..... سلمى..... الجد.....

٢٣ - عرف الهرم السكاني.

٢٤- تمثل الأهرامات السكانية على هيئة.....و.....

٢٩- تعتبر من مكونات الهرم السكاني وتكون في وسط الهرم

٢٦- أكمل مكونات الهرم السكاني :



٢٧- حل نشاط حل صفحة ٣٤

٢٨- حل نشاط قارن صفحة ٣٣

٢٩- عرف البنية الاقتصادية

٣٠- يصنف السكان في البنية الاقتصادية إلى و.....

٣٠- تصنف فئة صغار السن إلى قوى

٣١- صنف الصور التي أمامك إلى قوى عاملة وغير عاملة:

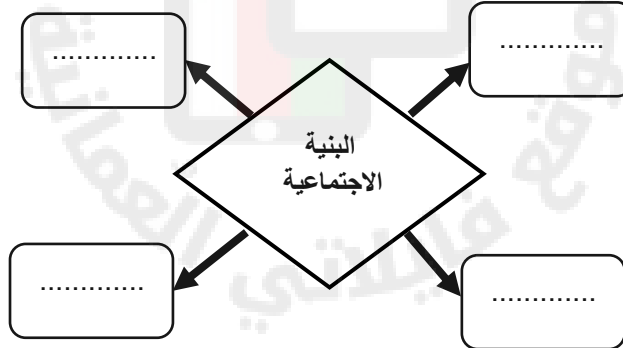


٣٢- عرف البنية الاجتماعية

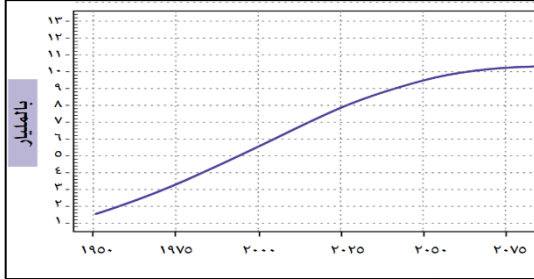
٣٣- تتمثل البنية الاجتماعية في خصائص السكان من حيث الحالة إلى (.....) و.....

(..... و..... و.....)

٣٤- أكمل مخطط خصائص السكان من حيث الحالة الزوجية:



الدرس الثالث: النمو السكاني



- ١- عرف النمو السكاني
- ٢- من خلال الشكل استنتج مفهوم النمو السكاني (الشكل موجود صفحة ٣٨)

- ٣- حل نشاط حل صفحة ٣٨
- ٤- عدد العوامل المؤثرة في النمو السكاني.
- ٥- مصطلح يطلق على الفرق بين عدد المواليد وعدد الوفيات في مجتمع معين خلال فترة زمنية محددة
بـ.....
- ٦- عرف الزيادة الطبيعية.
- ٧- اكتب أسفل الصور العوامل المؤثرة في الزيادة الطبيعية :

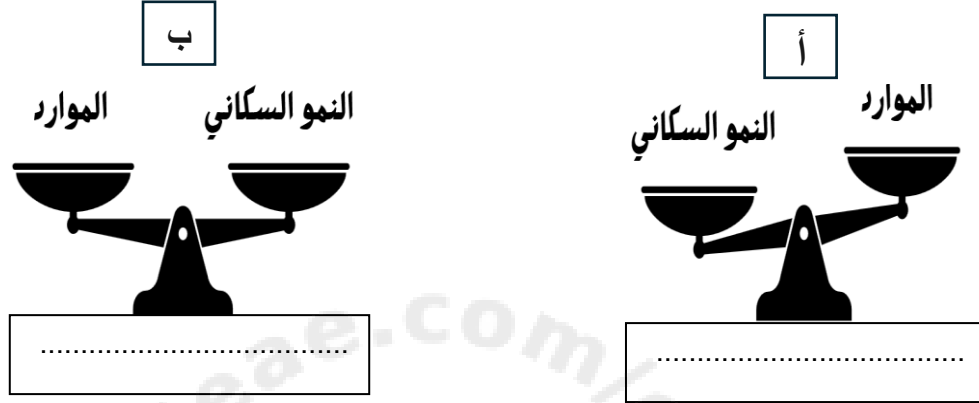


.....

.....

- ٨- كيف يمكن حساب الزيادة الطبيعية .
- ٩- عدد العوامل المؤثرة في الزيادة الطبيعية
- ١٠- علل : ارتفاع عدد الوفيات في العالم عام ٢٠٢٠ م .
- ١١- انتشرت جائحة كورونا في العالم عام
- ١٢- علل : أسباب ارتفاع عدد المواليد في بعض المجتمعات الزراعية .
- ١٣- حل سؤال طبق صفحة ٤٠
- ١٤- حل سؤال حل صفحة ٤٠
- ١٥- تؤدي الحوادث المرورية إلى زيادة معدل
- ١٦- يقصد بعدد السنوات المتوقع أن يعيشها الفرد الواحد بـ.....
- ١٧- عرف المقصود بأمد الحياة .
- ١٨- حل سؤال قارن صفحة ٤١
- ١٩- يوصف أمد الحياة في المجتمعات المتقدمة بـ.....
- ٢٠- علل : انخفاض أمد الحياة في المجتمعات النامية.
- ٢١- علل ارتفاع أمد الحياة في المجتمعات المتقدمة .
- ٢٢- عرف الزيادة غير الطبيعية
- ٢٣- تتمثل الزيادة غير الطبيعية في

- ٢٤- تعد سببا رئيسا لتغير النمو السكاني في المجتمع
- ٢٥- من التحديات التي تواجهها المناطق الجاذبة للمهاجرين
- ٢٦- تنقسم الآثار المترتبة على النمو السكاني في المجتمعات و.....
- ٢٧- متى يكون للنمو السكاني آثار إيجابية للمجتمع.
- ٢٨- متى يكون للنمو السكاني آثار سلبية للمجتمع
- ٢٩- ادرس الشكل الذي أمامك ثم أجب عن الأسئلة التي تليها:



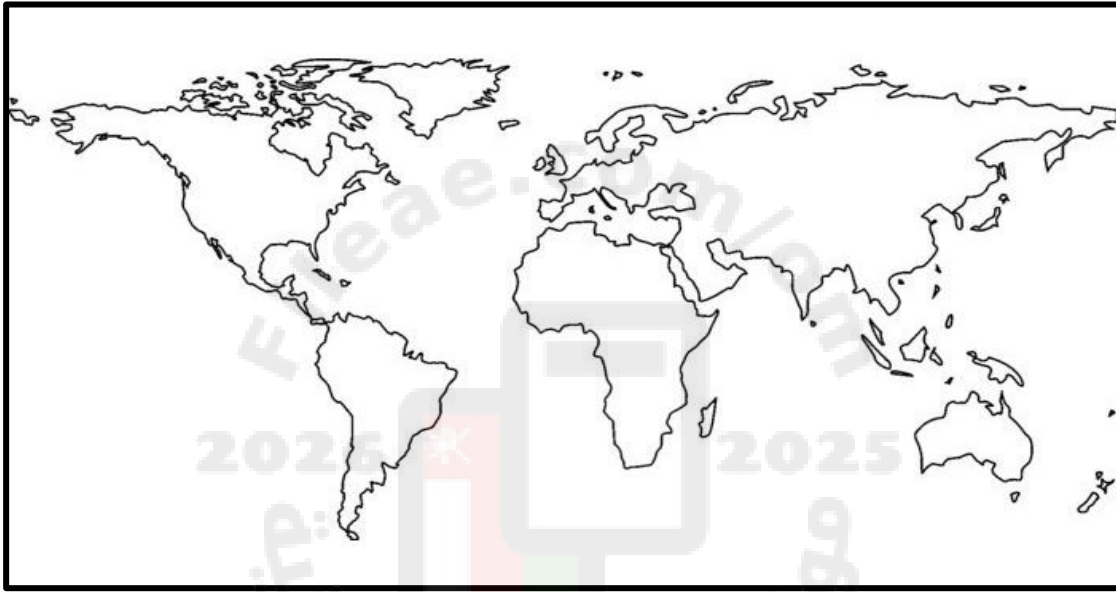
- أ- أكتب أسفل الصور أثر النمو السكاني على المجتمع
- ب- رمز الشكل الذي يوضح تكافؤ الفرص بين أفراد المجتمع.....
- ت- اذكر المشكلات المترتبة على الشكل المشار إليه بالرمز (أ)

- ٣٠- اذكر لآثار الإيجابية للنمو السكاني.
- ٣١- اكتب أسفل الصور التالية المشكلات المترتبة على الآثار السلبية للنمو السكاني.



الدرس الرابع: الكثافة السكانية

- ١- يتوزع السكان في الكرة الأرضية بشكل غير
- ٢- علل يتوزع السكان بشكل غير متساو على سطح الكرة الأرضية.
- ٣- القارة التي يتركز فيها السكان بشكل كبير
- ٤- القارة التي يقل فيها السكان
- ٥- حل نشاط حلل صفحة ٤٤
- ٦- أمامك خريطة للعالم ، أجب عن الأسئلة التي تليها:



- أ- اكتب على الخريطة أسماء قارات العالم.
- ب- ظلل على الخريطة نصف الكرة الأرضية الذي يتوزع فيه السكان أكثر.
- ٧- صنف العوامل المؤثرة في توزيع السكان بين القوسين حسب الجدول الآتي:
(الاستقرار السياسي- التضاريس- المناخ- الأنشطة الاقتصادية- الخدمات- المسطحات المائية)

العوامل الطبيعية	العوامل البشرية

٨- يلعب المناخ دور في تركيز السكان أو قلته ، في ضوء ذلك اذكر أمثله من خلال اكمال الجدول الآتي:

مناطق يتركز فيها السكان بكثرة	مناطق يقل تركيز السكان فيها

٩- علل : يفضل الإنسان العيش في المناطق السهلية عن المناطق الجبلية.

١٠- النشاط الاقتصادي الذي يمارسه الإنسان في المناطق السهلية.....

١١- يفضل الإنسان العيش في المناطق السهلية ، العامل الذي يؤثر في توزيع السكان هو.....

١٢- فسر: يميل السكان إلى العيش في المناطق التي تشرف على المسطحات المائية أو القريبة منها.

١٣- النشاط الاقتصادي الذي يمارس في المناطق التي تشرف على المسطحات المائية.....

١٤- حل سؤال ناقش صفحة ٤٦

١٥- من العوامل البشرية التي تؤدي إلى تركيز السكان

١٦- يؤدي توفر الخدمات إلى السكان



١٧- العامل البشري الذي توضحه الصورة والذي يؤثر في توزيع السكان.....

١٨- حل سؤال قارن صفحة ٤٧

١٩- اذكر ثلاث من أسباب تركيز السكان في المدينة.

٢٠- اذكر ثلاث من أسباب قلة السكان في الريف .

٢١- ادرس النص التالي ثم أجب عن الأسئلة التي تليها:

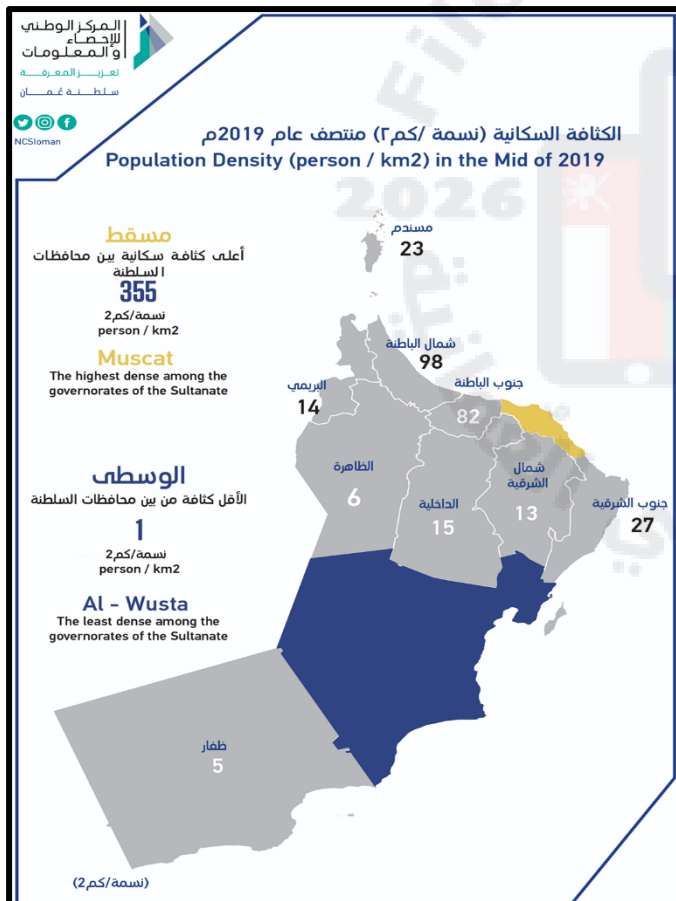
اهتمَّت حكومة سَلْطَنَةِ عُمَانٍ مِنْذُ بَدَايَةِ عَصْرِ النَّهْضَةِ الْمُبَارَكَةِ بِإِيصَالِ مَظَاهِرِ التَّنْمِيَةِ وَالتَّعْمِيرِ فِي كُلِّ أَنْحَاءِ الْبِلَادِ، وَأَصْبَحَ الْمَوَاطِنُ وَالْمَقِيمُ يَنَعُمُ بِمُخْتَلَفِ الْخِدْمَاتِ فِي وَلايَتِهِ دُونَ أَنْ يَتَكَبَّدَ مَشَاقَّ التَّوَجُّهِ إِلَى الْمُدُنِ.

أ- اذكر الإجراء الذي اتبعته حكومة سلطنة عمان لتقليل التركيز في المدن.

ب- ما النتيجة المترتبة على هذا الإجراء.

٢٢- حل سؤال صنف صفحة ٨

٢٣- أمامك خريطة الكثافة في سلطنة عمان ، ادرسها جيدا ثم اجب عن الأسئلة التي تليها:



أ- المحافظة التي يتركز فيها السكان

.....

ب- المحافظة التي يقل فيها عدد

السكان

ج- علل : تركيز السكان في محافظة

مسقط؟

.....

د- علل : قلت عدد السكان في محافظة

الوسطى؟

.....

.....

٢٤- توصف المناطق المزدهمة بالسكان بأنها مناطق ذات كثافة سكانية

٢٥- توصف المناطق قليلة السكان بأنها ذات كثافة سكانية

٢٦- عرف الكثافة السكانية.

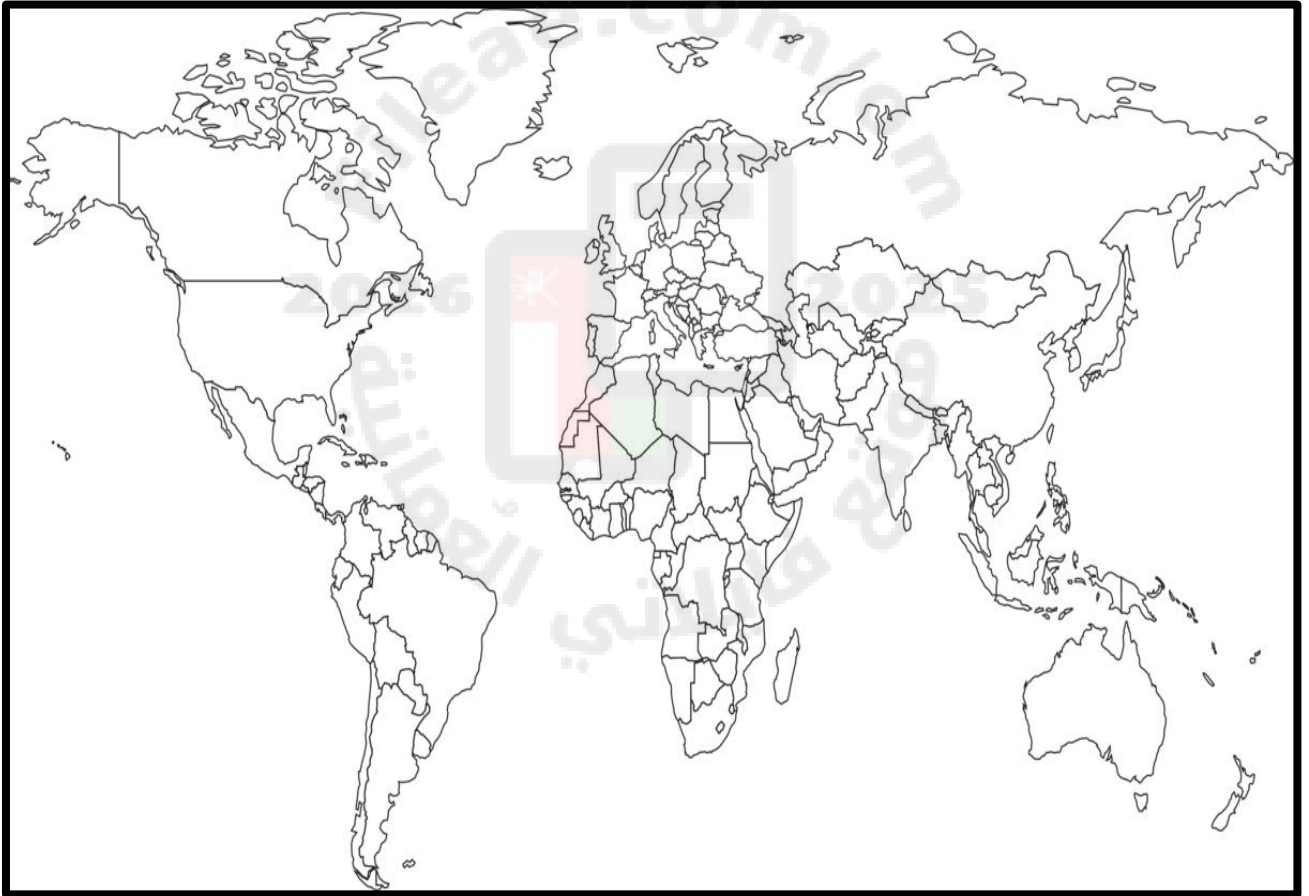
٢٧- المقصود بعدد السكان في الكيلومتر المربع الواحد من الأرض بـ.....

٢٨- اكتب القانون المستخدم في حساب الكثافة السكانية

٢٩- حل سؤال حل صفحة ٩٤

٣٠- الدولة التي ترتفع فيها الكثافة السكانية (اختر الإجابة الصحيحة)
أ- تونس ب- كندا ج- ماليزيا

٣١- أمامك خريطة العالم ، اجب عن الأسئلة التي تليها:



أ- حدد على الخريطة كلا من : أ- كندا ب- تونس ج- ماليزيا

ب- فسر ارتفاع الكثافة السكانية في تونس وانخفاضها في كندا.

٣٢- رتب الدول الآتية تصاعدياً من حيث الكثافة السكانية:

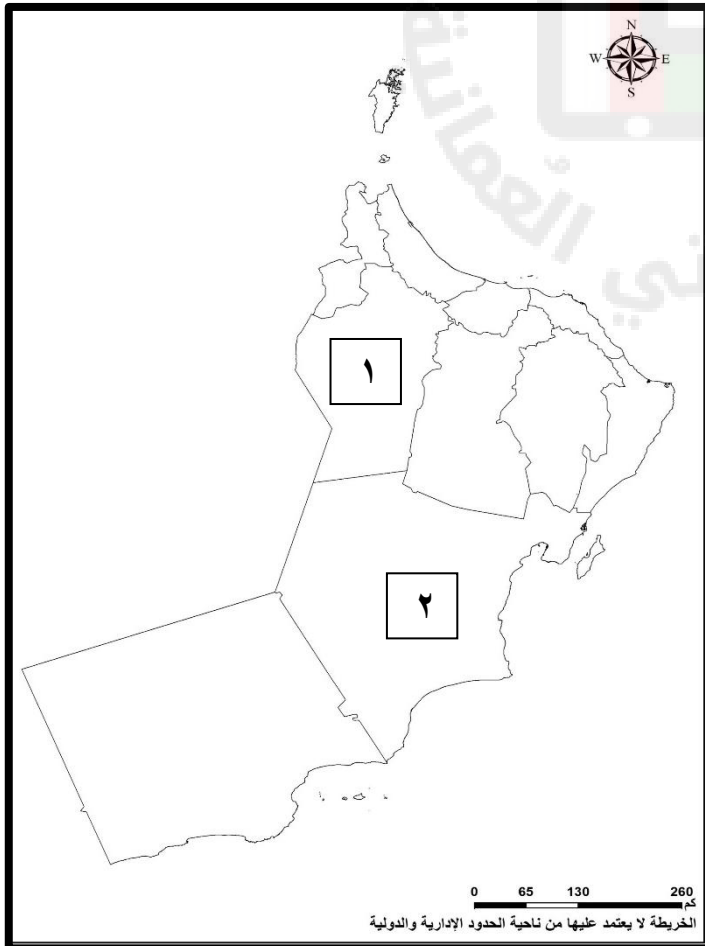
- () تونس
() ماليزيا
() كندا

٣٤- احسب الكثافة السكانية لسلطنة عمان ، إذا علمت أن عدد سكان السلطنة (٢٣٩،٢٨٠،٥ نسمة) ومساحة السلطنة (٣٠٩،٥٠٠ كم٢).

٣٥- احسب الكثافة السكانية لمحافظة الظاهرة ، إذا علمت أن عدد سكان السلطنة (٢٣٢،٨٦٥ نسمة) ، ومساحتها (٣٥،٩٣٧ كم٢).

٣٦- حل نشاط طبق صفحة ٥٠

٣٧- أمامك خريطة لسلطنة عمان ، ادرسيها جيداً ثم أجب عن الأسئلة التي تليها:



أ- ظلل باللون الأخضر المحافظة التي تحتل المرتبة الأولى في الكثافة السكانية.

ب- اكتب على الخريطة كلا من :

- ١- بحر عمان
٢- بحر العرب

ت- ما الرقم الذي يشير إلى المحافظة التي تقل فيها الكثافة السكانية.....

ث- علل : ارتفاع الكثافة السكانية في محافظة مسندم مقارنة بمحافظة الداخلية .

الوحدة الثانية : عمان في العصر الأموي

الدرس الأول: الدولة الأموية

١- انتقل الحكم من الخلفاء الراشدين إلى

٢- كان يحكم الدولة الإسلامية قبل الأمويين

٣- علل: انتقل الحكم من الخلفاء الراشدين إلى الأمويين.

٤- قامت الدولة الأموية عام

٥- انتهى حكم الخلفاء الراشدين عام

٦- آخر الخلفاء الراشدين هو

٧- مؤسس الدولة الأموية هو

٨- اقرأ النص التالي ، ثم اجب عن الأسئلة التي تليها:

تغير نظام الحكم في العصر الأموي عما كان عليه في العصر الراشدي من نظام الشورى إلى نظام الوراثة؛ فبعد وفاة معاوية بن أبي سفيان انتقل الحكم مباشرة إلى ابنه يزيد ، وظلت تتوالى وراثة الحكم حتى آخر حكام الدولة الأموية.

أ- استخرج من الفقرة المصطلح الذي يعبر عن تولي الابن الأكبر للحكم أو أحد أقربائه الحكم من بعده.

ب- قارن بين نظام الحكم في عصر الخلفاء الراشدين ونظام الحكم في عصر الأمويين من خلال إكمال الجدول الآتي:

الأمويين	الخلفاء الراشدين

٩- ما المقصود بالحكم الوراثي.

١٠-ثاني خلفاء الدولة الأموية

١١ – أكمل المخطط الذي أمامك والذي يمثل امتداد الدولة الأموية:



١٢-ما النتيجة المترتبة على الفتوحات الإسلامية في عهد الدولة الأموية.

١٣-قاد الفتوحات الإسلامية إلى بلاد ما وراء النهر في القرن الأول الهجري.....

١٤-قاد قتيبة بن مسلم الباهلي الفتوحات الإسلامية إلى في القرن هـ

١٥-اتسعت الدولة الإسلامية في قارة و و

١٦-من خلال الخريطة التي أمامك ، أجب عن الأسئلة التي تليها :



أ- استخرج من الخريطة مناطق تابعة للدولة الأموية حسب القارات التالية:(يكتفى بذكر مثال واحد)

أوروبا	أفريقيا	آسيا

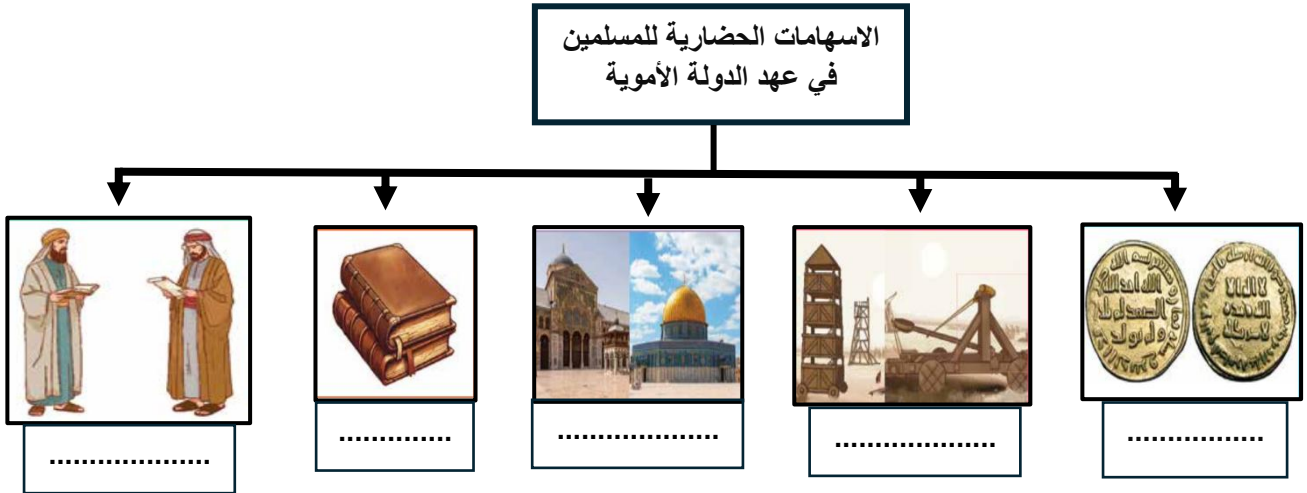
ب- حدد على الخريطة المضيق الذي عبره المسلمون لفتح الأندلس

١٧-ماذا تستلهم من حرص المسلمين على نشر الإسلام؟

١٨-حل سؤال (حلل) صفحة ٦٠

١٩-حل سؤال استنتج صفحة ٦٠

٢٠- أكمل المخطط التالي والذي يمثل الإسهامات الحضارية للمسلمين في عهد الدولة الأموية:



٢١- من الدواوين المستحدثة في عهد الدولة الأموية.....

٢٢- أكتب أسفل الصور التالية الآلات العسكرية التي أدخلت في الحرب في عهد الدولة الأموية:



٢٣- الخليفة الذي سك عمله نقديه باللغة العربية.....

٢٤- ترجمت كتب إلى اللغة العربية مثل كتبو.....

٢٥- من أمثلة المدن المخططة في عهد الدولة الأموية مدينة

٢٦- أمامك صور لمباني تم تشييدها في العصر الأموي، أكتب أسفل كل صورة اسم المعلم:



٢٧- علل: نعتز بالإسهامات الحضارية للمسلمين.

٢٨- صنف الإنجازات التالية حسب المجال الذي ينتمي إليه:

(المنجنيق - سك عملة نقدية باللغة العربية - ديوان البريد - مسجد قبة الصخرة - ترجمة الكتب)

الإدارية	العسكرية	الاقتصادية	الثقافية	العمرانية

٢٩- استمر حكم الدولة الأموية أكثر من عام

٣٠- انتهى حكم الدولة الأموية عام هـ

٣١- عدد العوامل التي أدت إلى سقوط الدولة الأموية.

٣٢- المعركة الفاصلة بين الدولة الأموية والعباسية معركة

٣٣- أكمل الجدول التالي الخاص بمعركة الزاب:

أطراف المعركة و
نتيجة المعركة	١- ٢-

الدرس الثاني: علاقة عمان بالدولة الأموية

- ١- ملك عمان في بداية حكم الدولة الأموية
- ٢- أعطي دليل على محاولة بعض القوى الخارجية السيطرة على عمان في عصر الدولة الأموية.
- ٣- تعرف الفرقة المعارضة للأمويين ب.....
- ٤- تعرضت عمان لهجوم النجدات عام هـ وانتهت المعركة باستشهاد.....
- ٥- بماذا تميزت عمان منذ ما قبل الإسلام؟
- ٦- علل: لم تكن للدولة الأموية في بداية عهدها أطماع للسيطرة على عمان.
- ٧- استمر حكم آل الجلندی بقيادة وابنا عباد بن عبد بن الجلندی حتى عام هـ
- ٨- اذكر المهام الموكلة لسعيد وسليمان ابنا عباد بن عبد في فترة حكم والدهما.
- ٩- متى بدأت الدولة الأموية تفكر جديا في السيطرة على عمان؟
- ١٠- ما النتائج المترتبة على الحملات العسكرية التي أرسلها والي العراق على عمان.
- ١١- قائد الجيوش العمانية التي تصدت للجيش الأموي الذي يقوده القاسم بن شعوة.....

١٢- أمامك خريطة ادرسها ثم اجب عن الأسئلة التي تليها:



- أ- اكتب على الخريطة عاصمة الدولة الأموية
ب- استخرج من الخريطة عاصمة عمان زمن الدولة الأموية

١٣- أمامك خريطة محاولات الحجاج للسيطرة على عمان، ادرسها جيدا ثم أجب عن الأسئلة التي تليها:



- أ- اكتب على الخريطة المسطح المائي الذي عبرته الحملات الأموية للسيطرة على عمان
ب- تتبع على الخريطة الحملة الأموية التي نجحت للسيطرة على عمان

.....

١٤ - حل سؤال استنتج صفحة ٦٨

١٥ - اذكر ثلاثة من الولاة الذين عينتهم الدولة الأموية على عمان.

أ-.....ب-.....ج-.....

١٦ - عدد المهام التي كُلف بها الولاة الأمويين الذين تم تعيينهم على عمان.

.....


١٧ - كان واليا للأمويين على عمان في أواخر حكم الدولة الأموية.....

١٨ - ما موقف العمانيين عند تعرضهم للإساءة من قبل الولاة الأمويين؟

.....

.....

١٩ - سقطت الدولة الأموية عام هـ



الدرس الثالث: منجزات عمان في عصر الدولة الأموية

١- أكمل المخطط التالي الذي يمثل إنجازات العمانيين في عصر الدولة الأموية:



٢- أمامك صورة لإحدى مؤلفات العمانيين ،

أ- من مؤلف الكتاب؟

ب- في أي علم من علوم الشريعة الإسلامية ؟

٣- تمثل علوم الشريعة الإسلامية علوم و.....
٤- أعط دليلاً واحداً على نبوغ الإمام جابر بن زيد في علوم الشريعة الإسلامية .

٥- العلوم التي تعتمد على استنباط معارفها من القرآن والسنة النبوية

٦- من العمانيين الذين برزوا في علم الشعر والخطابة

٧- المجال الذي اشتهرت به الشخصيات الآتية:

أ- جابر بن زيد

ب- كعب بن معاذ

ت- الخليل بن أحمد الفراهيدي

٨- علل: أدرجت سلطنة عمان عام ٢٠٠٥م شخصية الخليل بن أحمد الفراهيدي في

برنامج اليونسكو كأحد الشخصيات المؤثرة عالمياً.

٩- العام الميلادي الذي تم إدراج شخصية الخليل بن أحمد الفراهيدي في برنامج اليونسكو

١٠- أكمل البطاقة التعريفية الآتية:

هند بنت المهلب بن أبي صفرة	أ- القرن الذي عاشت فيه: ب- صفاتها: ت- أخذت العلم عن:
----------------------------------	--

١١- حل سؤال حل صفحة ٧٣

١٢- اذكر نتيجة على مرور الخليل بن أحمد الفراهيدي بسوق الصفارين وسماعه انتظام أحد الصفارين في طرقاته

١٣- حل سؤال استنتج صفحة ٧٥

١٤- الشخصية العمانية الذي قام بفتوحات واسعة في بلاد ما وراء النهر
 ١٥- أعط دليلا على كلا من:

أ- مشاركة العمانيين في الفتوحات الإسلامية للدولة الأموية .

ب- دور العمانيين في المحافظة على أمن السواحل العمانية واستقرارها.

١٦- القائد العماني الذي فتح مدينة جرجان عام ٨٩ هـ

١٧- مدينة جرجان التي فتحها يزيد بن المهلب تقع في

١٨- علل: تعتمد الدول في الوقت الحالي على الجيوش العسكرية البحرية والبرية والجوية .

١٩- وصل التجار العمانيون في تجارتهم إلى مناطق بعيدة مثل و..... و.....

٢٠- علل: وصل العمانيون في تجارتهم إلى مناطق بعيدة مثل الهند والصين وسواحل افريقيا.

٢١- أعط دليلا على أهمية عمان الاقتصادية .

٢٢- صدرت أول عملة نقدية من دار سك النقود في عمان سنة هـ.

٢٣- ما النتيجة المترتبة على اتصاف التجار العمانيين بالأخلاق الحميدة في المناطق التي يصلون إليها.

٢٤- السفينة العمانية التي تعتبر بمثابة سفير متنقل يجوب بحار العالم حاملا راية السلام والتواصل بين الشعوب

٢٥- أمامك خريطة طرق التجارة البحرية العمانية قديما، ادرسها جيدا ثم اجب عن الأسئلة التي تليها:



أ- استنتج من الخريطة أهمية موقع عمان التجاري.

.....

ب- استخرج منطقتين وصل إليها التجار العمانيون

.....و.....

ث- ضع دائرة على الدولة التي تقع فيها المدينة التي فتحها يزيد بن المهلب.

ج- اكتب على الخريطة المحيط الذي عبرته السفن التجارية العمانية

٢٦- أكمل الجدول التالي بالأحداث التي صارت فيه:

العام	الأحداث
٤١ هـ	
٦٩ هـ	
٨١ هـ	
٨٩ هـ	
١٣٢ هـ	

الوحدة الثالثة: المجتمع المدني : المشاركة المجتمعية والمؤسسات

الدرس الأول: المشاركة المجتمعية

١ - عملية إشراك الأفراد والمجموعات والتعاون معهم لمعالجة القضايا وحل المشكلات تعرف
ب.....

٢ - المكان الذي كان العمانيون يلتقون فيه للتشاور في أمور حياتهم ومعالجة بعض قضايا
المجتمع

٣ - وضح دور السبلة العمانية في ترسيخ مفهوم المشاركة المجتمعية .
.....

٤ - اذكر مثالين على تجسيد الحكومة العمانية معنى المشاركة المجتمعية.

أ-

ب-



٥ - استنتج من الصورة كيف تجسد الحكومة العمانية معنى
المشاركة المجتمعية.

.....
.....

٦ - عدد أشكال المشاركة المجتمعية

أ- ج-

ب- د-

٧ - عرف العمل التطوعي.

٨ - يعرف العمل الذي يقوم به الفرد أو جماعة لخدمة المجتمع دون مقابل ب.....

٩ - حل سؤال صنف صفحة ٨٨

١٠ - ما أهمية المشاركة المجتمعية .

أ- ب-

ج- د-

هـ-

١١ - حل سؤال حل صفحة ٩٠

الدرس الثاني : مؤسسات المجتمع المدني

١- عرف المقصود بالمجتمع المدني.

.....
.....

٢- وضح دور النظام الأساسي للدولة بتنظيم عمل مؤسسات المجتمع المدني .

.....

٣- حل سؤال حلل صفحة ٩٢

٤- الجهة المختصة بالإشراف على مؤسسات المجتمع المدني وإشهارها في سلطنة عمان هي

.....

٥- اكتب أسفل كل شعار نوع الخدمات التي تقدمها مؤسسات المجتمع المدني في سلطنة عمان:

				
<p>.....</p> <p>.....</p>	<p>.....</p> <p>.....</p>	<p>.....</p> <p>.....</p>	<p>.....</p> <p>.....</p>	<p>.....</p> <p>.....</p>

٦- علل: تعد جمعيات المرأة العمانية من مؤسسات المجتمع المدني في سلطنة عمان.

.....

٧- ما الهدف من جمعيات المرأة العمانية.

.....

٨- الجهة المختصة بتفعيل دور المرأة للإسهام في البناء والتنمية المجتمعية

.....

٩- حل سؤال صنف صفحة ٩٤

١٠- وضح أهمية مؤسسات المجتمع المدني

أ-.....
ب-.....

ج-.....
د-.....