

## اختبار قصير ثاني نموذج ثاني في الوحدة الثانية عمان في العصر الأموي بمحافظة مسقط



### تم تحميل هذا الملف من موقع المناهج العمانية

موقع فايلاتي ← المناهج العمانية ← الصف السادس ← اجتماعيات ← الفصل الثاني ← ملفات متنوعة ← الملف

تاريخ إضافة الملف على موقع المناهج: 2025-05-20 13:26:55

ملفات اكتب للمعلم اكتب للطالب | اختبارات الكترونية | اختبارات | حلول | عروض بوربوينت | أوراق عمل  
منهج انجليزي | ملخصات وتقارير | مذكرات وبنوك | الامتحان النهائي | للمدرس

المزيد من مادة  
اجتماعيات:

إعداد: مدرسة خولة بنت قيس

### التواصل الاجتماعي بحسب الصف السادس



صفحة المناهج  
العمانية على  
فيسبوك

الرياضيات

اللغة الانجليزية

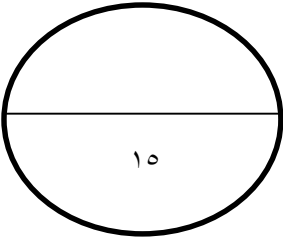
اللغة العربية

التربية الاسلامية

المواد على تلغرام

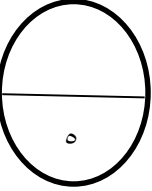
### المزيد من الملفات بحسب الصف السادس والمادة اجتماعيات في الفصل الثاني

اختبار قصير ثاني في الوحدة الثانية عمان في العصر الأموي	1
ملخص الدرس الأول الدولة الأموية من الوحدة الثانية بطريقة سؤال وجواب	2
ملخص شرح الدرس الثاني علاقة عمان بالدولة الأموية من الوحدة الثانية	3
ملخص ثاني لدرس المشاركة المجتمعية من الوحدة الثالثة ( المجتمع المدني )	4
مذكرة عيون المستقبل بطريقة سؤال وجواب	5



الاسم / .....  
الصف / .....  
التاريخ : ٢٤ / ٤ / ٢٠٢٥ م  
السلطنة عمان  
وزارة التربية والتعليم  
المديرية العامة للتربية والتعليم لمحافظة مسقط  
مدرسة خولة بنت قيس للتعليم الاساسي (٩-١)

الاختبار الثاني القصير لمادة الدراسات الاجتماعية للصف السادس الاساسي للعام الدراسي ٢٠٢٤ / ٢٠٢٥ م



### السؤال الاول : ضع دائرة حول الإجابة الصحيحة من بين البدائل المعطاة

١- التاريخ الهجري لقيام الدولة الأموية :

- أ- ٤٤٠ هـ      ب- ٤٤١ هـ      ج- ٤٤٢ هـ      د- ٤٤٣ هـ

٢- المجال الذي ينتمي إليه الإنجاز الحضاري للدولة الأموية في الصورة المقابلة




- أ- الاقتصادي      ب- الإداري  
ج- العسكري      د- الثقافي

٣- المعركة الفاصلة التي أدت إلى نهاية الحكم الأموي :

- أ- اليرموك      ب- القادسية      ج- الزاب      د- عين جالوت

٤- الصورة التي تعبر عن أحد منجزات العمرانية في عصر الدولة الأموية :



أ

د

ج

ب

٥- التسلسل الصحيح للدول التي حكمت المسلمين :



د



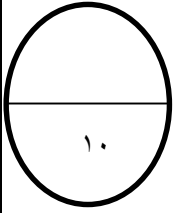
ج



ب





أ



ثانيا : أجب عن الأسئلة التالية:

السؤال السادس: أكمل الجدول التالي الذي يوضح المنجزات الحضارية للدولة الاموية

		المنجزات
		الاسم
		المجال

السؤال السابع: أدرس النص التالي ثم اجب عما يلي من أسئلة

(تغير نظام الحكم في العصر الاموي عما كان عليه في العصر الراشدي من نظام الشورى إلى الوراثة، فبعد وفاة معاوية بن أبي سفيان أنتقل الحكم مباشرة إلى أبنه.)

١-المفهوم الذي يعبر عن تولي الابن الأكبر للحاكم الحكم من بعده

.....

٢-نوع نظام الحكم في عصر الخلفاء الراشدين

.....

السؤال الثامن: أنظر الخريطة التالية ثم أجب عما يلي



١-حدد على الخريطة عاصمة الدولة الأموية

٢-ضعي علامة ★ على المنطقة التي وصلت لها الدولة الأموية في جهة الغرب

٣- استخرج من الخريطة اسم البحر الذي يقع بالغرب من الدولة الأموية .....

٤ - أكتبي أسم القارة التي امتدت فيها الدولة الاموية شرقا على حدود بلاد السند .....

انتهت الأسئلة بالتوفيق للجميع