

تم تحميل هذا الملف من موقع المناهج العمانية



امتحان تجريبي مع نموذج الإجابة في محافظة ظفار

موقع فايلاتي ← المناهج العمانية ← الصف السادس ← اجتماعيات ← الفصل الأول ← الامتحان النهائي ← الملف

تاريخ إضافة الملف على موقع المناهج: 11:54:45 2025-01-06

ملفات اكتب للمعلم اكتب للطالب | اختبارات الكترونية | اختبارات | حلول | عروض بوربوينت | أوراق عمل
منهج انجليزي | ملخصات وتقارير | مذكرات وبنوك | الامتحان النهائي للمدرس

المزيد من مادة
اجتماعيات:

التواصل الاجتماعي بحسب الصف السادس



صفحة المناهج
العمانية على
فيسبوك

الرياضيات

اللغة الانجليزية

اللغة العربية

التربية الاسلامية

المواد على تلغرام

المزيد من الملفات بحسب الصف السادس والمادة اجتماعيات في الفصل الأول

حصاد درس مشاريع اقتصادية عمانية واعدة

1

امتحان تجريبي في محافظة الظاهرة

2

ملخص الوحدة الثالثة

3

ملخص الوحدة الأولى

4

ملخص الوحدة الثانية

5



امتحان مادة الدراسات الاجتماعية للصف السادس

الفصل الدراسي: الأول – الدور الأول

للعام الدراسي ١٤٤٦ / ١٤٤٧ هـ - ٢٠٢٤ / ٢٠٢٥ م

| | |
|------------------------------------|---|
| ▪ عدد صفحات أسئلة الامتحان: ٧ صفحة | ▪ زمن الامتحان: ساعة ونصف |
| ▪ الدرجة الكلية للامتحان: ٤٠ | ▪ الإجابة في دفتر الأسئلة نفسه. |
| | ▪ تكتب الإجابة بالقلم الأزرق أو الأسود. |

اسم الطالب: _____ الصف: _____

| التوقيع بالاسم | | الدرجة | | السؤال |
|----------------|------------|---------|----------|-----------------------------------|
| اسم المراجع | اسم المصحح | بالحروف | بالأرقام | |
| | | | | أولاً: الأسئلة الموضوعية (١ - ١٢) |
| | | | | ١٣ |
| | | | | ١٤ |
| | | | | ١٥ |
| | | | | ١٦ |
| مراجعة الجمع | جمعه | | | المجموع |
| | | | ٤٠ | المجموع الكلي |

أجب عن جميع الأسئلة الآتية

أولاً: الأسئلة الموضوعية

١٢

ظل الشكل (□) المقترن بالإجابة الصحيحة لكل مفردة من المفردات الآتية :

(١) الهيئة المختصة بتوثيق الأسماء الجغرافية لخرائط سلطنة عمان :

□ تقنية المعلومات □ الوطنية للمساحات □ التأمينات الاجتماعية □ العامة للمناطق الاقتصادية

(٢) الفترة الزمنية الصحيحة التي تمثل عصر النبوة :

□ (١١-٤هـ) □ (١١-٣هـ) □ (١١-٢هـ) □ (١١-١هـ)

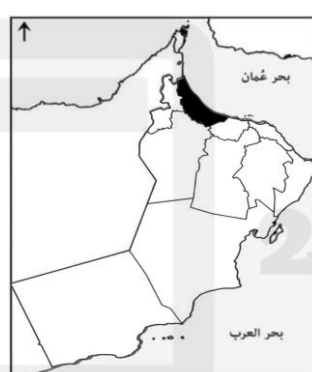
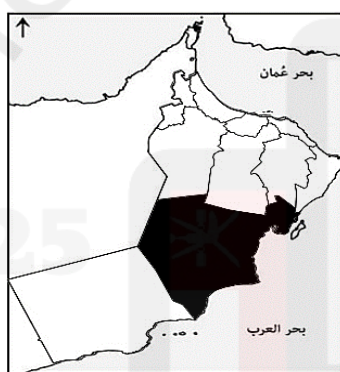
(٣) الخريطة الصحيحة للمحافظة التي يوجد بها مشروع استزراع الصفيح :

□

□

□

□



(٤) الاسم الذي يطلق على مسميات الأماكن والظاهر الجغرافية التي تتضمنها الخريطة :

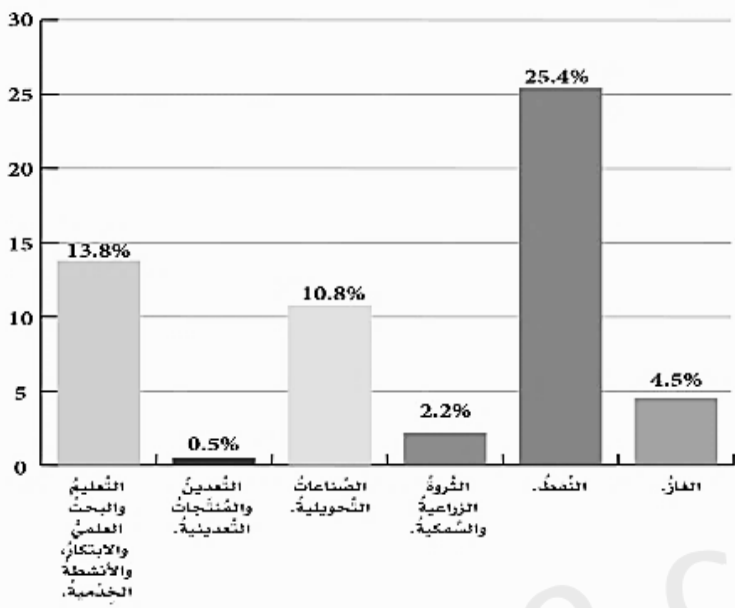
□ رموز الخريطة □ الخريطة الطبيعية □ الأسماء الجغرافية □ الخريطة البشرية

(٥) المجال الذي تميز به صعصعة بن صوحان في عهد الخلافة الراشدة :

□ السياسي □ الثقافي □ الاقتصادي □ العسكري

تابع أولاً: الأسئلة الموضوعية:

٦) القطاع الذي اسهم بنسبة أعلى من القطاعات غير نفطية للسلطنة لعام ٢٠٢٣ م كما يوضحه الشكل المقابل :



الغاز

النفط

٧) الخليفة الراشدي الذي فتحت في عهده طرابلس :

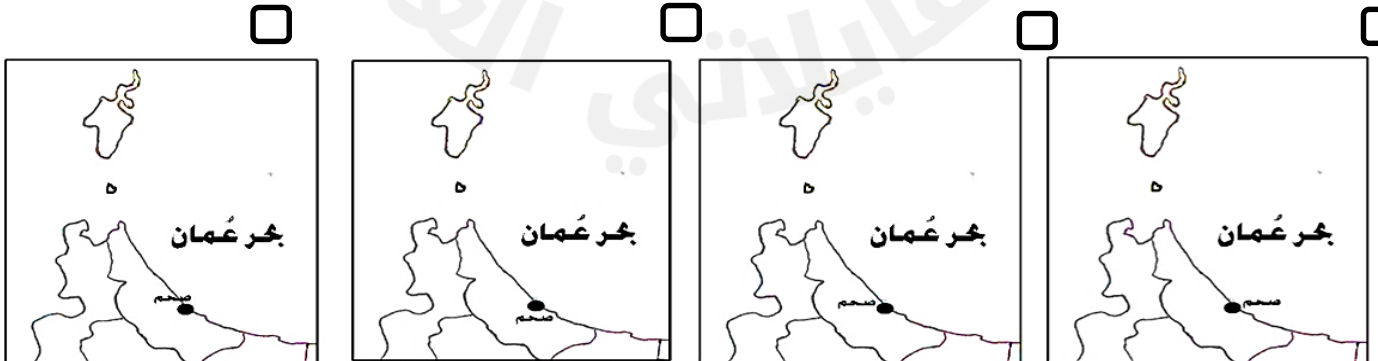
عثمان بن عفان أبوبكر الصديق علي بن أبي طالب عمرو بن العاص

٨) الرمز الذي يستخدم لتمثيل الحدود السياسية بين سلطنة عمان والمملكة العربية السعودية :

٩) البرنامج الذي يستخدم لإظهار الرموز والاسماء الجغرافية على سطح الأرض :

الماب جوجل إيرث الباركود الاستشعار عن بعد

١٠) الطريقة الصحيحة لكتابة مدينة (صحم) على الخريطة :



تابع أولاً: الأسئلة الموضوعية:

(١١) قائد الحملة حسب مسار الوفد الى المدينة المنورة :



عمرو بن العاص

عثمان بن أبي العاص

عبد بن الجندي

عقبة بن النعمان

(١٢) الصورة التي تضم المقوم الذي اسهم في ارتفاع حجم الاستثمارات المحلة والأجنبية في سلطنة عمان:



ثانياً : الأسئلة المقالية

٧

(١٣) أ. اكتب المصطلح / المفهوم الدال على العبارات الآتية:

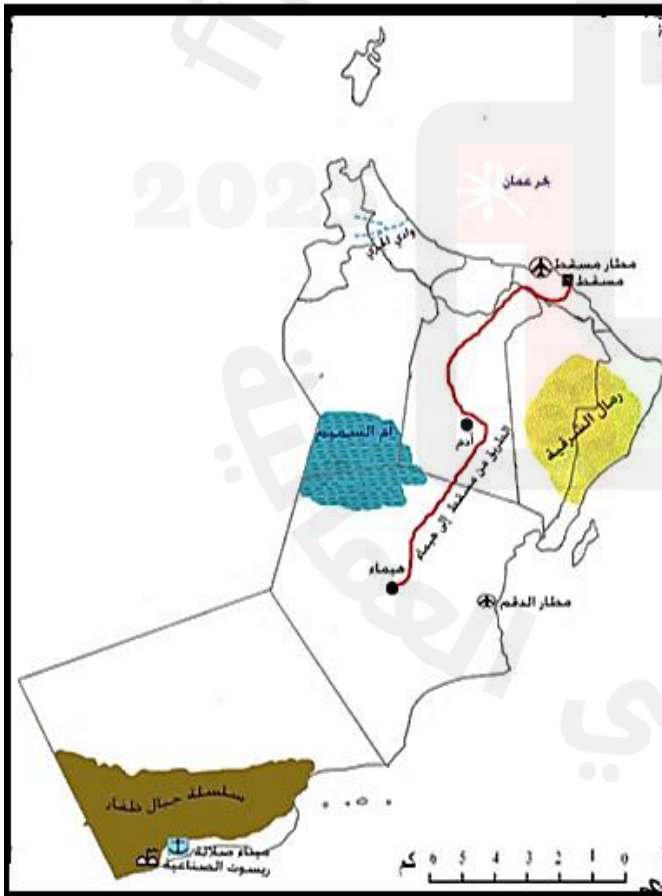
| م | العبارة | المصطلح / المفهوم |
|---|---|-------------------|
| ١ | مجموعة من السفن تستخدم لأغراض مدنية وعسكرية . | |
| ٢ | نظام يتيح للأفراد والشركات والمؤسسات بيع وشراء وتسويق السلع والخدمات والمعلومات عبر شبكة الانترنت . | |

ب. اعط نتيجة واحدة تترتب على الآتي:

(١) تنوع أشكال سطح الأرض بسلطنة عُمان .

(٢) اشتهار العُمانيون بصناعة السفن.

ج. ادرس خريطة سلطنة عُمان جيداً ، ثم أجب عن الأسئلة الآتية:



(١) استخراج من الخريطة الآتي :

أ. رمز نقطي .
 ب. خطأ وقع فيه رسام الخريطة ، ثم صحح الخطأ.

(٢) أعلل . كتبت سلسلة جبال ظفار على اتجاه امتداد الظاهرة.

تابع ثانياً : الأسئلة المقالية

٧

١٤ أ. صنف الصور التالية بحسب القطاعات التي تنتمي إليها بوضع الحرف المناسب اسفل كل قطاع

في الجدول ادناه :

[٤]



القطاع غير النفطي

القطاع النفطي

[٣]

ب. ادرس الخطبة جيداً، ثم أجب عن الأسئلة التي تليها:

«معاشرَ أهلِ عُمانَ ... ثمَّ أقامَ فيكمَ عَمَرُو ما أقامَ مكرِّمًا، وقدَ مَنَّ اللهُ عليكمَ بإسلامِ عبدِ وجيفرِ ابني الجُندي، وأعزَّكم اللهُ بهم، وأعزَّهُ بكم، وكنتم على خيرِ حال، حتَّى أتتكم وفاةُ رسولِ اللهِ ﷺ فأظهرتُم ما يضاعفُ فضلَكم، وقمتمُ مقامًا حمَدناكم فيه، ومحضتُم بالنَّصيحةِ، وشاركتُم بالنفسِ والمالِ، فيثبَّت اللهُ ألسنتكم، ويهدي قلوبكم، وللناسِ جولةٌ، ولستُ أخافُ عليكم أن تُغلبوا على بلادكم، ولا أن تُرجِعوا عن دينكم، فجزاكم اللهُ خيرًا».

(١) من قائل الخطبة السابقة؟

(٢) استنتج السبب الذي قيلت فيها الخطبة السابقة.

(٣) ماذا قصد الخليفة بقوله (وشاركتم بالنفس والمال)؟

تابع ثانياً : الأسئلة المقالية

٧

[٣] (١٥) أ. اقرا العبارات الآتية ثم انسبها الى الإنجازات العُمانية في عهد الخلفاء الراشدين :
(الاقتصادي / الثقافي / السياسي)

كانت السفن العُمانية تسيير
حاملة البضائع الى مواني
بعيدة

شارك العُمانيون في
الفتوحات الإسلامية

اسهم التجار العُمانيون في
نشر الإسلام

_____ -٣-

_____ -٢-

_____ -١-

[١] ب.اقراً التغريدة ثم أجب عن الأسئلة الآتية :
(١) سمّ المجال الذي تحدثت عنه التغريدة.



(٢) اعط مثالاً واحداً على المشاريع التي قامت
بها السلطنة لتحقيق الأمن الغذائي.

(٣) أعلل سعي السلطنة المستمر لتحقيق الأمن الغذائي .

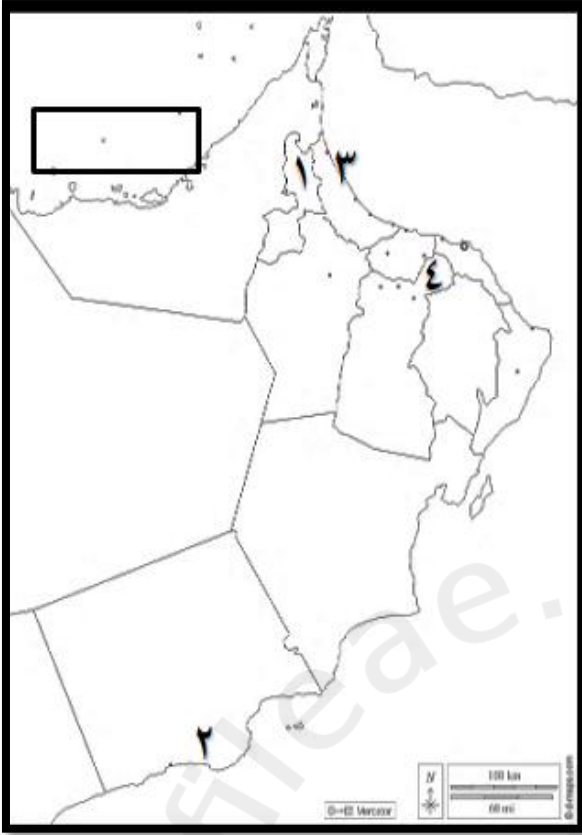
(٤) اقترح حلاً لتحقيق الأمن الغذائي.

تابع ثانياً : الأسئلة المقالية

٧

١٦ أ. ادرس خريطة سلطنة عُمان ، ثم أجب عن الأسئلة التي تقابلها :

[٣]



(١) اكتب اسم المسطح المائي في المستطيل على الخريطة.

(٢) وقع الرمز ● على المحافظة التي يوجد بها مشروع الصفا ضمن مشروع المليون نخلة.

(٣) اكتب رقم المحافظة التي يوجد بها أكبر مشروع للصناعات التحويلية . _____

(٤) ظلل المحافظة التي يوجد بها المشروع المشترك بين سلطنة عمان ودولة الكويت.

ب. تسعى السلطنة في زيادة عدد من المشاريع الاقتصادية في القطاع :

[٢]

(ظلل الإجابة الصحيحة)

الغير نفطي

النفطي

(١) فسر إجابتك:

(٢) وضح أهمية كتابة الأسماء الجغرافية على الخريطة ؟

انتهت الأسئلة مع الدعاء للجميع بالتوفيق والنجاح



نموذج إجابة الامتحان التجريبي للصف السادس


المادة : الدراسات الاجتماعية

الفصل الدراسي : الأول

للعام الدراسي ١٤٤٦ هـ - ٢٠٢٤م/٢٠٢٥م

المادة : الدراسات الاجتماعية
الدرجة الكلية: (٤٠) درجة.
تنبيهه: نموذج الإجابة في (٥) .

أولاً: إجابة الأسئلة الموضوعية. الدرجة (١٢)

| المفردة | الإجابة | الدرجة | الصفحة |
|---------|--|--------|--------|
| ١ | الوطنية للمساحة | ١ | ٢٨ |
| ٢ | ١-١١ هـ | ١ | ٤٤ |
| ٣ |  | ١ | ٨٦ |
| ٤ | الأسماء الجغرافية | ١ | ٢٨ |
| ٥ | الثقافي | ١ | ٥٧ |
| ٦ | التعليم والبحث العلمي | ١ | ٨٣ |
| ٧ | عثمان بن عفان | ١ | ٤٧ |
| ٨ | ----- | ١ | ٢٠ |
| ٩ | جوجل إيرث | ١ | ٢٩ |
| ١٠ |  | ١ | ٣٠ |
| ١١ | عبد بن الجلندي | ١ | ٥٠ |
| ١٢ |  | ١ | ٧١ |



نموذج إجابة الامتحان التجريبي للصف السادس

المادة : الدراسات الاجتماعية

الفصل الدراسي : الأول

للعام الدراسي ١٤٤٦ هـ - ٢٠٢٤م/٢٠٢٥م

المادة : الدراسات الاجتماعية
الدرجة الكلية: (٤٠) درجة.
تنبيه: نموذج الإجابة في (٥) .

الدرجة (٧)

ثانياً: إجابة الأسئلة المقالية.

| المفردة | الجزئية | الإجابة | الدرجة | الصفحة |
|---------|---------|--|--------|--------|
| ١٣ | أ | ١-الاسطول | ١ | ٥٤ |
| | | ٢- التجارة الالكترونية | ١ | ٨١ |
| | ب | ١- استغلال الانسان العُماني اشكال سطح الأرض في الأنشطة الاقتصادية كالسهول في الزراعة والصحاري في استخراج النفط والمعادن والبحر بما تحويه من ثروات سمكية. <u>معيار التصحيح : تقبل إجابة الطالب بما يفيد المعنى</u> | ١ | ٦٩ |
| | | ٢-أصبحت السفن العمانية تسير حاملة للبضائع الى موانئ بعيدة عبر المحيط الهندي ./زادت من خبرتهم الملاحية آنذاك. <u>معيار التصحيح : تقبل إجابة الطالب بما يفيد المعنى</u> | ١ | ٥٥ |
| | ج | أ- مطار مسقط / مسقط / ميناء صلالة | ١ | ٢٠ |
| | | ب- الخطأ : كتابة طريق ادم هيمما اسفل الرمز . التصحيح : تكتب الأسماء في الرموز الخطية فوق الرمز مباشرة وليس اسفله . | ١ | ٣١ |
| | | ج- تكتب الأسماء على الظواهر التي لها امتداد مساحي في وضع يدل على اتجاه امتدادها . | ١ | ٣١ |



نموذج إجابة الامتحان التجريبي للصف السادس

المادة : الدراسات الاجتماعية

الفصل الدراسي : الأول

للعام الدراسي ١٤٤٦ هـ - ٢٠٢٤م/٢٠٢٥م

المادة : الدراسات الاجتماعية
الدرجة الكلية: (٤٠) درجة.
تنبيهه: نموذج الإجابة في (٥) .

الدرجة (٧)

أولاً: إجابة الأسئلة المقالية.

| المفردة | الجزئية | الإجابة | الدرجة | الصفحة |
|---------|----------------------------|---|--------|--------|
| ١٤ | أ | القطاع النفطي ب - د | ٤ | ٥٠ |
| | | القطاع غير النفطي أ - ج | | |
| | معيار التصحيح : لكل درجة . | | | |
| ب | ب | ١- الخليفة أبو بكر الصديق | ١ | ٥٠ |
| | | ٢- حضور الوفد العُماني الى المدينة المنورة بعد وفاة الرسول صل الله عليه وسلم وذلك للتعزية في وفاة الرسول صلى الله عليه وسلم وتهنئة أبي بكر الصديق بالخلافة. | ١ | ٥٠ |
| | | ٣- مشاركة أهل عمان في مواجهة المرتدين مع الخليفة أبي بكر الصديق رضی الله عنه حيث شاركوا في محاربة الغساسنة من قبيلة آل جفنه في الشام . | ١ | ٥١ |



نموذج إجابة الامتحان التجريبي للصف السادس

المادة : الدراسات الاجتماعية

الفصل الدراسي : الأول

للعام الدراسي ١٤٤٦ هـ - ٢٠٢٤م/٢٠٢٥م

المادة : الدراسات الاجتماعية
الدرجة الكلية: (٤٠) درجة.
تنبيهه: نموذج الإجابة في (٥) .

الدرجة (٧)

أولاً: إجابة الأسئلة المقالية.

| المفردة | الجزئية | الإجابة | الدرجة | الصفحة |
|---------|---------|--|--------|--------|
| | أ | ١-ثقافي | ١ | ٥٧ |
| | | ٢- سياسي | ١ | ٥٤ |
| | | ٣-اقتصادي | ١ | ٥٥ |
| ١٥ | ب | ١-الثروة الزراعية والسمكية | ١ | ٧٩ |
| | | ٢-مشروع المليون نخلة - مشروع استزراع الصفيح يكتفى بواحد | ١ | ٧٩ |
| | | ٣- تلبية احتياجات المواطنين من الغذاء وتحقيق الامن الغذائي . | ١ | ٧٩ |
| | | ٤- الاستزراع السمكي / تصنيع التمور والالبان / تسويق التمور والالبان. معيار التصحيح: تقبل أي إجابة تحمل المعني | ١ | ٩١ |

نموذج إجابة الامتحان التجريبي للصف السادس

المادة : الدراسات الاجتماعية


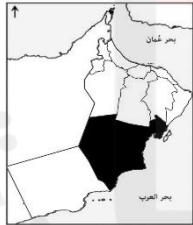
الفصل الدراسي : الأول

للعام الدراسي ١٤٤٦ هـ - ٢٠٢٤م / ٢٠٢٥م

المادة : الدراسات الاجتماعية الدرجة الكلية: (٤٠) درجة.
 تنبيهه: نموذج الإجابة في (٥) .

الدرجة (٧)

أولاً: إجابة الأسئلة المقالية.

| المفردة | الجزئية | الإجابة | الدرجة | الصفحة |
|---------|---------|--|--------|--------|
| | أ |  | ١ | ٧٠ |
| | | | ٢ | ٨٧ |
| | | | ٣-٣ | ٨٧ |
| | ب | ٤- يظل في الخريطة الوسطى (الدقم) .  | ١ | ٧٩ |
| | | ١- الغير نفطي . بهدف التقليل من الاعتماد على القطاع النفطي . <u>معياري التصحيح:</u> للحصول على الدرجة كاملة لابد من اختيار القطاع الصحيح مع التفسير الصحيح . | ٢ | ٨٩ |
| | | ٢- وسيلة سهلة لقراءة الخريطة وفهمها / توفر معلومات مهمة عن المواقع والظواهر الجغرافية / أداة مناسبة للتعرف على العالم وتفصيله . | ١ | ٣٥ |

انتهى نموذج الإجابة