

كراسة مراجعة شاملة كراستي اجتهد وإنجاز



تم تحميل هذا الملف من موقع المناهج العمانية

موقع فايلاتي ← المناهج العمانية ← الصف السادس ← اجتماعيات ← الفصل الثاني ← ملفات متنوعة ← الملف

تاريخ إضافة الملف على موقع المناهج: 08:48:32 2026-01-27

ملفات اكتب للمعلم اكتب للطالب ا اختبارات الكترونية ا اختبارات ا حلول ا عروض بوربوينت ا أوراق عمل
منهج انجليزي ا ملخصات وتقارير ا مذكرات وبنوك ا الامتحان النهائي ا للمدرس

المزيد من مادة
اجتماعيات:

إعداد: شيخة الكندية

التواصل الاجتماعي بحسب الصف السادس



صفحة المناهج
العمانية على
فيسبوك

المزيد من الملفات بحسب الصف السادس والمادة اجتماعيات في الفصل الثاني

تقرير عن التعداد السكاني أداة أساسية للتخطيط التنموي والاجتماعي

1

تقرير عن البيانات السكانية وأهميتها في التخطيط المجتمعي والتنموي

2

تقرير عن الدولة الأموية النشأة والتوسع والإرث التاريخي

3

البيانات السكانية مصادرها وأهميتها للتخطيط التنموي

4

نموذج إجابة الامتحان النهائي الرسمي الدور الأول الفترة الصباحية

5



سلطنة عمان
وزارة التربية والتعليم
المديرية العامة للتربية والتعليم شمال الباطنة
مدرسة الاستقامة للتعليم الاساسي (1-12)

الدراسات الاجتماعية

الفصل الدراسي الثاني

الصف السادس



كراستي
اجتهاد و إنجاز



اسم الطالب/
الصف/

إعداد المعلمة / شيخة الكندية

المقدمة

بسم الله الرحمن الرحيم

السلام عليكم ورحمة الله وبركاته،

الحمد لله الذي علم بالقلم علم الإنسان ما لم يعلم والصلاة والسلام على النبي
الأعظم سيدنا محمد صلى الله عليه وسلم وبعد:

هذه الكراسة والتي خصصناها بعنوان (كراستي اجتهد وإنجاز) ما هي إلا مساندة
للطلبة في تحضيرهم اليومي للمادة ومرجعاً ومكماً لمنهج الدراسات الاجتماعية
للسف السادس الفصل الدراسي الثاني ولكن لا يغني عن الكتاب المدرسي وهي كراسة
على هيئة أسئلة وأجوبتها وضعتها من باب مراعاة المرحلة العمرية لهذه الفئة كما
تتطرقنا لحل بعض الأسئلة المرفقة بالكتاب المدرسي كاجتهاد منا سائلين المولى
عزوجل أن يجعل هذا العمل خالص لوجه الله والله من وراء القصد وهو الهادي إلى
سواء السبيل.

إعداد أ. شىخة الكندىة

المحتويات

01

البيانات السكانية

02

بنية السكان

03

النمو السكاني

04

الكثافة السكانية

5 / اختبار
ذاكرتك

الوحدة
الأولى

جغرافية السكان : المصادر، والخصائص



الدرس الأول : البيانات السكانية

مصادر البيانات السكانية

- وضح كيف تهتم الدول بدراسة خصائص السكان وتوزيعهم الجغرافي؟

من خلال جمع البيانات السكانية من مصادر إحصائية مختلفة

- صنف نوعا مصادر البيانات السكانية.

- عدد المصادر الأولية للبيانات السكانية.

1- التعداد السكاني

2- الإحصاءات الحيوية

3- المسوحات بالعينة

- عدد المصادر الثانوية للبيانات السكانية.

سجلات المؤسسات الحكومية والخاصة

نوعا مصادر
البيانات السكانية

المصادر
الأولية

المصادر
الثانوية

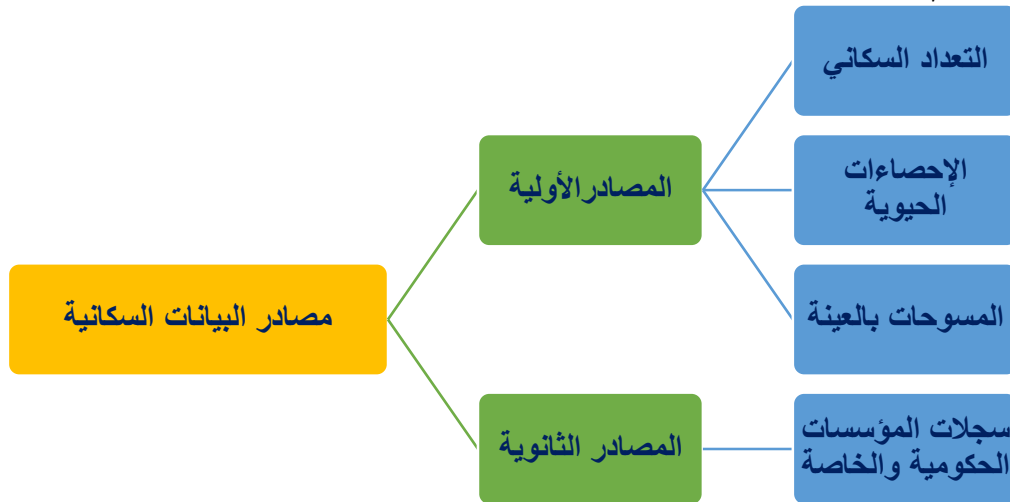
التعداد
السكاني

المصادر
الأولية

المسوحات
بالعينة

الإحصاءات
الحوية

- أكمل خريطة المفاهيم الآتية:



أولاً / المصادر الأولية:

1- التعداد السكاني:

- علل / يعد التعداد السكاني من أشمل المصادر الإحصائية لدراسة الخصائص السكانية.

لأنه يوفر كمية كبيرة من البيانات السكانية

• ما المقصود بالتعداد السكاني؟

عملية حصر (السكان + المساكن + المنشآت) لمجتمع معين في وقت محدد وعلى فترات منتظمة



• في أي عام ميلادي تم إجراء أول تعداد سكاني في سلطنة عُمان؟
1993م

• من هو أول مواطن عُماني تم تسجيل بياناته في التعداد السكاني عام 1993م؟
السلطان قابوس بن سعيد - طيب الله ثراه -

• تتبع مراحل تطورت آلية التعداد السكاني في سلطنة عُمان.



١- استثمار ورقية (ميدانياً) + ٢- أجهزة واستخدام تقنيات حديثة (الالكتروني) - ٢- التعداد الإلكتروني

• في أي عام ميلادي تم إجراء أول تعداد الكتروني في سلطنة عُمان؟
2020م

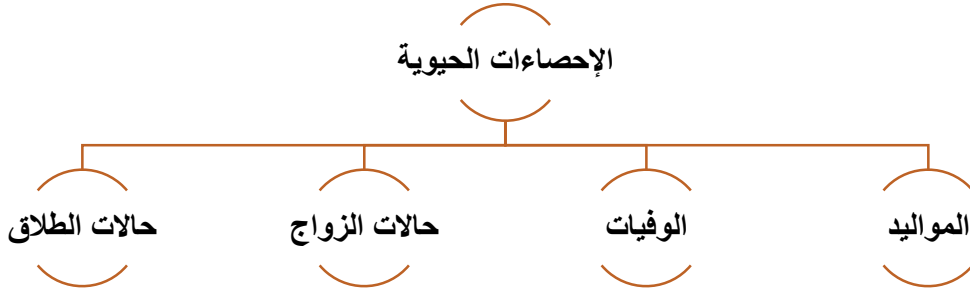
• استنتج الفرق بين التعداد الميداني والتعداد الإلكتروني من خلال اكمال الجدول الآتي :

وجه المقارنة	التعداد الميداني	التعداد الإلكتروني
سرعة جمع البيانات	أقل	أسرع
آلية جمع البيانات	استمارات ورقية	أجهزة وتقنيات حديثة
الجهد	أكثر جهداً	أقل جهداً
التكلفة	أكثر تكلفة	أقل تكلفة

2- الإحصاءات الحيوية:

- ما الاسم الثاني للإحصاءات الحيوية؟
سجل الأحوال المدنية

- على ماذا تشمل الإحصاءات الحيوية (سجل الأحوال المدنية)؟
سجلات المواليد والوفيات وحالات الزواج والطلاق



ابحث

- بالاستعانة بالموقع الإلكتروني للمركز الوطني للإحصاء والمعلومات، دَوِّن البيانات الآتية:
1- عدد سُكَّانِ سلطنة عُمان حسب ما تُظهره الساعة السُّكَّانية. **5,428,545 نسمة**
2- عدد سُكَّانِ ولايتك. (حسب ولاية الطالب يكتب الإجابة)
ولاية صحار (160,000 نسمة)

3- المسوحات بالعينة:

- أكمل المعلومات عن المسوحات بالعينة مستعيناً بالجدول الآتي:

عملية تطبق على جزء من المجتمع	يقصد بالمسوحات بالعينة
جمع البيانات السكانية بين فترات التعداد / قياس دقة التعداد	استخداماتها
توفر الوقت والجهد والتكلفة	مميزاتها
لا تعطي بيانات دقيقة عن المجتمع	سلبياتها

- أيُّ المصادرِ الأولى أكثر دقةً في الحصولِ على البياناتِ السُّكَّانية؟ مع ذكرِ السببِ.
التعداد السكاني أكثر دقة / لأنه يشمل جمع بيانات شاملة عن جميع الأفراد في الدولة في فترة زمنية محددة ويقدم معلومات مفصلة حول عدد السكان.

ثانياً / المصادر الثانوية:

قيمتنا

نقدّر الجهود التي تبذلها سلطنة
عُمان في جمع البيانات
السكانية من أجل تحقيق
التنمية المستدامة

• على ماذا تشمل المصادر الثانوية؟
سجلات المؤسسات الحكومية

- أعط أمثلة على سجلات المؤسسات الحكومية.
(1) **سجلات المدارس**
(2) **سجلات المستشفيات**

• أكمل المخطط الآتي:



• ما هدف سلطنة عُمان من انتهاج نظام الحكومة الإلكترونية؟
ربط البيانات السكانية بالمؤسسات الحكومية.

• ادرس البيانات السكانية الآتية، ثم صنفها حسب مصادرها.

(عدد السكان، أعداد المرضى المنومين في قسم الأطفال، أنواع المساكن والمنشآت، إجمالي طلبة الصف الأول في المدارس)

المصادر الأولية	المصادر الثانوية
عدد السكان	أعداد المرضى المنومين في قسم الأطفال
أنواع المساكن والمنشآت	إجمالي طلبة الصف الأول في المدارس

• ما أهمية دراسة السكان؟

1. **توفير الخدمات الأساسية للسكان**
2. **إنشاء المشاريع في القطاعات المختلفة**
3. **وضع الخطط المستقبلية**

• أكمل المخطط الآتي لأهمية دراسة السكان:



- من خلال الخطاب السامي لحضرة صاحب الجلالة السلطان هيثم بن طارق - حفظه الله ورعاه- استخرج ما يلي:

1- أهم القطاعات التي تجلت فيها جهود الحكومة وعملت على تطويرها.

الصحة والتعليم

والخدمات

2- في أي عام ألقى السلطان هيثم بن طارق -حفظه الله ورعاه- هذا الخطاب؟

2023م

من النطق السامي

«لقد تحلّت الجهود الوطنية -بفضل من الله تعالى- في استمرار مسيرة تطوير قطاعات الصحة والتعليم والخدمات التي عمّلنا جاهدين على أن نواكب التزايد في عدد السّكان، وحرصنا على تنفيذها وتقديمها وفقاً لإستراتيجيات وخطط مدروسة وواقعية، تأخذ هذه العوامل في الحسبان، فشجعت جميع المحافظات والولايات دون استثناء..»

من خطاب حضرة صاحب الجلالة السلطان هيثم بن طارق المعظم -حفظه الله ورعاه-، نوفمبر ٢٠٢٣م

- ما أهمية توفر بيانات سكانية دقيقة للتخطيط المستقبلي في قطاعات الصحة والتعليم؟
- لتحسين جودة وكفاءة خدمات الصحة والتعليم حيث تحدد الاحتياجات الفعلية في تحديد حجم الطلبة أو المرضى المتوقعين وبالتالي يسهل تخصيص الموارد بشكل مناسب مثل عدد المدارس أو المستشفيات كما يساعد ذلك في وضع سياسات تعليمية وصحية تستند إلى الواقع وبالتالي فعالية القرارات الحكومية وكذلك توفر مرونة في التخطيط للاستجابة السريعة في حالات الطوارئ وأيضاً من خلال البيانات السكانية بعض الأماكن قد تحتاج إلى مزيد من الخدمات الصحية أو التعليمية كما تسهم بالتنبؤ بتوجهات النمو السكاني وبالتالي يساعد في التخطيط للطاقت الاستيعابية في المستقبل للمدارس أو المستشفيات كما يساعد على تحسين جودة الخدمات المقدمة وتحسينها لتلبية احتياجات المجتمع.

• استنتج العلاقة بين دراسة السُّكان والمشاريع التنمويّة في الدولة.

كلما زادت المعرفة بالنمو السكاني في الدولة كلما ساعد ذلك على معرفة التوجه والتخطيط الفعال للمشاريع التنموية في الدولة لأنه بدراسة السكان ستتوفر المعلومات الأساسية حول خصائص السكان مثل عددهم وتوزيعهم الجغرافي وأعمارهم ومستوياتهم التعليمية ووظائفهم حيث هذه البيانات تساعد في تحديد الاحتياجات الاجتماعية والاقتصادية للمجتمع وتوجيه الموارد بشكل فعال.

• اقترح مشاريع تنمويّة تحتاجها ولايتك في ظلّ زيادة عدد السُّكان فيها.

- 1- توسيع البنية التحتية للنقل العام
- 2- إنشاء مناطق سكنية جديدة بتخطيط مدروس
- 3- توسيع المناطق الخضراء والحدائق العامة
- 4- مشاريع المياه والصرف الصحي
- 5- تعزيز التعليم والبحث العلمي
- 6- تطوير المشاريع التجارية والاقتصادية
- 7- إعادة تأهيل المناطق العشوائية
- 8- مشاريع الطاقة المتجددة
- 9- مشاريع الرعاية الصحية

• الأسئلة الموضوعية :

➤ اختر الإجابة الصحيحة من بين البدائل المعطاة :

- 1- العام الميلادي الذي تم فيه إجراء أول تعداد شامل في سلطنة عُمان:
أ-1991 ب-1992 ج-1993 د-1994

اختبر
ذاكرتك

- 2- عملية حصر السكان والمساكن والمنشآت لمجتمع معين في وقت محدد وعلى فترات منتظمة :
أ-التعداد السكاني ب- المسوحات بالعينة ج- الإحصاءات الحيوية د- السجلات الحكومية

• الأسئلة المقالية :

- 1- ما النتائج المترتبة على توفر بيانات سكانية دقيقة ؟

.....
.....
.....

- 2- علل: تنتهج سلطنة عمان نظام الحكومة الالكترونية.

.....

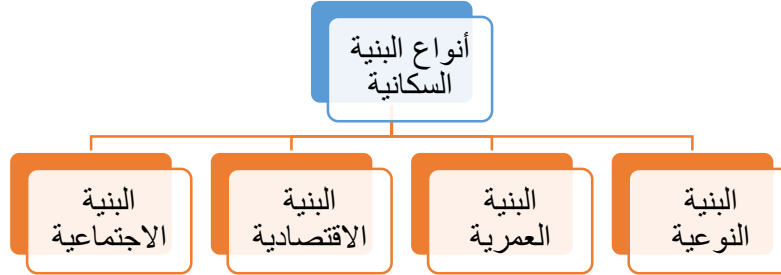
- 3- قارن بين مصادر البيانات السكانية وفق الجدول الآتي :

المصادر الثانوية	المصادر الأولية	أوجه المقارنة
		الشمولية
		الدقة

جغرافية السكان : المصادر ، والخصائص

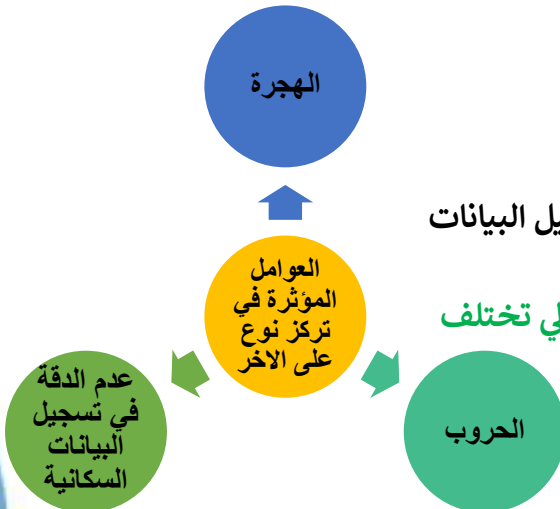
الدرس الثاني : بنية السكان

- ما المقصود بالبنية السكانية؟
دراسة السكان من حيث التركيب العمري والنوعي والحالة الاقتصادية والاجتماعية .
- اكمل المخطط الآتي يوضح أنواع البنية السكانية :



أولاً / البنية النوعية :

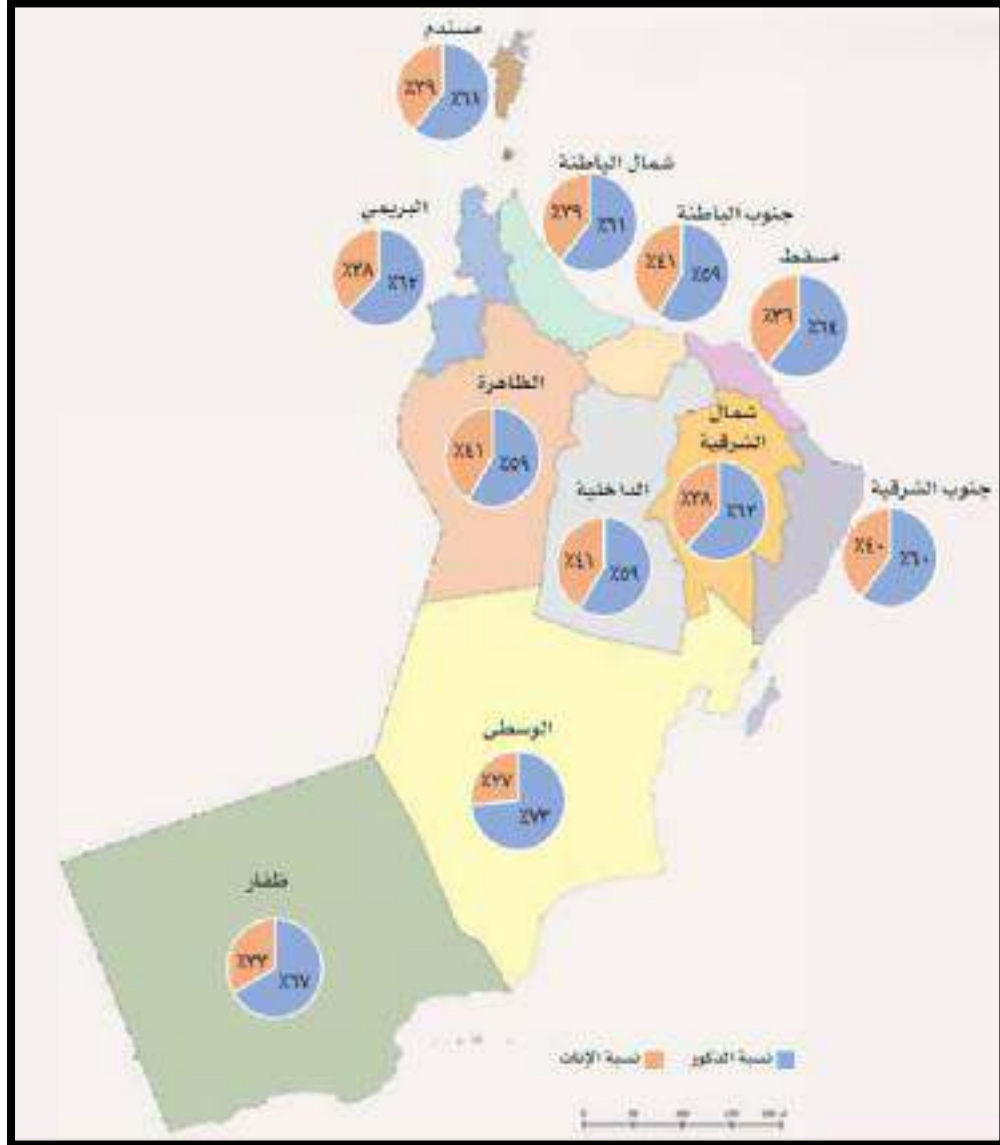
- عرفي البنية النوعية.
- تصنيف السكان حسب النوع إلى ذكور وإناث.
- فسر: خلق الله الناس مختلفين في النوع من الذكر والأنثى.
- ليتحقق بهذا الاختلاف استمرار الحياة على الأرض وتعميرها.
- علل : تتأثر البنية النوعية بعدة عوامل في المجتمعات . (ما العوامل المؤثرة على تركيز نوع معين على الآخر في المجتمعات؟)



- 1- الهجرة
 - 2- الحروب
 - 3- عدم الدقة في تسجيل البيانات السكانية
- وضح كيف تؤثر الهجرة والحروب وعدم الدقة في تسجيل البيانات السكانية على تركيز نوع معين على الآخر؟
 - ✓ **الهجرة** : أغلب المهاجرين من الذكور في العادة وبالتالي تختلف نسب الذكور والإناث.
 - ✓ **الحروب** : تتطلب مشاركة عدد كبير من الذكور يؤدي ذلك إلى زيادة نسبة الإناث.
 - ✓ **عدم الدقة في تسجيل البيانات السكانية** :
النقص في تسجيل عدد الإناث أو التبليغ الخاطئ عن نوع المولود.

حلل

- ادُرُس الخريطة الآتية الّتي توضّحُ نسبةَ عددِ الذُّكورِ إلى عددِ الإناثِ في محافظاتِ سَلطنةِ عُمانَ لعامِ 2023 م، ثُمَّ أَجِبْ عن الأسئلةِ الّتي تليها .



1- ما النوع الأكثر ارتفاعاً في محافظاتِ سَلطنةِ عُمانَ؟
الذكور

2- علّلْ انخفاضَ نسبةِ الإناثِ في محافظةِ الوسطى مقارنةً بنسبةِ الذُّكورِ.

الهجرة التي لها تأثير على التوازن السكاني حيث يهاجر الذكور للعمل في محافظة الوسطى خاصة في قطاع النفط

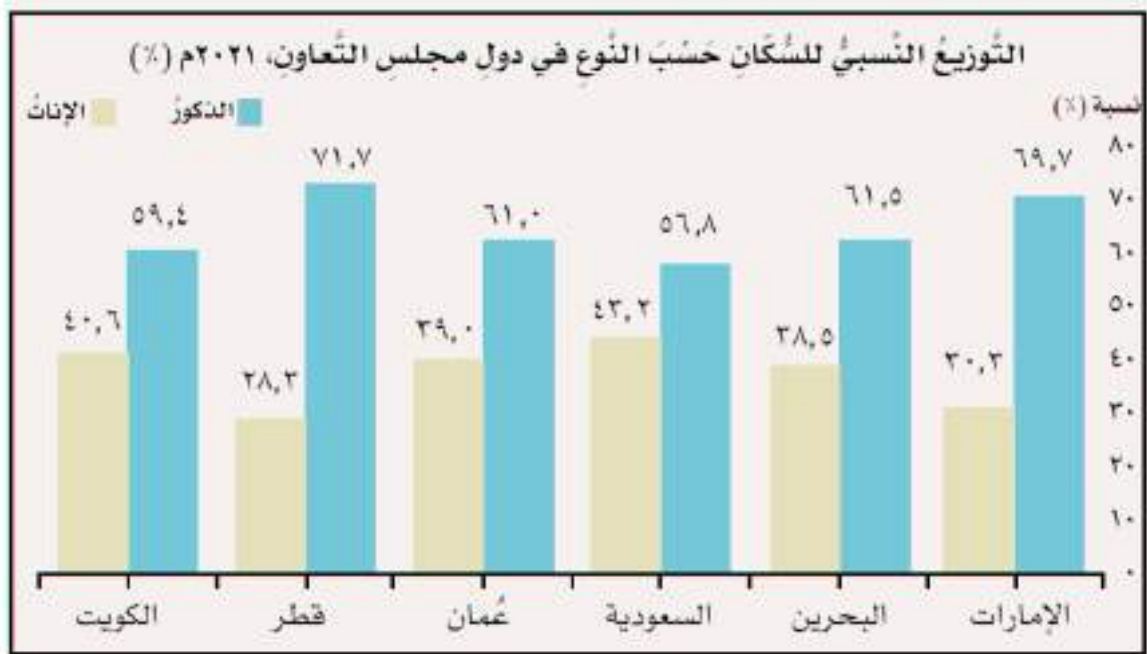
ناقش

- الآثار المترتبة على زيادة أو انخفاض نوع عن الآخر في مجتمع

قد يؤدي ذلك إلى عدة آثار اجتماعية واقتصادية وثقافية وديموغرافية ونفسية

حل

أمامك شكل بياني، يوضح التوزيع النسبي للسكان حسب النوع في دول مجلس التعاون لدول الخليج العربية لعام 2021 م، تأمل الشكل، ثم أجب عن الأسئلة التي تليه.



1- رتب نسب الذكور والإناث في دول مجلس التعاون الخليجي من الأعلى إلى الأقل.

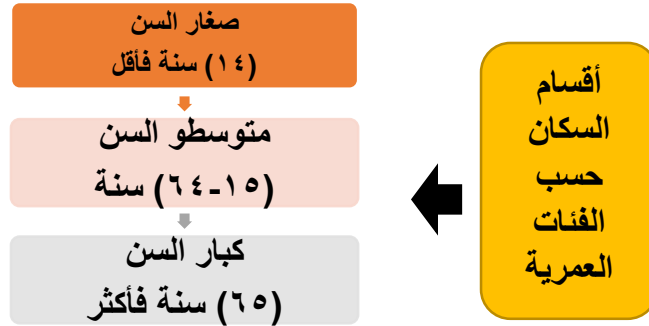
م	الدولة	الذكور (النسبة %)	م	الدولة	الإناث (النسبة %)
1	قطر	71.7%	1	السعودية	43.2%
2	الإمارات	69.7%	2	الكويت	40.6%
3	البحرين	61.5%	3	عمان	39.0%
4	عمان	61.0%	4	البحرين	38.5%
5	الكويت	59.4%	5	الإمارات	30.3%
6	السعودية	56.8%	6	قطر	28.3%

2- علل وجود فارق كبير بين نسب الذكور والإناث في كل من قطر والإمارات العربية.

بسبب الهجرة والاقتصاد القوي في الدولتين اللذان ساهما بشكل كبير في جذب العمالة الوافدة وأغلبهم من الذكور.

ثانياً / البنية العمرية :

- عرّف البنية العمرية .
- تصنيف السكان حسب فئات العمر
- أكمل المخطط بتصنيف أقسام السكان حسب الفئات العمرية.



1- الفئات العمرية التي ينتمي إليها الأشخاص الآتية أعمارهم:

11 سنة	69 سنة	55 سنة	7 سنوات	17 سنة
صغار السن	كبار السن	متوسطو السن	صغار السن	متوسطو السن
				

2- الفئة العمرية التي تنتمي إليها في الفترة الحالية، والفئة العمرية التي ستنتهي إليها بعد 7 سنوات.
صغار السن / متوسطو السن

• ادرس الجدول الآتي الذي يوضح عدد السكان في سلطنة عُمان لعام 2023 م، ثم أجب عن السؤال الذي يليه.

• احسب إجمالي السكان في الفئات العمرية المختلفة، ثم اكتبها في الجدول.

إجمالي السكان	الفئات العمرية
1,258,674	فئة صغار السن
3,543,021	فئة متوسطي السن
132,155	فئة كبار السن

إجمالي عدد السكان	الفئات العمرية
٤٣٢,٢٤٧	٤-٠
٤٦٣,٧٥٩	٩-٥
٣٦٣,٦٦٨	١٤-١٠
٢٧٠,٩٦٥	١٩-١٥
٣٧٣,٨٧٠	٢٤-٢٠
٥٤٣,٩١٠	٢٩-٢٥
٦٣٨,٨٠١	٣٤-٣٠
٦٠٣,١١٨	٣٩-٣٥
٤٤٣,١٥٨	٤٤-٤٠
٢٨٦,٥٥٥	٤٩-٤٥
١٨٥,٤٧٩	٥٤-٥٠
١١٩,١٦٤	٥٩-٥٥
٨٢,٠١١	٦٤-٦٠
٥٢,٤١٥	٦٩-٦٥
٣٣,٣٢٨	٧٤-٧٠
٢١,١٠١	٧٩-٧٥
٢٥,٣١١	٨٠
٤,٩٣٣,٨٥٠	المجموع

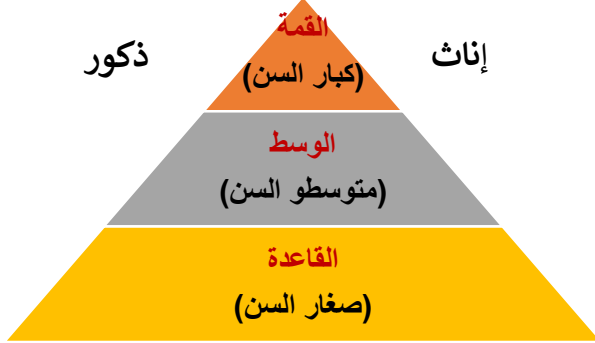
الهرم السكاني

• ما المقصود بالهرم السكاني؟

عبارة عن تمثيل البيانات السكانية بيانياً من حيث العمر والنوع على شكل هرم سكاني حيث يقدم صورة واقعية لخصائص سكان أي مجتمع.

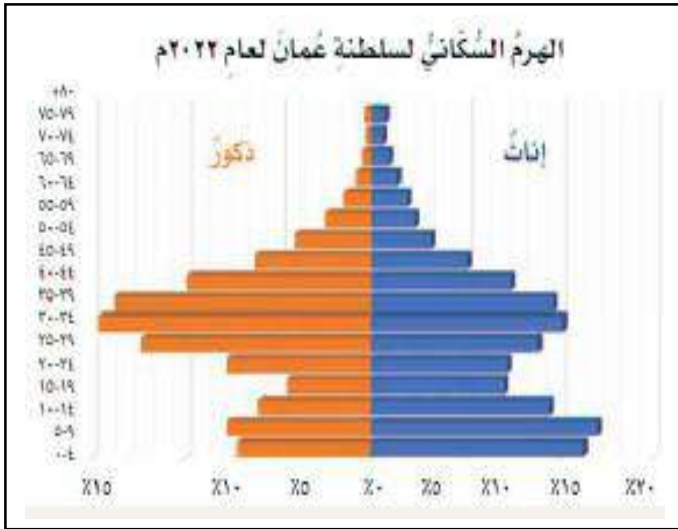
• عدد مكونات الهرم السكاني.

- 1- **القمة** (كبار السن)
- 2- **الوسط** (متوسطو السن)
- 3- **القاعدة** (صغار السن)
- 4- **ذكور وإناث**



• كيف يتم تمثيل الأهرامات السكانية؟ تمثل على هيئة أعداد أو نسب مئوية

• أمامك شكلان يمثلان الهرم السكاني لسلطنة عُمان لعامي 1993 م، و 2022 م ادْرُسْهُمَا، ثُمَّ أَجِبْ عن الأسئلة التي تليهما.



1- علام يدل وجود قاعدة ضيقة للهرم السكاني لعام 2022 م؟ انخفاض في فئة صغار السن

2- ما التغيير الذي حدث في بنية سكان سلطنة عُمان العُمريّة بين عامي 1993 م و 2022 م؟ ولماذا؟

تغييرات في فئات السن وخاصة فئة الصغار حيث كانت 1993م فئة صغار السن مرتفعة ثم انخفضت بشكل ملحوظ عام 2022م/انخفاض معدلات الخصوبة وارتفاع تكاليف المعيشة والتحولت في القيم الاجتماعية

3- حدّد الفئة العمرية ذات النسبة الأعلى في الهرمين السكائين، وتوقع النتائج المترتبة على ذلك.

الهرم الأول 1993م: فئة صغار السن - الهرم الثاني 2022م : فئة متوسطو السن /زيادة فئة صغار السن يتطلب ضرورة التحضير لمستقبل شباب يعتمد عليه ومتعدد المهارات في حين زيادة

فئة متوسطو السن تشير إلى أهمية تأهيل وتكثيف المجتمع لاحتياجات فئة أكبر

سناً وتحقيق التوازن بين الأجيال.

قارن

- ادْرُس الهرم السُّكَّانيّ (أ، ب) ، ثم قارِنْ بينهما من حيثُ الآتي:

1- شكلُ الهرم.

2- الفئةُ العُمريَّةُ الأكثرُ ارتفاعًا.



وجه المقارنة	أ	ب
شكل الهرم	الهرم ذو القاعدة العريضة	الهرم ذو القاعدة الضيقة
الفئة العمرية	صغار السن	كبار السن

معلومة :

أنواع الأهرامات السكانية :

- ✓ الهرم ذو القاعدة العريضة
- ✓ الهرم ذو القاعدة المتوسطة
- ✓ الهرم ذو القاعدة الضيقة

ثالثاً / البنية الاقتصادية :

- صنف أقسام السكان من حيث البنية الاقتصادية بأكمل المخطط الآتي :



- على ماذا تشمل كل من القوى العاملة والقوى غير العاملة؟

القوى العاملة : متوسطو السن

القوى غير العاملة : صغار السن وكبار السن

- مستعيناً بالصور اكتب أسفل كل صورة القوى العاملة من القوى غير العاملة :



قوى عاملة
(متوسطو السن)



قوى غير عاملة
(كبار السن)



قوى عاملة
(متوسطو السن)



قوى غير عاملة
(صغار السن)



رابعاً / البنية الاجتماعية :

- ما المقصود بالبنية الاجتماعية ؟

تتمثل في خصائص السكان من حيث حالات الزواج
(أعزب أو متزوج أو أرمل أو مطلق)



قيمتنا

نثمن جهود القوى العاملة في
بناء المجتمع وتطوره.



- كيف يمكن الاستفادة من القوى غير العاملة لتصبح منتجة في المجتمع؟
من خلال التعليم والتدريب والدعم المالي والاستشاري وتوظيف التكنولوجيا وتحفيز ريادة الأعمال والتشجيع على العمل التطوعي والتوعية والتثقيف

الدرس الثاني / بنية السكان

• الأسئلة الموضوعية:

➤ اختر الإجابة الصحيحة من بين البدائل المعطاة:

اختبر
ذاكرتك

- 1- تعتبر الهجرة من العوامل المؤثرة في البنية :
أ- العمرية ب- النوعية ج- الاقتصادية د- الاجتماعية
- 2- يطلق على المكون الذي يمثل صغار السن من مكونات الهرم السكاني :
أ- القمة ب- الوسط ج- الذكور د- القاعدة

• الأسئلة المقالية:

1- علل كل مما يأتي:

أ- البنية السكانية.

.....
.....

ب- الهرم السكاني.

.....

2- ما النتائج المترتبة على :

أ- التبليغ الخاطئ عن نوع المولود.

.....

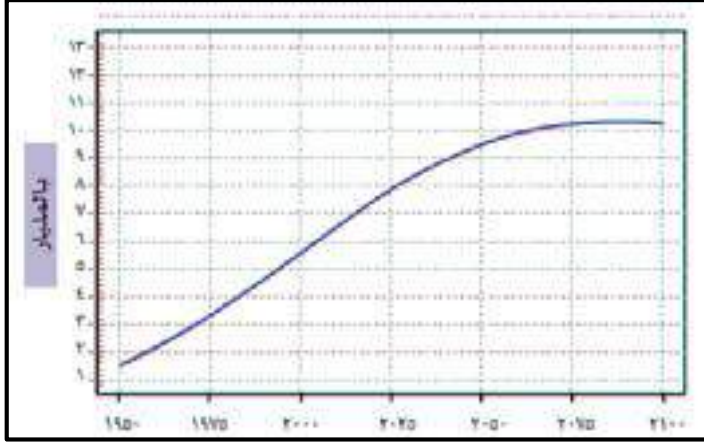
ب- تزايد هجرة الذكور مقارنة بالإناث.

.....

3- قارن بين الفئات العمرية للسكان وفق الجدول الآتي :

كبار السن	متوسطو السن	صغار السن	أوجه المقارنة
			الفئات العمرية
			العمل

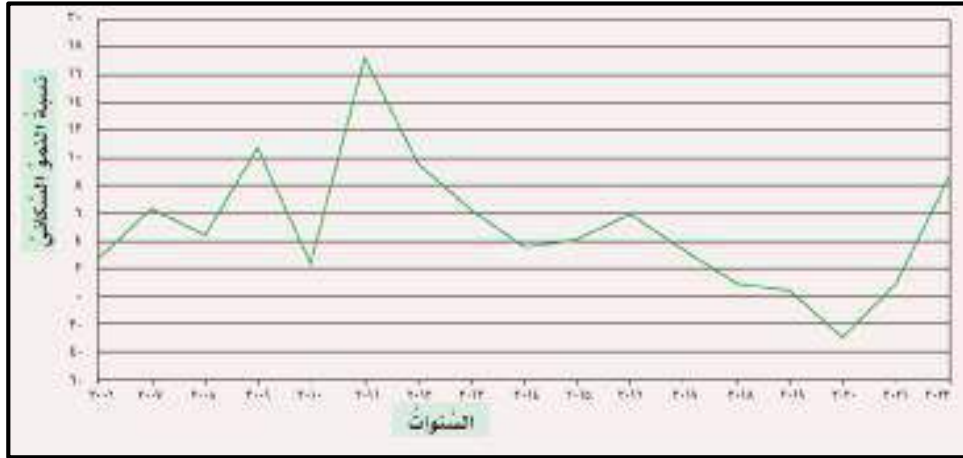
الدرس الثالث : النمو السكاني



- صف وضع سكان العالم في الشكل المقابل.
شهد عدد سكان العالم في الكثير من الدول في السنوات الأخيرة نمواً متزايداً
- من خلال الشكل المقابل كم وصل أعداد سكان العالم في عام 2025م؟
8 مليار
- عرف المقصود بالنمو السكاني؟
مقدار الزيادة في عدد السكان في منطقة معينة وخلال مدة زمنية محددة.

حلل

- ادْرُس الشَّكْلَ الَّذِي يُمَثِّلُ النَّمُوَّ السُّكَّانِيَّ فِي سَلْطَنَةِ عُمانَ خَالَ القَترَةِ مِنْ ٢٠٠٦م - ٢٠٢٢م، ثُمَّ أَجِبْ عَمَّا يَليهِ:

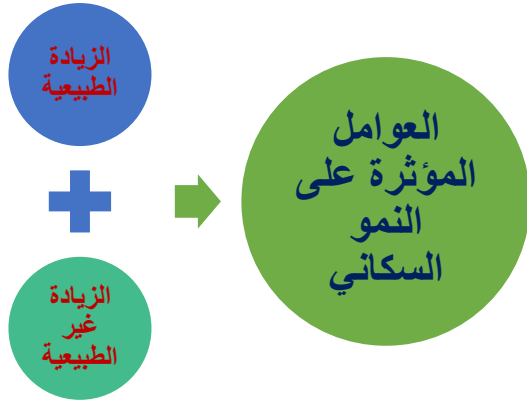


- 1- صف النمو السكاني في سلطنة عُمان خلال السنوات من (٢٠٠٦م-٢٠٢٢م).
شهد النمو السكاني خلال هذه السنوات زيادات ملحوظة مع انخفاض في بعض السنوات ثم تستمر الزيادة ولكن بصورة أبطأ على السنوات القادمة (نمو سكاني متذبذب)
- 2- ما السَّنة الَّتِي شَهِدَتْ أَعلى نَمُوًّا سُكَّانِيًّا وأَقَلَّ نَمُوًّا سُكَّانِيًّا فِي سَلْطَنَةِ عُمانَ؟ أَعلى: 2011م / أَقَل: 2020م
- 3- ما تَوَقُّعُكَ لِلنَّمُوِّ السُّكَّانِيَّ فِي سَلْطَنَةِ عُمانَ مُستقبلاً؟ ولماذا؟ استمرار زيادة النمو السكاني ولكن بمعدل أبطأ / بسبب التوجهات في مستويات الخصوبة والهجرة

العوامل المؤثرة على النمو السكاني

- ما العوامل المؤثرة على النمو السكاني؟

1. الزيادة الطبيعية
2. الزيادة غير الطبيعية



أولاً / الزيادة الطبيعية :

- ما المقصود بالزيادة الطبيعية؟
الفرق بين عدد المواليد وعدد الوفيات في مجتمعٍ مُعَيَّن وفترةٍ زمنيةٍ محدَّدة
- اكتب المعادلة التي يتم بها حساب الزيادة الطبيعية.
الزيادة الطبيعية = عدد المواليد - عدد الوفيات

العوامل المؤثرة على الزيادة الطبيعية



المواليد

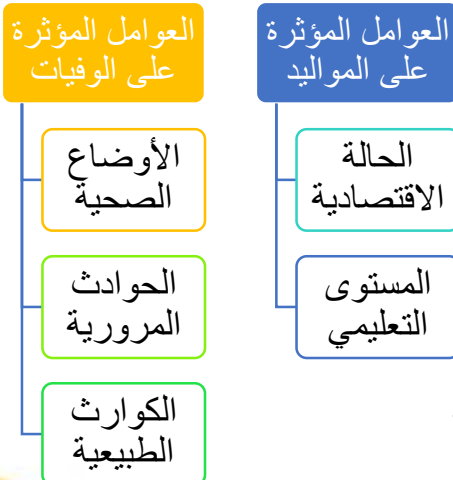


الوفيات

- ما العوامل المؤثرة على الزيادة الطبيعية؟
1. المواليد
2. الوفيات

- عدد العوامل المؤثرة على المواليد.
1- الحالة الاقتصادية
2- المستوى التعليمي

- عدد العوامل المؤثرة على الوفيات.
1- الأوضاع الصحية
2- الحوادث المرورية
3- الكوارث الطبيعية



- علل : ارتفاع عدد الوفيات في العالم عام 2020 م .
نتيجة لانتشار جائحة كورونا (كوفيد-19)

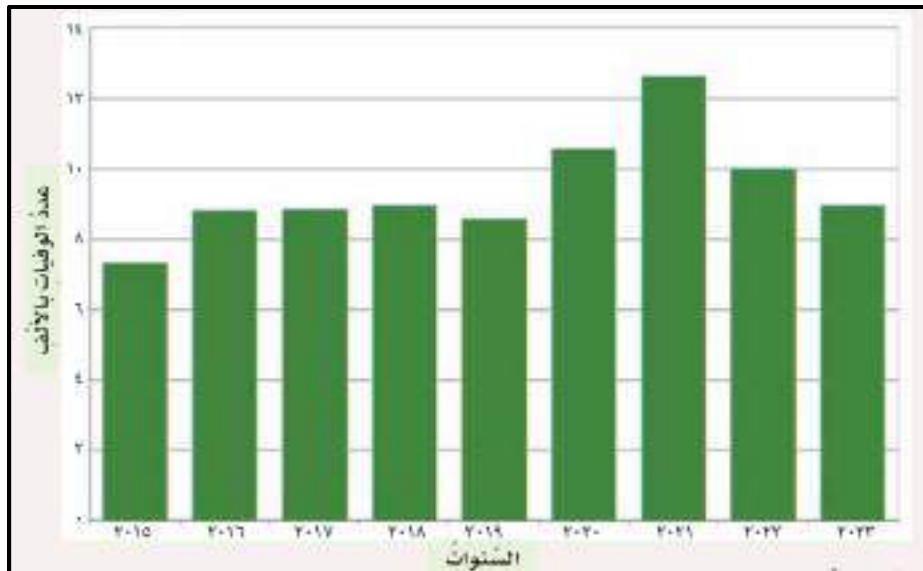
ناقش

- أسباب ارتفاع عدد المواليد في بعض المجتمعات الزراعية.
- بسبب الأوضاع الاقتصادية والاجتماعية والثقافة السائدة حيث المجتمعات الزراعية تحتاج إلى الأيدي العاملة.
- من خلال بيانات الجدول الذي أمامك، احسب الزيادة الطبيعية للسكان في سلطنة عُمان لعامي (٢٠١٠ م، و ٢٠٢٠ م).

السنة	٢٠١٠ م	٢٠٢٠ م
عدد المواليد	٦٤,٧٣٠	٨٢,٢٢٤
عدد الوفيات	٧,٤١٤	١٢,٦٤٩
الزيادة الطبيعية	57,316	69,575

حلل

- أدرس الشكل الآتي الذي يمثل عدد الوفيات في سلطنة عُمان من (٢٠١٥ م - ٢٠٢٢ م) وفق إحصائيات المركز الوطني للإحصاء والمعلومات، ثم أجب عن الأسئلة التي تليه:



- 1- ماذا تلاحظ في عدد الوفيات من عام ٢٠١٦ م - ٢٠١٩ م؟
تقارب في الانخفاض في أعداد الوفيات من 2016 إلى 2019 م
- 2- ما التغير الذي حدث في عدد الوفيات بعد عام ٢٠١٩ م؟ فسّر ذلك.
ارتفاع أعداد الوفيات / بسبب جائحة كورونا (كوفيد- 19)

بالاستعانة برمز الاستجابة السريعة، تحدّث بإيجاز عن جهود المؤسسات الحكومية للتقليل من تزايد عدد الوفيات في سلطنة عُمان.

(يلخص الطالب بعد مشاهدة الفيديو من قبل المعلم)

- تُعدّ الحوادث المروريّة أحد أسباب الوفيات في الدّول، في ضوء ذلك اقترح ومجموعتك بعض الإجراءات للتّقليل من الحوادث المروريّة.

زيادة حملات التوعية للسائقين والمشاة / احترام قواعد المرور / ضرورة الالتزام بإشارات المرور/تطوير وتحديث الطرق / تعزيز الرقابة على سرعة السائقين والتأكد من التزامهم بالقوانين / ادخال تكنولوجيا الحديثة مثل كاميرات المراقبة وأجهزة كشف السرعة / الفحص الدائم للسيارة وصيانتها بشكل دوري / فرض عقوبات والتشديد عليها للسائقين المخالفين / التعامل مع الظروف الجوية أحوال الطقس

عدّد السّنوات المتوقّع أن يعيشها الفرد الواحد، وهو يتأثّر بالأوضاع الاقتصادية والاجتماعية للدّول.

ماذا يقصد أمد الحياة؟

قارن بين المُجتمعات النامية والمتقدّمة حسب الجدول الآتي:

وجه المقارنة	المجتمعات المتقدمة	المجتمعات النامية
مستوى أمد الحياة	يزيد	يقل
الأسباب	تقدمها من ناحية الرعاية الصحية في مكافحة الأوبئة والأمراض والتقدم الاقتصادي	افتقارها إلى تقديم الخدمات الصحية إلى جانب خدمات المياه النقية والكهرباء والخدمات العامة والتقدم الاقتصادي

ثانياً / الزيادة غير الطبيعية :

- ما هو العامل الرئيس للزيادة غير الطبيعية في تغير النمو السكاني في المجتمع؟
الهجرة

معلومة خارجية / أنواع الهجرة وأسبابها :

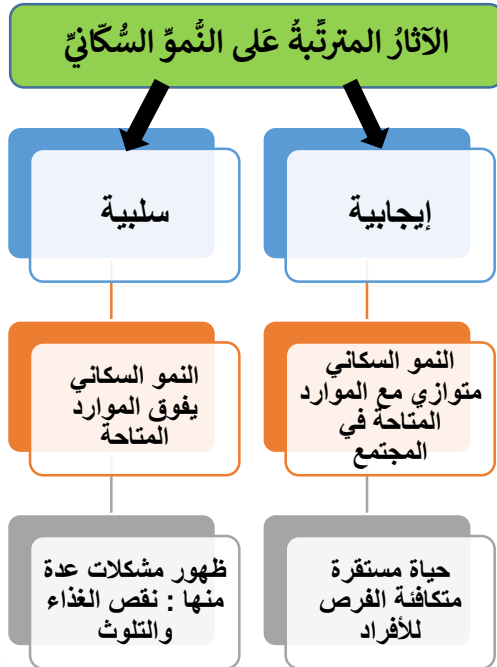
أنواع الهجرة	الأسباب
من حيث المكان : داخلية / خارجية من حيث مدة الإقامة : دائمة / مؤقتة من حيث الرغبة : اختيارية / إجبارية	توافر فرص العمل بأجور مرتفعة / توافر الخدمات التعليمية والصحية والاجتماعية / المستوى المعيشي الأفضل

تتأثر المناطق الجاذبة للمهاجرين بمجموعة من التحديات، منها: **الضغط على الخدمات**. في ضوء ذلك، اقترح ومجموعتك إجراءات للتقليل من الهجرة.

إقامة مشاريع تنمية وتوزيعها بشكل عادل بين المناطق / تحسين الظروف الاقتصادية / تحسين التعليم والتدريب / تعزيز البنية التحتية / تعزيز الخدمات العامة / توفير حوافز للمستثمرين في المناطق الأقل تطوراً / تعزيز التعاون بين الحكومة المركزية والحكومات المحلية

اقترح

الآثار المترتبة على النمو السكاني



- ما الآثار المترتبة على النمو السكاني؟
آثار إيجابية وآثار سلبية

- وضح الآثار الإيجابية والآثار السلبية للنمو السكاني.

✓ **الآثار الإيجابية** إذا كان النمو السكاني متوازي مع الموارد المتاحة

✓ **الآثار السلبية** إذا كان النمو السكاني يفوق الموارد المتاحة

- ما النتائج المترتبة على النمو السكاني على كل من :

1- نمو سكاني متوازي مع الموارد المتاحة؟

حياة مستقرة متكافئة الفرص للأفراد

2- نمو سكاني يفوق مع الموارد المتاحة؟

ظهور مشكلات عدة منها : نقص الغذاء والتلوث

ابحث

يُشيرُ تقريرُ الأممِ المُتَّحدةِ عَنْ مُستقبلِ النُّموِّ السُّكَّانيِّ العَالَمِيِّ إِلَى أَنَّ عِدَدَ سُكَّانِ العَالَمِ يُتَوَقَّعُ أَنْ يَصِلَ إِلَى نَحْوِ ١٠ مِلْيَارَاتٍ بِحُلُولِ العَامِ ٢١٠٠ م.

- 1- أبرز الدول التي تُعاني مِنْ مشكلَةِ الانفجارِ السُّكَّانيِّ.
الهند / الصين / نيجيريا / إندونيسيا / باكستان / بنغلاديش / مصر
- 2- مُشكلاتٍ أُخرى قَدْ تَحْدُثُ نَتِيجَةَ النُّموِّ السُّكَّانيِّ المُتسارعِ، لَا سِوَمَا فِي الدُّولِ الَّتِي تُعاني مِنْ قِلَّةِ المَوَارِدِ الطَّبِيعِيَّةِ.
ندرة المياه / تدهور البيئة / نقص الغذاء / زيادة الفقر / ضغط على البنية التحتية / التوسع العمراني العشوائي / تزايد معدلات الأمراض / النزاع على الموارد / هجرة سكانية

ناقش

النتائج المترتبة على النمو السكاني المتزايد على مستوى الأسرة.

زيادة العبء المالي - تحديات في التعليم - ضغوط نفسية - التأثير على نوعية الحياة - الاستدامة البيئية - الفرص الاجتماعية والاقتصادية - تغيرات في العلاقات بين أفراد الأسرة حيث قد يواجه أفراد الأسرة صعوبة في التواصل وتقسيم المسؤوليات بشكل متوازن

الدرس الثالث / النمو السكاني

• الأسئلة الموضوعية:

➤ اختر الإجابة الصحيحة من بين البدائل المعطاة:

- 1- مصطلح يقصد به الفرق بين عدد المواليد وعدد الوفيات في مجتمع معين خلال فترة زمنية:
أ- النمو السكاني ب- الزيادة الطبيعية ج- امد الحياة د- الهرم السكاني
- 2- العام الميلادي الذي ارتفع فيه عدد الوفيات في العالم:
أ- 2020 ب- 2021 ج- 2022 د- 2023

اختبر
ذاكرتك

• الأسئلة المقالية:

- 1- عرف أمد الحياة.

.....

- 2- عدد العوامل المؤثرة في النمو السكاني ؟

.....

.....

- 3- ادرس الصورة التي أمامك ثم أجب عن الأسئلة الآتية:

أ- اما العامل المؤثر في حدوث الوفيات كما توضحه الصورة المقابلة؟

.....

ب- اقترح إجراءات أو حلول للحد من هذه الظاهرة.

.....

.....

.....

.....

- 4- احسب الزيادة الطبيعية في محافظة مسقط إذا علمت أن عدد المواليد في عام 2022م بلغ نحو 15,143 نسمة ، وعدد الوفيات في العام نفسه بلغ نحو 2,566 نسمة .


.....

.....

.....

الدرس الرابع : الكثافة السكانية

- صف التوزيع الجغرافي لسكان العالم.
يتوزعون بشكل غير متساوٍ على سطح الكرة الأرضية فبعض المناطق يتركز فيها السكان والبعض المناطق يقل فيها



أبو نجم، ٢٠٢٣ م.

الشكل (٦) توزيع سكان العالم.

حلل

بالاستعانة بالشكل (٦)، وخريطة العالم السياسية في نهاية الكتاب المدرسي، أجب عن الأسئلة الآتية:

١- أيهما أكثر تركّزاً للسكان: النصف الشمالي من الكرة الأرضية أم النصف الجنوبي؟ ولماذا؟

النصف الشمالي / لأن اليابسة التي يعيش عليها السكان تتركز في النصف الشمالي مقارنة بقلتها بالنصف الجنوبي الذي يتركز فيه الماء (مساحة اليابس في النصف الشمالي أكبر من النصف الجنوبي)

٢- استخراج:

أ. أكثر ثلاث قارات يتركّز فيها السكان.

آسيا / إفريقيا / أوروبا

ب. القارة الأقلّ سكاناً في العالم.

القارة القطبية الجنوبية

أولاً/
العوامل
الطبيعية

• عدد العوامل التي تؤثر على توزيع السكان في العالم.

1. العوامل الطبيعية

2. العوامل البشرية

• اذكر أهم العوامل الطبيعية المؤثرة على توزيع السكان في العالم.



• وضح تأثير كل من على توزيع السكان في العالم : المناخ – التضاريس – المسطحات المائية

المناخ	التضاريس	المسطحات المائية
✓ اعتدال الحرارة + غزارة الأمطار = تركيز السكان بهذه المناطق	✓ المناطق السهلية = تركيز السكان ✓ المناطق الجبلية = قلة السكان	يتركز السكان فالمناطق التي تشرف عليها المسطحات المائية أو قريبة منها
✓ المناطق الصحراوية مع قلة الأمطار = قلة السكان		

• علل أو فسر كل من :

1. يُفَضِّلُ الإنسان العيشَ في المناطق السَّهْلِيَّةِ عن المناطق الجَبَلِيَّةِ.

وذلك لسهولة الوصول إليها وملاءمتها لبناء المسكن وممارسة الأنشطة الاقتصادية المختلفة، مثل: الزراعة

2. يميل السُّكَّانُ إلى العيش في المناطق التي تُشْرِفُ على المُسَطَّحاتِ المائية أو القريبة منها.

وذلك لاعتدال مُناخها ولتوفر مصادر الرِّزْقِ فيها، مثل: صيد الأسماك.

ناقش

أسباب تركُّز السُّكَّانِ في ولاية صلالة بِمُحافظة ظفار، وقِلَّةِ عددِ السُّكَّانِ في ولاية الجبل الأخضر بِمحافظة الداخلية.

لأن ولاية صلالة منطقة سهلية سهل الوصول لها وملائمة للسكن وممارسة الأنشطة الاقتصادية كالزراعة بينما ولاية الجبل الأخضر منطقة جبلية

عوامل طبيعية أخرى تؤثر في توزيع سُكَّانِ العالم:
التربة / الموارد الطبيعية / الكوارث الطبيعية / الغطاء النباتي / وفرة المياه

ثانياً/
العوامل
البشرية

- عدد العوامل البشرية التي تؤثر على توزيع السكان على سطح الأرض.



١- الأنشطة الاقتصادية



٢- الاستقرار السياسي



٣- الخدمات

- وضح تأثير العوامل البشرية الآتية :
الأنشطة الاقتصادية / الاستقرار السياسي / الخدمات في توزيع السكان على سطح الأرض.
- **الأنشطة الاقتصادية :** يَخْتَلِفُ تَوْزُّعُ السُّكَّانِ حَسَبَ نَوْعِ الأنشطة الاقتصادية، ومدى توفُّرِ فُرَصِ العَمَلِ.
- **الاستقرار السياسي :** يَقلُّ تَرَكُّزُ السُّكَّانِ فِي المَنَاطِقِ غَيْرِ المُسْتَقَرَّةِ سياسياً.
- **الخدمات :** يَتَرَكُّزُ السُّكَّانُ فِي المَنَاطِقِ الَّتِي تَتَوَفَّرُ فِيهَا الخِدْمَاتُ، مِثْلُ: الطُّرُقِ، ووسائلِ النَّقْلِ المُخْتَلِفَةِ.

- **يَخْتَلِفُ عَدَدُ السُّكَّانِ فِي المَدِينَةِ عَنْهُ فِي الرِّيفِ.** فِي ضَوْءِ ذَلِكَ، قَارِنْ وَمَجْمُوعَتَكَ بَيْنَ المَدِينَةِ وَالرِّيفِ حَسَبَ الجَدُولِ أدناه :

وجه المقارنة	المدينة	الريف
الأنشطة الاقتصادية	تتركز فيها الأنشطة الاقتصادية كالتجارة والخدمات والمراكز التجارية والمصانع وغيره	أقل تنوعاً في الأنشطة الاقتصادية مقارنة بالمدينة ويعتمد باقتصاده على الزراعة والرعي
توفر الخدمات	توفر الخدمات بشكل واسع	تعاين من نقص الخدمات
توفر فرص العمل	توفر فرص عمل متنوعة وفي مجالات متعددة	تتركز فرص العمل في الزراعة وتكون محدودة
جودة الطرق ووسائل النقل	الطرق جيدة ووسائل النقل متطورة	الطرق أقل جودة ووسائل النقل محدودة
تركز السكان	كثافة سكانية عالية	كثافة سكانية أقل

نافذة المعرفة

ما النتيجة التي ترتبت على اهتمت حكومة سلطنة عُمان منذ بداية عَصْرِ النَّهْضَةِ المُبَارَكَةِ بإيصال مظاهر التَّنْمِيَةِ والتَّعْمِيرِ فِي كُلِّ أَنْحَاءِ البِلَادِ؟
أَصْبَحَ المَوَاطِنُ وَالْمُقِيمُ يَنَعُمُ بِمُخْتَلَفِ الخِدْمَاتِ فِي وِلَايَتِهِ دُونَ أَنْ يَتَكَبَّدَ مَشَاقَّ التَّوَجُّهِ إِلَى المَدَن

صنف

بالاستعانة برمز الاستجابة السريعة الموجودة بالكتاب المدرسي، استعرض خريطة توزيع سُكَّان محافظات سلطنة عُمان، ثُمَّ صَنَّف المَحَافِظَ الآتِيَةَ حَسَبَ الجدول أدناه، مَعَ ذِكرِ السَّبَبِ :

(محافظة جنوب الباطنة، محافظة الوسطى، محافظة مُسندَم، محافظة مسقط)

مَنَاطِقُ يَتَرَكَّزُ فِيهَا السُّكَّانُ	الأسباب	مَنَاطِقُ أَقَلُّ تَرَكُّزًا للسُّكَّانِ	الأسباب
محافظة جنوب الباطنة	تركز الأنشطة الاقتصادية وتوفر الخدمات والمناخ المعتدل	محافظة الوسطى	منطقة صحراوية
محافظة مسقط	تركز الخدمات وفرص العمل والأنشطة الاقتصادية	محافظة مسندم	منطقة جبلية

الكثافة السكانية :

- اكتب المعادلة الحسابية التي يتم من خلالها حساب الكثافة السكانية.

$$\frac{\text{عدد السُّكَّانِ فِي المِنَاطِقَةِ (نسمة)}}{\text{المِسَاحَةُ الكُلِّيَّةُ لِلْمِنَاطِقَةِ (كم²)}} = \text{الكثافة السُّكَّانِيَّةُ (نسمة/كم²)}$$

ما المقصود بالكثافة السكانية؟



عدَدُ السُّكَّانِ فِي الكِيلُومِترِ المَرَبَّعِ الوَاحِدِ مِنَ الأَرْضِ

- صنف أقسام الكثافة السكانية في مناطق العالم من حيث مدى تركيز السكان فيها.

مناطق ذات كثافة سكانية منخفضة

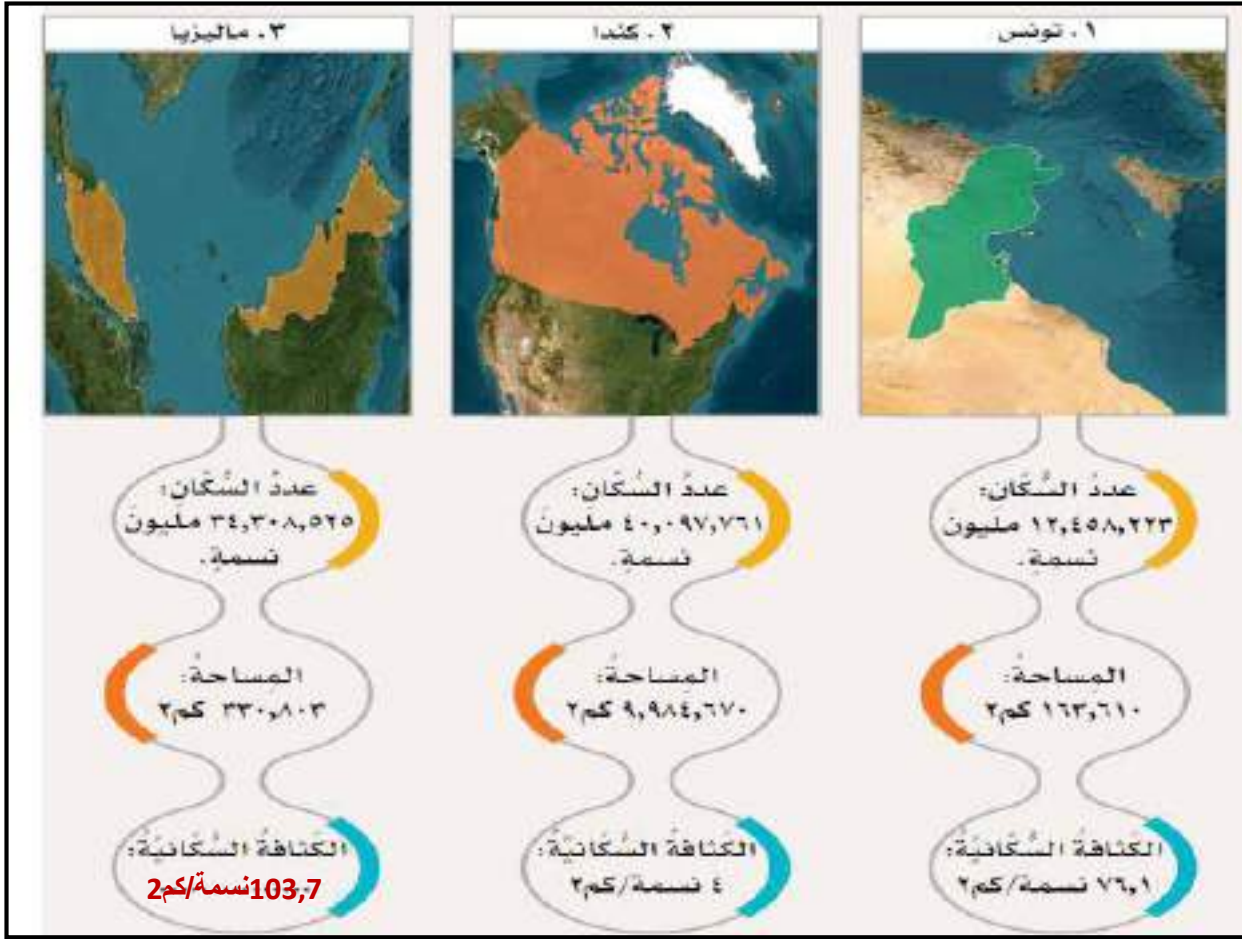
توصف بأنها مناطق قليلة السكان

مناطق ذات كثافة سكانية مرتفعة

توصف بأنها مناطق مزدحمة بالسكان

حلل

أدرُس الخرائط الموضَّحة لبعض إحصائيات الدَّول لعام ٢٠٢٣ م، ثُمَّ أَجِبْ
عن الأسئلة التي تليها.



١- احسب الكثافة السَّكانية في ماليزيا.

$$\text{الكثافة السَّكانية (نسمة/كم}^2\text{)} = \frac{\text{عدد السَّكان في المنطقة (نسمة)}}{\text{المساحة الكلية للمنطقة (كم}^2\text{)}} = \frac{34,308,525}{330,803} = 103,712859 \text{ نسمة/كم}^2$$

٢- فسِّر: ارتفاع الكثافة السَّكانية في تونس وانخفاضها في كندا.

بسبب حجم المساحة الصغيرة لدولة تونس مقارنة بحجم المساحة الكبيرة لكندا.

✓ عدد سُكَّان سلطنة عُمان حَسَب آخر إحصائية، ثُمَّ احسب الكثافة السَّكانية فيها إذا عَلِمْتَ أَنَّ
مساحة سلطنة عُمان تبلغُ نحو (٣٠٩,٥٠٠ كم٢). **5,255,000 عدد سكان سلطنة عمان**

$$\text{الكثافة السَّكانية (نسمة/كم}^2\text{)} = \frac{\text{عدد السَّكان في المنطقة (نسمة)}}{\text{المساحة الكلية للمنطقة (كم}^2\text{)}} = \frac{5,255,000}{309,500} = 16,9 = 17 \text{ نسمة/كم}^2$$

أدرُس الجدول الآتي الموضَّح لعدد سُكَّانِ مُحافظةِ سَلْطَنَةِ عُمَانَ لعامِ ٢٠٢٣ م حسبَ إحصائياتِ المركزِ الوطنيِّ للإحصاءِ والمعلوماتِ، ثُمَّ أَجِبْ عن الأسئلةِ الَّتِي تليهِ:

المُحافظةُ	عَدَدُ السُّكَّانِ (نَسْمَة)	المِسَاحَةُ (كَم²)	الكثافةُ السُّكَّانيَّةُ (نَسْمَة / كَم²)
مَسْقَطُ	١,٤٠١,٤٥٩	٣,٧٦٢	٣٧٢,٥
جنوبُ الباطنةِ	٥١٨,٠٤٠	٥,٢٨٢	98,1
شمالُ الباطنةِ	٨٧٢,٠١٤	٧,٩٢٨	١١٠
الداخليةُ	٥٣٣,٦٧٧	٣١,٥٢٥	16,9
جنوبُ الشَّرْقِيَّةِ	٣٤٩,٧٥٤	١١,٨٨٧	29,4
شمالُ الشَّرْقِيَّةِ	٣٠١,٢٣٨	٢١,٦٢٣	١٤
الظاهرةُ	٢٣٢,٨٦٥	٣٥,٩٣٧	6,5
البريمي	١٢٥,٧٤٢	٧,٦١٧	١٦,٥
مسندمُ	٥٣,٢٢٤	١,٦٢٢	32,8
الوسطى	٥٩,٤٦٨	٨٣,١٣٤	٠,٧
ظفارُ	٤٨٦,٣٦٩	٩٨,٢٤٩	5

١- احسب الكثافة السُّكَّانيَّةَ لباقي المُحافظةِ، ثُمَّ اكتب ما توصلتَ إليه.

تختلف الكثافة السكانية من محافظة إلى أخرى بعضها مزدحم الكثافة والبعض قليلة الكثافة على حسب العوامل الطبيعية والعوامل البشرية

٢- رتَّب المُحافظةِ تنازلياً مِنْ حيثُ الكثافةُ السُّكَّانيَّةُ فيها.

مسقط / شمال الباطنة / جنوب الباطنة / مسندم / جنوب الشرقية / الداخلية / البريمي / شمال الشرقية / الظاهرة / ظفار / الوسطى

٣- علِّل ارتفاع الكثافة السُّكَّانيَّةِ في مُحافظةِ مسندم، مُقارنَةً بِمُحافظةِ الداخليةِ.

بسبب صغر حجم مساحة مسندم مقارنة بحجم مساحة محافظة الداخلية

• الأسئلة الموضوعية:

➤ اختر الإجابة الصحيحة من بين البدائل المعطاة:

اختبر
ذاكرتك

- 1- جميعها من العوامل البشرية المؤثرة على التوزيع الجغرافي لسكان العالم ما عدا :
أ-المناخ ب- الأنشطة الاقتصادية ج- الاستقرار السياسي د- الخدمات
- 2- العامل الطبيعي الذي يسهم في قلة تركيز السكان في ولاية الجبل الأخضر بمحافظة الداخلية :
أ- المناخ ب- التضاريس ج- المسطحات المائية د- جميع ما ذكر

• الأسئلة المقالية:

- 1- عرف الكثافة السكانية.

.....

- 2- ما النتيجة المترتبة على التركيز السكاني في منطقة معينة؟

.....

- 3- صنف العوامل المؤثرة في السكان بين القوسين حسب الجدول الآتي :
(المواليد ، المناخ ، الهجرة ، الأنشطة الاقتصادية ، الوفيات ، توفر الخدمات)

النمو السكاني	التوزيع الجغرافي للسكان

- 4- احسب الكثافة السكانية للمملكة العربية السعودية إذا علمت أن مساحتها تبلغ 2,250,000 كم² ، وعدد سكانها يبلغ 32,2 مليون نسمة في عام 2022م.

.....

.....

.....

.....

الوحدة الثانية

الدولة الأموية

1

المحتويات

علاقة عُمان بالدولة
الأموية

2

منجزات عُمانية في
عصر الدولة الأموية

3



4 / اختبار
ذاكرتك

الدرس الأول / الدولة الأموية

قيام الدولة الأموية

- فسر: انتقال الحكم من الخلفاء الراشدين إلى الأمويين / أو قيام الدولة الأموية.
نتيجة خلافات حدثت بين عدة أطراف منها ما حدث بين الخليفة علي بن أبي طالب رضي الله عنه ومعاوية بن أبي سفيان الذي كان يمثل الأمويين، الأمر الذي أدى إلى مقتل الخليفة علي وتولي معاوية الحكم وقيام الدولة الأموية سنة (٤١ هـ).

✓ أوضاع المجتمع الإسلامي في نهاية الخلافة
الراشدة وبداية الدولة الأموية.

شهدت أوضاع المجتمع الإسلامي خلال هذه الفترة تغيرات كبيرة تلخصت في التغيرات السياسية حيث انتقلت السلطة من الخلافة من نظام الشورى إلى نظام ملكي وراثي وحدثت انقسامات اجتماعية حيث ظهر التفاوت والفروقات بين العرب وغيرهم من المسلمين الذين دخلوا الإسلام وتغيرات في النواحي الثقافية والإدارية حيث تم اعتماد اللغة العربية كلغة رسمية وتأسست الدواوين ساهم ذلك في تقوية التنظيم الإداري للدولة الإسلامية وإلى جانب الفتوحات التي ساهمت في التوسع الإسلامي وضم أراضي جديدة للدولة فأدى ذلك إلى تعدد ثقافته وتنوع المجتمع مع تطور الجيش وتنظيمه كما حدث تحولات دينية مع دخلوا أعداد كبيرة من غير المسلمين في الإسلام وظهرت تحديات في الحفاظ على الهوية الدينية والتوازن بين فئات المجتمع.

ناقش

- أثر الخلافات على استقرار الدول.

- 1 تفتت المجتمع
- 2 انقسامات داخلية
- 3 تدهور العلاقات الاجتماعية والاقتصادية
- 4 تهديد أمن الدولة ووحدتها

- قارن بين نظام الحكم في الخلافة الراشدة والدولة الأموية.

الدولة الاموية	الخلافة الراشدة
وراثي	الشورى

ما المقصود
بالحكم
الوراثي؟

هو أن يتولى الابن الأكبر
للحاكم أو أحد أقربائه
الحكم من بعده.

ابحث في
مصادر التعلم

بالاستعانة بالنظام الأساسي للدولة الصادر
بالمرسوم السلطاني ٦ / ٢٠٢١ م، تعرّف في الباب
الأول إلى نظام الحكم في سلطنة عُمان

- ✓ في أي باب من أبواب النظام الأساسي يتضمن
نوعية الحكم في سلطنة عُمان؟ وما نظام
الحكم؟

توسع الدولة الأموية

- حدد امتداد الدولة الأموية.

امتدَّت لتشملَ بلادَ السَّنْدِ وبلادَ ما وراءَ النَّهرِ شرقًا إلى المغربِ والأندلسِ غربًا



- ما النتيجة التي ترتبت على الفتوحات الإسلامية للدولة الأموية؟
انتشار الإسلام في المناطق المفتوحة
- من هو القائد المسلم الأموي الذي ساهم في الفتوحات الإسلامية وفتح بلاد ما وراء النهر؟
قتيبة بن مسلم الباهلي
- في أي قرن هجري فتح قتيبة بن مسلم بلاد ما وراء النهر؟
القرن الأول الهجري
- نافذة المعرفة
- حلل
- بالرجوع إلى (الشكل ١)، والاستعانة بالخرائط في نهاية الكتاب المدرسي، أجب عن الآتي:

قيمتنا :

نستلهم من حرص المسلمين على نشر الإسلام العزيمة والإصرار والثبات على المبادئ السمحة



الشكل (1)

- 1- ما أسماء الدول التي تمثل حاليًا بلادَ السندِ والأندلسِ؟
بلاد السند : باكستان / الأندلس : أسبانيا والبرتغال
- 2- أذكر القارات التي اتسعت فيها الدولة الأموية. آسيا / أفريقيا / أوروبا
- 3- ما اسم المضيق الذي عبّره المسلمون لفتح الأندلس؟
مضيق جبل طارق

استنتاج

دخل المسلمون مدينة سمرقند قبل أن يدعوا أهلها إلى الإسلام، فأرسل أهل المدينة وفدًا يشتمل على الخليفة عمر بن عبد العزيز، فأمر الخليفة بتعيين قاضي لينظر في أمر الشكوى، وحكم القاضي بخروج المسلمين من المدينة، وكانت دهشة أهل سمرقند كبيرة عندما خرج المسلمون تنفيذًا للحكم؛ مما جعلهم يعتنقون الإسلام.

(بتصرف: ابن الأثير، ١٩٩٧)

من خلال النص السابق، استنتج أسباب:

- 1- شكوى أهل سمرقند من المسلمين.
 - 2- اعتناق أهل سمرقند الإسلام.
- بسبب دخول المسلمين مدينة سمرقند قبل أن يدعوا أهلها إلى الإسلام
- بسبب سماحة الإسلام وعدالته

ناقش

أهمية توسع الدولة الأموية وامتدادها إلى مناطق مختلفة.

- ✓ نشر الإسلام حيث ساعد هذا التوسع على انتشاره وتأثيره على المناطق المفتوحة
- ✓ التطور الاقتصادي ساهمت الفتوحات في ازدياد الموارد الاقتصادية للدولة الإسلامية وزيادة المستوى المعيشي للأفراد والتبادل التجاري بين الدولة الأموية والولايات الإسلامية والدول المجاورة
- ✓ التطور العلمي والثقافي اهتمت الدولة الأموية بالعلم والثقافة حيث تم تعريب العلوم وتدوينها وإنشاء المدارس والمستشفيات
- ✓ التطور العمراني تأثرت الدولة الأموية بفن العمارة من الحضارات الأخرى كالبيزنطية
- ✓ الاستقرار السياسي حيث ساعد نظام الحكم الذي اتبعته الدولة الأموية وتعيين ولاية ذكفاءة على الأقاليم الإسلامية على تحقيق الاستقرار للدولة ونموها.

كان لهذا التوسع تأثير كبير في كثير من جوانب الحياة للدولة الأموية وساهم في بناء حضارة إسلامية مزدهرة

الإسهامات الحضارية في عصر الدولة الأموية

- عدد المجالات الحضارية التي أسهمت فيها الدولة الأموية.
الإدارية / العسكرية / الاقتصادية / الثقافية / العمرانية

- اذكر أمثلة على الإسهامات الحضارية في عصر الدولة الأموية في المجالات الآتية :
الإدارية / العسكرية / الاقتصادية / الثقافية / العمرانية

المجال	الإداري	العسكري	الاقتصادي	الثقافي	العمراني
أمثلة	استحداث دواوين جديدة وتعريبها مثل : ديوان البريد	إدخال آلات عسكرية في الحرب مثل : المنجنيق والدبابة	سك أول عملة نقدية باللغة العربية في عهد الخليفة عبد الملك بن مروان	ترجمة الكتب في المجالات العلمية المختلفة مثل : كتب الكيمياء والطب	تخطيط المدن مثل : مدينة القيروان وتشيد المساجد مثل : مسجد قبة الصخرة

- بالاستعانة بالصور التي أمامك استنتج المجال الذي أسهمت فيه الدولة الأموية :



قيمتنا

نعتز بالإسهامات الحضارية للمسلمين؛ لأنها جزء من ثقافتنا.

(من الإسهامات الحضارية التي تحققت في العصر الأموي تخطيط المدن)

أهمية تخطيط المدن لتنظيم الدولة في الوقت الحالي

يحقّق التنمية المستدامة ويحسن جودة الحياة ويعمل على تنظيم النمو السكاني ويعزز الاقتصاد المحلي وكما أنه يستجيب للتحديات البيئية ويحسن التنقل والاتصال ويعزز الأمن والاستقرار

اقترح

اختر أحد الإسهامات الحضارية في العصر الأموي، ثم أكمل: (للطالب الحرية في الاختيار والاقتراح)

المجال

• الثقافي

المنجز

• الكتب العلمية : الكيمياء والطب

مقترحات تطويره

- الاستثمار في مجال التعليم والتدريب
- التبادل الثقافي بين الشعوب المختلفة
- البحوث والدراسات
- إدخال التكنولوجيا الرقمية

ناقش

• أهمية تنوع الإسهامات الحضارية في العصر الأموي.

أدى هذا التنوع إلى :

- ✓ التكامل الثقافي والحضاري
- ✓ التطور العلمي والمعرفي
- ✓ النهضة العمرانية والفنية
- ✓ ازدهار الأدب واللغة
- ✓ التسامح الديني والثقافي
- ✓ التطور الاقتصادي والتجاري

نهاية الدولة الأموية

• أكمل البطاقة التعريفية عن الدولة الأموية في الجدول الآتي :

مدة حكمها	أكثر من 90 عاماً
السنة الهجرية لسقوطها	132هـ
عوامل أو أسباب سقوطها	1. ظهور الفرق المعارضة للحكم الأموي. 2. النزاع على الحكم بين أبناء البيت الأموي 3. اتساع الدولة وصعوبة الاتصال بين أجزائها
الدولة التي اسقطتها وحكمت بعدها	الدولة العباسية
المعركة التي هزم فيها الأمويين	معركة الزاب هزموا من قبل العباسيين

طبق

(عانتِ الدَّولةُ الأُمويَّةُ من صُعوبةِ الاتِّصالِ بين أجزائها).

في ضوءِ ذلك:

كيفَ استطاعتِ الدَّولُ في الوقتِ الحاليِّ التَّواصلَ مع المناطقِ البعيدةِ التَّابعةِ لها؟

عن طريقِ التطوُّر التكنولوجيِّ في مجالاتِ الاتِّصالِ والنقلِ كالأقمار الصناعيةِ والإنترنتِ عبر الأقمار الصناعيةِ والاتِّصالاتِ اللاسلكيةِ والطائراتِ وشبكاتِ النقلِ الحديثةِ

- تؤدي إلى الاستقرار السياسي والأمني
- تنمية الاقتصاد
- قوة الهوية الوطنية
- حماية الحقوق والحريات
- القدرة على مواجهة التحديات الخارجية

(تؤدي الخلافاتُ بين الدَّولِ إلى إضعافِها). في ضوءِ ذلك، شاركْ برأيك في أهميَّةِ المُحافظةِ على وَحدتِها



الدرس الأول /
الدولة الأموية

• الأسئلة الموضوعية:

• اختر الإجابة الصحيحة من بين البدائل المعطاة:

1- القائد الأموي الذي قاد الفتوحات الإسلامية إلى بلاد ما وراء النهر:

أ- معاوية بن أبي سفيان ب- عبد الملك بن مروان ج- قتيبة بن مسلم الباهلي د- علي بن أبي طالب

2- العام الهجري الذي سقطت فيه الدولة الأموية:

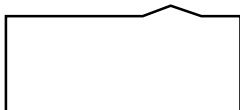
أ- 131 ب- 132 ج- 134 د- 135

• الأسئلة المقالية:

1- عرف الحكم الوراثي.

.....
.....

2- استنتج من الصورتين الآتيتين اسم المنجز التابع للدولة الأموية:



3- صنف المنجزات الآتية بما يناسبها في الجدول الآتي:

(الدبابة - العملة النقدية - تخطيط المدن - ديوان البريد - ترجمة الكتب - تشييد المساجد)

المنجز	المجال
	الإداري
	العسكري
	الاقتصادي
	الثقافي
	العمراني

الدرس الثاني / علاقة عُمان بالدولة الأموية



بالوحدة الوطنية
صيانتها الأرض
وحمائتها والدفاع
عن سيادة الوطن

«لقد حافظت بلادنا العزيرة على كينونتها كدولة مستقلة ذات سيادة عبر العصور، وقد تعاقبت عليها أنماط حكم عديدة، أدّى كل منها دورة الحضاري وأمانته التاريخية. وإننا نستذكر في هذا اليوم الأغر قادة عُمان الأفاضل على مر التاريخ: قادة حملوا راية هذا الوطن، ووحدوا أمته، وصانوا أرضه الطاهرة، ودافعوا عن سيادته، ونحملها من بعدهم على الطريق ذاته، معاهدين الله عز وجل ألا يثنينا عن عزمنا عزماً، ولا تشغلنا عن مصلحة وطننا مصلحة، تعضدنا في ذلك أمة مباركة -بفضل الله- مشرفة يدعنا نبيه الكريم».

من خطاب حضرة صاحب الجلالة السلطان هيثم بن طارق المعظم -حفظه الله ورعاه-، يناير ٢٠٢٥م-

بعد قراءتك لخطاب حضرة صاحب الجلالة السلطان هيثم بن طارق -حفظه الله ورعاه-، وضح أهم المبادئ التي تحلى بها العُمانيون عبر تاريخهم.

عُمان في بداية حكم الدولة الأموية

- صف موقف عُمان مع بداية حكم الدولة الأموية. سعت عُمان لتجنب الدخول في تلك الصراعات، إلا أنها لم تتمكن من ذلك؛ فقامت بعض القوى الخارجية بمحاولات للسيطرة على عُمان، الأمر الذي دفع بأهل عُمان إلى أن يهربوا للدفاع عن أمن بلادهم واستقلالها ضد هجمات القوى الخارجية.
- ما الحدث التاريخي الذي حدث لعُمان في العام الهجري 69 ؟ تعرضت عُمان لهجوم من قبل النجدات وهي فرقة معارضة للأمويين وانتهت المعركة باستشهاد ملك عُمان عباد بن عبد بن الجلندی

ندافع عن وطننا ضد كل خطر يهدده.

قيمتنا

أسباب عدم رغبة العُمانيين في أن تكون عُمان تابعة للدولة الأموية.

الاستقلال القبلي والديني / الهوية العمانية المستقلة / السيطرة الأموية الصارمة / التوترات السياسية والاقتصادية / الثورات والانتفاضات

محاولات الدولة الأموية للسيطرة على عُمان

- ما الميزة التي امتازت بها عُمان كدولة قبل الإسلام؟
دولة لها مكانة ومستقلة سياسياً عما يجاورها
- علل: لَم تكن للدولة الأموية في بداية عهدها أطماعٌ سياسيَّة في السيطرة على عُمان .
نظراً للبعد الجغرافي بين العاصمة دمشق وعُمان
- لحد أي سنة هجرية استمر فيها حكم آل الجلندی لعُمان بقيادة سعيد وسليمان ابني عباد بن عبد بن الجلندی؟
81 هـ
- (كان سعيد وسليمان ابني عباد بن عبد بن الجلندی يساعدان أباهما في الحكم) من خلال العبارة الآتية :
ما المهمة التي أوكلت إليهما ؟
أخذ الضريبة على السفن التي تصل سواحل عُمان
- ما اسم الوالي الأموي الذي تم تعيينه من قبل الدولة الأموية على العراق؟
الحجاج بن يوسف الثقفي
- ما الدور الذي لعبه الحجاج بن يوسف الثقفي إخضاع عُمان تحت سيطرة الدولة الأموية؟
قام بمحاولات + أرسل حملات عسكرية متعددة
- ما النتائج التي ترتبت على المحاولات والحملات العسكرية على عُمان؟
✓ إنهاء حكم آل الجلندی في عُمان
✓ أصبحت عُمان جزءاً من الدولة الأموية



الشكل (٣) خريطة موقع عُمان بالنسبة للدولة الأموية.

- أمامك خريطة توضح موقع عُمان بالنسبة للدولة الأموية بالاستعانة بمفتاح الخريطة استخراج عاصمة كل من : (عُمان / الدولة الأموية)
عُمان : صحار
الدولة الأموية : دمشق

أمامك خريطة توضح محاولات حملات الحجاج البرية والبحرية للسيطرة على عُمان بالاستعانة بمفتاح الخريطة استخراج ما يلي :
كم عدد الحملات البرية والبحرية ؟

البرية : حملة واحدة
البحرية : 4 حملات



الشكل (٤) خريطة محاولات حملات الحجاج البرية والبحرية للسيطرة على عُمان.

من هو سليمان بن عباد بن عبد الجندى؟

- كان قائداً للجيش العُمانيّة التي تصدّت للجيش الأمويّ الذي يقوده القاسم بن شعوة، واستطاع الانتصار عليهم

المقومات التي ساعدت العُمانيين على استقلال بلادهم بداية عصر الدولة الأموية

استنتج

- ✓ **البعد الجغرافي:** بعد عمان عن مركز الحكم الأموي في دمشق ساعد في تقليل تأثير السلطة المركزية على المنطقة.
- ✓ **الاستقلال الإداري:** العُمانيون حافظوا على استقلالهم الإداري تحت حكم آل الجلندي، ولم يعلنوا صراحة عن نزعة انفصالية في خلافة معاوية بن أبي سفيان.
- ✓ **المعارضة السياسية:** العُمانيون كونوا رأياً سياسياً مخالفاً لما قامت عليه خلافة بني أمية، مما ساعدهم على الاستقلال التام منذ سنة 37هـ.
- ✓ **المقاومة العسكرية:** العُمانيون قاوموا الحملات العسكرية التي أرسلها الحجاج بن يوسف الثقفي لإخضاع عمان للسيطرة الأموية، مما أدى إلى اندحار تلك الحملات.

شارك برأيك

1

أسند عبّاد بن عبّيد لابنيه عدداً من المهام في إدارة عُمان. في ضوء ذلك، شارك برأيك في أهمية مشاركة الأبناء لأولياء أمورهم في تنفيذ بعض المهام.

تنمية المسؤولية / تعزيز الروابط الأسرية / اكتساب الخبرات والمهارات / التنشئة الاجتماعية / تشجيع الاستقلالية

2

علامة يدل انتصار العُمانيين على معظم الحملات التي أرسلها الحجاج بن يوسف الثقفي للسيطرة على عُمان؟

الشجاعة والمقاومة / القيادة الحكيمة / التكتيكات العسكرية / الوحدة الوطنية / الخبرة وخاصة بالمجال البحري

بالاستعانة برمز الاستجابة السريعة، لخص قصة تصدّي العُمانيين لجيوش الأمويين في البحر.

عرض فيديو على الطلبة

لخص
هنا

استنتج

أدرُس الخَريطينِ اللَّتينِ أَمَامَكَ، ثُمَّ استنتِج:



١. سبب إصرار الدولة الأموية على حكم عُمان.

الموقع الجغرافي المهم لعُمان الواقع على الطرق التجارية البحرية

٢. العوامل الجغرافية التي أسهمت في فشل بعض محاولات الأمويين للسيطرة على عُمان.

البعد الجغرافي / التضاريس الوعرة

ولاية الدولة الأموية على عُمان

قيمنا:

نفتخر
بشجاعة
العُمانيين في
الدِّفاع عن
بلادهم

• اذكر أسماء بعض الولاة الذين عينتهم الدولة الأموية على عُمان.

1- صالح بن عبد الرحمن الليثي

2- عمر بن عبد الله الأنصاري

3- زياد بن المهلب الأزدي

• ما اسم الشخصية العمانية التي عينتها الدولة الأموية على عُمان في أواخر حكمها؟

زياد بن المهلب الأزدي

ناقش

أسباب وجود ولاية في مدين عُمان وقراها
يتبعون الوالي المعين من قبل الدولة الأموية.

بسبب مساحة عمان / تنوع
التضاريس / تعدد القبائل

لذلك كان صعب على ولاية الأمويين
حكمها واحتاجت لولاية في مدن عمان
لمساعدة الوالي

ابحث

ابحث عن الدور الإيجابي الذي قام به
زياد بن المهلب الأزدي بصفته واليًا مسؤولًا عن
عُمان في فترة الحكم الأموي

- **تعزيز الأمن والاستقرار:** زياد بن المهلب عمل على تعزيز الأمن والاستقرار في عمان، مما ساعد في حماية المنطقة من التهديدات الخارجية والداخلية.
- **التنمية الاقتصادية:** قام بتطوير البنية التحتية وتعزيز التجارة، مما ساهم في تحسين الوضع الاقتصادي لعمان.
- **مكافحة الخوارج:** زياد بن المهلب كان له دور كبير في مكافحة الخوارج الأزارقة، مما ساعد في استقرار الدولة الأموية.
- **تعزيز العلاقات مع الدولة الأموية:** زياد بن المهلب حافظ على علاقات جيدة مع الخلافة الأموية، مما ساعد في تعزيز مكانة عمان داخل الدولة الأموية.

قيمنا

نعتر بالموافق
التاريخية لعمان
المرتبطة بالحفاظ
على الوحدة

طبق يترك للطلبة
حرية تصميم الخريطة
الذهنية كملخص
للدروس باستخدام أحد
البرامج الحاسوبية

- صف التنظيم الإداري لعمان في ظل حكم الولاية التابعين للدولة الأموية.

الوالي المعين من قبل الدولة الأموية يقوم بالإشراف من
على مجموعة من الولاية يديرون مدين عمان وقراها.

- وضع موقف عمان من حكم الدولة الأموية.
كان يعتمد على طبيعة إدارة العمال فكان
العمانيون عندما يتعرضون للإساءة من قبل
بعض ولاية الدولة الأموية يكتبون رسائل إلى
حكامها يشكون من تعاملهم ويطالبون
بتغييرهم.

- في أي عام هجري سقطت الدولة الأموية؟
132هـ

الربط مع الحياة

لو تعرضت للإساءة من قبل أحد زملائك في
الصف؛ ما التصرف الصحيح الذي ستقوم به
إزاء هذا الموقف؟

تحكيم المشاعر / الابتعاد عن الموقف

الإبلاغ عن الإساءة / التحدث مع الزميل
طلب دعم الأصدقاء أو العائلة / الحفاظ
على السلامة الشخصية.

أسباب تقبل العمانيين للوالي العماني
مقارنة بالوالي الأموي.

ناقش

الانتماء المحلي / التواصل المباشر مع
السكان / الثقة والاحترام / الاستقلالية
في اتخاذ القرارات التي تخدم مصلحة
المنطقة / التفاعل الاجتماعي

الدرس الثاني /
علاقة عُمان بالدولة الأموية

• الأسئلة الموضوعية:

• اختر الإجابة الصحيحة من بين البدائل المعطاة:

1- الشخصية العمانية التي استشهدت في الهجوم الذي تعرضت له عُمان من قبل فرقة النجدات:

أ- عبد بن الجلندی

ب- سليمان بن عباد بن عبد

ج- عباد بن عبد بن الجلندی

د- سعيد بن عباد بن عبد

2- كان والياً للأمويين على عُمان في أواخر حكم الدولة الأموية:

أ- زياد بن المهلب الأزدي

ب- صالح بن عبد الرحمن الليثي

ج- عمر بن عبدالله الأنصاري

د- الحجاج بن يوسف الثقفي

• الأسئلة المقالية:

1- ما المجال الذي اشتهرت به الشخصية العمانية زياد بن المهلب الأزدي في العصر الأموي؟

2- ارسم خط سير للحملات التي أرسلها الحجاج بن يوسف الثقفي للسيطرة على عُمان.



3- ما النتيجة المترتبة على ظهور فرق معارضة للحكم الأموي؟

الدرس الثالث / منجزات عُمان في عصر الدولة الأموية



ما البرنامج الذي أدرجت فيه الشخصيات العُمانية؟ وما دلالة ذلك؟

إدراج هذه الشخصيات في برنامج اليونسكو يعكس الاعتراف الدولي بإسهاماتهم الكبيرة في مجالاتهم المختلفة وتأثيرهم الإيجابي على الحضارة الإنسانية. كما يعزز هذا الإدراج من مكانة سلطنة عمان على الساحة العالمية ويبرز دورها في إثراء المعرفة والثقافة

- عدد المجالات التي أسهم فيها العمانيون بمنجزاتهم في العصر الأموي.

1. المجال الثقافي
2. المجال العسكري
3. المجال الاقتصادي

أولاً / المجال الثقافي :

- اذكر أبرز العلوم التي أسهم فيها العمانيون.

- ✓ علوم الشريعة
- ✓ علوم اللغة العربية

- أكمل الجدول الآتي:

الشخصية	جابر بن زيد	كعب بن معدان
المجال الثقافي	علوم الشريعة	علوم اللغة العربية
المنجز	علم الفقه (الديوان)	علم الشعر والخطابة

• اكمل المخطط الآتي:

علوم القرآن والسنة النبوية

علوم الشريعة الإسلامية

العقيدة والفقه

شخصية
عُمانية

منجز عُماني

- أكمل البطاقة التعريفية عن الشخصية العمانية هند بنت المهلب بن أبي صفرة
- ✓ القرن الذي اشتهرت فيه : الأول الهجري
- ✓ صفاتها : حكيمة ومحدثة
- ✓ مصادر علمها : أبوها / الإمام جابر بن زيد

- ما اسم الشخصية العُمانية التي تم إدراجها في عام 2005م في برنامج اليونسكو كإحدى الشخصيات المؤثرة عالمياً؟
- الخليل بن أحمد الفراهيدي
- علل: إدراج شخصية الخليل بن أحمد الفراهيدي في برنامج اليونسكو.
- نظراً لإسهاماته في اللغة العربية

ناقش

أسباب اهتمام العلماء العُمانيين الأوائل بعلوم الشريعة الإسلامية واللغة العربية.

حلل

ادرس النصّ الآتي، ثمّ أجب عن الأسئلة التي تليهِ:

«لَقَدْ اكْتَشَفَ الْخَلِيلُ بْنُ أَحْمَدَ الْفَرَاهِيدِيُّ عِلْمَ الْعَرُوضِ صُدْفَةً حِينَ مَرَّ فِي سَوَاقِ الصَّفَّارِينَ، وَسَمِعَ أَصْوَاتَ مَطَارِقِهِمْ عَلَى الْأَوْعِيَةِ، وَصَدَفَ أَنْ تَوَافَقَتْ طَرَقَاتُ أَحَدِ الصَّفَّارِينَ وَانْتَضَمَتْ، فَتَنَّبَهُ إِلَيْهَا، ثُمَّ عَادَ مِنْ فُورِهِ إِلَى مَنْزِلِهِ، وَأَحْضَرَ طَبَلًا وَعَصَا يَنْقُرُ بِهَا، حَتَّى وَقَعَ إِيْقَاعًا

يُمَاثِلُ وَزْنَ أَحَدِ بَحُورِ الشَّعْرِ، فَجَعَلَ يَنْوَعُ فِي النَقَرَاتِ

عَدَدًا وَطَوَلًا أَوْ قِصَرًا وَتَكَرَّرًا، حَتَّى اسْتَوَتْ لَدَيْهِ». (الجبر، ٢٠٢٢)

1- ما الفكرة التي يقوم عليها عِلْمُ الْعَرُوضِ؟ دراسة أوزان الشعر العربي وتصنيفها إلى بحور، وتنظيم الأوزان الشعرية وقواعدها لضبط الشعر وتجنب الأخطاء.

2- كيف اكتشف الخليل بن أحمد الفراهيدي عِلْمَ الْعَرُوضِ؟

صُدْفَةً حِينَ مَرَّ فِي سَوَاقِ الصَّفَّارِينَ، وَسَمِعَ أَصْوَاتَ مَطَارِقِهِمْ عَلَى الْأَوْعِيَةِ، وَصَدَفَ أَنْ تَوَافَقَتْ طَرَقَاتُ أَحَدِ الصَّفَّارِينَ وَانْتَضَمَتْ، فَتَنَّبَهُ إِلَيْهَا، ثُمَّ عَادَ مِنْ فُورِهِ إِلَى مَنْزِلِهِ، وَأَحْضَرَ طَبَلًا وَعَصَا يَنْقُرُ بِهَا، حَتَّى وَقَعَ إِيْقَاعًا يُمَاثِلُ وَزْنَ أَحَدِ بَحُورِ الشَّعْرِ، فَجَعَلَ يَنْوَعُ فِي النَقَرَاتِ عَدَدًا وَطَوَلًا أَوْ قِصَرًا وَتَكَرَّرًا، حَتَّى اسْتَوَتْ لَدَيْهِ .

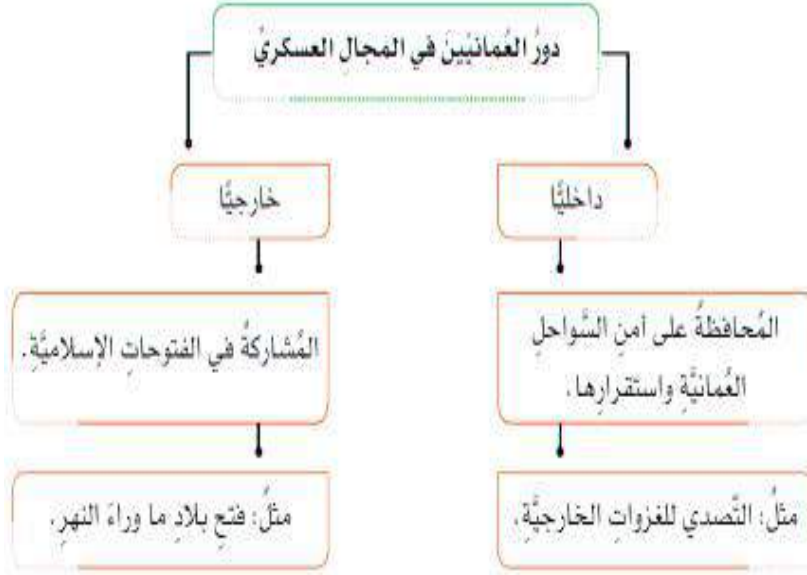


ثانياً / المجال العسكري

- صنف دور العمانيين في المجال العسكري في العصر الأموي.

✓ داخلي

✓ خارجي



- أعط مثال على منجز عسكري للعمانيين في العصر الأموي داخلياً.
المحافظة على أمن السواحل العمانية واستقرارها من خلال التصدي للغزوات الخارجية.
- أعط مثال على منجز عسكري للعمانيين في العصر الأموي خارجياً.
المشاركة في الفتوحات الإسلامية من خلال فتح بلاد ما وراء النهر.

ناقش

أسباب إسناد الأمويين بعض المهام العسكرية للعمانيين

- ✓ **الكفاءة العسكرية:** العمانيون كانوا معروفين بمهاراتهم العسكرية العالية وشجاعتهم في المعارك، مما جعلهم خياراً مناسباً لتنفيذ المهام العسكرية.
- ✓ **الولاء:** العمانيون كانوا يتمتعون بولاء قوي للدولة الأموية، مما جعل الأمويين يثقون بهم في تنفيذ المهام العسكرية.
- ✓ **الموقع الجغرافي:** عمان كانت تتمتع بموقع استراتيجي مهم على الساحل، مما جعلها قاعدة مناسبة لتنفيذ العمليات العسكرية البحرية.
- ✓ **التجربة البحرية:** العمانيون كانوا يمتلكون خبرة واسعة في الملاحة البحرية، مما جعلهم مؤهلين لتنفيذ المهام العسكرية البحرية بكفاءة.

قيمتنا

نؤمن بأهمية الجيوش في الحفاظ على أمن الدول واستقرارها

من هو المهلب بن أبي صفرة؟



- ولأه الأمويون ولاية خراسان، وقام بفتوحات واسعة في بلاد ما وراء النهر.

استنتاج

أُدْرُس النصَّ الَّذِي أَمَامَكَ، ثُمَّ استنتج:

قَادَ يَزِيدُ بْنُ الْمَهْلَبِ الْأَزْدِيُّ الْعُمَانِيَّ سَنَةَ (٨٩ هـ) حَمْلَةً لِفَتْحِ جَرْجَانَ (مَدِينَةً فِي إِيرَانَ)، وَكَانَ فِي جَيْشِهِ عَدَدٌ كَبِيرٌ مِنَ الْأَزْدِ الْعُمَانِيِّينَ، وَبَعْدَ فَتْحِهَا بَنَوْا سُورَهَا، وَقُرَابَةً (٤٠) مَسْجِدًا.

(بتصرفٍ: السَّهْمِيُّ، ١٩٨٧).

١. الإنجازات التي حقَّقتها العُمانيُّون في جرجان.

- **فتح مدينة جرجان:** قاد يزيد بن المهلب حملةً ناجحة لفتح المدينة.
- **بناء سور للمدينة:** بعد فتح جرجان، قام العُمانيُّون ببناء سور لحماية المدينة.
- **بناء المساجد:** بنى الجيش حوالي ٤٠ مسجدًا في المدينة بعد فتحها.

٢. دلالة الإنجازات التي حقَّقتها العُمانيُّون.

- **الإستراتيجية العسكرية:** تدل هذه الإنجازات على الكفاءة والقدرة العسكرية للعُمانيِّين في تحقيق الأهداف الاستراتيجية.
- **التأثير الثقافي والديني:** بناء المساجد يعكس تأثير الإسلام وانتشاره في المنطقة، ويبرز دور العُمانيِّين في نشر الدين والثقافة الإسلامية.
- **الإستقرار والسيطرة:** بناء السور يدل على أهمية حماية المدينة وتأمينها، مما يعكس نظرة العُمانيِّين للتأمين والإستقرار بعد الفتوحات.

شارك برأيك

تعتمدُ الدُّولُ في الوقتِ الحاليٍّ على الجيوشِ العسكريَّةِ البحريَّةِ والجوِّيَّةِ والبرِّيَّةِ للحفاظِ على أَمْنِهَا واستقرارِهَا. من وجهةِ نظركَ، أيُّ أنواعِ الجيوشِ العسكريَّةِ الواردةِ في العبارةِ السَّابِقَةِ أَهَمُّ في الحفاظِ على أَمْنِ الدُّولِ؟ ولماذا؟

الجيوش العسكرية الثلاثة / لأن الأنواع الثلاثة ترتبط بينهم علاقة تكامل كل جيش يكمل الآخر والتهديدات لأي دولة قد تأتي من الجهات الثلاث البرية والبحرية والجوية لذا وجب على الدول أن تكون على أتم الجاهزية للرد على الأخطار من جميع التهديدات للجهات الثلاث

ثالثاً / المجال الاقتصادي :

- عدد المناطق البعيدة التي استطاع العمانيون الوصول إليها في العصر الأموي.

1- سواحل أفريقيا

2- الهند

3- الصين

- فسر ما يلي :

(1) استطاع العمانيون الوصول إلى مناطق بعيدة كسواحل أفريقيا والهند والصين.

(2) لأن عُمان كانت معبراً تجارياً بين الخليج العربي والمحيط الهندي
صدر أول عملة نقدية من دار سك النقود في عُمان سنة (81 هـ).
نظراً لأهمية عُمان الاقتصادية.

أول عملة نقدية من دار سك النقود في عُمان سنة (81 هـ) في العصر الأموي

- ما السبب الذي أدى إلى انتشار الإسلام في المناطق التي وصل إليها التجار العمانيون؟
انصاف التجار العمانيون بالأخلاق الحميدة

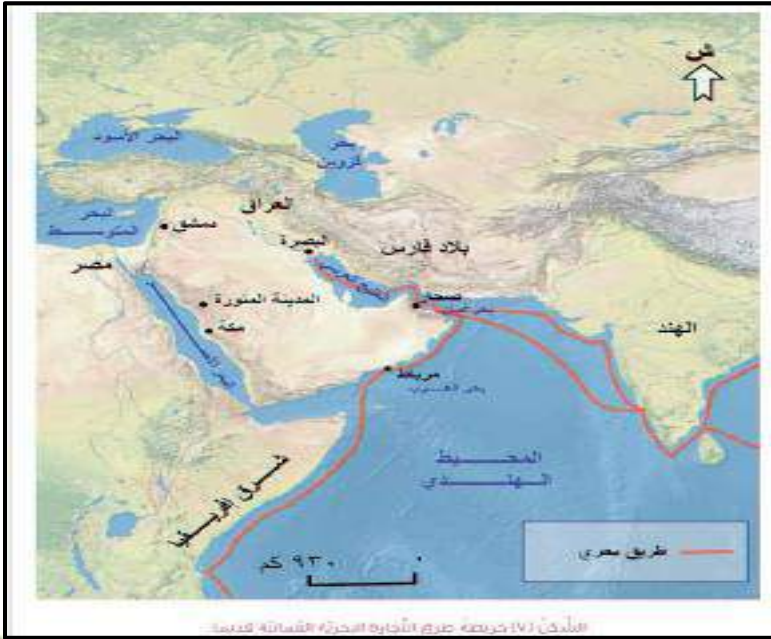
- ادرس خريطة طرق التجارة البحرية العمانية قديماً ثم استخرج ما يلي :

(1) المناطق التي ربطت عمان بعلاقات تجارية.

الهند / شرق أفريقيا / العراق

(2) المسطحات المائية التي تطل عليها عُمان .

المحيط الهندي / الخليج العربي / بحر
عمان / بحر العرب



لخص

بالاستعانة برمز الاستجابة
السريعة في الكتاب المدرسي
ص 77 الذي يوضح دور عُمان
البحري عبر التاريخ، لخص
الأسباب التي ساعدت العُمانيين
في الوصول إلى مناطق بعيدة
عبر البحار.

الموقع الجغرافي / المهارة البحرية
/ المهارات التجارية / العلاقات
السياسية / الروح الاستكشافية

قارن

جاء اقتناء سفينة شباب عُمان في بداية عصر النهضة المباركة لتكون بمثابة سفير متنقل يجوب بحار العالم حاملاً راية السلام والتواصل بين الشعوب.

في ضوء العبارة السابقة، قارن بين دور عُمان البحري في التاريخ الإسلامي والوقت الحالي.

دور عمان البحري في الوقت الحالي	دور عمان البحري في التاريخ الإسلامي
<ul style="list-style-type: none"> • شباب عمان: تمثل سفينة "شباب عمان" رمزاً للسلام والتواصل الثقافي بين الشعوب، حيث تقوم برحلات دبلوماسية وثقافية إلى مختلف أنحاء العالم. • التجارة الحديثة: تستمر عُمان في لعب دور مهم في التجارة البحرية الحديثة عبر موانئها المتطورة مثل ميناء صلالة وميناء صحار، مما يسهم في الاقتصاد الوطني. • التبادل الثقافي: تعمل عُمان على تعزيز التبادل الثقافي والفكري من خلال مشاركتها في الفعاليات البحرية والدولية، مما يعزز من صورتها كدولة سلمية ومتعاونة. • الحفاظ على التراث: تسعى عُمان للحفاظ على تراثها البحري الغني من خلال الفعاليات البحرية والتعليمية التي تهدف إلى نقل المعرفة للأجيال الصاعدة. 	<ul style="list-style-type: none"> • التجارة البحرية: في التاريخ الإسلامي، كان العُمانيون تجاراً بارعين، يسيطرون على تجارة البخور والتوابل والذهب بين الشرق الأوسط والهند وشرق أفريقيا. • الاستكشاف: قام البحارة العُمانيون برحلات استكشافية واسعة نحو سواحل أفريقيا والهند وحتى جنوب شرق آسيا. • العلاقات الدولية: أنشأ العُمانيون علاقات تجارية وثقافية مع الشعوب الأخرى، مما ساهم في تبادل الثقافات والمعارف. • المهارة البحرية: كانت للسفن العُمانية شهرة واسعة بمتانتها وقدرتها على التحمل في البحار العميقة والعواصف.

قيمتنا

نعتزُّ بالشخصيات العُمانية، ومنجزاتها الحضارية المختلفة.

ما اسم البنك الذي يختص بحفظ أقدم العملات والقطع النقدية التي أدت إلى دور مهم في المجال الاقتصادي لعُمان؟

البنك الوطني العماني

الدرس الثالث /

منجزات عمانية في عصر الدولة الأموية

• الأسئلة الموضوعية:

• اختر الإجابة الصحيحة من بين البدائل المعطاة:

- 1- ألف الإمام جابر بن زيد كتابه الديوان في علم :
أ-الفقه ب- الخطابة ج- العقيدة د- الشعر
- 2- العام الهجري الذي صدرت فيه أول عملة نقدية في عمان:
أ- 80 ب- 81 ج- 83 د- 84

• الأسئلة المقالية:

1- عرف علوم الشريعة الإسلامية.

.....
.....

2- اعط دليلاً واحداً على ما يأتي:

أ-نبوغ الإمام جابر بن زيد في علوم الشريعة الإسلامية.

.....
.....

ب- مشاركة العمانيين في الفتوحات الإسلامية للدولة الأموية.

.....
.....

ج- اهتمام الدولة الأموية بالمجال العمراني.

.....
.....

3- ما المجال الذي اشتهرت به الشخصية العمانية كعب بن معدان في العصر الأموي؟

.....
.....

4- ما النتيجة المترتبة على اتصاف العمانيين بالأخلاق الحميدة في المناطق التي يصلون إليها؟

.....
.....

المحتويات

1

المشاركة
المجتمعية

2

مؤسسات المجتمع
المدني



3/ اختبار
ذاكرتك

الوحدة الثالثة



«يَتَقَيُّ لَنَا جَمِيعًا أَنْ نَعْمَلَ مِنْ أَجْلِ رِفْعَةِ هَذَا الْبَلَدِ
وإِعْلَاءِ شَأْنِهِ، وَأَنْ نَسِيرَ قُدَمًا نَحْوَ الْارْتِقَاءِ بِهِ إِلَى حَيَاةٍ
أَفْضَلٍ، وَلَنْ يَتَأَنَّى ذَلِكَ إِلَّا بِمُسَانِدَتِكُمْ وَتَعَاوُنِكُمْ وَتَضَافِيرِ
كُلِّ الْجُهِودِ لِلْوُصُولِ إِلَى هَذِهِ الْغَايَةِ الْوُطَنِيَّةِ الْعُظْمَى،
وَأَنْ تُقَدِّمُوا كُلُّ مَا يُسَهِّمُ فِي إِثْرَاءِ جُهِودِ التَّطَوُّرِ وَالتَّقْدِيمِ
وَالثَّمَاءِ».



مِنْ خُطَابِ حَضْرَةِ صَاحِبِ الْجَلَالَةِ السُّلْطَانِ هَيْثَمِ بْنِ طَارِقِ الْمُعَظَّمِ
- حَفْظَةُ اللَّهِ وَرِعَاةُ -، ١١ يَنَآيِرَ ٢٠٢٠م.

عن طريق
المساندة والتعاون
وتضافر كافة
الجهود للوصول
لرفعة الوطن
وإعلاء شأنه
والارتقاء به إلى
حياة أفضل

كَيْفَ يُسَهِّمُ فِي رِفْعَةِ الْوُطَنِ وَالْارْتِقَاءِ بِهِ، كَمَا أَشَارَ إِلَيْهِ حَضْرَةُ صَاحِبِ
الْجَلَالَةِ السُّلْطَانِ هَيْثَمِ بْنِ طَارِقِ - حَفْظَةُ اللَّهِ وَرِعَاةُ - فِي خُطَابِهِ؟

- ما المقصود السبلة ؟
- مكان يلتقي فيه العمانيين للتشاور في أمور حياتهم ومعالجة القضايا المجتمعية.
- كيف جسدت الحكومة معنى المشاركة المجتمعية؟
- عن طريق لقاءات السلطان قابوس بن سعيد -طيب الله ثراه - ثم حضرة صاحب الجلالة السلطان هيثم بن طارق - حفظة الله ورعاه - مع عدد من أعضاء الحكومة بالمواطنين في مختلف محافظات سلطنة عمان.

استنتج المقصودَ بالمُشاركةِ المُجتمعيَّةِ.

الأنشطة والمبادرات التي يقوم بها الأفراد
والجماعات داخل المجتمع بهدف تحسين
جودة الحياة وتلبية احتياجات المجتمع.

استنتج



جانب من المشاركة المجتمعية

الربط مع الحياة

أَجْرٍ مُقَابَلَةً مَعَ أَحَدِ أَفْرَادِ عَائِلَتِكَ، وَتَعَرَّفَ أَهَمَّ اسْتِخْدَامَاتِ السَّبِيلَةِ فِي الْمُجْتَمَعِ الْعُمَانِيِّ، ثُمَّ شَارِكْ زَمَلَاءَكَ فِي الصَّفِّ مَا تَوَصَّلْتَ إِلَيْهِ.

التواصل الاجتماعي / التشاور وحل المشكلات / التعليم والتثقيف / الاحتفالات والمناسبات / استقبال الضيوف

أشكال المشاركة المجتمعية

• عدد بعض أشكال المشاركة المجتمعية.

عمل يقوم به فرد أو جماعة
لخدمة المجتمع دون مقابل

• ما المقصود بالعمل التطوعي؟

قيمتنا

نحرص على المشاركة المجتمعية بكل أشكالها.



ناقش

أهمية مشاركة المواطن في الانتخابات بأشكالها المختلفة.

- **تعزيز الديمقراطية:** شارك المواطنين في الانتخابات يعزز من الديمقراطية، حيث يمثل صوتهم جزءاً من عملية صنع القرار الحكومي.
- **تمثيل الجميع:** يضمن مشاركة أكبر عدد من المواطنين في الانتخابات تمثيل أوسع وأدق لجميع الفئات والمجموعات في المجتمع.
- **المساءلة:** عندما يشارك المواطنون في الانتخابات، يمكنهم محاسبة المسؤولين المنتخبين ومطالبتهم بتحقيق الوعود الانتخابية.
- **تحقيق التغيير:** من خلال المشاركة في الانتخابات، يمكن للمواطنين تحقيق التغيير الذي يرونه ضرورياً لتحسين حياتهم ومجتمعهم.
- **الوعي السياسي:** مشاركة المواطنين في الانتخابات تعزز من وعيهم السياسي وتفهمهم للقضايا الهامة التي تؤثر على حياتهم اليومية.
- **الاستقرار الاجتماعي:** تؤدي المشاركة النشطة في الانتخابات إلى تعزيز الاستقرار الاجتماعي، حيث يشعر المواطنون بأنهم جزء من عملية صنع القرار ويؤثرون في مستقبل بلدهم.

بالتعبير عن الرأي: اجعل الطلبة كونهم أفراد في المجتمع يقدمون أمثلة للأعمال التطوعية المتنوعة التي يمكنهم القيام بها لخدمة المجتمع

أ. صنف الأعمال الآتية حسب أشكال المشاركة المجتمعية:



الانتخابات



العمل التطوعي



المناسبات الوطنية

ب. ما دورك في هذه الأعمال؟

- الاحتفال بالمناسبات الوطنية والمشاركة في الفعاليات الثقافية والتراثية.
- العمل التطوعي الانضمام إلى حملات التوعية الصحية، حملات تنظيف الأحياء، والمشاركة في الأنشطة الخيرية.
- الانتخابات التسجيل للتصويت والمشاركة في صنع القرار السياسي من خلال التصويت في الانتخابات المحلية والوطنية.

الربط مع الحياة

(يُعدُّ مجلسُ أولياء أمور الطلبة أحد أشكال المشاركة المجتمعية) ما الأدوار التي يقوم بها؟
تواصل مع المدرسة / دعم الأنشطة المدرسية / تقديم الدعم المادي / مراقبة الأداء الأكاديمي / تعزيز الشراكة مع المجتمع المحلي / تقديم المشورة

أهمية المشاركة المجتمعية

- تُعد إحدى ركائز بناء الوطن وتطوُّره، ولها أهمية للفرد والمجتمع إلى ماذا تشير هذه العبارة؟
المشاركة المجتمعية
- اعط مثال على دور أفراد المجتمع العماني في تجسيد دور المشاركة المجتمعية وبناء الوطن وتطوُّره.
- المشاركة في إعداد رؤية عُمان 2040م

• أكمل الشكل الآتي:

نقدّر اهتمام
الحكومة بمشاركة
الأفراد في اتخاذ
القرارات.

قيمتنا

حل

أهمية المشاركة المجتمعية

- ① تعزيز الانتماء والولاء للوطن
- ② تقريب وجهات النظر بين الحكومة والمجتمع
- ② تحمل المسؤولية بين أفراد المجتمع
- ② شراكة المجتمع في القرارات الحكومية
- ⑤ تعزيز التعاون في المجتمع

«لقد حظيت رؤية عُمان ٢٠٤٠ بمشاركة مجتمعية واسعة، فقد شكّلت لجان الرؤية من ممثّلين عن الحكومة، ومجلس عُمان، والقطاع الخاص، ومؤسسات المجتمع المدني، والمواطنين من أهل الخبرة والمعرفة والاختصاص، وأطلق حوار مجتمعي بمشاركة واسعة من مختلف القطاعات والفعاليات وشرائح المجتمع».

رؤية عُمان ٢٠٤٠ (د.ت).

١. اذكر أمثلة على الجهات التي شاركت في إعداد الرؤية.

ممثّلين عن الحكومة، ومجلس عُمان، والقطاع الخاص، ومؤسسات المجتمع المدني، والمواطنين من أهل الخبرة والمعرفة والاختصاص

٢. ما دلالة مشاركة المواطنين في إعداد رؤية عُمان ٢٠٤٠؟

- تعزيز دور المواطنين في صنع القرار والمساهمة في تحقيق التنمية المستدامة.
- تشجيع الحوار المفتوح والشامل بين الحكومة والمجتمع لتعزيز الشفافية والمشاركة الفعالة.
- ضمان أن تعكس السياسات والاستراتيجيات الوطنية تطلعات واحتياجات المجتمع.
- إيجاد توازن بين مختلف القطاعات والفئات المجتمعية لضمان تحقيق التنمية المتكاملة.

يحرص العُمانيون على المشاركة المجتمعية خارج حدود الوطن، في ضوء ذلك أعط أمثلة توضّح ذلك. (مصادر التعلم)

الأعمال الإنسانية/ التبادل الثقافي/ التعليم والتدريب/ المبادرات البيئية/ التطوع الدولي

ابحث



✓ ملتنقى (معاً نتقدّم) ثمّ لخص الآتي:

١- أهمّ القضايا التي ناقشها الملتنقى.

سوق العمل والتشغيل/ قطاع التعليم/ القطاع الصحي/ التنمية الاجتماعية/ الإعلام والهوية الوطنية

٢- أهميّة اللقاءات بين المسؤولين في الحكومة والمواطنين

تعزيز الشفافية والثقة/ مشاركة المواطنين في صنع القرار/ الاستماع إلى تطلعات المواطنين/ تعزيز الشراكة المجتمعية

الدرس الأول /
المشاركة المجتمعية

✓ الأسئلة الموضوعية:

✓ اختر الإجابة الصحيحة من بين البدائل المعطاة:

1- مصطلح يقصد به عمل يقوم به فرد أ جماعة لخدمة المجتمع دون مقابل:

أ- المجتمع المدني ب- المشاركة المجتمعية ج- العمل التطوعي د- السبلة العمانية



2- الصورة المقابلة تمثل شكل من أشكال المشاركة المجتمعية:

أ- المناسبات الوطنية ب- العمل التطوعي
ج- الانتخابات د- مجلس أولياء الأمور

✓ الأسئلة المقالية:

1- عرف ما يأتي

أ- المشاركة المجتمعية.

.....
ب- العمل التطوعي.

2- صنف الأعمال الآتية حسب شكل المشاركة المجتمعية:

شكل المشاركة المجتمعية	الأعمال
	- تنظيم الأفلاج
	- اختيار رئيس لإحدى الجماعات الطلابية في المدرسة
	- تقديم إحدى الفقرات للاحتفال بالعيد الوطني
	- تنظيم فعالية التبرع بالدم

3- وضح دور كل من:

أ- السبلة العمانية في ترسيخ مفهوم المشاركة المجتمعية.

.....
.....

ب- المشاركة المجتمعية في تعزيز التعاون بين أفراد المجتمع.

.....

قَالَ اللَّهُ تَعَالَى:

﴿وَمَا تَقْدِمُوا أَنْفُسَكُمْ مِنْ خَيْرٍ تُجَدِّدُهُ عِنْدَ اللَّهِ هُوَ خَيْرٌ وَأَعْظَمُ أَخْرَاجاً﴾ (المزمل: ٢٠).

ما العمل الذي تدعو إليه الآية الكريمة؟ وهل توجد مؤسسات في المجتمع تنظم ذلك؟

الآية الكريمة تدعو إلى تقديم الخير والعمل الصالح الذي يعود بالفائدة ليس فقط على الفرد بل على المجتمع ككل / توجد في المجتمع مؤسسات عديدة تساعد على تحقيق الخير. يمكن أن تشمل هذه المؤسسات الجمعيات الخيرية، المنظمات غير الحكومية، والمبادرات المجتمعية.

مفهوم المجتمع المدني

- مؤسسات أو جمعيات (أهلية) غير حكومية، تعمل وفق قوانين الدولة، وتقدم خدمات لأفراد المجتمع دون مقابل.

ما المقصود
بالمجتمع المدني؟



- ما النتيجة التي ترتبت على تأكيد الإسلام على قيم التعاون وتقديم الخير للآخرين في مختلف المجالات؟
- اهتمام الأفراد بهذه القيم وتقديمهم للخير حتى تطور إلى إنشاء مؤسسات تعنى بتنظيمها.

- اذكر طريقة اهتم النظام الأساسي للدولة بتنظيم عمل مؤسسات المجتمع المدني.
- عن طريق وضع الأسس والقوانين التي يقوم عليها إنشاء الجمعيات والمؤسسات الأهلية.

قيمتنا

أهمية التعاون
والتكاتف بين
أفراد المجتمع

تعزيز الروابط الاجتماعية / تحقيق النجاح الاجتماعي / دعم الفئات الضعيفة / زيادة الإنتاجية والابداع / حل المشكلات / تعزيز الشعور بالانتماء

اقرأ نصَّ المرسوم السلطاني في تأسيس الجمعيات الأهلية، ثمَّ أجب:

«يُشترط في تأسيس الجمعية أن يكون لها نظام مكتوب موقع من المؤسسين الذين يجب ألا يقلَّ عددهم عن أربعين فردًا، ويتعين على الجمعية توفير مقر صالح لمباشرة نشاطها فيه، وذلك في خلال مدة لا تجاوز سنة من تاريخ إشهارها».

١. ما الشروط الواجب توفُّرها لتأسيس الجمعيات الأهلية؟

- ✓ يجب أن يكون للجمعية نظام مكتوب وموقع من المؤسسين.
- ✓ يجب أن لا يقل عدد المؤسسين عن أربعين فردًا.
- ✓ يتعين على الجمعية توفير مقر صالح لمباشرة نشاطها فيه خلال مدة لا تجاوز سنة من تاريخ إشهارها.

٢. استخرج من النص ما يُشير إلى العبارات الآتية:

- عقد بين مؤسسي الجمعية: " نظام مكتوب موقع من المؤسسين "
- مجموعة من الأفراد اتفقوا على تحقيق أهداف معينة للجمعية: " المؤسسين الذين يجب ألا يقلَّ عددهم عن أربعين فردًا " .

مؤسسات المجتمع المدني

- ما اسم الوزارة المختصة بالإشراف على مؤسسات المجتمعات المدني في سلطنة عُمان .

وزارة التنمية الاجتماعية

- علل: تنوع مؤسسات المجتمع المدني في سلطنة عُمان. حسب الخدمات التي تقدمها للمجتمع.


- عدد أهم الجمعيات والمؤسسات المدني في سلطنة عمان.

1. جمعية الأطفال ذوي الإعاقة
2. جمعية الرحمة لرعاية الأمومة والطفولة
3. جمعية دار العطاء
4. جمعية البيئة العمانية
5. الجمعية العمانية للكتاب والأدباء

✓ ادرس المخطط الآتي، ثم استخرج ما يلي:



أمامك شعار لأحدى جمعيات ومؤسسات المجتمع المدني ادرسه جيداً ثم أجب عما يلي:



✓ ما اسم الجمعية التي يمثلها الشعار؟

جمعية الأطفال ذوي الإعاقة

✓ ما الخدمة التي تقدمها هذه الجمعية؟

الرعاية الصحية

- الجمعية التي تقدم المساعدات الإنسانية (جمعية دار العطاء)
- من خدماتها رعاية الشباب (الجمعية العمانية للكتاب والأدباء)

منجز
عماني

- (تعدُّ جمعياتُ المرأةِ العُمانيَّةِ من مؤسساتِ المُجتمعِ المدنيِّ في سلطنةِ عُمانَ) من خلال العبارة الآتية:

✓ كم بلغ عدد جمعيات المرأة العمانية؟

أكثر من 50 جمعية

✓ ما الهدف من هذه الجمعيات؟

تهدفُ إلى تفعيلِ دورِ المرأةِ للإسهامِ في البناءِ والتَّنمِيَةِ المُجتمعيَّةِ.

✓ صنف مؤسسات المجتمع المدني الآتية بحسب الخدمة التي تقدّمها في جدول من تصميمك:
(الجمعية العُمانية للفنون التشكيلية - جمعية إحسان - الجمعية العُمانية للمياه - الجمعية العُمانية للسرطان - جمعية بهجة العُمانية للأيتام) .

الجمعية العُمانية للفنون التشكيلية	جمعية إحسان	الجمعية العُمانية للمياه	الجمعية العُمانية للسرطان	جمعية بهجة العُمانية للأيتام
رعاية الشباب	المساعدات الإنسانية	المحافظة على البيئة	الرعاية الصحية	الرعاية الاجتماعية

- ✓ جمعية الأطباء العمانية: تعمل على دعم الأطباء وتحسين الخدمات الطبية في المجتمع.
- ✓ جمعية الصيادين العمانية: تقدم الدعم للصيادين وتعزز النشاطات المتعلقة بالصيد البحري.
- ✓ جمعية أولياء الأمور والمعلمين: تهدف إلى تعزيز التواصل والتعاون بين المدارس وأولياء الأمور لتحسين التعليم.
- ✓ جمعية الكشافة العمانية: تعمل على تنمية مهارات الشباب وتعزيز الروح القيادية والانتماء الوطني.
- ✓ الجمعية العمانية للحقوق والحريات: تعمل على تعزيز حقوق الإنسان وحمايتها في السلطنة.
- ✓ جمعية المحامين العمانية: تقدم الدعم للمحامين وتعزز النظام القانوني في المجتمع.

ابحث

الخدمات

- التعليم والتطوير
- المشاريع التطوعية
- الدعم النفسي والاجتماعي
- تشجيع المواهب والابتكار
- الربط بالشركات والمؤسسات

✓ سم الجمعية:

"جمعية الشباب المبدع"

✓ شعار الجمعية:

"معًا لتحقيق الإبداع والتقدم"

اقترح

أهمية مؤسسات المجتمع المدني

قيمنا

نبادر إلى المشاركة في
مؤسسات المجتمع المدني؛
لخدمة مجتمعنا

• علل : أهمية مؤسسات المجتمع المدني.

1. تعزيز الشراكة بين الحكومة والمجتمع.
 2. تشجيع الأفراد على المشاركة في الأنشطة التي تخدم المجتمع.
 3. تطوير البنية التحتية.
 4. دعم مشاريع الشباب والأسر المنتجة.
- أكمل المخطط الآتي:



ناقش

دور مؤسسات المجتمع المدني في دعم مشاريع الشباب والأسر المنتجة

- ✓ **تعليم والتدريب:** توفر المؤسسات برامج تدريبية للشباب لتمكينهم من اكتساب المهارات اللازمة لإدارة مشاريعهم بنجاح. تشمل هذه البرامج تدريباً على ريادة الأعمال، والتسويق، والإدارة المالية، واستخدام التكنولوجيا الحديثة.
- ✓ **الدعم المالي:** تقدم المؤسسات منحاً وقروضاً صغيرة لدعم الشباب في بدء مشاريعهم الخاصة. هذا الدعم المالي يساعدهم على تخطي العقبات المالية والبدء في تنفيذ أفكارهم.
- ✓ **التوجيه والإرشاد:** توفر المؤسسات خدمات التوجيه والإرشاد لمساعدة الشباب في وضع خطط عمل ناجحة وتحقيق أهدافهم. يقوم المستشارون بمشاركة خبراتهم ونصائحهم لتوجيه الشباب نحو النجاح.
- ✓ **التسويق والترويج:** تسهم المؤسسات في تسويق منتجات الشباب والأسر المنتجة من خلال تنظيم معارض وفعاليات تروج لمنتجاتهم وتسهم في زيادة الوعي بها.
- ✓ **التشريعات والسياسات:** تعمل المؤسسات على دعم الشباب والأسر المنتجة من خلال الضغط لتحقيق تغييرات في التشريعات والسياسات التي تسهل بدء المشاريع وتطويرها.
- ✓ **الشراكات والتعاون:** تقوم المؤسسات بإنشاء شراكات مع القطاعين العام والخاص لتوفير الدعم اللازم للشباب والأسر المنتجة، مما يساهم في تحقيق التنمية المستدامة.

الدرس الثاني / مؤسسات المجتمع المدني

✓ الأسئلة الموضوعية:

✓ اختر الإجابة الصحيحة من بين البدائل المعطاة:

- 1- الوزارة المختصة بالإشراف على مؤسسات المجتمع المدني في سلطنة عُمان :
 - أ-وزارة الإسكان
 - ب- وزارة التربية والتعليم
 - ج- وزارة التراث والثقافة
 - د- وزارة التنمية الاجتماعية
- 2- جمعية من خدماتها تقديم المساعدات الإنسانية :
 - أ-جمعية الأطفال ذوي الإعاقة
 - ب- جمعية دار العطاء
 - ج- جمعية البيئة العمانية
 - د- جمعية الرحمة لرعاية الأمومة والطفولة

✓ الأسئلة المقالية:

- 1- عرف المجتمع المدني .

.....

.....

- 2- اكتب اسم الجهة المختصة بالأعمال الآتية:

الأعمال	الجهة المختصة
	الإشراف على مؤسسات المجتمع المدني وإشهارها
	تفعيل دور المرأة للإسهام في البناء والتنمية المجتمعية

اقترح / أفكار تدعم من خلالها مؤسسات المجتمع المدني **ص95**

التطوع والمشاركة / التبرعات المالية / التوعية والتثقيف / التعاون والشراكات / الدعم اللوجستي والتقني / الترويج والمناصرة / الشراكات مع القطاع الخاص

في كراستي
اجتهاد وإنجاز

نجوم التميز

مساحة تعزيز

