

## أسئلة الامتحان النهائي الرسمي الفترة الصباحية



### تم تحميل هذا الملف من موقع المناهج العمانية

موقع فايلاتي ⇨ المناهج العمانية ⇨ الصف السادس ⇨ اجتماعيات ⇨ الفصل الثاني ⇨ ملفات متنوعة ⇨ الملف

تاريخ إضافة الملف على موقع المناهج: 09:33:07 2025-06-03

ملفات اكتب للمعلم اكتب للطالب ا اختبارات الكترونية ا اختبارات ا حلول ا عروض بوربوينت ا أوراق عمل  
منهج انجليزي ا ملخصات وتقارير ا مذكرات وبنوك ا الامتحان النهائي للمدرس

المزيد من مادة  
اجتماعيات:

### التواصل الاجتماعي بحسب الصف السادس



صفحة المناهج  
العمانية على  
فيسبوك

الرياضيات

اللغة الانجليزية

اللغة العربية

التربية الاسلامية

المواد على تلغرام

### المزيد من الملفات بحسب الصف السادس والمادة اجتماعيات في الفصل الثاني

اختبار تجريبي نهائي

1

امتحان تدريبي بمحافظة الظاهرة

2

امتحان تجريبي بمحافظة جنوب الباطنة

3

ملخص شرح الدولة الأموية

4

ملخص ومراجعة الدرس الثالث منجزات عمان في عصر الدولة الأموية من الوحدة الثانية

5

## أجب عن جميع الأسئلة

أولاً: الأسئلة الموضوعية:

ضع دائرة حول رمز الإجابة الصحيحة لكل مفردة من المفردات الآتية: -

١- العام الميلادي الذي أجري فيه أول تعداد إلكتروني واعتمدت نتائجه في سلطنة عُمان:

أ- ٢٠٢٠

ب- ٢٠٢١

ج- ٢٠٢٢

د- ٢٠٢٣

٢- الرقم الذي يشير إلى موقع عاصمة الدولة الأموية في الخريطة المقابلة:



أ- ١

ب- ٢

ج- ٣

د- ٤

٣- الجدول الصحيح الذي يصنف السكان حسب فئات العمر:

العمر	الفئة العمرية
(١٤) سنة فأقل.	صغار السن
(١٥-٦٤) سنة.	متوسطو السن
(٦٥) سنة فأكثر.	كبار السن

ب

العمر	الفئة العمرية
(١٣) سنة فأقل.	صغار السن
(١٤-٦٤) سنة.	متوسطو السن
(٦٥) سنة فأكثر.	كبار السن

أ

العمر	الفئة العمرية
(١٤) سنة فأقل.	صغار السن
(١٥-٦٥) سنة.	متوسطو السن
(٦٦) سنة فأكثر.	كبار السن

د

العمر	الفئة العمرية
(١٣) سنة فأقل.	صغار السن
(١٤-٦٥) سنة.	متوسطو السن
(٦٦) سنة فأكثر.	كبار السن

ج


الوزارة التي تختص بالإشراف على مؤسسات المجتمع المدني في سلطنة عُمان:

أ- التربية والتعليم      ب- العمل      ج- التنمية الاجتماعية      د- الإسكان والتخطيط العمراني

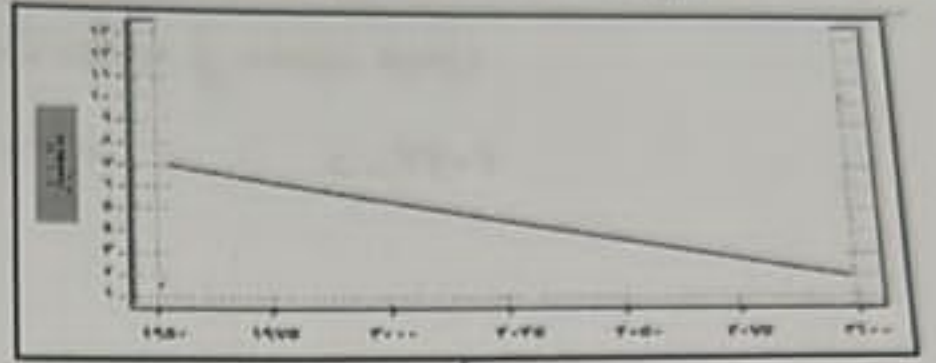


تابع أولاً: الأسئلة الموضوعية:

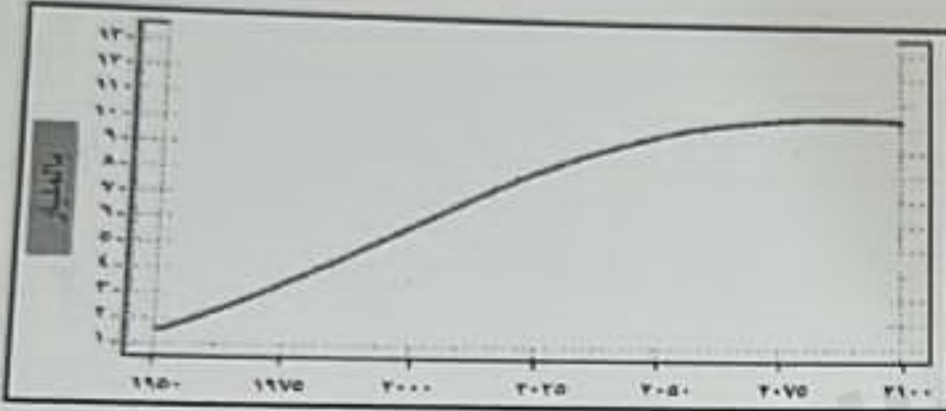
٥ - الشكل الذي يمثل النمو السكاني لدول العالم خلال السنوات الأخيرة:




ب



أ



د



ج

٦ - الشخصية العُمانية التي أدرجت عام ٢٠٠٥ م في برنامج اليونسكو كشخصية مؤثرة عالمياً:

أ - جابر بن زيد

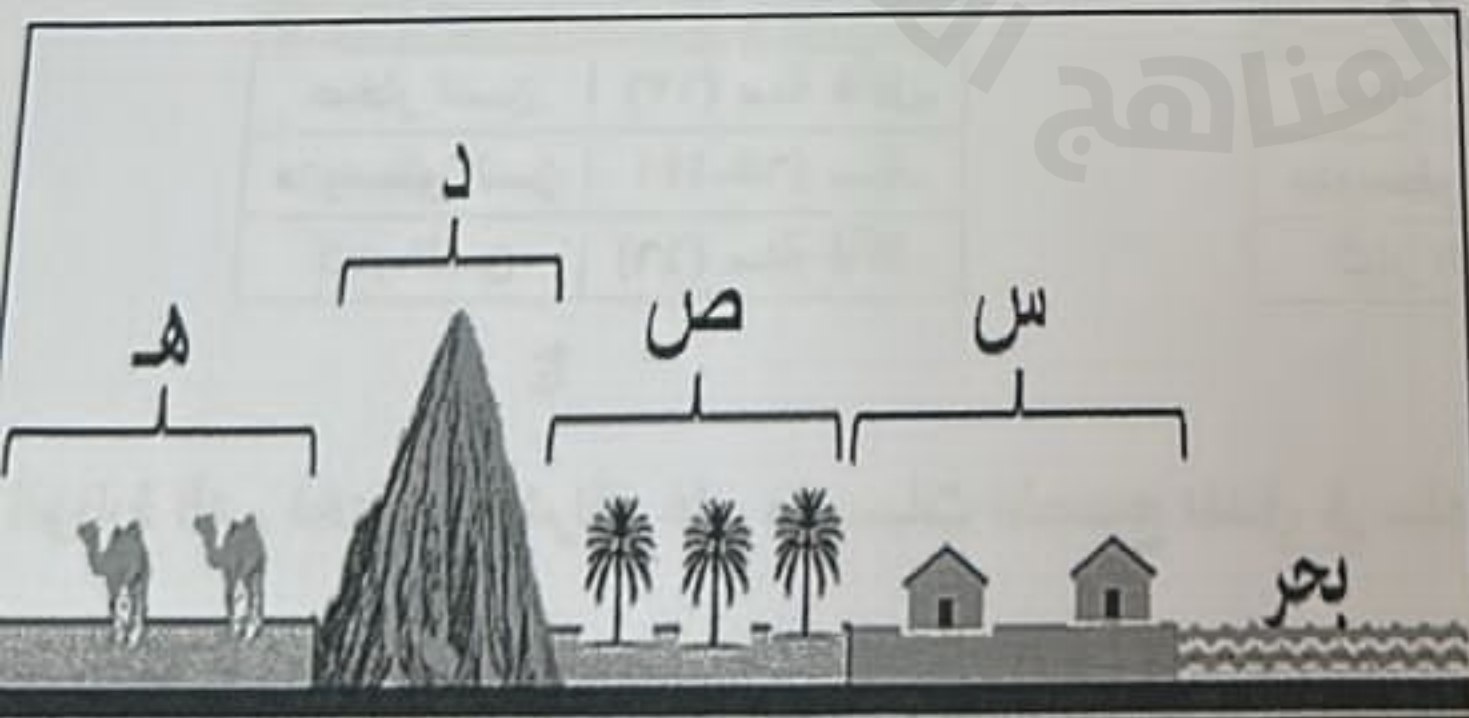
ب - كعب بن معدان

ج - الخليل بن أحمد الفراهيدي

د - يزيد بن المهلب الأزدي

٧ - يوضح الشكل المقابل العوامل الطبيعية التي تؤثر في توزيع السكان على سطح الأرض.

أي من البدائل الآتية يفضل السكان العيش فيها:



أ - (س - د)

ب - (ص - د)

ج - (س - هـ)

د - (س - ص)



## تابع أولاً: الأسئلة الموضوعية:

٨ - السنة الهجرية لتولي معاوية بن أبي سفيان الحكم وقيام الدولة الأموية:

د - ٤٣

ج - ٤٢

ب - ٤١

أ - ٤٠

٩ - تمثل البيانات المدنية التي تظهر في الصورة المقابلة:

أ - الطلاق

ب - الوفيات

ج - المواليد

د - الزواج

الرقم المدني: .....

إسم المولود: .....

الجنس: .....

وقت الولادة: .....

مكان الميلاد: .....

تاريخ الميلاد الهجري: / /

تاريخ الميلاد الميلادي: / /

١٠ - القارة التي يتركز فيها أكثر سكان العالم:

أ - أفريقيا

ب - آسيا

ج - أوروبا

د - استراليا

١١ - شكل المشاركة المجتمعية الذي تعبر عنه الصورة المقابلة:

أ - المناسبات الوطنية

ب - اللقاءات بين الحكومة والمواطنين

ج - الانتخابات

د - العمل التطوعي



١٢ - التصنيف الصحيح للسكان حسب البنية النوعية:

أ - عاملة وغير عاملة

ب - ذكور وإناث

ج - أعزب ومتزوج

د - صغار وكبار



٧
---

ثانياً: الأسئلة المقالية:

١٣ أ - عرف ما يلي:

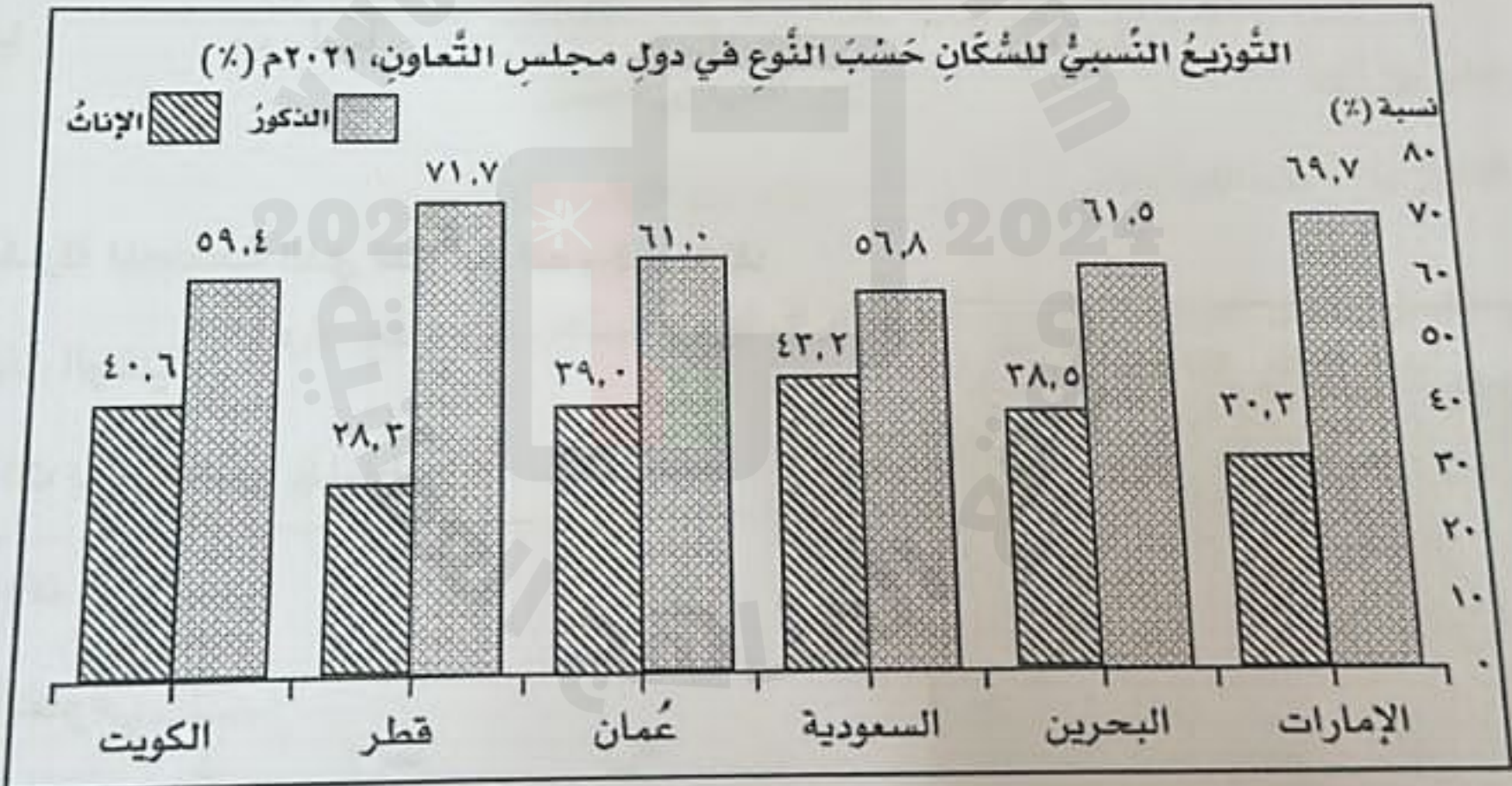
١ - التعداد السكاني:

٢ - الحكم الوراثي:

ب - اكتب اسم الشخصية العُمانية أمام ما يناسبها من الأعمال في عصر الدولة الأموية في الجدول التالي:

الأعمال	الشخصية العُمانية
- انتصر على الجيش الأموي الذي كان يقوده القاسم بن شعوه.	.....
- عين والياً على ولاية خراسان في العصر الأموي.	.....

ج - أمامك شكل بياني، يوضح التوزيع النسبي للسكان حسب النوع في دول مجلس التعاون لدول الخليج العربية لعام ٢٠٢١ م، ادرس الشكل ثم أجب عن الأسئلة التي تليه:



١- الدولة الأعلى في نسبة الذكور بين دول مجلس التعاون الخليجي: .....

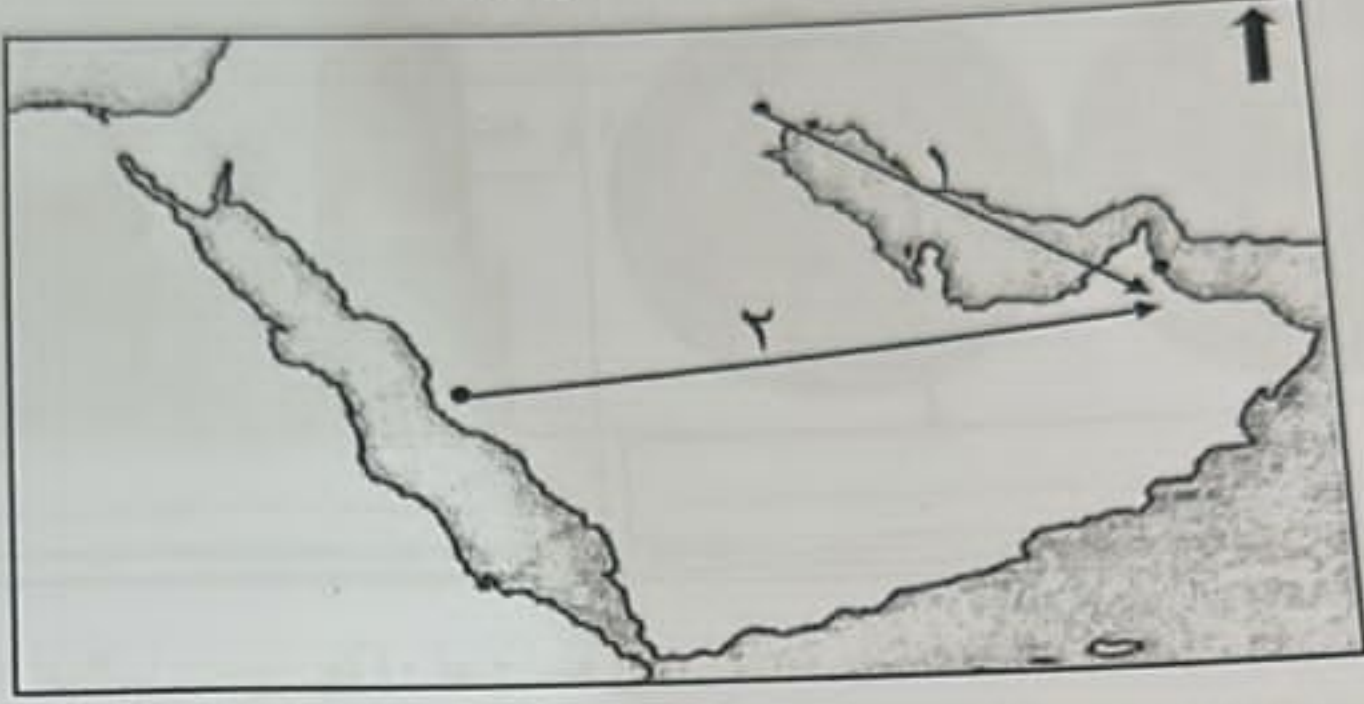
٢- الدولة الأقل في نسبة الذكور بين دول مجلس التعاون الخليجي: .....

٣- الترتيب التنازلي لسلطنة عُمان في نسبة الذكور بين دول مجلس التعاون الخليجي: .....



## تابع ثانياً: الأسئلة اطلاقية:

١٤) أ- أمامك خريطة محاولات حملات الحجاج بن يوسف الثقفي البرية والبحرية للسيطرة على عُمان ادرسها جيداً ثم أجب عن الأسئلة التي تليها:



١- ظل على الخريطة موقع بحر عُمان.

٢- الرقم الذي يشير إلى الحملة التي انتصر فيها العُمانيون على الحجاج بن يوسف الثقفي. ( )

ب - من خلال بيانات الجدول الذي أمامك احسب الزيادة الطبيعية للسكان في سلطنة عُمان لعامي (٢٠١٠م و٢٠٢٠م).

السنة	٢٠١٠م	٢٠٢٠م
عوامل النمو السكاني		
المواليد	٦٤,٧٣٠	٨٢,٢٢٤
الوفيات	٧,٤١٤	١٢,٦٤٩
الزيادة الطبيعية	.....	.....

ج - أجب عما يلي: -

١- "حضر سالم مع جده تجمع أهالي القرية في السبلة العامة ولاحظ قيام كبار السن بتبادل الأخبار، وكان يسود التجمع جو من الألفة"

في ضوء العبارة السابقة اكتب دوراً واحداً للسبلة العُمانية في المجتمع.




تابع ثانياً: الأسئلة المطالية:

٢- استنتج من الصورتين الآتيتين الإسهامات الحضارية في عصر الدولة الأموية بكتابتها أسفل الصورة:



١٥) أ- أمامك هرم سكاني، اكتب فيه رقم الصور التالية التي تعبر عن أحد مكوناته في موقعها الصحيح:

٧



( ٢ )

( ١ )

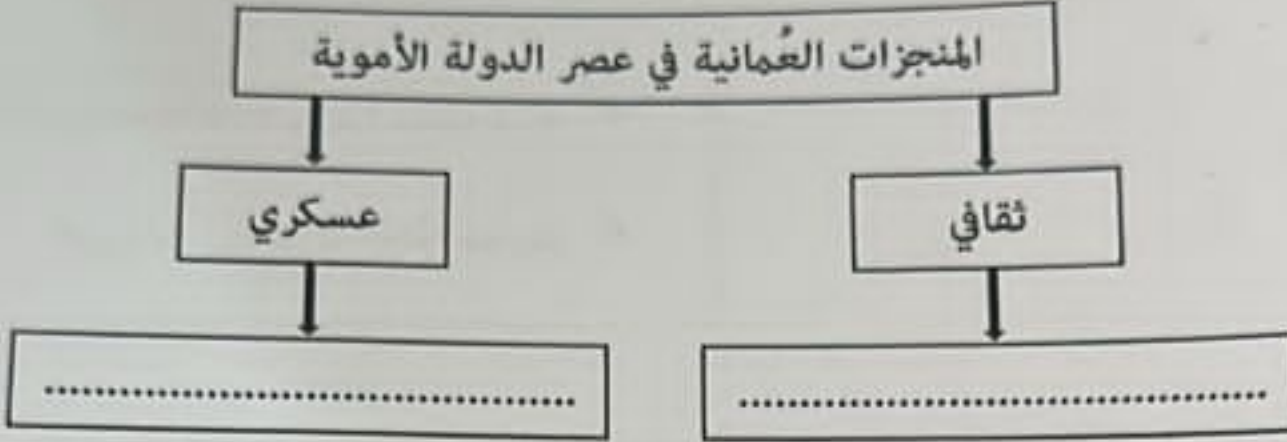
ب - ١- عدد اثنين من أهمية المشاركة المجتمعية.

٢ - اذكر مشكلة واحدة ترتبت على زيادة النمو السكاني بصورة تفوق الموارد المتاحة.



تابع ثانياً: الأسئلة المقالية:

ج - صنف المنجزات العُمانية الآتية في عصر الدولة الأموية في المخطط التالي:  
(المشاركة في الفتوحات الإسلامية - الإسهام في علوم الشريعة واللغة العربية)



١٦ أ- في عام ٢٠٢٣ م تم عمل تعداد سكاني لمنطقة تبلغ مساحتها ١٠ كم<sup>٢</sup> وعدد سكانها ٥٠٠ نسمة.

٧

احسب الكثافة السكانية للمنطقة (مع ضرورة كتابة معادلة حساب الكثافة السكانية)

ب - ١ - ما النتيجة المترتبة على توفر الطرق ووسائل النقل في توزيع السكان؟

٢ - اذكر اثنين من أهمية دراسة السكان.

ج - اكتب أسفل كل شعار مؤسسات المجتمع المدني نوع الخدمة التي تقدمها من بين القوسين.  
(الرعاية الاجتماعية، المحافظة على البيئة، الرعاية الصحية).

 <p>جمعية الرحمة ALRAHMA ASSOCIATION جمعية الخيرية والتطوعية</p>	 <p>جمعية البيئة Environment Society of Oman</p>	 <p>جمعية الأطفال ذوي الإعاقة</p>
.....	المحافظة على البيئة	.....

انتهت الأسئلة مع الدعاء للجميع بالتوفيق والنجاح