

## ملخص الكتيب المساند لتسهيل المنهج



### تم تحميل هذا الملف من موقع المناهج العمانية

موقع فايلاتي ⇨ المناهج العمانية ⇨ الصف السادس ⇨ اجتماعيات ⇨ الفصل الثاني ⇨ ملفات متنوعة ⇨ الملف

تاريخ إضافة الملف على موقع المناهج: 2026-01-27 12:52:01

ملفات اكتب للمعلم اكتب للطالب ا اختبارات الكترونية ا اختبارات ا حلول ا عروض بوربوينت ا أوراق عمل  
منهج انجليزي ا ملخصات وتقارير ا مذكرات وبنوك ا الامتحان النهائي ا للمدرس

المزيد من مادة  
اجتماعيات:

إعداد: نور الهدى الكيومية

### التواصل الاجتماعي بحسب الصف السادس



صفحة المناهج  
العمانية على  
فيسبوك

### المزيد من الملفات بحسب الصف السادس والمادة اجتماعيات في الفصل الثاني

ملخص مشروع زاد الخرائط لتعزيز المهارات الجغرافية والتحليلية

1

علياء حميد اليحيائي

2

كراسة خيوط الإبداع مراجعة تدريبية لتعزيز مهارات التحليل الجغرافي والتاريخي

3

مراجعة شاملة للمنهج 2025

4

عرض تقديمي درس الكثافة السكانية

5

سلطنة عمان  
وزارة التربية والتعليم  
محافظة جنوب الباطنة



## الكتيب المساند لمادة الدراسات للمصف السادس (الفصل الدراسي الثاني)

الطالب/ة المتميز/ة:.....  
المصف السادس/.....



إعداد: أ. نور الهدى الكيومية



# إهداء

إلى طلابي الأعزاء ...

هذا الكتيب ليس مجرد صفحات، بل ثمرة شغف وحب،  
صنعتة لكم بكل اهتمام ليكون رفيقكم في رحلتكم مع المعرفة.  
آمل أن تجدوا فيه متعة التعلم، وأن يكون كل نشاط خطوة تقربكم  
أكثر من فهم العالم من حولكم.

تعلموا بشغف، استكشفوا بفضول، فأنتم الأمل الذي يضيء المستقبل

أ. نور الهدى الكيومية



## مسابقة المادة:



نجاحك يستحق الإعجاب، كم لايك ستجمع؟ ❤️

إعداد: أ. نور الهدى الكيومية

# الوحدة الأولى

## الدرس الأول: البيانات السكانية

عناصر  
الدرس



1- أكمل المخطط التالي بكتابة مصادر دراسة السكان:

3- ما أهمية التعداد السكاني؟

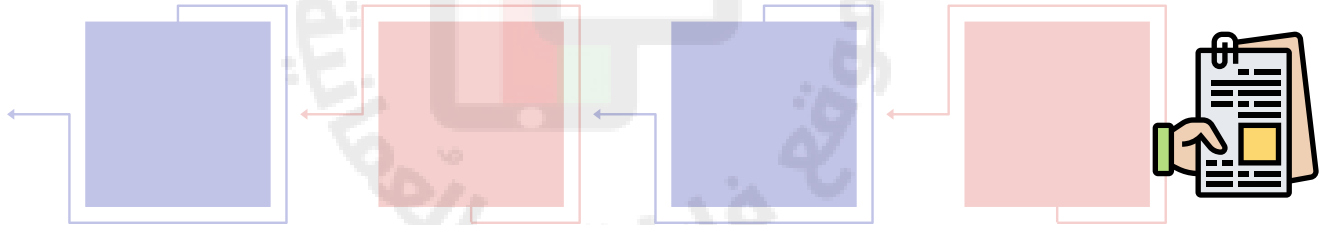
2- عرف التعداد السكاني:

4- أكمل العبارات التالية بما يناسبها من الجدول التالي:

ميدانياً-	السلطان قابوس طيب الله ثراه -	1993
- 2020	الكثرونية -	استمارات ورقية

- أول مواطن عماني تسجل بياناته في التعداد الأول الشامل للسلطنة.....
- العام الذي أعد فيه أول تعداد سكاني للسلطنة.....
- الطريقة المستخدمة قديماً للتعداد كانت..... . باستخدام.....
- العام الذي اجري فيه أول تعداد باستخدام الأجهزة والتقنيات الحديثة.....
- الطريقة المستخدمة حالياً في التعداد.....

5- أكمل المخطط بكتابة السجلات التي تشملها الإحصاءات الحيوية:




المسوحات بالعينة	التعداد	
		الدقة
		الوقت
		الجهد

6- قارن بين التعداد السكاني والمسوحات بالعينة من خلال الجدول التالي:





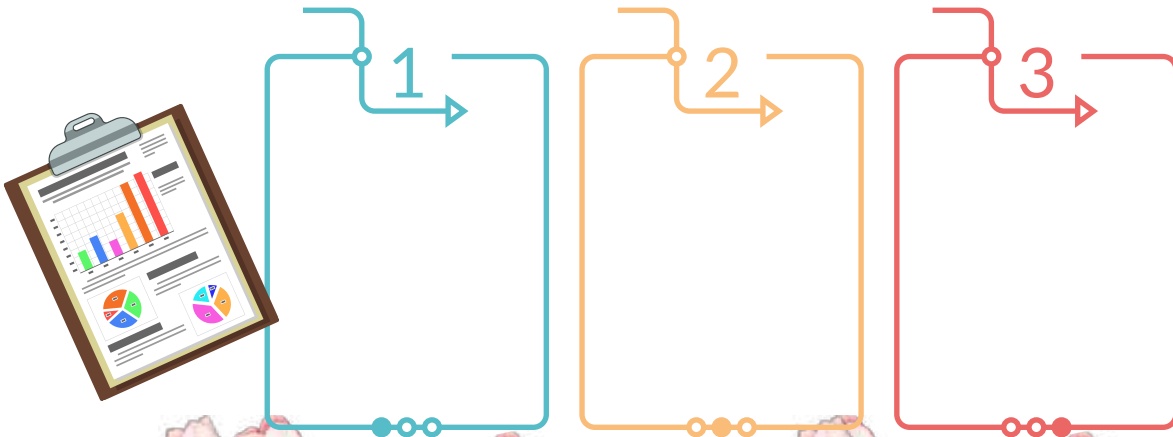
7- لو كنت باحث اجتماعي وتريد الحصول على معلومات عن فئة الباحثين عن عمل في السلطنة، أي المصادر الأولية سوف تستخدم؟ ولماذا؟



8- أكمل الشكل بكتابة السجلات التي تشملها المصادر الثانوية لدراسة السكان:

9- فسر/ انتهاج سلطنة عمان نظام الحكومة الإلكترونية؟

10- أكمل الشكل بكتابة أهمية توفير قاعدة من البيانات السكانية في الدولة؟



مساحة للطالب





# الوحدة الأولى

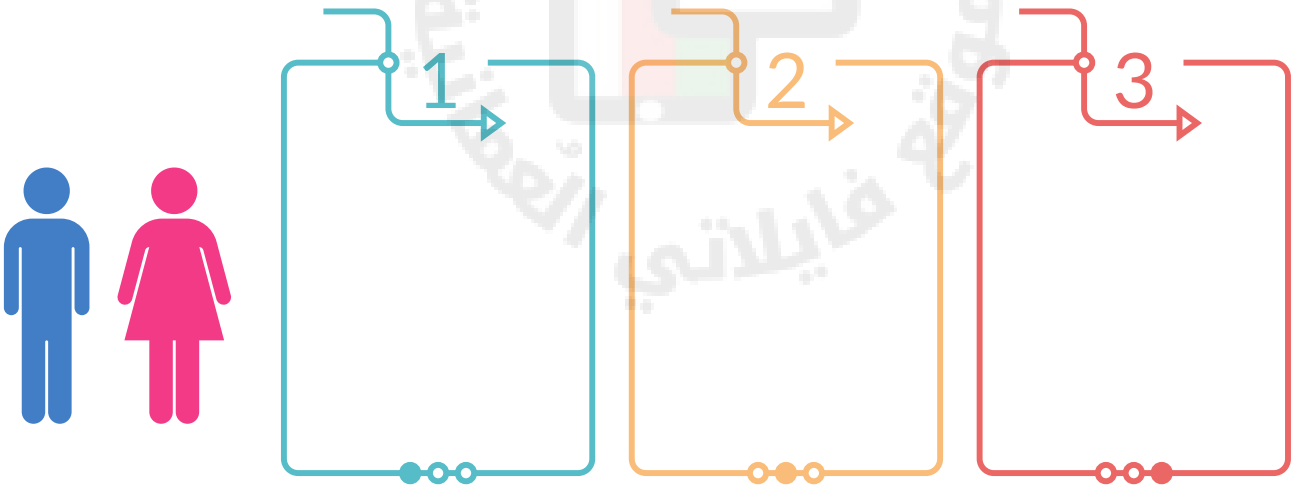
## الدرس الثاني: بنية السكان

### عناصر الدرس




1- ما المقصود ببنية السكان؟

2- فسر/ تباين أعداد الذكور والإناث (البنية النوعية) في المجتمعات؟




3- ما المقصود بالبنية العمرية؟



4- أكمل الشكل التالي بكتابة الفئات العمرية الأساسية للسكان:

.....	.....	صغار السن
.....	15-64 سنة	.....



5- أكمل الفراغات في الهرم السكاني بما يناسبه من العبارات التالية:  
( ذكور- إناث- صغار السن- متوسطو السن- كبار السن )

6- قارن بين الهرم السكاني 1 و 2 من خلال الجدول التالي:



②	①	
		شكل الهرم
		الفئة التي يمثلها

7- من خلال الصور التالية أصنف السكان حسب البنية الاقتصادية:



8- في ماذا تتمثل البنية الاجتماعية من حيث الحالة الزوجية:



9- صنف العبارات التالية بما يناسبها في الجدول التالي:  
(أرمل - ذكور وإناث - صغار السن - معلم - صغار السن - مهندس)

البنية النوعية	البنية العمرية	البنية الاقتصادية	البنية الاجتماعية

مساحة للطالب



# الوحدة الأولى

## الدرس الثالث: النمو السكاني

### عناصر الدرس

2- ما المقصود بالزيادة الطبيعية؟

1- ما المقصود بالنمو السكاني؟



3- ما العوامل المؤثرة في الزيادة الطبيعية للسكان؟

الوفيات

المواليد

1

2

3



1

2



4- فسر/ كيف تؤثر الحالة الاقتصادية في عدد المواليد في المجتمعات؟

5- فسر/ زيادة أعداد المواليد في المجتمعات الزراعية؟

6- فسر/ ما سبب ارتفاع عدد الوفيات في العالم عام 2020م؟



7- اقترح بعض الامور للتقليل من الوفيات في المجتمعات؟

8- إذا كان عدد المواليد في مجتمع ما 8290 بينما بلغ عدد الوفيات في نفس المجتمع 6520، كم تبلغ الزيادة الطبيعية؟

9- ما المقصود بالهجرة؟



10- ما المقصود بأمد الحياة؟



1

2

11- من وجهة نظرك، ما هي أسباب الهجرة؟

12- اقترح حلول للتقليل من الهجرة من الأرياف للمدن؟



12- للنمو السكاني نتائج قد تكون ايجابية اذا كان النمو السكاني متكافئ مع الموارد المتاحة، وقد يكون سلبي اذا فاق الموارد المتاحة، اذكر النتائج المترتبة على ذلك:

سلبي

إيجابي

مساحة للطالب

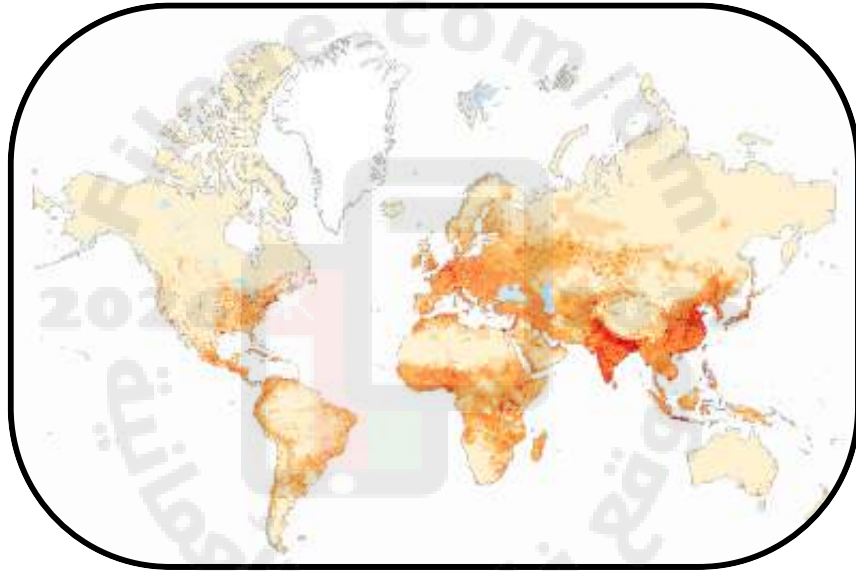


# الوحدة الأولى

## الدرس الرابع: الكثافة السكانية

### عناصر الدرس

1- توضح الخريطة التي أمامك توزيع السكان في العالم، تأملها جيداً ثم أجب عن التالي:



- أ- صف توزيع السكان في العالم؟ .....
- ب- ما القارة التي تمتلك أعلى عدد سكان في العالم؟ .....
- ج- ما أقل قارات العالم من حيث عدد السكان؟ .....

2- اذكر العوامل المؤثرة في توزيع السكان في العالم؟

1

2

3- من خلال الصور التالية استنتج العوامل الطبيعية المؤثرة في توزيع السكان؟



.....

.....

.....

4- أذكر سببين لكل من:

يميل السكان للعيش في المناطق التي  
تشرف على المسطحات المائية:

تفضل السكان العيش في المناطق  
السهلية عن الجبلية:

5- من خلال الصور التالية استنتج العوامل البشرية المؤثرة في توزيع السكان؟



.....

.....

.....

6- فسر/ تركز السكان في محافظة مسقط؟

8- ما المقصود بالكثافة السكانية

7- ما هي جهود سلطنة عمان  
للتقليل من الهجرة للمدن؟



9- إذا كان عدد السكان في منطقة ما 789045 نسمة، إذا علمت ان مساحة تلك المنطقة 40020 كم، كم تبلغ الكثافة السكانية؟



10- أمامك خريطة سلطنة عمان، ادرسها جيداً ثم  
أجب عن التالي:

أ- ظلل المحافظة التي تحتل أعلى كثافة سكانية باللون الأحمر.

ب- ظلل المحافظة التي تحتل المرتبة الأخيرة من حيث الكثافة السكانية باللون الأخضر

11- ما العلاقة بين الكثافة السكانية ومساحة المنطقة؟



مساحة للطالب





# الوحدة الثانية

## الدرس الأول: الدولة الأموية

# عناصر الدرس

## 2- ما المقصود بالحكم الوراثي؟

## 1- من هو مؤسس الدولة الأموية؟ وعام كم تأسست؟

3- ما هي أهم متغيرات نظام الحكم في العصر الأموي، مع ذكر مثال؟



4- الخريطة التالية تمثل امتداد الدولة الأموية، ادرسها جيداً ثم أجب عن التالي:

أ- استخرج عاصمة الدولة الإسلامية.....

ب- ضع دائرة على عاصمة الدولة الأموية

ج- ما المناطق التي شملتها الدولة الأموية.....



5- ما شعورك وأنت ترأ جهود المسلمين الأوائل في نشر الإسلام ؟



6- من أنا ؟ .....

كنت قائد في الفتوحات الإسلامية إلى بلاد ما وراء النهر في القرن الأول الهجري

6- من خلال الصور التالية، استنتج أهم الاسهامات الحضارية في عصر الدولة الأموية ؟



.....

.....

.....

.....

7- أمامك مجموعة من الاسهامات الحضارية في عصر الدولة الأموية أصنفها في الجدول التالي على حسب المجال المناسب ؟

إدارية	عسكرية	اقتصادية	ثقافية	عمرانية

- مسجد قبة الصخرة
- العملات النقدية
- مدينة القيروان
- المنجنيق
- الدبابة
- ديوان البريد
- ترجمة الكتب
- كتب الكيمياء

7- أضح الخطاء الموجودة في الفقرة التالية ؟

أستمر حكم الدولة الأموية أكثر من 19 عام، وعلى الرغم من الإسهامات المختلفة، فقد بدأت بالضعف حتى سقطت عام 130هـ، في معركة النهروان و ظهر بعدها حكم الدولة الفاطمية.

8- ماهي أهم العوامل التي أسهمت في سقوط الدولة الأموية



9- لو كنت حاكم في الدولة الأموية ماهي الاجراءات التي سوف تتبعها لحماية دولتك من السقوط؟




مساحة للطالب



## الوحدة الثانية

### الدرس الثاني: علاقة عمان بالدولة الأموية

#### عناصر الدرس



1- من أنا؟.....

كنت حاكم عمان عندما انتقل الحكم الإسلامي من عهد الخلفاء الراشدين إلى الدولة الأموية، واستشهدت عام 69هـ على يد النجدات مدافعاً عن وطني

2- أجب عن الأسئلة التالية:

أ- لماذا لم تكن للدولة الأموية أطماع في السيطرة على عمان في بداية حكمها؟.....

ب- عام كم بدأت الدولة الأموية بالتفكير بالسيطرة على عمان؟.....

ج- كم عدد الحملات التي وجهتها الدولة الأموية لعمان للسيطرة عليها؟.....



4- من نحن؟.....

نحن أبنا عباد بن الجندى، ساعدنا أبانا في الحكم، ومن مهامنا أخذ الضريبة من السفن التي تصل ساحل عمان

3- من أنا؟.....

كنت والياً على العراق في عهد الدولة الأموية، استطعت إخضاع عمان للدولة الأموية بعد عدة محاولات





5- تأمل خريطة المقابلة ثم أجب عما يلي:

أ- أرسم خطوط توضح حملات الدولة الأموية على عمان والتي باءت بالفشل (باللون الأسود)

ب- أرسم خط الحملة البرية التي نجحت في إخضاع عمان للدولة الأموية (باللون الأخضر).

ج- ما أسباب رغبة الدولة الأموية في إخضاع عمان لحكمها؟



د- أكتب المسطحات المائية التالية في مكانها الصحيح ( المحيط الهندي - بحر عمان - بحر العرب - البحر الأحمر - البحر المتوسط - بحر قزوين )

6- أكمل البطاقات التعريفية بذكر أسم الشخصية:

من أنا؟.....

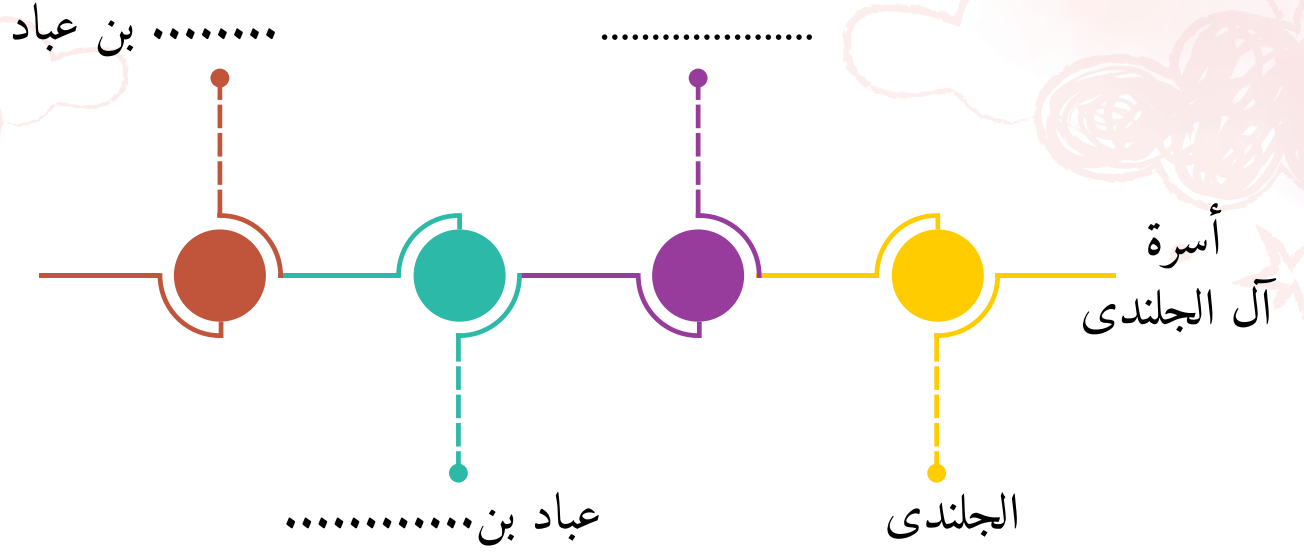
كنت والياً على  
عمان في نهاية  
حكم الدولة الأموية

من أنا؟.....


كنت قائد للجيش  
العمانية، واستطعت  
التصدي لحملة  
القاسم بن شعوة




7- اكمل المسطرة الزمنية بكتابة أسرة آل الجلندی الذين درستهم:



8- اكمل المسطرة الزمنية بكتابة أشهر الولاة على عمان في عهد الدولة الأموية:



9- صف موقف أهل عمان من حكم الدولة الأموية على بلادهم؟



مساحة للطالب



## الوحدة الثانية

### الدرس الثالث: منجزات عمان في عصر الدولة الأموية

#### عناصر الدرس

1- أكمل الجدول بما يناسبه من اسهامات العمانيين في المجال الثقافي:

اسم الشخصية	الانجازات	المجال
	كتاب الديوان	
	_____	الشعر والخطابة
الخليل بن أحمد الفراهيدي		

2- صمم بطاقة تعريفية لهند بنت المهلب، مع ذكر الاسم، القرن التي عاشت فيه، العلماء الذين أخذت عنهم العلم و صفاتها:

### 3- أكمل البطاقة التعريفية:



الاسم:

أهم الاكتشافات:

طريقة اكتشافه:

دور العمانيين في  
المجال العسكري

داخلياً

المشاركة في  
الفتوحات

المحافظة على استقرار  
و أمن السواحل  
العمانية

مثل:

.....

مثل:

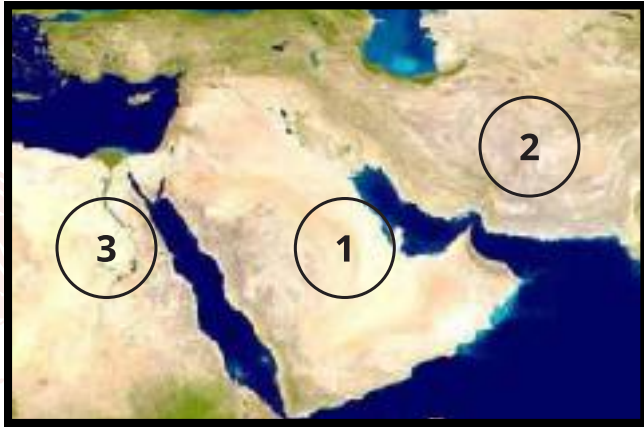
.....

4- أكمل المخطط التالي الذي يمثل  
انجازات العمانيين في المجال العسكري  
في عهد الدولة الأموية:

5- من أنا؟.....

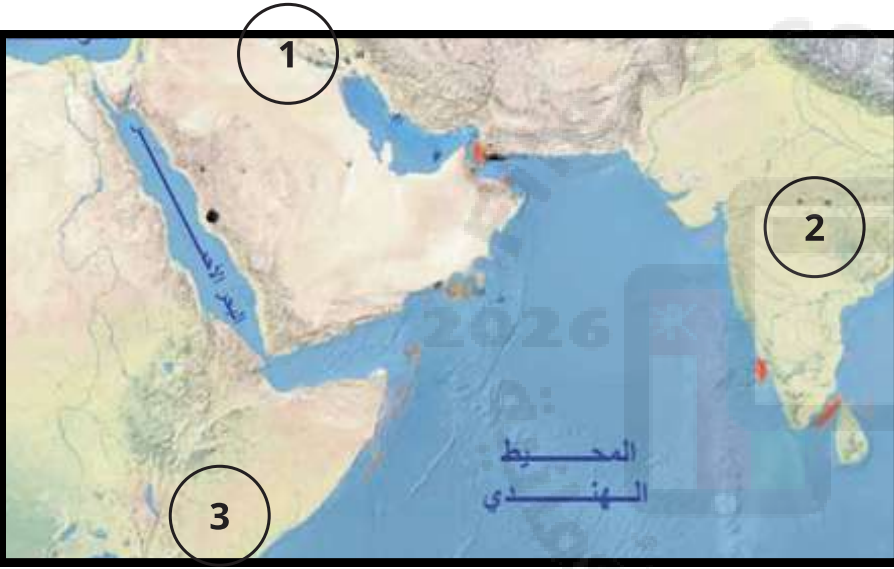
كنت من ولاة الأمويين في ولاية  
خرسان، شاركت في الفتوحات في  
بلاد ما وراء النهر





- 6- من خلال الخريطة التالية أجب عن الأسئلة التالية:
- أ- استخرج رقم المدينة التي فتحها القائد العماني يزيد بن المهلب.....
- ب- ما أسم القبيلة التي شاركت في هذا الفتح؟.....
- ج- دلل / اهتمام العانيين بالجانب الديني بعد فتح المدينة؟.....

7- من خلال الخريطة التالية أجب عن الأسئلة التالية:



- أ- أرسم خطوط التجارة البحرية قديماً.
- ب- أكتب على الخريطة أهم الموانئ العمانية في مكانها الصحيح.
- ج- اكتب أسماء المناطق المرقمة:
- 1-.....
- 2-.....
- 3-.....

8- دلل / قوة عمان الاقتصادية في عهد الدولة الأموية:



9- ما النتيجة المترتبة على اتصاف العمانيين بالصفات الحميدة مع سكان المناطق الأخرى؟



مساحة للطالب





# الوحدة الثالثة

## الدرس الأول: المشاركة المجتمعية

### عناصر الدرس

1- تتبع طرق المشاركة المجتمعية العمانية من خلال الصور:



..... -3


..... -2

..... -1



2- ما أهمية إلتقاء الحكام بالمواطنين؟

3- من خلال الصور التالية استنتج أشكال المشاركة المجتمعية؟



.....

.....


.....

.....

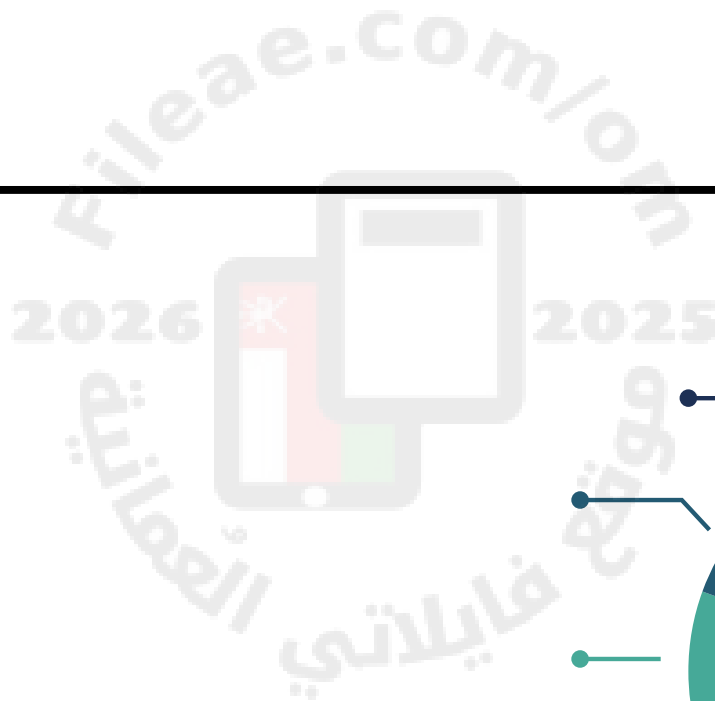
4- ما المقصود بالعمل  
التطوعي؟



5- ما أهمية المشاركة في الأعمال التطوعية؟



6- كيف تطبق مفهوم المشاركة المجتمعية في حياتك؟



7- ما أهمية  
المشاركة  
المجتمعية؟



مساحة للطالب



# الوحدة الثالثة

## الدرس الثاني: مؤسسات المجتمع المدني

### عناصر الدرس



1- ما المقصود بمؤسسات المجتمع المدني؟

3- ما الجهة المشرفة  
على مؤسسات المجتمع  
المدني في سلطنة  
عمان؟

2- كيف اهتمت سلطنة عمان بمؤسسات  
المجتمع المدني؟

4- من خلال الصور التالية استنتج الخدمات التي تقدمها مؤسسات المجتمع المدني؟



5- من خلال صور الجمعيات العمانية التالية اصنفها على حسب الخدمات التي تقدمها  
مؤسسات المجتمع المدني في الجدول التالي:

رقم الجمعية	الخدمات
	مساعدات إنسانية
	رعاية صحية
	المحافظة على البيئة
	رعاية الشباب
	الرعاية الاجتماعية



6- من خلال الصورة التي أمامك اجب عمالي:

أ: ما المؤسسة التي يمثلها الشعار؟ .....

ب: كم عدد أفرع المؤسسة؟ .....

ج: ما الهدف من المؤسسة: .....

7- ما أهمية مؤسسات المجتمع المدني:

8- اختر مؤسسة من مؤسسات المجتمع المدني واكتب عنها نبذة مختصرة:





مساحة للطالب





## التقرير:

يرجى اختيار موضوع من موضوعات الكتاب أو احد المقترحات التالية:

(التعداد السكاني - الإحصاءات الحيوية - المسوحات بالعينة - البنية العمرية - البنية النوعية - البنية الاقتصادية والاجتماعية - الهرم السكاني - النمو السكاني - الكثافة السكانية - قيام الدولة الأموية - الإسهامات الحضارية للدولة الأموية - نهاية الدولة الأموية - علاقة عمان بالدولة الأموية - ولادة الدولة الأموية على عمان - منجزات عمان في عهد الدولة الأموية - الخليل بن أحمد الفراهيدي - المشاركة المجتمعية - العمل التطوعي - مؤسسات المجتمع المدني في سلطنة عمان )

الموضوع: .....

## المقدمة:

## المتن:



الخاتمة:

التوثيق:

## بنود تقييم التقرير:

المعاير	الدرجة	درجة الطالب
المقدمة: يكتب فيها الطالب نبذة مختصرة عن الموضوع، ثم يكتب العناصر التي سوف يتناولها في الموضوع	2	
المتن: يكتب فيه الطالب شرحاً تفصيلياً عن العناصر الواردة في المقدمة	2	
الخاتمة: يختم فيها الطالب تقريره بكتابة ما توصل إليه في موضوعه من التوصيات أو المقترحات أو الدروس التاريخية المستفادة	2	
التوثيق: يكتب الطالب المراجع التي اعتمد عليها في كتابة التقرير	2	
فهم الطالب: يجب على اسئلة المناقشة	2	
المجموع	10	