

أسئلة اختبارات لدرس الرئتان والتنفس من تميز أكاديمي



تم تحميل هذا الملف من موقع المناهج العمانية

موقع فايلاتي ← المناهج العمانية ← الصف السادس ← علوم ← الفصل الأول ← ملفات متنوعة ← الملف

تاريخ إضافة الملف على موقع المناهج: 14:00:06 2025-12-19

ملفات اكتب للمعلم اكتب للطالب ا اختبارات الكترونية ا اختبارات ا حلول ا عروض بوربوينت ا أوراق عمل
منهج انجليزي ا ملخصات وتقارير ا مذكرات وبنوك ا الامتحان النهائي ا للمدرس

المزيد من مادة
علوم:

إعداد: خالد بن سالم الجابري

التواصل الاجتماعي بحسب الصف السادس



صفحة المناهج
العمانية على
فيسبوك

المزيد من الملفات بحسب الصف السادس والمادة علوم في الفصل الأول

أسئلة اختبارات لدرس دقات القلب والنبض من تميز أكاديمي

1

أسئلة اختبارات لدرس القلب من تميز أكاديمي

2

أسئلة اختبارات لدرس أعضاء الجسم من تميز أكاديمي

3

خرائط ذهنية للوحدة الثانية الكائنات الحية في البيئة

4

أسئلة إثرائية في الوحدة الثانية الكائنات الحية في البيئة

5



العام الدراسي 2025\2026



خالد بن سالم الجابري

(معلم مادة العلوم 5,6 في تميز أكاديمي)

أرقام التواصل

76941321 76696447 77144048



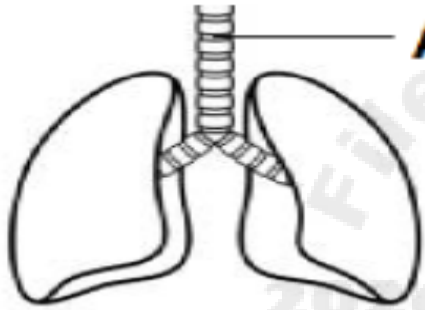
أسئلة اختبارات لدرس

١-٤: الرئتان والتنفس

١- رتب العبارات الآتية التي تحدث أثناء عملية التنفس بكتابة الرموز في المربعات بالأسفل.

- A- يحمل الدم الأكسجين من الرئتين إلى القلب.
B- عند الشهيق ينتقل الأكسجين المأخوذ من الهواء إلى الرئتين.
C- يضخ القلب الدم إلى باقي أجزاء الجسم.

(أكمل) ← ←



٢- الشكل المقابل يمثل رئتي الإنسان.

ما اسم الجزء المشار إليه بالرمز A؟



الشكل (١-٧)

٣- قام أحمد بإطفاء شموع يوم تكريمه، كما في الشكل (١-٧).
أ) ما العملية التي قام بها أحمد؟ (ظل الإجابة الصحيحة)

☐ شهيق

☐ زفير

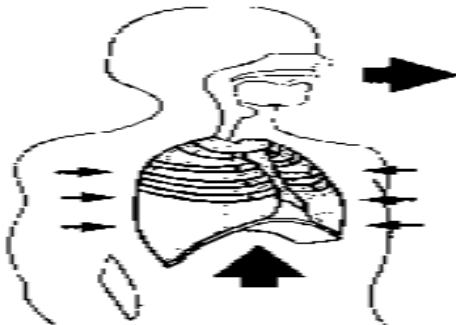
فسر إجابتك.

[1]

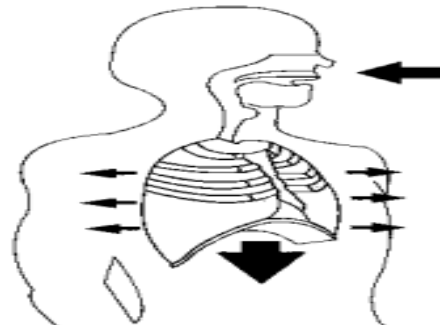
ب) تتبأ ما سيحدث لمعدل التنفس لأحمد إذا قام بممارسة لعبة كرة القدم مباشرة بعد العملية.

[1]

٤- الشكل (١-٢) يوضح أحد عمليات أجهزة الجسم.



الشكل ١-٢ (ب)



الشكل ١-٢ (أ)

أ) ما اسم العملية التي يمثلها الشكل ١-٢ (ب) ؟

[1]

٥ - الشكل (1-2) يوضح نموذج للجهاز التنفسي قام بتصميمه طلبة الصف السادس. ادرس الشكل ثم اجيب:



(ب-1-2)



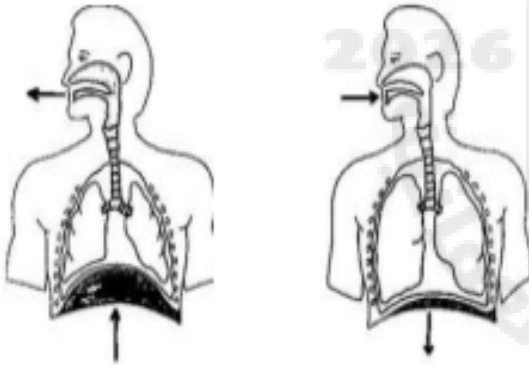
(أ-1-2)

(أ) ما اسم العملية التي يوضحها كلا من:
النموذج (أ).....

النموذج (ب).....

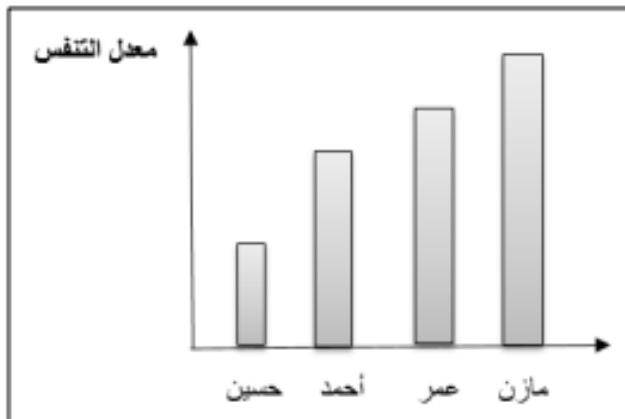
(ب) فسر أهمية العملية (أ) بالنسبة للجسم؟

٦ - يمثل الشكل المقابل عملية التنفس ادرسه ثم ضع علامة (✓) أمام كل عبارة ما يناسبها
[٢]



العبارة	صواب	خطأ
الشكل A يمثل عملية الشهيق		
يقل حجم الرئتين في عملية الشهيق		
يخرج الهواء أثناء عملية الزفير		
أثناء الشهيق يرتفع الحجاب الحاجز للأعلى		

[١]



٧- الرسم البياني المقابل يوضح معدل التنفس لمجموعة من طلبة الصف السادس بعد ممارسة التمارين الرياضية. الطالب الذي زاد معدل تنفسه بدرجة أكبر هو:

○ مازن ○ عمر

○ أحمد ○ حسين

٨ - الوصف الصحيح للعملية التي تحدث في الشكل الآتي هو:

(ظلل الدائرة بجوار الإجابة الصحيحة)



☐ تحدث عملية الشهيق

☐ تمتلئ الرئة بالهواء

☐ ينزل الحجاب الحاجز

☐ تحدث عملية الزفير

٩ - أكمل العبارتين الآتيتين:

أ) تمتلئ الرئتان بالهواء ويزداد حجمهما عند حدوث

ب) يخرج الهواء من الرئتين ويصغر حجمهما عند حدوث

الإجابة	رقم السؤال
C A B	١
القصبة الهوائية	٢
أ- زفير بسبب خروج الهواء ب- يزيد زفير	٣
٤	
أ) النموذج أ- شهيق النموذج ب - زفير ب) عند الشهيق ينتقل الأكسجين من الهواء إلى الرئتين ويقوم الدم بنقله إلى القلب ليضخه إلى باقي أجزاء الجسم	٥
<input checked="" type="checkbox"/> × <input checked="" type="checkbox"/> ×	٦
مازن	٧
٨	
تحدث عملية الزفير	٨
الشهيق الزفير	٩