

ملخص الدرس الأول الدولة الأموية من الوحدة الثانية بطريقة سؤال وجواب



تم تحميل هذا الملف من موقع المناهج العمانية

موقع فايلاتي ← المناهج العمانية ← الصف السادس ← اجتماعيات ← الفصل الثاني ← ملفات متنوعة ← الملف

تاريخ إضافة الملف على موقع المناهج: 2025-05-20 13:17:19

ملفات اكتب للمعلم اكتب للطالب | اختبارات الكترونية | اختبارات | حلول | عروض بوربوينت | أوراق عمل
منهج انجليزي | ملخصات وتقارير | مذكرات وبنوك | الامتحان النهائي | للمدرس

المزيد من مادة
اجتماعيات:

إعداد: خيرية بنت صالح العبرية

التواصل الاجتماعي بحسب الصف السادس



صفحة المناهج
العمانية على
فيسبوك

الرياضيات

اللغة الانجليزية

اللغة العربية

التربية الاسلامية

المواد على تلغرام

المزيد من الملفات بحسب الصف السادس والمادة اجتماعيات في الفصل الثاني

ملخص شرح الدرس الثاني علاقة عمان بالدولة الأموية من الوحدة الثانية

1

ملخص ثاني لدرس المشاركة المجتمعية من الوحدة الثالثة (المجتمع المدني)

2

مذكرة عيون المستقبل بطريقة سؤال وجواب

3

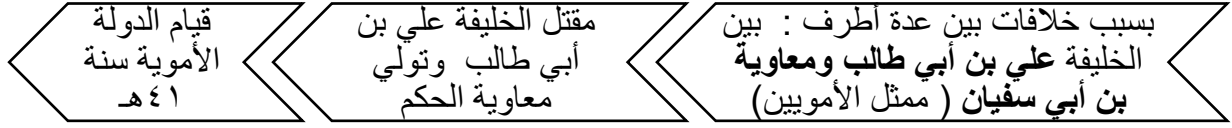
اختبار قصير أول في وحدة جغرافية السكان

4

توضيح المناطق الزمنية

5

١- انتقال الحكم من الخلفاء الراشدين إلى الأمويين.



٢- الفرق بين الخلافة الراشدة والخلافة الأموية :

الدولة الأموية	الخلافة الراشدة	
دمشق	المدينة المنورة	العاصمة
الحكم الوراثي	مبدأ الشورى	نظام الحكم

٣- ما المقصود بالحكم الوراثي؟

هو أن يتولى الأب الأكبر للحاكم أو أحد أقربائه الحكم من بعده.

٤- ثاني خلفاء الدولة الأموية .

يزيد بن معاوية

٥- نظام الحكم في سلطنة عمان في الوقت الحاضر؟

سلطاني وراثي.

٦- المناطق التي فتحها المسلمون في عصر الدولة الأموية .

- بلاد السند
- بلاد ما وراء النهر
- بلاد المغرب العربي
- الأندلس

٧- القائد المسلم الذي قاد الفتوحات الإسلامية إلى بلاد ما وراء النهر.

قتيبة بن مسلم الباهلي (القرن الأول الهجري).

٨- ما أهمية توسع الدولة الأموية وامتدادها إلى مناطق مختلفة.

تقوية نفوذها وتوسع أراضيها وانتشار الإسلام وإعلاء كلمته.

٩- ما النتيجة المترتبة على ظهور الفرق المعارضة للحكم الأموية.

ضعف الدولة الأموية وانهيارها.

١٠- الإسهامات الحضارية في عصر الدولة الأموية .

المجال الإداري		استحداث دواوين جديدة وتعريبها مثل ديوان البريد
المجال العسكري		إدخال آلات عسكرية في الحرب مثل: المنجنيق والدبابة
المجال الاقتصادي		سك أول عملة نقدية باللغة العربية في عهد الخليفة عبد الملك بن مروان.
المجال الثقافي		ترجمة الكثير من الكتب في المجالات العلمية مثل : كتب الكيمياء والطب.
المجال العمراني		تخطيط المدن مثل مدينة القيروان (تونس). وتشييد المساجد مثل: مسجد قبة الصخرة (فلسطين)

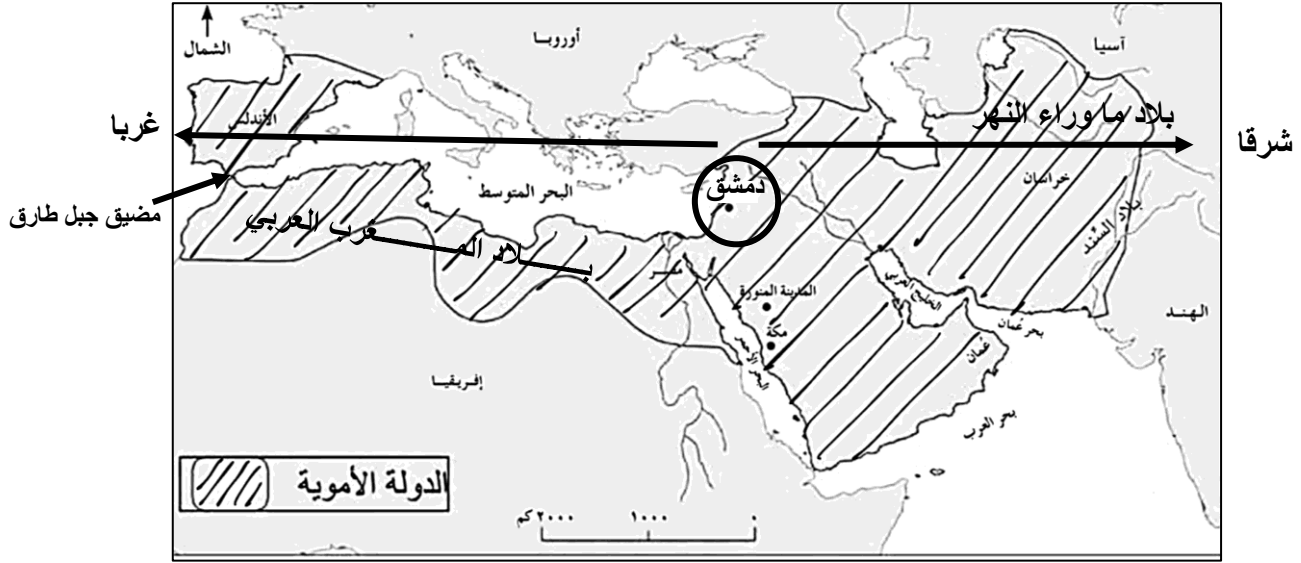
١١- أسباب سقوط (نهاية) الدولة الأموية.

- ظهور الفرق المعارضة للحكم الأموي.
- النزاع على الحكم بين أبناء البيت الأموي.
- اتساع الدولة وصعوبة الاتصال بين أجزائها.

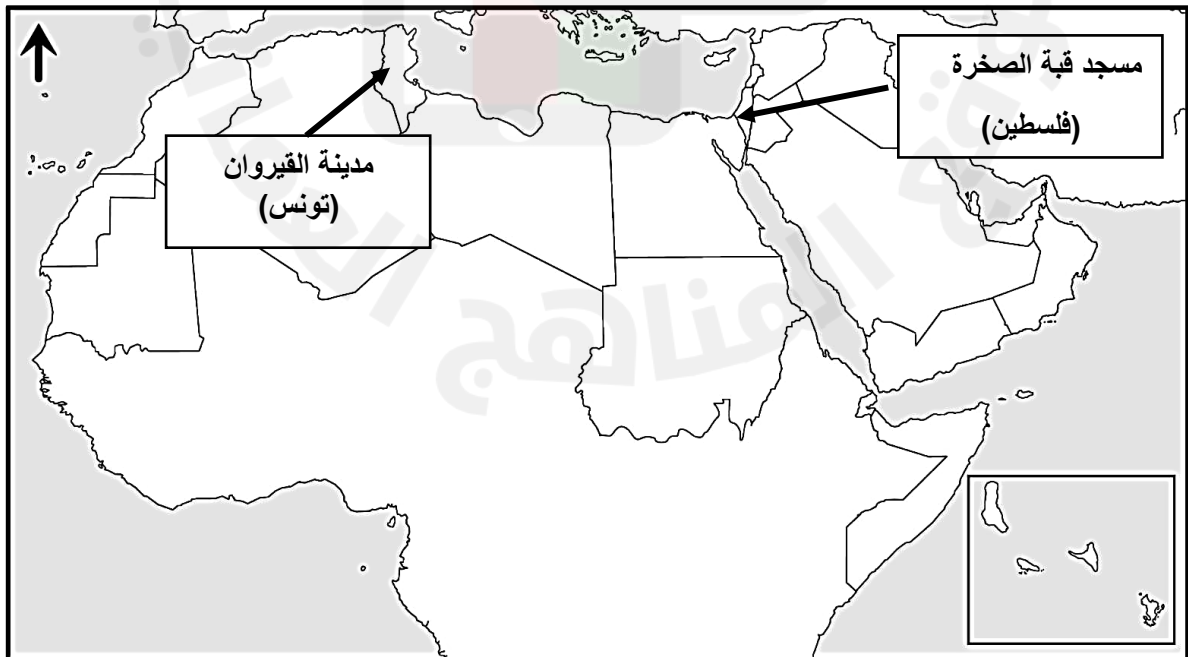
١٢- معركة الزاب : هي المعركة الفاصلة بين الأمويين والعباسيين.

نتيجتها: هُزم الأمويين (نهاية الدولة الأموية)، وانتصار العباسيين (بداية الدولة العباسية).

١٣- امتداد الدولة الأموية :



عاصمة الدول الاموية	دمشق
القارات التي اتسعت فيها الدولة الاموية	<ul style="list-style-type: none"> ■ آسيا (بلاد السند وبلاد ما وراء النهر) — أفريقيا (بلاد المغرب العربي) - أوروبا (الأندلس)
المضيق الذي عبره المسلمون لفتح الأندلس	مضيق جبل طارق
الدول التي فتحها الأمويون	بلاد السند وبلاد ما وراء النهر (شرقا) بلاد المغرب والأندلس (غربا)
الدول التي تمثل حاليا المناطق المفتوحة	بلاد السند/ باكستان الأندلس/ البرتغال وإسبانيا بلاد ما وراء النهر/ أوزبكستان- تركمانستان- طاجيكستان- أفغانستان. بلاد المغرب العربي/ تمتد من ليبيا وحتى المغرب



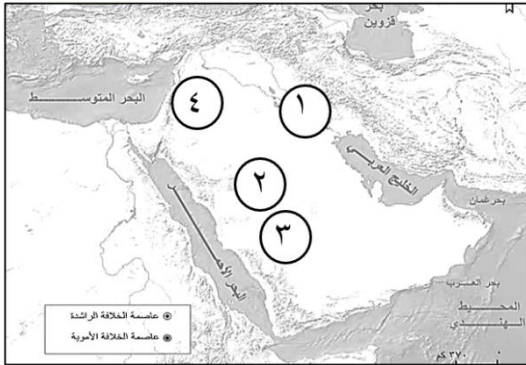
السؤال الأول: ضع دائرة حوال الرمز الدال على الإجابة الصحيحة من بين البدائل المعطاة:

١- العام الهجري الذي قامت فيه الدولة الأموية :

- أ- ٣١ ب- ٤١ ج- ٥١ د- ٦١

٢- الرقم الدال في الخريطة المقابلة على عاصمة الدولة الأموية:

- أ- ١



- ب- ٢

- ج- ٣

- د- ٤

٣- القرن الهجري الذي استطاع فيه قتيبة بن مسلم الباهلي فتح بلاد ما وراء النهر :

- أ- الأول ب- الثاني ج- الثالث د- الرابع

٤- الخليفة الأموي الذي سك في عهده أول عملة نقدية باللغة العربية :

- أ- معاوية بن أبي سفيان ب- يزيد بن معاوية

- ج- عبد الملك بن مروان د- عمر بن عبد العزيز

٥- المنجز العمراني الذي بناه الأمويون الظاهر في الصورة المقابلة:



- أ- المسجد الأموي

- ب- بيت المقدس

- ج- قبة الصخرة

- د- المسجد النبوي

٦- المجال الذي يوضح أحد الاسهامات الحضارية للأمويين في الصورة المقابلة :



- أ- العسكري

- ب- الاقتصادي

- ج- العمراني

- د- الثقافي

٧- العام الهجري الذي سقطت فيه الدولة الأموية :

أ- ١٣٠ ب- ١٣١ ج- ١٣٢ د- ١٣٣

٨- المعركة الفاصلة التي أدت إلى نهاية الدولة الأموية وبداية حكم الدولة العباسية :

أ- اليرموك ب- تبوك ج- بدر د- الزاب

٩- عدد سنوات حكم الدولة الأموية :

أ- ٦١ ب- ٧١ ج- ٨١ د- ٩١

١٠- الترتيب الصحيح لقيام الدول الإسلامية منذ الأقدم وحتى الأحدث :

- أ-

الدولة العباسية	الخلافة الراشدة	الدولة الأموية
-----------------	-----------------	----------------
- ب-

الخلافة الراشدة	الدولة الأموية	الدولة العباسية
-----------------	----------------	-----------------
- ج-

الدولة الأموية	الخلافة الراشدة	الدولة العباسية
----------------	-----------------	-----------------
- د-

الخلافة الراشدة	الدولة العباسية	الدولة الأموية
-----------------	-----------------	----------------

١١- الديوان الذي تم استحداثه في الدولة الأموية :

أ- الجند ب- البريد ج- الخراج د- الحسبة

١٢- المدينة التي اشتكى أهلها للخليفة عمر بن عبدالعزيز بسبب سيطرة المسلمين عليها قبل دعوتهم للإسلام:

أ- خراسان ب- بخارى ج- سمرقند د- بلخ

١٣- المضيق المائي الذي عبره المسلمون لفتح الأندلس:

أ- هرمز ب- جبل طارق ج- باب المندب د- البسفور

١٤- ثاني خلفاء الدولة الاموية :

أ- معاوية بن أبي سفيان ب- عبدالملك بن مروان

ج- عمر بن عبدالعزيز د- يزيد بن معاوية

الأسئلة المقالية :

١- صنف الإسهامات الحضارية في العصر الأموي في الجدول الآتي حسب المجال الذي تنتمي إليه:

١- ترجمة الكتب العلمية ٢- إدخال آلات عسكرية في الحرب مثل الدبابة

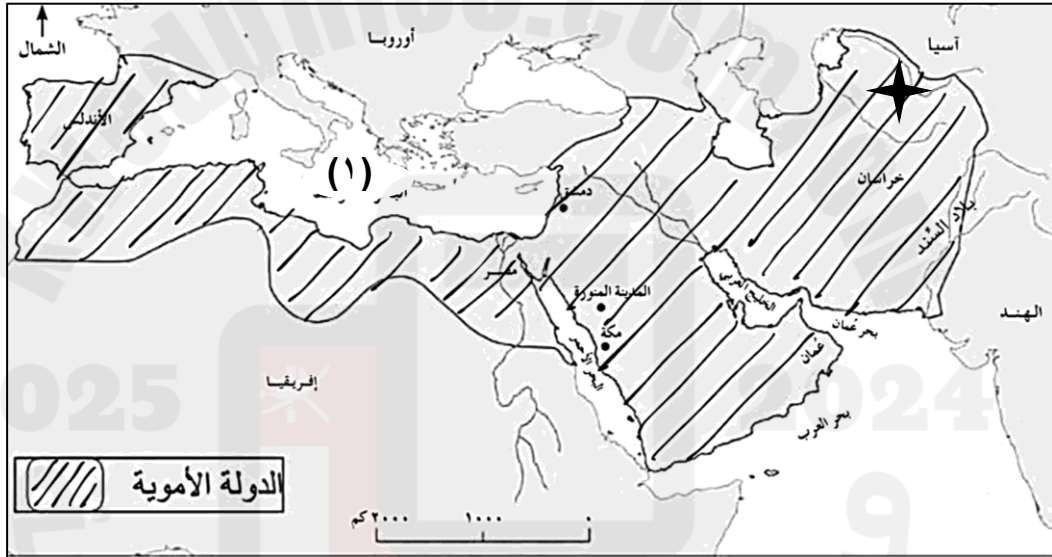
٣- ديوان البريد ٤- تخطيط مدينة القيروان ٥- سك عملة نقدية باللغة العربية.

العسكري	الاقتصادي	الثقافي	العمرائي	الإداري

٢- علل ما يلي:

أ- انتقال الحكم من الخفاء الراشدين إلى الأمويين.

٣- أدرس خريطة امتداد الدولة الأموية ثم أجب عن الأسئلة التي تليها:



أ- وقع على الخريطة مضيق جبل طارق .

ب- اسم المسطح المائي المشار إليه بالرقم (١).

ج- المناطق التي فتحها الأمويون في :

قارة آسيا
قارة أوروبا

د- القائد المسلم الذي قاد الفتوحات الإسلامية في المنطقة المشار إليها في الخريطة بالرمز ✨ .

هـ - الجهة الرئيسية التي تقع فيها بلاد السند بالنسبة لعاصمة الدولة الأموية.

٤- ادرس الصور الآتية التي توضح الاسهامات الحضارية في عصر الأمويين ثم أكمل الجدول الذي يليها:

			
.....	الثقافي	المجال
.....	استحداث دواوين جديدة مثل ديوان البريد	المنجز

٥- أكتب نتيجة واحدة ترتبت على الأحداث الآتية :
أ- معركة الزاب .

.....
ب- ظهور الفرق المعارضة للحكم الأموي.

.....

٦- أقرأ النص الآتي ثم أجب عن الأسئلة التي تليها:

"قامت الدولة الأموية بعد عصر الخلفاء الراشدين، وأول خلفائها كان معاوية بن أبي سفيان، حيث جعلوا الحكم وراثيًا بين أفراد الأسرة، ومع مرور الزمن ضعفت الدولة بسبب ظهور الفرق المعارضة للحكم الأموي، والنزاع الداخلي واتساع مساحتها، فسقطت وقامت بعدها الدولة العباسية.

أ- ما نظام الحكم في الدولة الأموية؟

.....
ب- أذكر سببين من أسباب سقوط الدولة الأموية؟

.....
ج- الدولة التي جاءت بعد الدولة الأموية؟

.....
د- ما النتيجة المترتبة على النزاع الداخلي على الحكم بين أبناء البيت الأموي؟

.....

٧- أكتب أسماء الشخصيات التاريخية مقابل ما يناسبها من العبارات في الجدول الآتي :

أ-.....	أول خلفاء الدولة الأموية
ب-.....	آخر الخلفاء الراشدين
ج-.....	ثاني خلفاء الدولة الأموية .
د-.....	القائد المسلم الذي قاد الفتوحات في بلاد ما وراء النهر.
هـ-.....	خليفة أموي سك أول عملة نقدية في عهده باللغة العربية .
و-.....	خليفة أموي اشتكى إليه أهل سمرقند بسبب سيطرة المسلمين عليها قبل دعوتهم للإسلام.