


شكراً لتحميلك هذا الملف من موقع المناهج العمانية



نموذج اختبار قصير ثاني

موقع المناهج ← المناهج العمانية ← الصف السادس ← علوم ← الفصل الأول ← الملف

تاريخ نشر الملف على موقع المناهج: 09:31:23 2023-11-23

التواصل الاجتماعي بحسب الصف السادس



روابط مواد الصف السادس على تلغرام

[الرياضيات](#)

[اللغة الانجليزية](#)

[اللغة العربية](#)

[التربية الاسلامية](#)

المزيد من الملفات بحسب الصف السادس والمادة علوم في الفصل الأول

اختبار قصير ثاني	1
مراجعة عامة للوحدة الأولى	2
مراجعة الوحدة الثالثة	3
أسئلة متنوعة محلولة في الوحدة الثانية	4
مراجعة عامة للوحدة الثانية	5

اسم الطالبة : الصف : السادس
الاختبار القصير رقم 2 - العلوم

السؤال الأول :

(١) تنمو نباتات الغابات الاستوائية في المناخ : [1]

☐ الحار المعتدل

☐ الحار البارد

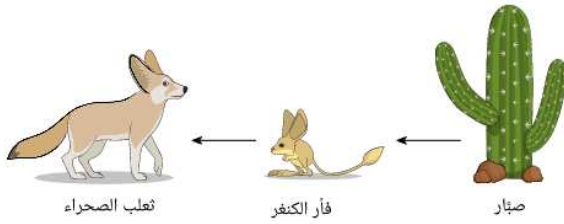
☐ الحار الجاف

☐ الحار الرطب

(ظلي الإجابة الصحيحة)

(٢) أدرسي السلسلة الغذائية التالية واجبي عن الأسئلة التي تليها :

أ- الكائن المنتج في السلسلة [1]



ب- ما الموطن الطبيعي الذي تمثله السلسلة الغذائية ؟ [1]

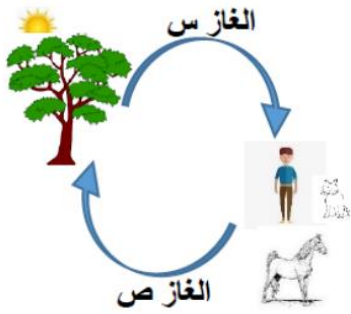
.....

(٣) اذكرين اثنين من الأسباب التي أدت الى إزالة الغابات ؟ [2]

(أ) (ب)

السؤال الثاني :

(١) ادرسي الشكل ثم اجبي عن الأسئلة التي تليها :



أ- يوضح الشكل احد الدورات الطبيعية، اي مما يلي يمثل الغاز (س) : [1]

☐ النيتروجين

☐ الاكسجين

☐ ثاني أكسيد الكربون

☐ الهيدروجين

(ظلي الإجابة الصحيحة)

ب- المصدر الرئيسي للطاقة التي يستخدمها النبات لصنع الغذاء هي [1]

ج- تنبأ ماذا سيحدث لو زادت نسبة الغاز (ص) في الغلاف الجوي للأرض؟ [1]

(٢) زاوجي بين العبارة والمصطلح العلمي المناسب لها : [2]

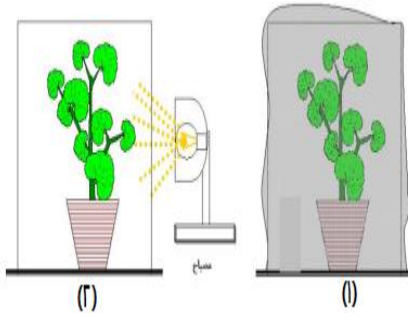
المصطلح العلمي (ب)
السلسلة الغذائية
الكائنات المستهلكة
الكائنات المنتجة
الموطن الطبيعي

العبارة (أ)
١- المكان الذي تعيش فيه الكائنات الحية في البيئة
٢- تصف العلاقة الغذائية بين الكائنات الحية
٣- الكائنات التي تتغذى على النباتات

السؤال الثالث :

(١) في استقصاء حاجة النبات للضوء، قامت طالبة بإجراء التجربة

الموضحة بالشكل ، تنبأ بما سيحدث للنباتين بعد سبعة أيام : [1]



<input type="radio"/>	يزداد نمو كل من النباتين (١) و (٢)
<input type="radio"/>	تموت كل من النباتين (١) و (٢)
<input type="radio"/>	النبتة (١) تنمو و النبتة (٢) تموت
<input type="radio"/>	النبتة (١) تموت و النبتة (٢) تنمو

(ظلي الإجابة الصحيحة)

(٢) أدرسي الشكل واجبي عن الأسئلة التالية

أ- ما اسم الظاهرة التي تحدث في الشكل المقابل ؟ [1]

.....

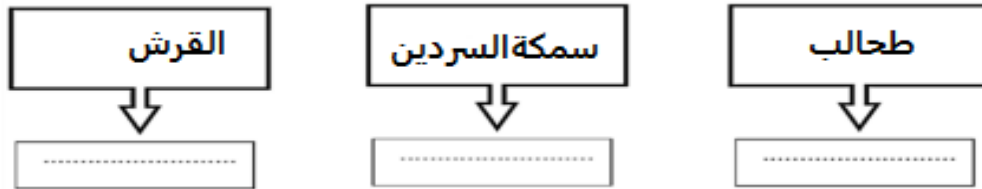
ب- تنبأ بما سيحدث للتربة عند حدوث هذه الظاهرة ؟ [1]

.....



(٣) أكمل الشكل بوضع المصطلح المناسب من المصطلحات التالية : [2]

(فريسة - منتج - مفترس)



انتهت الأسئلة مع تمنياتي لكن بالتوفيق والنجاح طاباتي العزيزات

(أ. سعاد الوهيبيبة)

نموذج الإجابة