

امتحان تجريبي بمحافظة جنوب الباطنة



تم تحميل هذا الملف من موقع المناهج العمانية

موقع فايلاتي ← المناهج العمانية ← الصف السادس ← رياضيات ← الفصل الثاني ← ملفات متنوعة ← الملف

تاريخ إضافة الملف على موقع المناهج: 2025-06-01 11:24:37

ملفات اكتب للمعلم اكتب للطالب | اختبارات الكترونية | اختبارات | حلول | عروض بوربوينت | أوراق عمل
منهج انجليزي | ملخصات وتقارير | مذكرات وبنوك | الامتحان النهائي | للمدرس

المزيد من مادة
رياضيات:

التواصل الاجتماعي بحسب الصف السادس



صفحة المناهج
العمانية على
فيسبوك

الرياضيات

اللغة الانجليزية

اللغة العربية

التربية الاسلامية

المواد على تلغرام

المزيد من الملفات بحسب الصف السادس والمادة رياضيات في الفصل الثاني

نموذج إجابة أسئلة الامتحان النهائي الرسمي الموحد الدور الأول

1

أسئلة الامتحان النهائي الرسمي الموحد

2

الكراسة الامتحانية للاستعداد للاختبار النهائي

3

هيا معاً نذاكر رياضيات ملخص الوحدة الأولى والثانية من درس قياس الكتلة والسعة إلى درس لغة الاحتمال

4

مراجعة ثانية على الوحدة الأولى (القياس)

5



المديرية العامة للتربية والتعليم بمحافظة جنوب الباطنة

دائرة القياس والتقويم التربوي

قسم تقويم تعلم مواد العلوم الإنسانية والمهارات الفردية

امتحان تجريبي في مادة الدراسات الاجتماعية للصف السادس

الفصل الدراسي الثاني للعام الدراسي 1446 / 1447 هـ - 2024 / 2025 م

■ زمن الامتحان:	■ عدد صفحات أسئلة الامتحان: 7 صفحة
■ الإجابة في دفتر الأسئلة نفسه.	■ الدرجة الكلية للامتحان: 40 درجة
■ تُكتب الإجابة بالقلم الأزرق أو الأسود.	

اسم الطالب:	الصف:
-------------	-------

السؤال	الدرجة		التوقيع بالاسم	
	بالأرقام	بالحروف	اسم المصحح	اسم المراجع
أولاً: الأسئلة الموضوعية (1 - 12)				
ثانياً: الأسئلة المقالية 13				
14				
15				
16				
المجموع			جمعه	مراجعة الجمع
المجموع الكلي				

أجب عن جميع الأسئلة الآتية

أولا/ الأسئلة الموضوعية: ضع دائرة حول رمز الإجابة الصحيحة لكل مفردة من المفردات الآتية (12 درجة):

1. جميع ما يلي من المصادر الأولية للبيانات السكانية ما عدا:

أ. التعداد السكاني ب. السجلات الحكومية ج. الإحصاءات الحيوية د. المسوحات بالعينّة



2. من أشكال المشاركة المجتمعية الذي تمثله الصورة أمامك:

أ. الانتخابات ب. العيد الوطني

ج. العمل التطوعي د. السبلة العمانية

3. العام الميلادي الذي أُجري فيه أول تعداد إلكتروني للسكان:

أ. 1991 ب. 2003 ج. 2010 د. 2020

4. إذا كان عدد المواليد وعدد الوفيات في سلطنة عمان عام 2022م كما هو موضح في الجدول المقابل

فإن الزيادة الطبيعية بالآلاف تساوي:

أ. 63 ب. 64

ج. 65 د. 66

المواليد والوفيات في سلطنة عمان عام 2022م	
عدد المواليد	71000 نسمة
عدد الوفيات	8000 نسمة

5. الجهة الحكومية التي تختص بالإشراف على مؤسسات المجتمع المدني في سلطنة عمان:



د

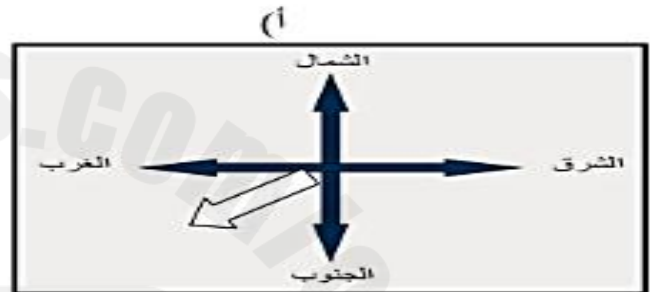
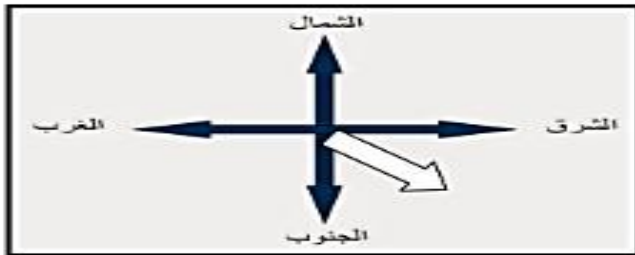
ج

ب

أ

تابع أولاً: الأسئلة الموضوعية:

6. الشكل الذي يمثل الاتجاه الصحيح الذي تسلكه سفن التجار العمانيين المتجهة من عمان إلى شرقي أفريقيا:



7. الترتيب الصحيح من الأدنى إلى الأعلى للمحافظات من حيث الكثافة السكانية لعام 2023م وفقاً للجدول المقابل:

المحافظة	الكثافة السكانية (نسمة/كم ²)
مسقط	372,5
مسندم	32,8
الداخلية	16,9
ظفار	98,0

- أ. الداخلية – مسندم – ظفار – مسقط
 ب. مسندم – مسقط – ظفار – الداخلية
 ج. مسقط – مسندم – الداخلية – ظفار
 د. الداخلية – ظفار – مسندم – مسقط

8. قائد الفتوحات الإسلامية إلى بلاد ما وراء النهر في القرن الأول الهجري:

- أ. قتيبة بن مسلم الباهلي
 ب. عباد بن عبد بن الجلندي
 ج. القاسم بن شعوة
 د. زياد بن المهلب

البطاقة التعريفية

- توفر الخدمات
- مناطق مستقرة سياسيا.
- وسائل النقل المختلفة.
- فرص عمل في المصانع والشركات.

9. العنوان المناسب للبطاقة التعريفية المقابلة:

- العوامل الطبيعية التي تؤثر في توزيع السكان.
- مناطق الكثافة السكانية المنخفضة.
- العوامل البشرية التي تؤثر في توزيع السكان.
- اختلاف عدد السكان بين المدينة والريف.

10. الفئة العمرية لمتوسطي السن تمتد بين:

- (15 – 34)
 - (15 – 44)
 - (15 – 54)
 - (15 – 64)
11. المصطلح الذي يشير إلى دراسة السكان من حيث التركيب العمري والنوعي والحالة الاقتصادية والاجتماعية:

- التعداد السكاني
 - النمو السكاني
 - البنية السكانية
 - الكثافة السكانية
12. المدينة التي انطلقت منها الحملات البحرية التي أرسلها الحجاج بن يوسف الثقفي للسيطرة على عمان:
- بندر عباس
 - البصرة
 - الكوفة
 - مكة

ثانياً: الأسئلة المقالية:

13 (7 درجات) أ- اذكر اثنين من العوامل التي أدت إلى سقوط الدولة الأموية سنة 132هـ. (درجتان).

.....
.....

ب. صنف مصادر الحصول على البيانات السكانية التي بين القوسين في الجدول الآتي: (3 درجات)
(سجلات المدارس – التسجيل الحيوي – سجلات المؤسسات الحكومية والأهلية)

المصادر الثانوية	المصادر الأساسية
.....	التعداد السكاني
.....

ج. أمامك مجموعة من الأحداث التاريخية التي ترتبط بعدد من الشخصيات العمانية في عصر الدولة الأموية، أكتب في الجدول اسم الشخصية مقابل الحدث المرتبط بها: (3 درجات)

الحدث التاريخي	اسم الشخصية
استشهد وهو يدافع عن تراب الوطن في المعركة التي تعرضت لها عمان سنة 69هـ ضد النجدات المعارضين للدولة الأموية.	
كان واليا للأمويين على عمان في أواخر حكم الدولة الأموية.	

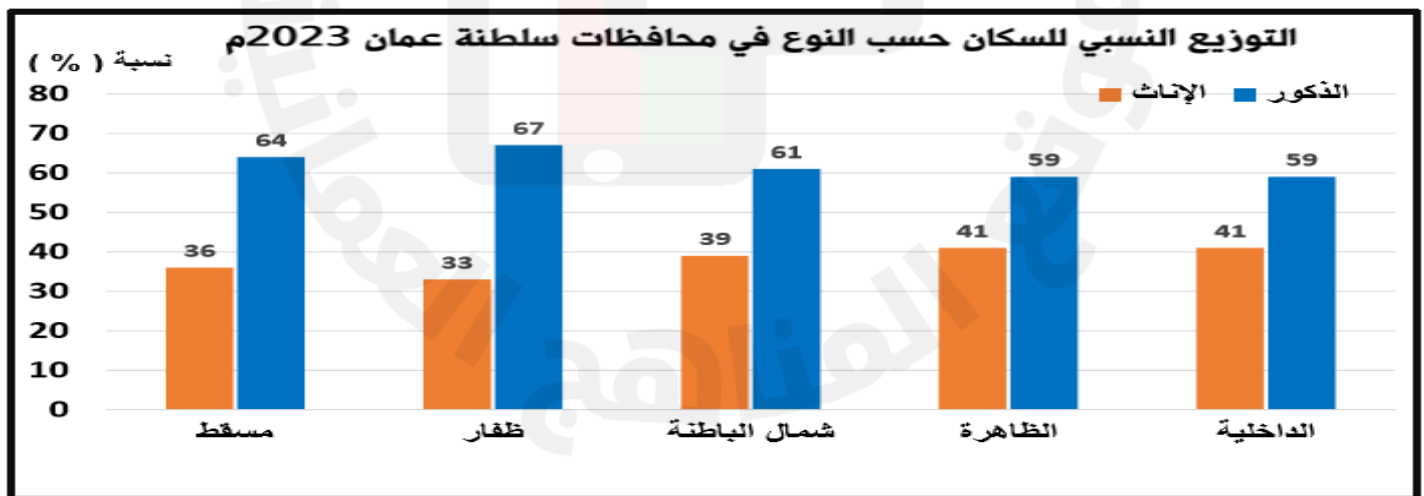
14(7 درجات)

(أ) أكتب أسفل كل صورة المشكلة السكانية التي تعبر عنها. (3 درجات)



1//2/3

(ب) ادرس الشكل أمامك الذي يتناول التوزيع النسبي للسكان حسب النوع في عدد من محافظات السلطنة لعام 2023م ثم أجب عن الأسئلة التي تليه: (4 درجات)



1. المحافظة الأقل من حيث نسبة الإناث؟

.....

2. رتب تنازليًا المحافظات بين القوسين من الأعلى إلى الأدنى من حيث نسبة الذكور:
(مسقط / ظفار / شمال الباطنة)

--	--	--



(15) (7 درجات)

(أ) اكتب في الجدول أدناه اسم مؤسسة المجتمع المدني التي تقدم هذه الخدمة (درجتان)

المؤسسة	الخدمات
	المحافظة على المسطحات الخضراء
	تقديم المساعدات الإنسانية أثناء الأعاصير

(ب) اقرأ النص الآتي وأجب عن الأسئلة التي تليه: (3 درجات)

(للعمل التطوعي دور كبير في بناء المجتمع العماني، وقد أشار جلالة السلطان قابوس طيب الله ثراه إلى هذه الأهمية عند موافقته على تدشين جائزة السلطان قابوس للعمل التطوعي بتاريخ 18 سبتمبر 2010م بقوله:
"إننا نؤمن بأن العمل التطوعي هو ركيزة أساسية في بناء المجتمع، ويعكس روح التعاون والتكافل بين أفرادهِ. لذا، فإننا نشجع على تعزيز هذا النهج النبيل، وندعو الجميع إلى المشاركة الفاعلة في خدمة الوطن والمجتمع".)

1. ما أهمية العمل التطوعي في بناء المجتمع العماني كما ورد في كلمة جلالة السلطان قابوس طيب الله ثراه؟
(درجة)

.....

.....

2. ما اسم الجائزة الذي وافق عليها جلالة السلطان قابوس لتشجيع العمل التطوعي؟ (درجة)

.....

3. أذكر عملاً تطوعياً واحداً شاركت فيه لخدمة مجتمعك المحلي. (درجة)

.....

.....

(ج) أكتب مقابل كل عبارة من العبارات الواردة في الجدول الآتي المفهوم الدال عليها: (درجتان)

المفهوم	العبارة
	تصنيف السكان إلى قوى عاملة وقوى غير عاملة.
	تولي الابن الأكبر للحاكم أو أحد أقربائه الحكم من بعده.

(16) (7 درجات)

(أ) ادرس الجدول أمامك الذي يتناول مساحة سلطنة عمان وعدد سكانها حسب إحصاءات عام 2022 ثم أجب عن الأسئلة التي تليه (3 درجات)

عدد السكان	المساحة
4,933,850 نسمة	309,500 كم ²

1. احسب الكثافة السكانية في سلطنة عمان. (مع كتابة المعادلة الحسابية).

.....

.....

.....

.....

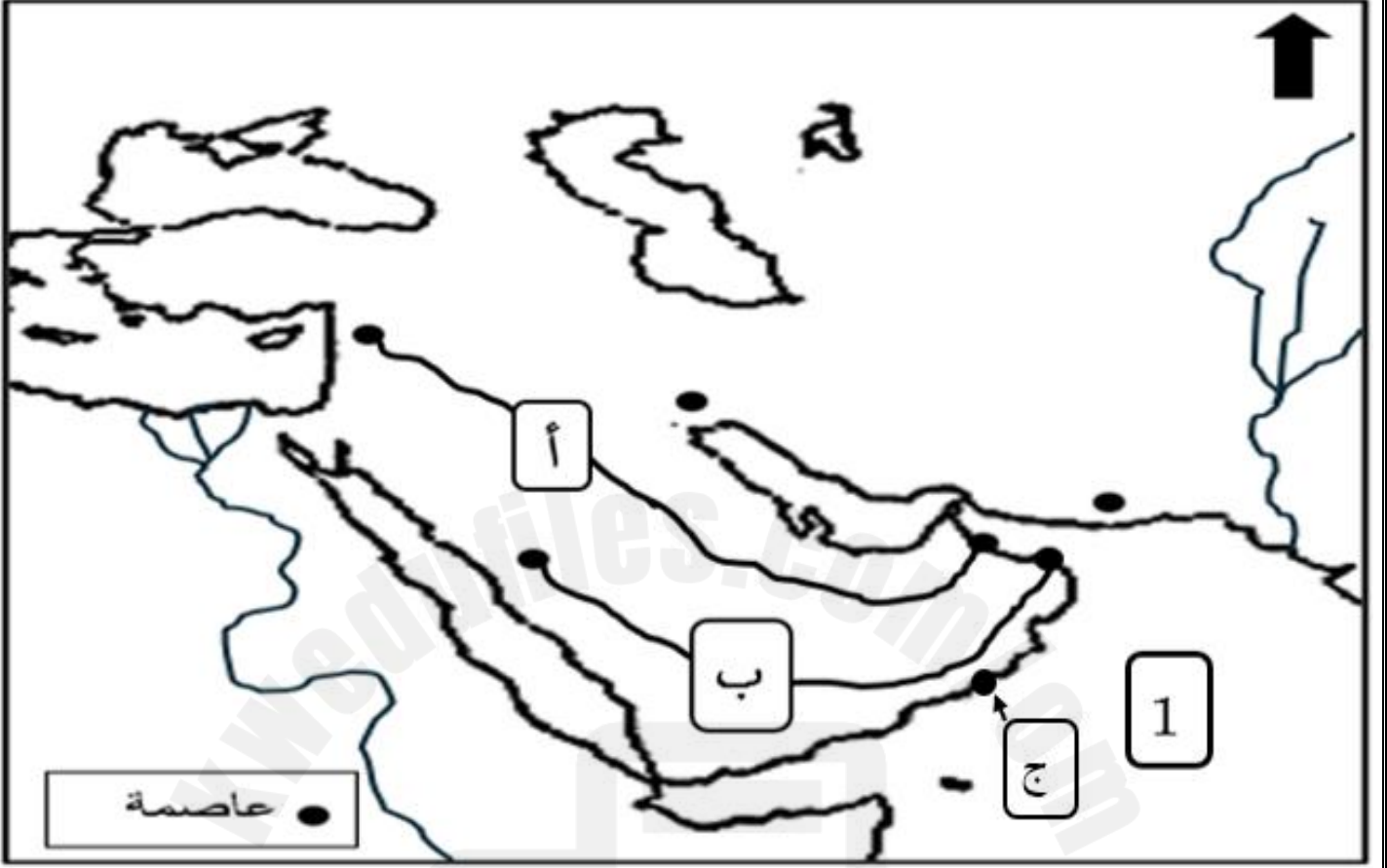
2. فسر: انخفاض الكثافة السكانية في سلطنة عمان.

.....

.....

.....

ب. ادرس الخريطة التي أمامك جيدا ثم أجب عن الأسئلة التي تليها: (4 درجات)



- 1- اكتب على الخريطة عاصمة الدولة الأموية في موقعها الصحيح.
- 2- سم ما يلي:
أ. المسطح المائي المشار إليه بالرقم (1).

ب. الميناء العماني المشار إليها بالرمز (ج).

- 3- ما الرمز الدال على خط السير الصحيح للحملة البرية التي انتصر فيها الأمويون على عمان؟

انتهت الأسئلة مع الدعاء للجميع بالتوفيق والنجاح

