

امتحان تجريبي نهائي مرفق بنموذج الإجابة في محافظة ظفار



تم تحميل هذا الملف من موقع المناهج العمانية

موقع فايلاتي ← المناهج العمانية ← الصف السادس ← اجتماعيات ← الفصل الأول ← ملفات متنوعة ← الملف

تاريخ إضافة الملف على موقع المناهج: 11:38:10 2025-12-19

ملفات اكتب للمعلم اكتب للطالب | اختبارات الكترونية | اختبارات | حلول | عروض بوربوينت | أوراق عمل
منهج انجليزي | ملخصات وتقارير | مذكرات وبنوك | الامتحان النهائي | للمدرس

المزيد من مادة
اجتماعيات:

التواصل الاجتماعي بحسب الصف السادس



صفحة المناهج
العمانية على
فيسبوك

المزيد من الملفات بحسب الصف السادس والمادة اجتماعيات في الفصل الأول

أسئلة وإجابات الكتيب المساند للمادة	1
تجميعية اختبارات قصيرة ثانية	2
اختبار قصير أول 2025	3
تجميع اختبارات قصيرة للمادة	4
ملخص الوحدة الثانية في الدروس الثلاث الأولى	5



وزارة التربية والتعليم

المديرية العامة للتربية والتعليم بمحافظة ظفار

دائرة الإشراف التربوي / قسم الإشراف الفني

إشراف مادة التاريخ

امتحان مادة الدراسات الاجتماعية للصف السادس

الفصل الدراسي: الأول

للعام الدراسي ١٤٤٧ / ١٤٤٨ هـ - ٢٠٢٥ / ٢٠٢٦ م

■ زمن الامتحان: ساعة ونصف	■ عدد صفحات أسئلة الامتحان: ٧ صفحة
■ الإجابة في دفتر الأسئلة نفسه.	
■ تُكتب الإجابة بالقلم الأزرق أو الأسود.	■ الدرجة الكلية للامتحان : ٦٠

اسم الطالب/ة: _____	الصف: _____
---------------------	-------------

السؤال		الدرجة		التوقيع بالاسم	
		بالأرقام	بالحروف	اسم المصحح	اسم المراجع
أولاً: الأسئلة الموضوعية	(١ - ١٢)				
	١٣				
	١٤				
	١٥				
	١٦				
ثانياً: الأسئلة المقالية	المجموع			جمعه	مراجعة الجمع
	المجموع الكلي	٦٠			

أجب عن جميع الأسئلة الآتية

أولاً: الأسئلة الموضوعية

ظّل الشكل () المقترن بالإجابة الصحيحة لكل مفردة من المفردات الآتية:

[١-٠] (١) الرموز التي تستخدم لتمثيل الظاهرة الجغرافية التي تتميز بخاصية الحركة والاستقرار :

☐ النقطية ☐ الخطية ☐ المساحية ☐ الكمية

[١-٠] (٢) ممثل حاكم الدولة في ولاية من الولايات ومن مهامه جمع الصدقات وتعليم الناس أمور دينهم :

☐ الخليفة ☐ الخطيب ☐ المحارب ☐ العامل

(٣) الخطة الخمسية التي ركزت فيها الحكومة على مجموعة من القطاعات الاقتصادية الغير نفطية:

☐ السابعة ☐ الثامنة ☐ التاسعة ☐ العاشرة

[١-٠] (٤) الدولة التي تشترك مع سلطنة عُمان في مشروع مصفاة الدقم :

☐ السعودية ☐ البحرين ☐ الامارات ☐ الكويت

[١-٠] (٥) الشكل الذي ينطبق فيه الوصف الصحيح لمدينة خزائن الاقتصادية :



☐



☐

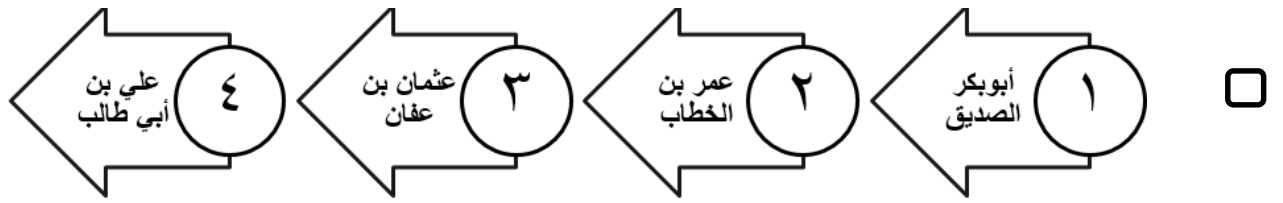
☐

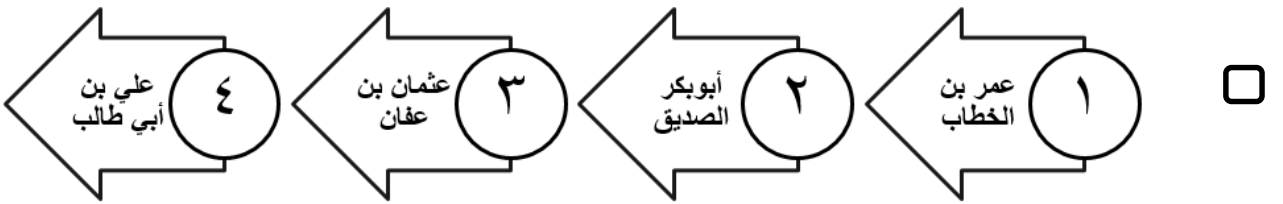


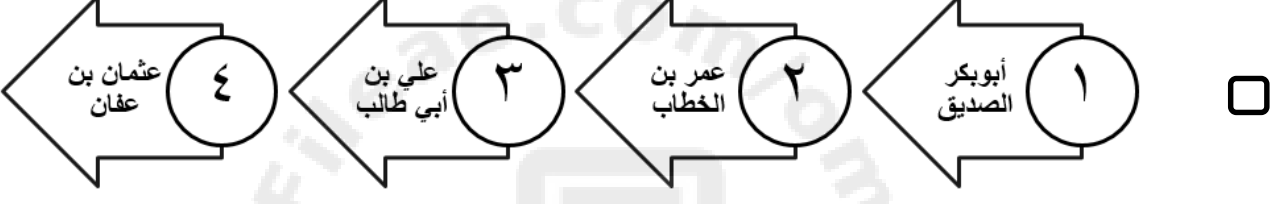
☐


تابع أولاً: الأسئلة الموضوعية:

(٦) الترتيب الزمني الصحيح لانتقال الحكم بين الخلفاء الراشدين من الأقدم إلى الأحدث :

□ 

□ 

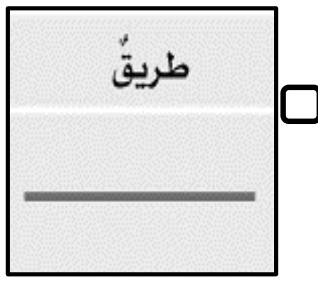
□ 


□ 


(٧) الشخصية العُمانية الذي عينه الخليفة عمر بن الخطاب قاضياً على البصرة:


□ عبد بن الجندى □ حذيفة بن محصن □ صعصعة بن صوحان □ كعب بن سور

(٨) الشكل الصحيح الذي يمثل الرمز المساحي :

□ 

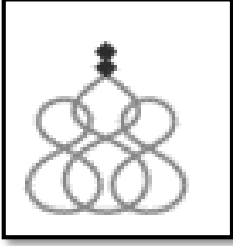
□ 

□ 

□ 

تابع أولاً: الأسئلة الموضوعية:

[١-٠]



٩) الهدف من إنشاء المؤسسة الحكومية التي يمثلها الشعار الواضح أمامك:

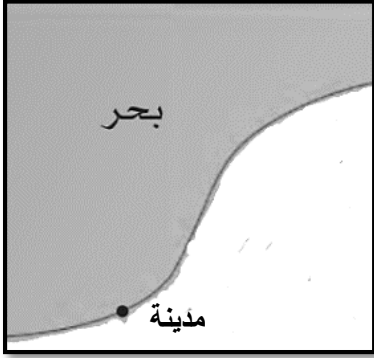
☐ توفير فرص العمل

☐ تأهيل القيادات الإدارية

☐ ضمان حقوق الموظفين

☐ تدريب المعلمين

[١-٠] ١٠) الطريقة الصحيحة التي توضح كتابة الأسماء الجغرافية في الشكل أمامك:



☐ كتابة اسم المدينة بحجم صغير في اليابس

☐ كتابة اسم المدينة بحجم كبير في المسطح المائي

☐ تكتب بخط كبير وبوضع عمودي

☐ تكتب بخط صغير وبوضع أفقي

[١-٠] ١١) الصناعة التحويلية التي يمكن انتاجها من المكون الظاهر في الصورة أمامك:



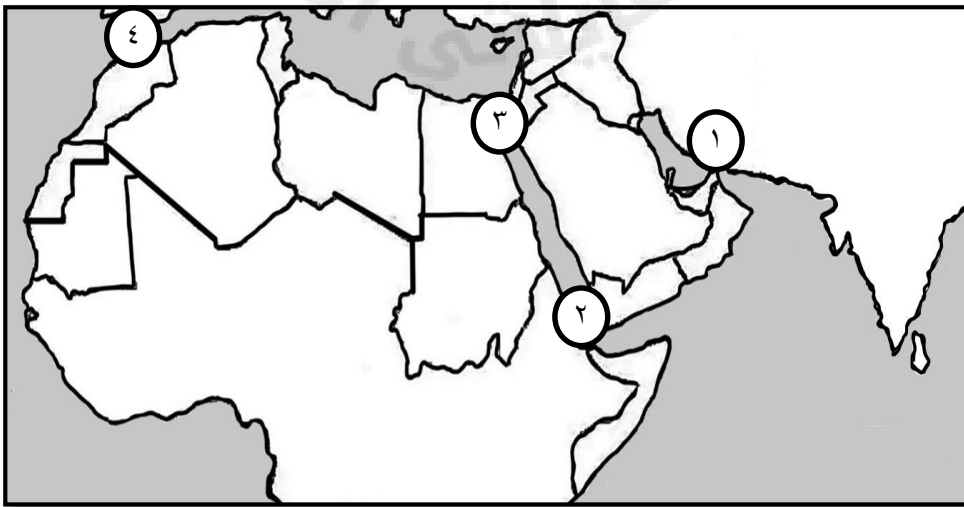
☐ الزيت

☐ الزجاج

☐ ماء الورد

☐ الأقمشة

[١-٠] ١٢) الرقم الصحيح الذي يمثل الممر المائي الذي تشرف عليه سلطنة عُمان :



☐ ٤

☐ ٣

☐ ٢

☐ ١

ثانياً : الأسئلة المقالية

١٣ أ. اكتب المصطلح/المفهوم الدال على العبارات الآتية:

المصطلح/المفهوم	العبارات
(١) _____	الصحابية الذين تولوا الحكم بعد وفاة الرسول ﷺ.
(٢) _____	مجموعة من الأشكال والخطوط والألوان ترسم على الخريطة لتمثيل الظاهر الجغرافية الموجودة على سطح الأرض. .

[٢-١-٠]

ب. اذكر:

(١) واحدة من طرق انتقال الحكم بين الخلفاء الراشدين.

[١-٠] _____

(٢) مثال لظاهرة جغرافية يتم تمثيلها بالرموز الخطية.

[١-٠] _____

ج. ادرس خريطة سلطنة عُمان التي أمامك جيداً ، ثم أجب عن الأسئلة التي تقابلها:

(١) وقع على الخريطة عاصمة سلطنة عُمان باستخدام

الرمز المناسب في مكانه الصحيح. [١-٠]

(٢) بالاستعانة بمفتاح الخريطة ، اكتب ما يمثله الرمز

(أ) _____ [١-٠]

(٣) سمّ نوع الرموز حسب الشكل الوارد في مفتاح

الخريطة. [١-٠] _____



تابع ثانياً : الأسئلة المقالية

(١٤) أ. صنف الأمثلة الواردة بين القوسين حسب المعطيات في الجدول الآتي :

(الأمن والاستقرار ، الموقع الجغرافي ، أشكال سطح الأرض ، البنية التحتية)

المقومات الطبيعية	المقومات البشرية

[٤-٣-٢-١-٠]

ب.اقرأ النص الآتي جيداً، ثم أجب عن الأسئلة التي تليه:

"شارك العُثمانيون في الفتوحات الإسلامية لاسيما في فتوحات العراق وبلاد فارس والسند في عهد الخليفة عمر بن الخطاب مستفيداً من خبرة العُثمانيين في ارتياد البحر واستخدام الأسطول إذ اعتمدت دولة الخلافة في فتوحاتها البحرية على العُثمانيين بالدرجة الأولى خاصة وإن الإسلام قد أذكى في نفوس العُثمانيين حماسة كبيرة للمشاركة فيها".

(١) اكتب تعريفاً مناسباً لما تحته خط في الفقرة السابقة.

[١-٠] _____

(٢) استخرج من النص منطقة شارك العُثمانيون في فتوحاتها .

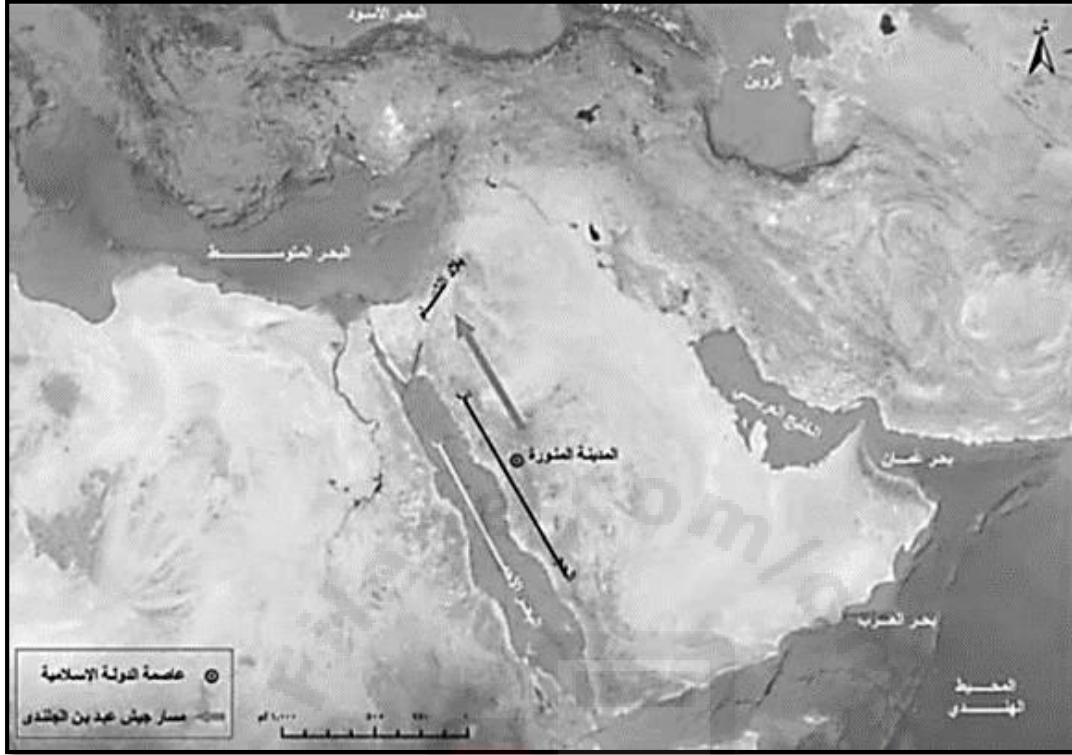
[١-٠] _____

(٣) علل .اعتمدت الخلافة الراشدة في فتوحاتهم البحرية على العُثمانيين.

[١-٠] _____

تابع ثانياً : الأسئلة المقالية

١٥ أ. ادرس خريطة مسار جيش عبد بن الجلندي لمواجهة آل جفنة جيداً ، ثم أجب عن الأسئلة الآتية:



(١) استخرج من الخريطة المنطقة التي خرج إليها جيش عبد بن الجلندي. [١-٠]

(٢) سمّ الخليفة الذي كلف عبد بن الجلندي للقيام بهذه المهمة. [١-٠]

(٣) اكتب السبب الرئيس لخروج جيش عبد بن الجلندي.

[١-٠] _____

ب. أكمل المخطط الآتي لأحد الصناعات التي اشتهر بها العُمانيون قديماً بالاستعانة بالصورة التي أمامك:

اسم الصناعة: [١-٠] _____

مادة الصنع: [١-٠] _____

الدولة التي تجلب منها مادة الصنع: [١-٠] _____

الميناء الرئيس للتجارة والملاحة في عُمان: [١-٠] _____



نموذج إجابة الامتحان التجريبي للصف السادس


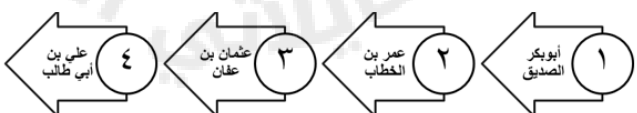

المادة : الدراسات الاجتماعية

الفصل الدراسي : الأول

للعام الدراسي ١٤٤٧ هـ - ٢٠٢٥م / ٢٠٢٦م

المادة : الدراسات الاجتماعية **الدرجة الكلية: (٤٠) درجة.**
تنبيه: نموذج الإجابة في (٥) .

أولاً: إجابة الأسئلة الموضوعية. الدرجة (١٢)


المفردة	الإجابة	الدرجة	الصفحة
١	الخطية	١	٢٠
٢	العامل	١	٥٢
٣	العاشرة	١	٧٧
٤	الكويت	١	٨٧
٥		١	٨٩
٦		١	٤٤
٧	كعب بن سور	١	٥٧
٨		١	٢٠
٩	تأهيل القيادات الإدارية	١	٧١
١٠	تكتب بخط صغير وبوضع أفقي	١	٣٠
١١	الزجاج	١	٧٨
١٢	١	١	٦٦

نموذج إجابة الامتحان التجريبي للصف السادس

المادة : الدراسات الاجتماعية

الفصل الدراسي : الأول

للعام الدراسي ١٤٤٧ هـ - ٢٠٢٥م/٢٠٢٦

ثانياً : إجابة الأسئلة المقالية.				
الدرجة (٧)				
المفردة	الجزئية	الإجابة الصحيحة	الدرجة	الصفحة
أ	(١)	الخلفاء الراشدون	١	٤٤
	(٢)	رموز الخريطة	١	١٨
	مفتاح التصحيح	[٢-١-٠]		
	معيّار التصحيح	لكل جزئية درجة		
ب	(١)	انتخاب مباشر – التزكية – اختيار من بين عدد المرشحين – بيعة عامة	١	٤٤
	مفتاح التصحيح	[١-٠]		
	معيّار التصحيح	يكتفى بذكر واحد		
	(٢)	الحدود الإدارية – واد – مجرى مائي	١	٢٠،٢٤
	مفتاح التصحيح	[١-٠]		
ج	معيّار التصحيح	يكتفى بذكر واحد		
	(١)		١	٣٤
	مفتاح التصحيح	[١-٠]		
	(٢)	ولاية	١	١٨
	مفتاح التصحيح	[١-٠]		
	(٣)	رموز نقطية	١	٢٠،٣١
	مفتاح التصحيح	[١-٠]		

الدرجة (٧)

تابع ثانياً : إجابة الأسئلة المقالية.

المفردة	الجزئية	الإجابة الصحيحة	الدرجة	الصفحة						
١٤	أ	<table><tr><td>المقومات الطبيعية</td><td>المقومات البشرية</td></tr><tr><td>الموقع الجغرافي</td><td>الأمن والاستقرار</td></tr><tr><td>أشكال سطح الأرض</td><td>البنية التحتية</td></tr></table>	المقومات الطبيعية	المقومات البشرية	الموقع الجغرافي	الأمن والاستقرار	أشكال سطح الأرض	البنية التحتية	٤	٦٦
		المقومات الطبيعية	المقومات البشرية							
		الموقع الجغرافي	الأمن والاستقرار							
	أشكال سطح الأرض	البنية التحتية								
	مفتاح التصحيح		[٤-٣-٢-١-٠]							
	معيار التصحيح		لكل جزئية درجة - لا يشترط الترتيب في كل مقوم.							
	ب	(١)	مجموعة من السفن تستخدم لأغراض مدنية أو عسكرية.		١	٥٤				
		مفتاح التصحيح		[١-٠]						
		معيار التصحيح		إذا كتب الطالب إجابة واحدة تعطى له درجة .						
		(٢)	العراق - بلاد فارس - السند		١	٥٤				
مفتاح التصحيح		[١-٠]								
معيار التصحيح		إذا كتب الطالب إجابة واحدة تعطى له درجة .								
ج.	(٣)	لأن الإسلام قد أذكى في نفوس العُثمانيين حماسة كبيرة للمشاركة في الفتوحات الإسلامية - خبرة العُثمانيين في الملاحة البحرية .		١	٥٤،٥٧					
	مفتاح التصحيح		[١-٠]							
	معيار التصحيح		تقبل إجابة الطالب بما يفيد المعنى							

الدرجة (٧)

ثانياً : إجابة الأسئلة المقالية.

المفردة	الجزئية	الإجابة الصحيحة	الدرجة	الصفحة
١٥	أ	(١) بلاد الشام	١	٥١
		مفتاح التصحيح		[١-٠]
		(٢) الخليفة أبو بكر الصديق.	١	٥١
		مفتاح التصحيح		[١-٠]
		(٣) لمواجهة الغساسنة المرتدين من قبيلة آل جفنة في الشام.	١	٥١
		مفتاح التصحيح		[١-٠]
	ب	<p>اسم الصناعة : السفن</p> <p>مادة الصنع: الاخشاب</p> <p>الدولة التي تجلب منها مادة الصنع: الهند</p> <p>الميناء الرئيس للتجارة والملاحة في عُمان: صحار</p>	١	٥٥
		مفتاح التصحيح		[٤-٣-٢-١-٠]
		معيّار التصحيح		لكل جزئية درجة



ثانياً : إجابة الأسئلة المقالية.					الدرجة (٧)	
المفردة	الجزئية		الإجابة الصحيحة		الدرجة	الصفحة
١٦	أ	(١)	مشروع المليون نخلة – مشروع استزراع الصفيح		١	٩١
		مفتاح التصحيح	[١-٠]			
		معيار التصحيح	يكتفى بذكر مثال واحد			
		(٢)	لتحقيق الاكتفاء الذاتي		١	٩١
		مفتاح التصحيح	[١-٠]			
	ب	(٣)	النخلة		١	٩٣
		(١)	سلطنة عمان تمتلك بنية تحتية حديثة تتمثل في شبكة متقدمة من الطرق والموانئ والمطارات وشبكات المياه والاتصالات مما يعزز من قدرتها على جذب الاستثمارات المحلية والأجنبية.		١	٧٢
		مفتاح التصحيح	[١-٠]			
		معيار التصحيح	تقبل إجابة الطالب بما يفيد المعنى			
		(٢)	ميناء خصب		١	٧٢
		مفتاح التصحيح	[١-٠]			
		(٣)	الاكتشاف والإنتاج – النقل والتخزين – التكرير والمعالجة – التسويق		٢	٧٧
		مفتاح التصحيح	[٢-١-٠]			
		معيار التصحيح	يكتفى بذكر اثنان فقط ولكل درجة			

انتهى نموذج الإجابة