

## مذكرة إثرائية سؤال وجواب في الوحدة الأولى جغرافية السكان 2024-2025



### تم تحميل هذا الملف من موقع المناهج العمانية

موقع فايلاتي ⇨ المناهج العمانية ⇨ الصف السادس ⇨ اجتماعيات ⇨ الفصل الأول ⇨ اختبارات ⇨ الملف

تاريخ إضافة الملف على موقع المناهج: 18:22:53 2025-04-11

ملفات اكتب للمعلم اكتب للطالب | اختبارات الكترونية | اختبارات | حلول | عروض بوربوينت | أوراق عمل  
منهج انجليزي | ملخصات وتقارير | مذكرات وبنوك | الامتحان النهائي | للمدرس

المزيد من مادة  
اجتماعيات:

إعداد: علي بن محمد الحسان

### التواصل الاجتماعي بحسب الصف السادس



صفحة المناهج  
العمانية على  
فيسبوك

الرياضيات

اللغة الانجليزية

اللغة العربية

التربية الاسلامية

المواد على تلغرام

### المزيد من الملفات بحسب الصف السادس والمادة اجتماعيات في الفصل الأول

الامتحان النهائي الرسمي الدور الأول الفترة المسائية

1

نموذج إجابة الامتحان النهائي الرسمي الدور الأول الفترة الصباحية

2

الامتحان النهائي الرسمي الدور الأول الفترة الصباحية

3

امتحان تدريبي في محافظة جنوب الباطنة

4

نموذج إجابة الامتحان التدريبي في محافظة جنوب الباطنة

5



درس : البيانات السكانية ( أجوبة )

**السؤال الأول : ضع علامة (✓) أو (X) أمام العبارة المناسبة مع تصحيح ما تحته خط إذا كانت العبارة خطأ .**

- ١- ( ✓ ) تنتهج سلطنة عمان نظام الحكومة الالكترونية بهدف ربط البيانات السكانية بالمؤسسات الحكومية .  
٢- ( ✓ ) أهمية توفير بيانات سكانية دقيقة للتخطيط المستقبلي في قطاعات الصحة والتعليم .

**السؤال الثاني : اختر الإجابة الصحيحة من بين البدائل المعطاة .**

- ١- يعد من اشمل المصادر الإحصائية لدراسة الخصائص السكانية ( التعداد السكاني - الإحصاءات الحيوية ) .  
٢- سجلات المؤسسات الحكومية والخاصة تعتبر من المصادر ( الأولية - الثانوية ) .

**السؤال الثالث : أكمل العبارات التالية بكلمات مناسبة من عندك .**

- ١- تسمى الإحصاءات الحيوية في سلطنة عمان بسجل الأحوال المدنية .  
٢- المسوحات بالعينة تطبق على جزء من المجتمع .

**السؤال الرابع : ظلل الإجابة الصحيحة من بين البدائل المعطاة .**

- ١- السلطان قابوس بن سعيد طيب الله ثراه هو اول مواطن تسجل بياناته في اول تعداد شامل بسلطنة عمان عام ...  
 ١٩٩٢ ○ ١٩٩٣ ● ١٩٩٤ ○  
 ٢- اول تعداد الكتروني اجري في سلطنة عمان كان عام ...  
 ٢٠٢٠ ● ٢٠٢١ ○ ٢٠٢٢ ○

**السؤال الخامس : ماهي السجلات التي يشتمل عليها سجل الأحوال المدنية في سلطنة عمان .**

|              |             |                  |            |
|--------------|-------------|------------------|------------|
| سجل المواليد | سجل الوفيات | سجل حالات الزواج | سجل الطلاق |
|--------------|-------------|------------------|------------|

**السؤال السادس : ماهي السجلات التي تشتمل عليها سجلات المؤسسات الحكومية .**

|               |                  |              |
|---------------|------------------|--------------|
| سجلات المدارس | سجلات المستشفيات | سجلات الهجرة |
|---------------|------------------|--------------|

**السؤال السابع : اكمل الجدول بمصادر البيانات السكانية .**

| المصادر الثانوية                | المصادر الأولية   |
|---------------------------------|-------------------|
| سجلات المؤسسات الحكومية والخاصة | التعداد السكاني   |
|                                 | الإحصاءات الحيوية |
|                                 | المسوحات بالعينة  |

**السؤال الثامن : اكمل الجدول التالي بمجال المقارنة حول التعداد الميداني والتعداد الإلكتروني .**

| وجه المقارنة      | التعداد الميداني | التعداد الإلكتروني  |
|-------------------|------------------|---------------------|
| سرعة جمع البيانات | بطيء             | سريع                |
| آلية جمع البيانات | استمارات ورقية   | أجهزة وتقنيات حديثة |
| الجهد             | يأخذ جهد طويل    | يأخذ جهد قليل       |
| التكلفة           | كثيرة            | قليلة               |

**السؤال التاسع : صنف البيانات التالية حسب مصادرها .**

(عدد السكان، أعداد السياح الزائرين لسلطنة عُمان، أنواع المساكن والمنشآت، إجمالي طلبة الصف الأول في المدارس).

| مصادر أولية            | مصادر ثانوية                      |
|------------------------|-----------------------------------|
| عدد السكان             | اعداد السياح الزائرين لسلطنة عمان |
| أنواع المساكن والمنشآت | إجمالي طلبة الصف الأول في المدارس |

**السؤال العاشر : " تخرص الدول على توفير قاعدة من البيانات السكانية لما لها من أهمية كبيرة " اكتب ثلاث منها ؟ .****السؤال الحادي عشر : اجب عن الأسئلة التالية .**

عرف التعداد ؟

١

هو عملية حصر السكان والمساكن والمنشآت لمجتمع معين في وقت محدد وعلى فترات منتظمة

في ماذا تستخدم المسوحات العينية ؟

٢

تستخدم لجمع البيانات السكانية بين فترات التعداد ولقياس دقة التعداد

ماهي مميزات المسوحات العينية ؟

٣

تتميز بانها توفر الوقت والجهد والتكلفة

ما هو الهدف من انتهاج سلطنة عمان نظام الحكومة الالكترونية ؟

٤

ربط البيانات السكانية بالمؤسسات الحكومية

درس : البيانات السكانية ( أسئلة )

**السؤال الأول : ضع علامة (✓) أو (X) أمام العبارة المناسبة مع تصحيح ما تحته خط إذا كانت العبارة خطأ .**

- ١- ( ) تنتهج سلطنة عمان نظام الحكومة الالكترونية بهدف ربط البيانات السكانية بالمؤسسات الحكومية .  
 ٢- ( ) أهمية توفير بيانات سكانية دقيقة للتخطيط المستقبلي في قطاعات الصحة والتعليم .

**السؤال الثاني : اختر الإجابة الصحيحة من بين البدائل المعطاة .**

- ١- يعد من اشمل المصادر الإحصائية لدراسة الخصائص السكانية ( التعداد السكاني - الإحصاءات الحيوية ) .  
 ٢- سجلات المؤسسات الحكومية والخاصة تعتبر من المصادر ( الأولية - الثانوية ) .

**السؤال الثالث : أكمل العبارات التالية بكلمات مناسبة من عندك .**

- ١- تسمى الإحصاءات الحيوية في سلطنة عمان بسجل .....  
 ٢- المسوحات بالعينة تطبق على ..... من المجتمع .

**السؤال الرابع : ظلل الإجابة الصحيحة من بين البدائل المعطاة .**

- ١- السلطان قابوس بن سعيد طيب الله ثراه هو اول مواطن تسجل بياناته في اول تعداد شامل بسلطنة عمان عام ...  
 ١٩٩٢ ○ ١٩٩٣ ○ ١٩٩٤ ○  
 ٢- اول تعداد الكتروني اجري في سلطنة عمان كان عام ...  
 ٢٠٢٠ م ○ ٢٠٢١ ○ ٢٠٢٢ ○

**السؤال الخامس : ماهي السجلات التي يشتمل عليها سجل الأحوال المدنية في سلطنة عمان .**

|           |           |           |           |
|-----------|-----------|-----------|-----------|
| سجل ..... | سجل ..... | سجل ..... | سجل ..... |
|-----------|-----------|-----------|-----------|

**السؤال السادس : ماهي السجلات التي تشتمل عليها سجلات المؤسسات الحكومية .**

|             |             |             |
|-------------|-------------|-------------|
| سجلات ..... | سجلات ..... | سجلات ..... |
|-------------|-------------|-------------|

**السؤال السابع : اكمل الجدول بمصادر البيانات السكانية .**

| المصادر الثانوية | المصادر الأولية |
|------------------|-----------------|
|                  |                 |
|                  |                 |
|                  |                 |

**السؤال الثامن : اكمل الجدول التالي بمجال المقارنة حول التعداد الميداني والتعداد الإلكتروني .**

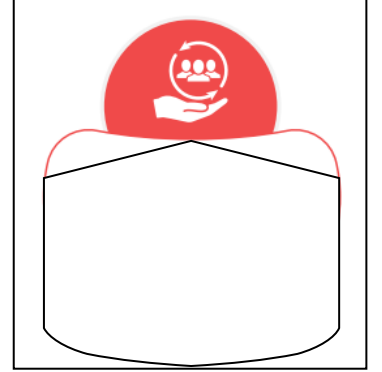

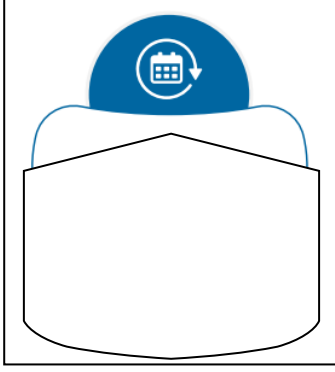
| وجه المقارنة      | التعداد الميداني | التعداد الإلكتروني |
|-------------------|------------------|--------------------|
| سرعة جمع البيانات |                  |                    |
| آلية جمع البيانات |                  |                    |
| الجهد             |                  |                    |
| التكلفة           |                  |                    |

**السؤال التاسع : صنف البيانات التالية حسب مصادرها .**

(عدد السكان، أعداد السياح الزائرين لسلطنة عُمان، أنواع المساكن والمنشآت، إجمالي طلبة الصف الأول في المدارس).

| مصادر أولية | مصادر ثانوية |
|-------------|--------------|
|             |              |
|             |              |

**السؤال العاشر : " تخرص الدول على توفير قاعدة من البيانات السكانية لما لها من أهمية كبيرة " اكتب ثلاث منها ؟ .**



**السؤال الحادي عشر : اجب عن الأسئلة التالية .**

عرف التعداد ؟

١

في ماذا تستخدم المسوحات العينية ؟

٢

ماهي مميزات المسوحات العينية ؟

٣

ما هو الهدف من انتهاج سلطنة عمان نظام الحكومة الالكترونية ؟

٤



درس : بنية السكان ( أجوبة )

**السؤال الأول : ضع علامة ( ✓ ) أو ( X ) أمام العبارة المناسبة مع تصحيح ما تمته خط إذا كانت العبارة خطأ .**

- ١- ( ✓ ) تمثل الاهرامات السكانية على هيئة اعداد او نسب مئوية .
- ٢- ( ✓ ) علينا ان نضمن جهود القوى العاملة في بناء المجتمع وتطوره .

**السؤال الثاني : ضع امام العبارات التالية المصطلح الدال عليها**

- ١- ( البنية السكانية ) دراسة السكان من حيث التركيب العمري والنوعي والحالة الاقتصادية والاجتماعية .
- ٢- ( البنية النوعية ) يقصد بها تصنيف السكان حسب النوع الى ذكور واناث .
- ٣- ( البنية الاجتماعية ) تتمثل في خصائص السكان من حيث حالات الزواج ( متزوج - اعزب - ارمل .... ) .

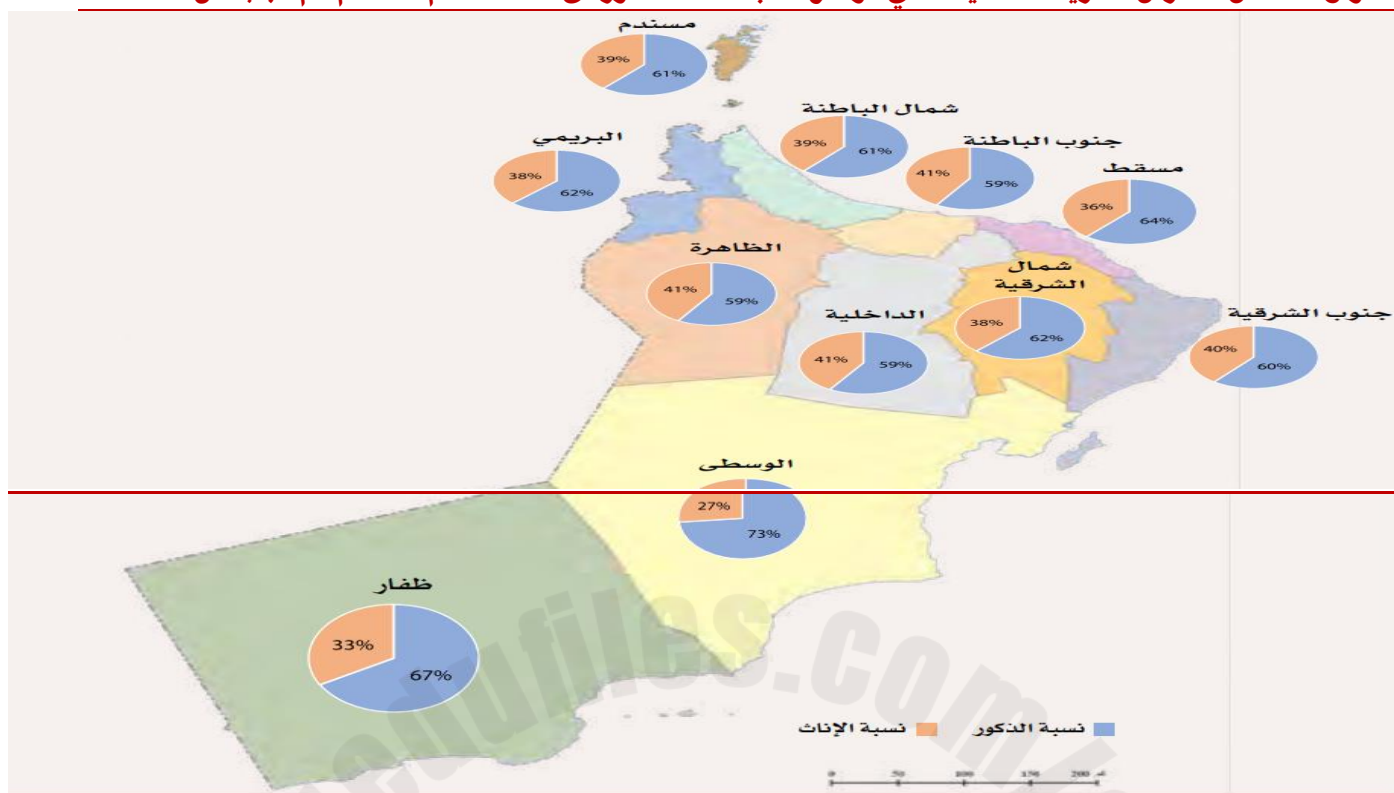
**السؤال الثالث : أكمل العبارات التالية بكلمات مناسبة من عندك .**

- ١- السن الذي ينتمي اليه متوسطو السن هو ١٥- ٦٤ سنة .
- ٢- تمثل البيانات السكانية الخاصة بالعمر والنوع في شكل يعرف بالهرم السكاني .

**السؤال الرابع : "يتأثر تركيز نوع معين عن الآخر في المجتمعات بعوامل عدة " كيف تؤثر العوامل التالية في بنية السكان.**

|  |   |   |
|--|---|---|
| <p><b>عدم الدقة في تسجيل البيانات السكانية</b></p> <p>تؤدي الى اختلاف نسب النوع<br/>ومن امثلتها النقص في تسجيل<br/>عدد الاناث او التبليغ الخاطئ<br/>عن نوع المولود</p> | <p><b>الحروب</b></p> <p>تؤدي الى زيادة نسبة الاناث<br/>بسبب مشاركة عدد كبير من<br/>الذكور في الحروب</p> | <p><b>الهجرة</b></p> <p>تؤثر في اختلاف نسب الذكور<br/>والاناث ، فاعل المهاجرين من<br/>الذكور عادة</p> |
|--|---|---|

**السؤال الخامس : ادرس الخريطة التالية التي توضح نسبة عدد الذكور الى الاناث لعام ٢٠٢٣م ثم اجب عن الأسئلة .**



الذكور

ما النوع الأكثر ارتفاعا في محافظات سلطنة عمان

لأنها تعتمد اعتماد كبير على الصناعات النفطية والغازية إضافة الى الصيد والتعدين ، وهذه الاعمال تتركز على الذكور بشكل اكبر

علل انخفاض نسبة الاناث في محافظة الوسطى مقارنة بنسبة الذكور

**السؤال السادس : " ينقسم السكان الى ثلاث فئات عمرية رئيسية " اكتبها مع ذكر السنوات لكل مرحلة**

كبار السن

متوسطو السن

صغار السن

( ٦٥ ) سنة فأكثر

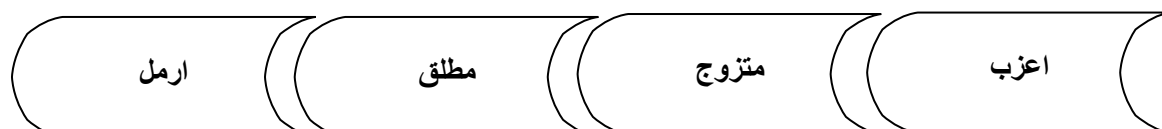
( ١٥ - ٦٤ ) سنة

( ١٤ ) سنة فأقل

**السؤال السابع : صف الفئات العمرية التي ينتمي اليها الأشخاص التالية أعمارهم**

| ١٧ سنة     | ٧ سنوات   | ٥٥ سنة      | ٦٩ سنة    | ١١ سنة    |
|------------|-----------|-------------|-----------|-----------|
| متوسط السن | صغار السن | متوسطو السن | كبار السن | صغار السن |

**السؤال الثامن : " تتمثل البنية الاجتماعية في خصائص السكان من حيث الحالة الزوجية ) ماهي فئاتها ؟**



**السؤال التاسع : تامل الهرم السكاني التالي ثم اكتب النوع الذي تنتمي اليه الفئة العمرية****السؤال العاشر : تامل الشكل البياني الذي يوضح التوزيع النسبي للسكان لدول مجلس التعاون الخليجي لعام ٢٠٢١م ثم اجب عن الأسئلة .**

الذكور : قطر - الامارات - البحرين - عمان - الكويت - السعودية  
 الاناث : السعودية - الكويت - عمان - البحرين - الامارات - قطر

رتب نسب الذكور والاناث في دول مجلس التعاون الخليجي من الأعلى الى الأقل

لأنها تعتمد اعتماد كبير على العمالة الوافدة وخاصة في المنشآت التي تحتاج جهد اكبر كالصناعات واعمال البناء والتشييد

علل وجود فارق كبير بين نسب الذكور والاناث في كل من قطر والامارات العربية

**السؤال الحادي عشر : ادرس الجدول التالي الذي يوضح عدد السكان في سلطنة عمان لعام ٢٠٢٣م**  
**ثم احسب اجمالي السكان في الفئات العمرية المختلفة**

| إجمالي عدد السكان | الفئات العمرية |
|-------------------|----------------|
| ٤٣٢,٢٤٧           | ٤-٠            |
| ٤٦٢,٧٥٩           | ٩-٥            |
| ٣٦٣,٦٦٨           | ١٤-١٠          |
| ٢٧٠,٩٦٥           | ١٩-١٥          |
| ٣٧٢,٨٧٠           | ٢٤-٢٠          |
| ٥٤٢,٩١٠           | ٢٩-٢٥          |
| ٦٣٨,٨٠١           | ٣٤-٣٠          |
| ٦٠٢,١١٨           | ٣٩-٣٥          |
| ٤٤٢,١٥٨           | ٤٤-٤٠          |
| ٢٨٦,٥٤٥           | ٤٩-٤٥          |
| ١٨٥,٤٧٩           | ٥٤-٥٠          |
| ١١٩,١٦٤           | ٥٩-٥٥          |
| ٨٢,٠١١            | ٦٤-٦٠          |
| ٥٢,٤١٥            | ٦٩-٦٥          |
| ٣٣,٣٢٨            | ٧٤-٧٠          |

| إجمالي السكان | الفئات العمرية  |
|---------------|-----------------|
| ١٢٥٨٦٧٤       | فئة صغار السن   |
| ٣٥٤٣٠٢١       | فئة متوسطي السن |
| ١٣٢١٥٥        | فئة كبار السن   |

**السؤال الثاني عشر : " يصنف السكان في البنية الاقتصادية الى قوى عاملة وقوى غير عاملة " ضع تحت الصورة نوع القوى**  
**قوى عاملة وقوى غير عاملة**




قوى غير عاملة



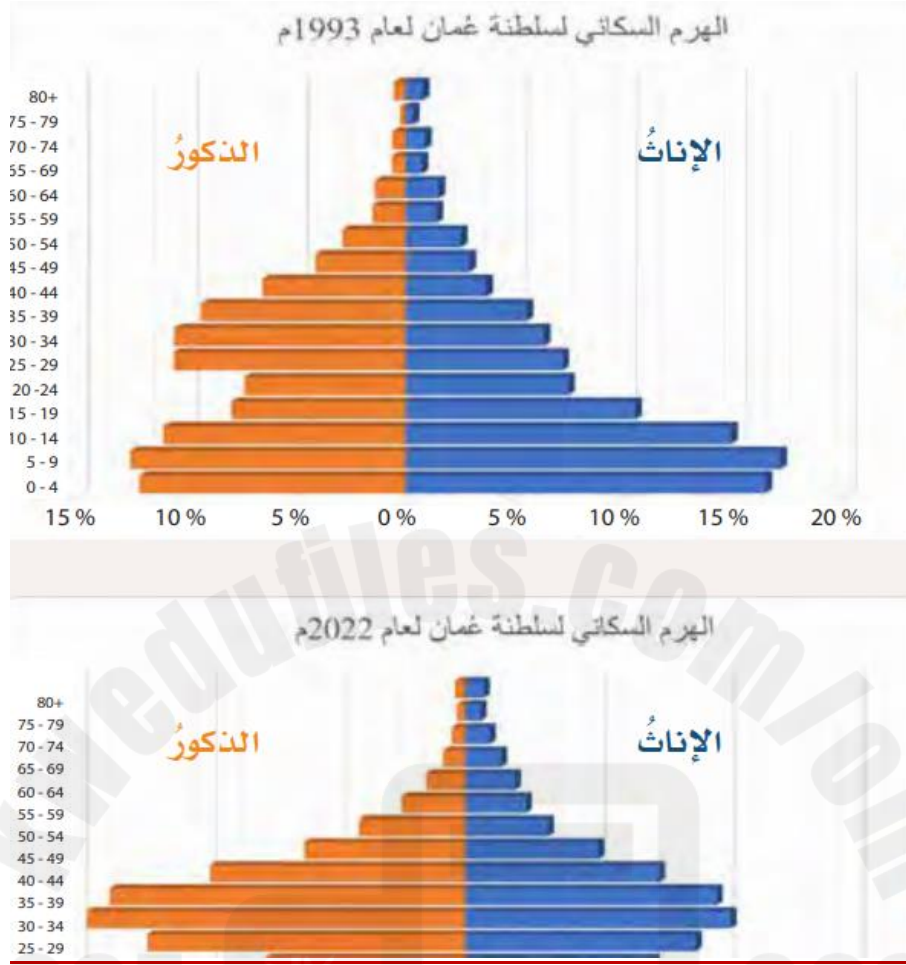
قوى عاملة



قوى غير عاملة



قوى عاملة

**السؤال الثالث عشر : تأمل الشكلان التاليان الذين يمثلان الهرم السكاني لسلطنة عمان لعامي ١٩٩٣م-٢٠٢٢م****ثم اجب عن الأسئلة**

علام يدل وجود قاعدة ضيقة للهرم السكاني لعام ٢٠٢٢م

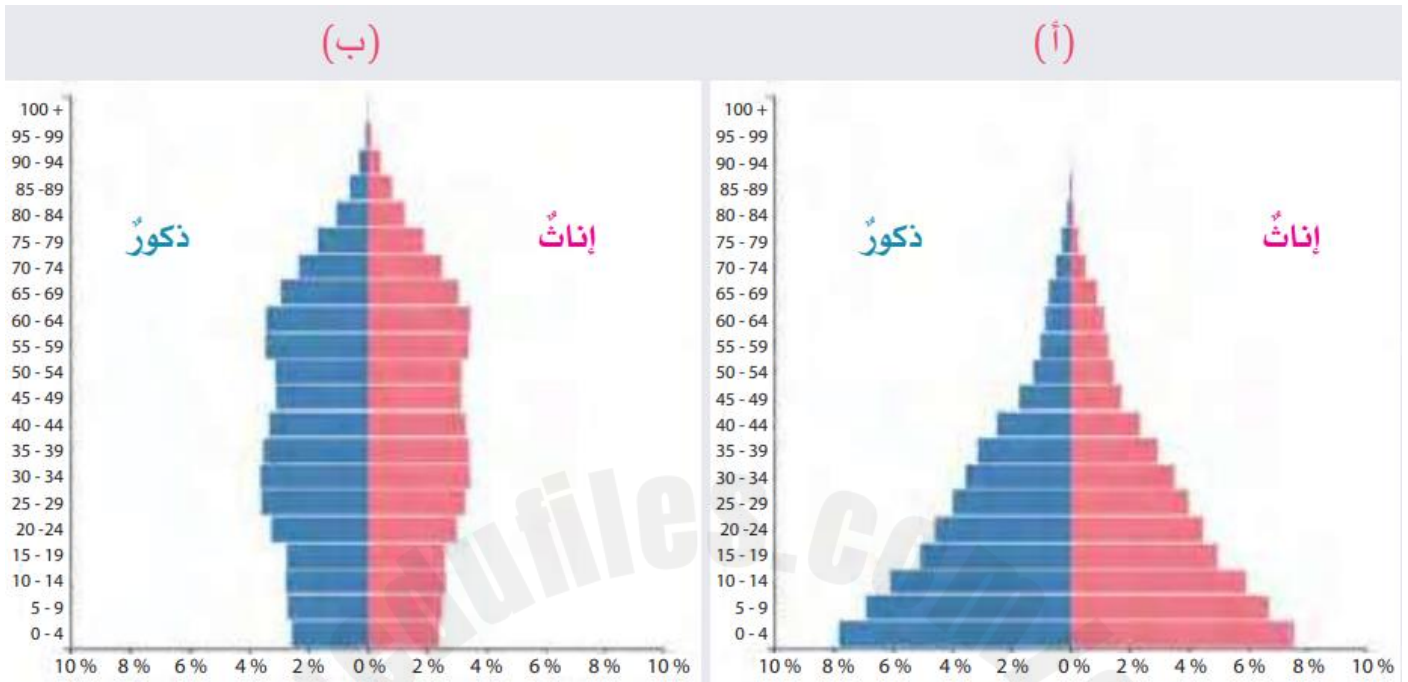
يدل على انخفاض نسبة فئة صغار السن

ما التغير الذي حدث في بنية سكان سلطنة عمان العمرية بين عامي ١٩٩٣م ٢٠٢٢م ؟ ولماذا ؟

قلة نسبة صغار السن في المجتمع بسبب تنظيم الاسرة والتقليل من الانجاب

حدد الفئة العمرية ذات النسبة الأعلى في الهرمين السكائيين وتوقع النتائج المترتبة على ذلك ؟

عام ١٩٩٣ الفئة ذات النسبة الأعلى فئة صغار السن ، النتائج : زيادة الضغط على الخدمات المختلفة  
عام ٢٠٢٢ الفئة ذات النسبة الأعلى فئة متوسطي السن ، النتائج : زيادة الإنتاجية والنمو الاقتصادي

**السؤال الرابع عشر : ادرس الهرم السكاني ( أ - ب ) ثم قارن بينهما من حيث****١- شكل الهرم ٢- الفئة العمرية الأكثر ارتفاعا**

| ب                       | أ                        | وجه المقارنة  |
|-------------------------|--------------------------|---------------|
| الهرم ذو القاعدة الضيقة | الهرم ذو القاعدة العريضة | شكل الهرم     |
| متوسط السن              | صغار السن                | الفئة العمرية |



**درس : بنية السكان ( أسئلة )**

**السؤال الأول : ضع علامة (✓) أو (X) أمام العبارة المناسبة مع تصحيح ما تخطه خط إذا كانت العبارة خطأ .**

- ١- ( ) تمثل الاهرامات السكانية على هيئة اعداد او نسب مئوية .
- ٢- ( ) علينا ان نؤمن جهود القوى العاملة في بناء المجتمع وتطوره .

**السؤال الثاني : ضع امام العبارات التالية المصطلح الدال عليها**

- ١- ( ) دراسة السكان من حيث التركيب العمري والنوعي والحالة الاقتصادية والاجتماعية .
- ٢- ( ) يقصد بها تصنيف السكان حسب النوع الى ذكور واناث .
- ٣- ( ) تتمثل في خصائص السكان من حيث حالات الزواج ( متزوج – اعزب – ارمل .... ) .

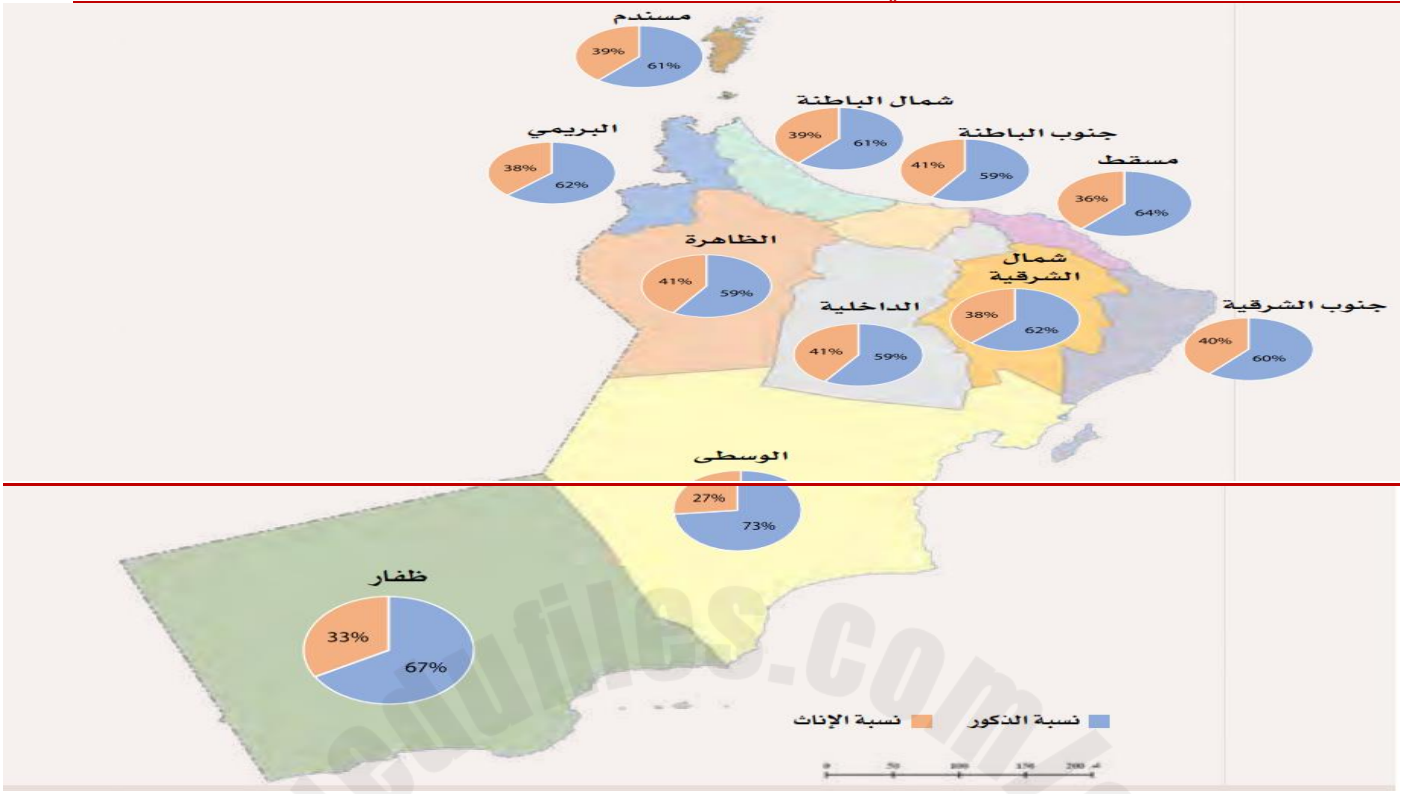
**السؤال الثالث : أكمل العبارات التالية بكلمات مناسبة من عندك .**

- ١- السن الذي ينتمي اليه متوسط السن هو ..... سنة .
- ٢- تمثل البيانات السكانية الخاصة بالعمر والنوع في شكل يعرف بالهرم .....

**السؤال الرابع : ”يتأثر تركيز نوع معين عن الآخر في المجتمعات بعوامل عدة ” كيف تؤثر العوامل التالية في بنية السكان.**

| الهجرة | الحروب | عدم الدقة في تسجيل البيانات السكانية |
|--------|--------|--------------------------------------|
|        |        |                                      |

**السؤال الخامس : ادرس الخريطة التالية التي توضح نسبة عدد الذكور الى الاناث لعام ٢٠٢٣م ثم اجب عن الأسئلة .**



ما النوع الأكثر ارتفاعا في محافظات سلطنة عمان

علل انخفاض نسبة الاناث في محافظة الوسطى مقارنة بنسبة الذكور

**السؤال السادس : " ينقسم السكان الى ثلاث فئات عمرية رئيسية " اكتبها مع ذكر السنوات لكل مرحلة**

|  |  |  |
|--|--|--|
|  |  |  |
|--|--|--|

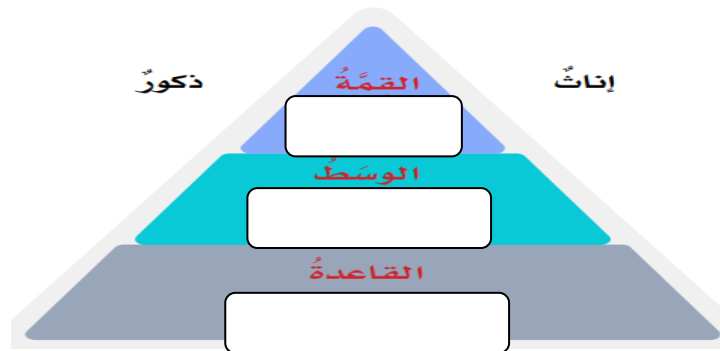
**السؤال السابع : صف الفئات العمرية التي ينتمي اليها الأشخاص التالية أعمارهم**

| ١٧ سنة | ٧ سنوات | ٥٥ سنة | ٦٩ سنة | ١١ سنة |
|--------|---------|--------|--------|--------|
|        |         |        |        |        |

**السؤال الثامن : " تتمثل البنية الاجتماعية في خصائص السكان من حيث الحالة الزوجية ) ماهي فئاتها ؟**

|  |  |  |  |
|--|--|--|--|
|  |  |  |  |
|--|--|--|--|



**السؤال التاسع : تأمل الهرم السكاني التالي ثم اكتب النوع الذي تنتمي اليه الفئة العمرية****السؤال العاشر : تأمل الشكل البياني الذي يوضح التوزيع النسبي للسكان لدول مجلس التعاون الخليجي لعام ٢٠٢١م ثم اجب عن الأسئلة .**

رتب نسب الذكور والإناث في دول مجلس التعاون الخليجي من الأعلى الى الأقل

علل وجود فارق كبير بين نسب الذكور والإناث في كل من قطر والإمارات العربية

**السؤال الحادي عشر : ادرس الجدول التالي يوضح عدد السكان في سلطنة عمان لعام ٢٠٢٣م**

**ثم احسب اجمالي السكان في الفئات العمرية المختلفة**

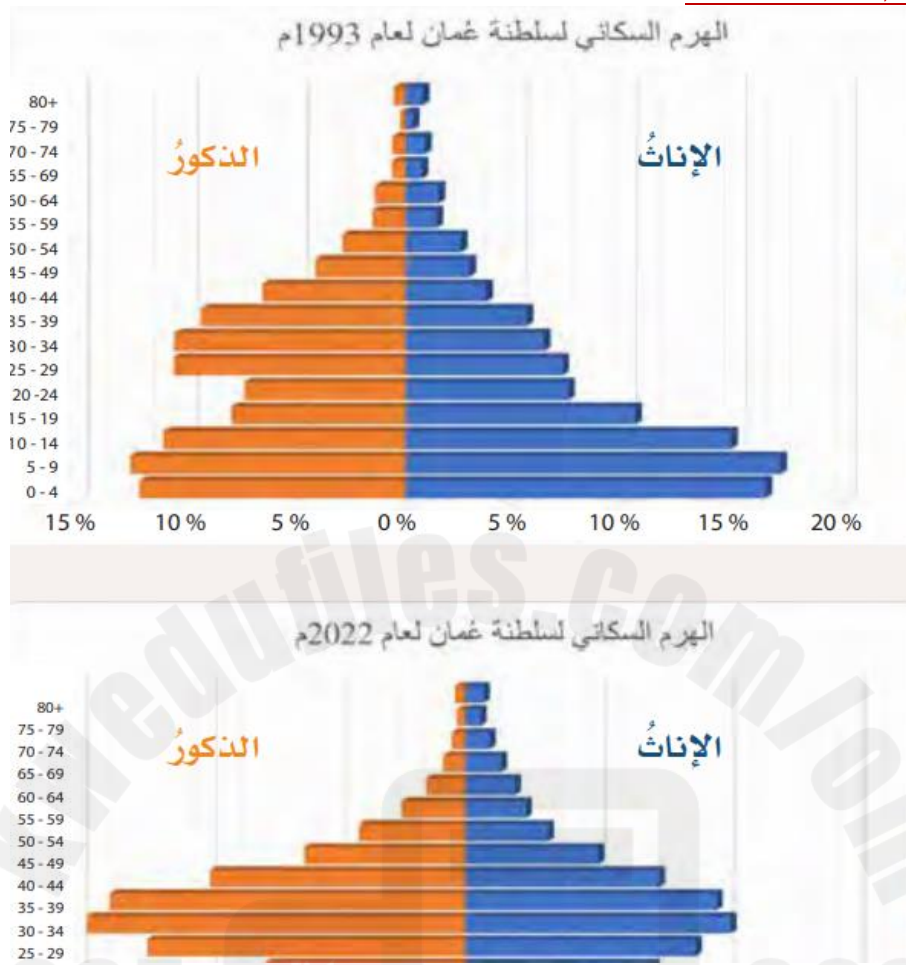
| إجمالي عدد السكان | الفئات العمرية |
|-------------------|----------------|
| ٤٣٢,٢٤٧           | ٤-٠            |
| ٤٦٢,٧٥٩           | ٩-٥            |
| ٣٦٣,٦٦٨           | ١٤-١٠          |
| ٢٧٠,٩٦٥           | ١٩-١٥          |
| ٣٧٢,٨٧٠           | ٢٤-٢٠          |
| ٥٤٢,٩١٠           | ٢٩-٢٥          |
| ٦٣٨,٨٠١           | ٣٤-٣٠          |
| ٦٠٢,١١٨           | ٣٩-٣٥          |
| ٤٤٢,١٥٨           | ٤٤-٤٠          |
| ٢٨٦,٥٤٥           | ٤٩-٤٥          |
| ١٨٥,٤٧٩           | ٥٤-٥٠          |
| ١١٩,١٦٤           | ٥٩-٥٥          |
| ٨٢,٠١١            | ٦٤-٦٠          |
| ٥٢,٤١٥            | ٦٩-٦٥          |
| ٣٣,٣٢٨            | ٧٤-٧٠          |

| إجمالي السكان | الفئات العمرية  |
|---------------|-----------------|
|               | فئة صغار السن   |
|               | فئة متوسطي السن |
|               | فئة كبار السن   |

**السؤال الثاني عشر : " يصنف السكان في البنية الاقتصادية الى قوى عاملة وقوى غير عاملة " ضع تحت الصورة نوع القوى**

**قوى عاملة وقوى غير عاملة**

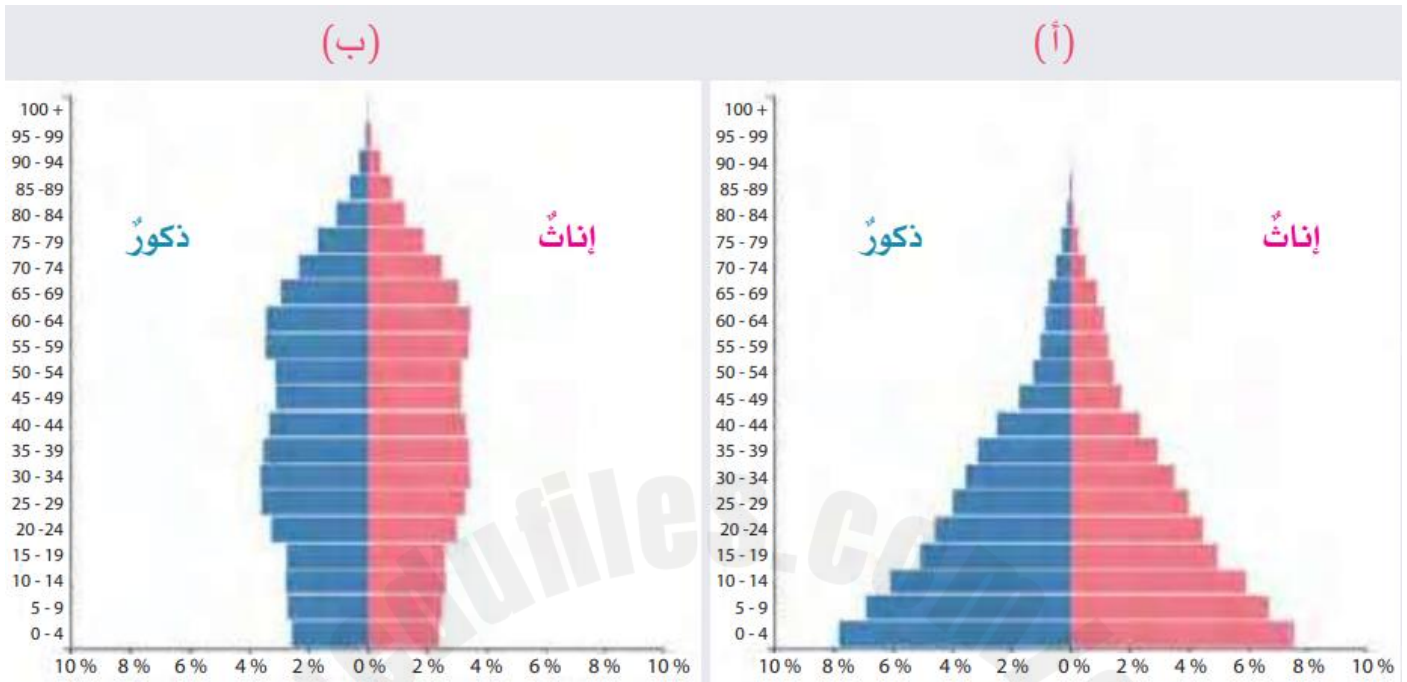


**السؤال الثالث عشر : تأمل الشكلان التاليان الذين يمثلان الهرم السكاني لسلطنة عمان لعامي ١٩٩٣م-٢٠٢٢م****ثم اجب عن الأسئلة**

علام يدل وجود قاعدة ضيقة للهرم السكاني لعام ٢٠٢٢م

ما التغير الذي حدث في بنية سكان سلطنة عمان العمرية بين عامي ١٩٩٣م ٢٠٢٢م ؟ ولماذا ؟

حدد الفئة العمرية ذات النسبة الأعلى في الهرمين السكائيين وتوقع النتائج المترتبة على ذلك ؟

**السؤال الرابع عشر : ادرس الهرم السكاني ( أ - ب ) ثم قارن بينهما من حيث****١- شكل الهرم ٢- الفئة العمرية الأكثر ارتفاعا**

| ب | أ | وجه المقارنة  |
|---|---|---------------|
|   |   | شكل الهرم     |
|   |   | الفئة العمرية |

درس : النمو السكاني ( أجوبة )

**السؤال الأول :** ضع علامة ( ✓ ) أو ( X ) أمام العبارة المناسبة مع تصحيح ما تمته خط إذا كانت العبارة خطأ .

- ١- ( X ) شهدت دول العالم خلال السنوات الأخيرة نموا في اعداد السكان بشكل متناقص . متزايد
- ٢- ( ✓ ) تعد الهجرة سببا رئيسيا لتغير النمو السكاني في المجتمع .

**السؤال الثاني :** اختر الإجابة الصحيحة بين البدائل المعطاة .

- ١- اذا كان النمو السكاني متوازيا مع الموارد المتاحة في المجتمع يكون المجتمع ( إيجابي - سلبي ) .
- ٢- اذا كان النمو السكاني يفوق الموارد المتاحة في المجتمع يكون المجتمع ( سلبي - إيجابي ) .

**السؤال الثالث :** ضع امام العبارات التالية المصطلح الدال عليها

- ١- ( النمو السكاني ) مقدار الزيادة في عدد السكان في منطقة معينة وخلال مدة زمنية محددة .
- ٢- ( الزيادة الطبيعية ) هي الفرق بين عدد المواليد وعدد الوفيات في مجتمع معين وفترة زمنية محدد .
- ٣- ( امد الحياة ) يقصد به عدد السنوات المتوقع ان يعيشها الفرد الواحد .
- ٤- ( الهجرة ) يقصد به انتقال الافراد من مكان الى آخر .

**السؤال الرابع :** اجب عن الأسئلة التالية

|   |   |
|---|---|
| الزيادة الطبيعية = عدد المواليد - عدد الوفيات | كيف تحسب الزيادة الطبيعية ؟                   |
| نتيجة لانتشار جائحة كورونا ( كوفيد ١٩ )       | ما سبب ارتفاع عدد الوفيات في العالم عام ٢٠٢٠م |

**السؤال الخامس :** " يوجد عدد من العوامل المؤثرة في الزيادة الطبيعية " اكتبها في الشكل التالي



**السؤال السادس : ادرس الشكل التالي والذي يمثل النمو السكاني في سلطنة عمان خلال الفترة من ٢٠٠٦م - ٢٠٢٢م**

**ثم اجب عن الأسئلة**



١- صف النمو السكاني في سلطنة عُمان خلال السنوات من (٢٠٠٦م - ٢٠٢٢م).

ستصف النمو السكاني في سلطنة عمان بالتفاوت في نسبة الارتفاع والانخفاض من ٢٠٠٦-٢٠٢٢م ( نمو متذبذب )

٢- ما السنة التي شهدت أعلى نموًا سكانيًا وأقل نموًا سكانيًا في سلطنة عُمان؟

أعلى نمو للسكان كان سنة ٢٠١١م وأقل نمو للسكان كان سنة ٢٠٢٠م

٣- ما توقعك للنمو السكاني في سلطنة عُمان مستقبلاً؟ ولماذا؟

النمو السكاني سوف يرتفع بسبب زيادة نسبة الفئة العمرية المتوسطة وهي فئة الزواج والانجاب

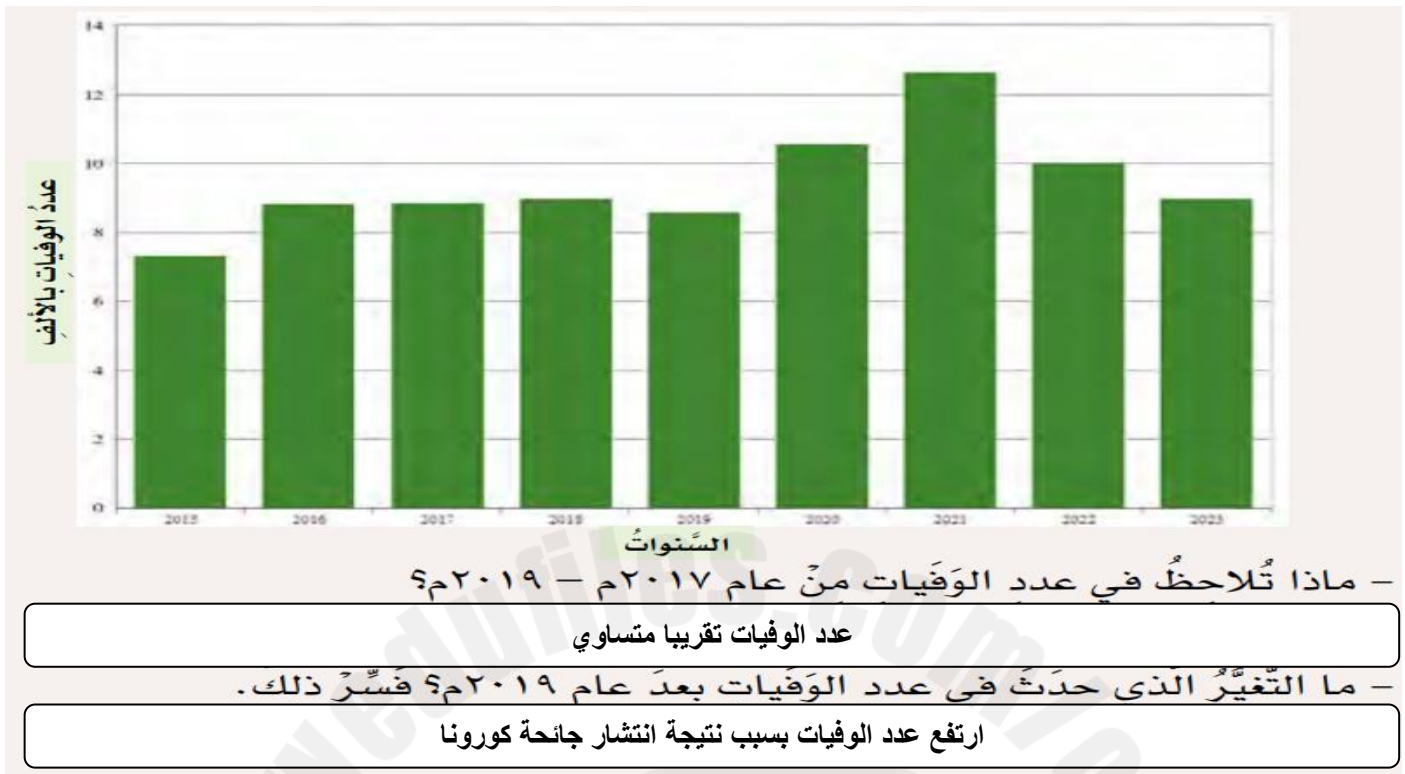
**السؤال السابع : من خلال بيانات الجدول التالي احسب الزيادة الطبيعية للسكان في سلطنة عمان خلال عامي ٢٠١٠م-٢٠٢٠م**

| عوامل النمو السكاني | السنة | ٢٠١٠م  | ٢٠٢٠م  |
|---------------------|-------|--------|--------|
| عدد المواليد        |       | ٦٤,٧٣٠ | ٨٢,٢٢٤ |
| عدد الوفيات         |       | ٧,٤١٤  | ١٢,٦٤٩ |
| الزيادة الطبيعية    |       | ٥٧٣١٦  | ٦٩٥٧٥  |

**السؤال الثامن : تامل الشكل التالي بين المجتمعات النامية والمتقدمة ثم اكمل حسب أوجه المقارنة**

| وجه المقارنة     | المجتمعات المتقدمة                                | المجتمعات النامية                                   |
|------------------|---|---|
| مستوى أمد الحياة | طويل  | قصير  |
| الأسباب          | تقدم الطب - الوعي المجتمعي - ارتفاع مستوى المعيشة | تدني المستوى الطبي - الجهل - انخفاض المستوى المعيشي |



**السؤال التاسع : ادرس الشكل الذي يمثل عدد الوفيات في سلطنة عمان من ٢٠١٥-٢٠٢٢ ثم اجب عن الأسئلة**

درس : النمو السكاني ( أسئلة )

**السؤال الأول :** ضع علامة ( ✓ ) أو ( X ) أمام العبارة المناسبة مع تصحيح ما تمته خط إذا كانت العبارة خطأ .

- ١- ( ) شهدت دول العالم خلال السنوات الأخيرة نموا في اعداد السكان بشكل متناقص .
- ٢- ( ) تعد الهجرة سببا رئيسيا لتغيير النمو السكاني في المجتمع .

**السؤال الثاني :** اختر الإجابة الصحيحة بين البدائل المعطاة .

- ١- إذا كان النمو السكاني متوازيا مع الموارد المتاحة في المجتمع يكون المجتمع ( إيجابيا - سلبيا ) .
- ٢- إذا كان النمو السكاني يفوق الموارد المتاحة في المجتمع يكون المجتمع ( إيجابيا - سلبيا ) .

**السؤال الثالث :** ضع امام العبارات التالية المصطلح الدال عليها

- ١- ( ) مقدار الزيادة في عدد السكان في منطقة معينة وخلال مدة زمنية محددة .
- ٢- ( ) هي الفرق بين عدد المواليد وعدد الوفيات في مجتمع معين وفترة زمنية محدد .
- ٣- ( ) يقصد به عدد السنوات المتوقع ان يعيشها الفرد الواحد .
- ٤- ( ) يقصد به انتقال الافراد من مكان الى آخر .

**السؤال الرابع :** اجب عن الأسئلة التالية

كيف تحسب الزيادة الطبيعية ؟

ما سبب ارتفاع عدد الوفيات في العالم عام ٢٠٢٠م

**السؤال الخامس :** " يوجد عدد من العوامل المؤثرة في الزيادة الطبيعية " اكتبها في الشكل التالي





**السؤال السادس : ادرس الشكل التالي والذي يمثل النمو السكاني في سلطنة عمان خلال الفترة من ٢٠٠٦م - ٢٠٢٢م**

**ثم اجب عن الأسئلة**



١- صف النمو السكاني في سلطنة عُمان خلال السنوات من (٢٠٠٦م - ٢٠٢٢م).

٢- ما السنة التي شهدت أعلى نموًا سكانيًا وأقل نموًا سكانيًا في سلطنة عُمان؟

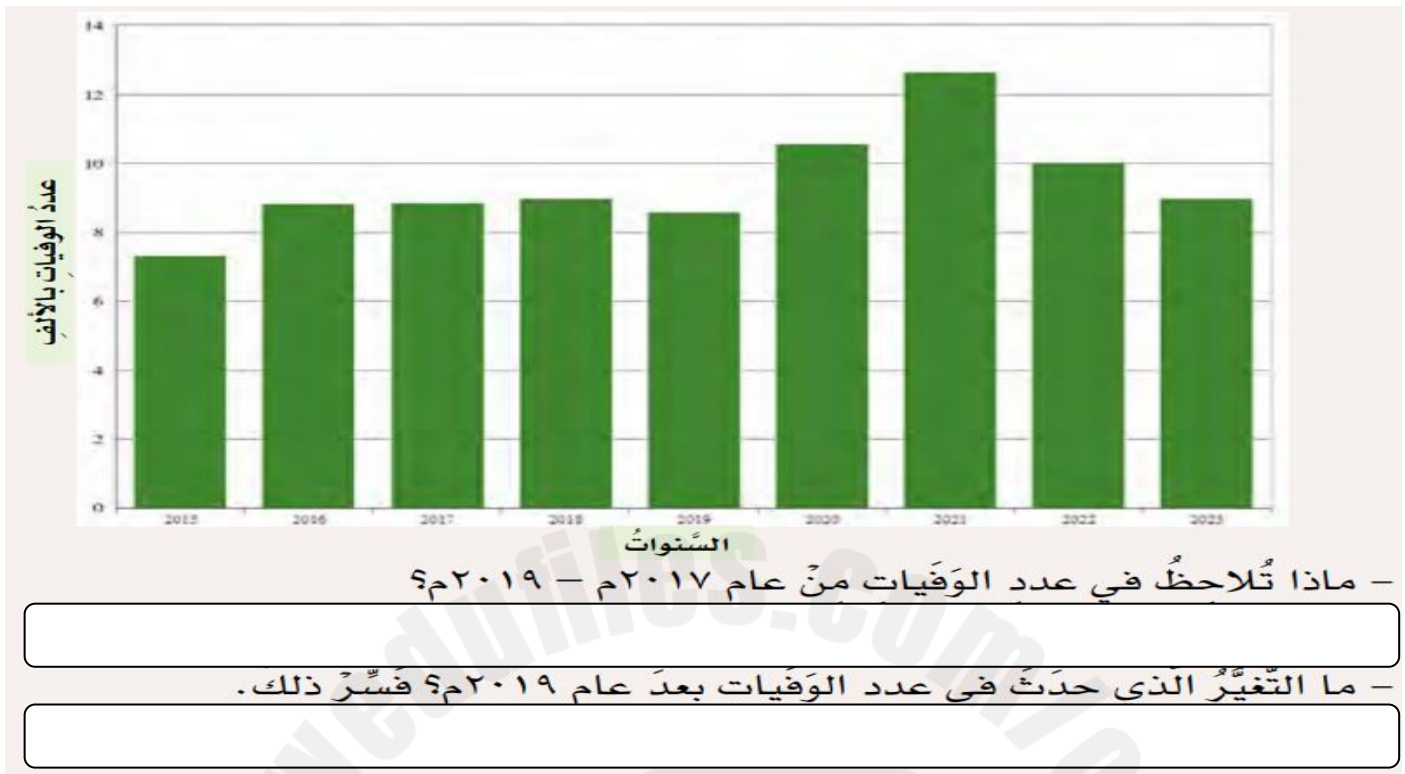
٣- ما توقعك للنمو السكاني في سلطنة عُمان مستقبلاً؟ ولماذا؟

**السؤال السابع : من خلال بيانات الجدول التالي احسب الزيادة الطبيعية للسكان في سلطنة عمان خلال عامي ٢٠١٠-٢٠٢٠م**

| عوامل النمو السكاني | السنة | ٢٠١٠م  | ٢٠٢٠م  |
|---------------------|-------|--------|--------|
| عدد المواليد        |       | ٦٤,٧٣٠ | ٨٢,٢٢٤ |
| عدد الوفيات         |       | ٧,٤١٤  | ١٢,٦٤٩ |
| الزيادة الطبيعية    |       |        |        |

**السؤال الثامن : تأمل الشكل التالي بين المجتمعات النامية والمتقدمة ثم اكمل حسب أوجه المقارنة**

| وجه المقارنة     | المجتمعات المتقدمة | المجتمعات النامية |
|------------------|--------------------|-------------------|
| مستوى أمد الحياة |                    |                   |
| الأسباب          |                    |                   |

**السؤال التاسع : ادرس الشكل الذي يمثل عدد الوفيات في سلطنة عمان من ٢٠١٥-٢٠٢٢م ثم اجب عن الأسئلة**

درس : الكثافة السكانية ( أجوبة )

**السؤال الأول : ضع علامة ( ✓ ) أو ( X ) أمام العبارة المناسبة مع تصحيح ما تحته خط إذا كانت العبارة خطأ .**

- ١- ( X ) يتوزع سكان العالم بشكل متساوي على سطح الأرض . غير متساوي
- ٢- ( X ) يقل عدد السكان في المناطق الغنية بالموارد الطبيعية . يزداد

**السؤال الثاني : اختر الإجابة الصحيحة بين البدائل المعطاة .**

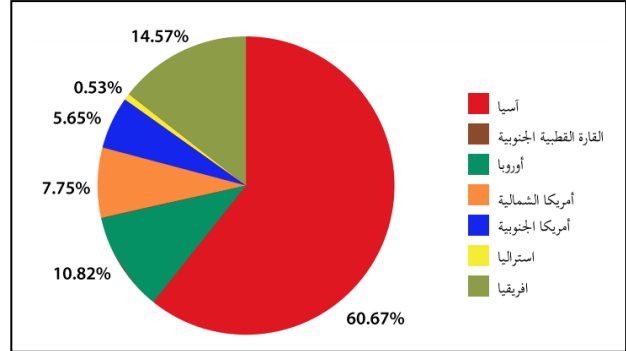
- ١- تعد ( البحرين - قطر ) أعلى الدول العربية من حيث الكثافة السكانية .
- ٢- تعد ( لبنان - ليبيا ) أقل الدول العربية كثافة سكانية .

**السؤال الثالث : أكمل العبارات التالية بكلمات مناسبة من عندك .**

- ١- توصف المناطق المزدحمة بالسكان بأنها ذات كثافة سكانية مرتفعة .
- ٢- توصف المناطق قليلة السكان بأنها ذات كثافة سكانية منخفضة .

**السؤال الرابع : اجب عن الأسئلة التالية**

|   |  |  |
|---|--|--|
| ١ | عرف الكثافة السكانية ؟   | هي عدد السكان في الكيلو متر المربع الواحد من الأرض   |
| ٢ | كيف تحسب الكثافة السكانية ؟  | $\frac{\text{عدد السكان في المنطقة ( نسمة )}}{\text{المساحة الكلية للمنطقة ( كم ٢ )}} = \text{الكثافة السكانية}$ |
| ٣ | "يتأثر توزيع السكان بعدد من العوامل "اذكر اهم عاملين ؟                                 | ١- عوامل طبيعية ٢- عوامل بشرية   |
| ٤ | علل " يفضل الانسان العيش في المناطق السهلية عن المناطق الجبلية "                       | بسبب سهولة الوصول اليها وملاءمتها لبناء المسكن وممارسة الأنشطة الاقتصادية المختلفة                               |
| ٥ | علل " يميل السكان الى العيش في المناطق التي تشرف على المسطحات المائية او القريبة منها" | بسبب اعتدال مناخها وتوفير مصادر الرزق المختلفة فيها  |

**السؤال الخامس : تامل الشكين الذين امامك ثم اجب عن الأسئلة .**

١- أيهما أكثر تركّزاً للسكّان: النّصفُ الشماليّ من الكُرة الأرضيّة أم النّصفُ الجنوبيّ؟

ولماذا؟

النصف الشمالي : لان مساحة اليابسة في النصف الشمالي اكبر مساحة من النصف الجنوبي ولسهولة الحركة فيها وملامتها للأنشطة التجارية والاقتصادية المختلفة

٢- استخرج:

اسيا - افريقيا - أوروبا

أ. أكثر ثلاث قارّات يتركّز فيها السكّان.

القطبية الجنوبية

ب. القارة الأقل سكّاناً في العالم.

**السؤال السادس : كيف تؤثر العوامل البشرية التالية في توزيع السكان على سطح الأرض .**

| الخدمات   | الاستقرار السياسي                                | الأنشطة الاقتصادية  |
|---|--|---|
| يتركز السكان في المناطق التي تتوفر فيها الخدمات مثل الطرق ووسائل النقل المختلفة | يقل تركّز السكان في المناطق غير المستقرة سياسياً | يختلف توزيع السكان حسب نوع الأنشطة الاقتصادية ومدى توفر فرص العمل |

**السؤال السابع : " يختلف عدد السكان في المدينة عنه في الريف ، قارن بين المدينة والريف حسب الجدول ادناه .**

| الريف                                | المدينة                         | وجه المقارنة            |
|--------------------------------------|---------------------------------|-------------------------|
| اقل تنوعاً وتعتمد على الزراعة والرعي | كالتجارة والخدمات والمصانع .... | الأنشطة الاقتصادية      |
| نقص في الخدمات                       | متوفرة بشكل أوسع وافضل          | توفر الخدمات            |
| قليلة وتتركز في الزراعة والرعي       | متوفرة ومتنوعة في عدة مجالات    | توفر فرص العمل          |
| اقل جودة ووسائل النقل محدودة         | جيدة وواسعة ومتطورة             | جودة الطرق ووسائل النقل |
| الكثافة السكانية تكون اقل            | الكثافة السكانية تكون عالية     | تركّز السكّان           |

**السؤال الثامن : ضع رقم النشاط تحت الصورة التي تمثله .**

| ١  | الخدمات   | ٢  | الاستقرار السياسي  | ٣  | الأنشطة الاقتصادية   |
|--|---|--|--|--|--|
|  |  |  |  |  |  |

**السؤال التاسع : تعرف على العوامل الطبيعية المؤثرة في توزيع السكان ثم اكمل الفراغات .****المُنَاخُ**

يتركز السكان في المناطق التي تتميز باعتدال الحرارة و غزارة الامطار ، في حين يقل عدد السكان في المناطق الصحراوية قليلة المطر

**التَّضَارِيسُ**

يفضل الانسان العيش في المناطق السهلية عن المناطق الجبلية وذلك لسهولة الوصول اليها وملاءمتها لبناء المسكن وممارسة الأنشطة الاقتصادية المختلفة مثل الزراعة

**المُسَطَّحات المائيَّة**

يميل السكان الى العيش في المناطق التي تشرف على المسطحات المائية او القريبة منها وذلك لاعتدال مناخها ولتوفير مصادر الرزق فيها مثل صيد الأسماك





**السؤال العاشر : ادرس الجدول التالي لعدد سكان محافظات سلطنة عمان لعام ٢٠٢٣ ثم اجب عن الأسئلة**

| المحافظة     | عدد السكان<br>(تسمة) | المساحة (كم <sup>٢</sup> ) | الكثافة السكانية<br>(تسمة / كم <sup>٢</sup> ) |
|--------------|----------------------|----------------------------|---|
| مسقط         | ١,٤٥٩,٤٥٩            | ٣,٧٦٢                      | ٣٧٢,٥   |
| جنوب الباطنة | ٥١٨,٠٤٠              | ٥,٢٨٢                      | ٩٨,١  |
| شمال الباطنة | ٨٧٢,٠١٤              | ٧,٩٢٨                      | ١١٠   |
| الداخلية     | ٥٣٣,٦٧٧              | ٣١,٥٢٥                     | ١٦,٩  |
| جنوب الشرقية | ٣٤٩,٧٥٤              | ١١,٨٨٧                     | ٢٩,٤  |
| شمال الشرقية | ٣٠١,٢٣٨              | ٢١,٦٢٣                     | ١٤  |
| الظاهرة      | ٢٣٢,٨٦٥              | ٣٥,٩٣٧                     | ٦,٥   |
| البريمي      | ١٢٥,٧٤٢              | ٧,٦١٧                      | ١٦,٥  |
| مسندم        | ٥٣,٢٢٤               | ١,٦٢٢                      | ٣٢,٨  |
| الوسطى       | ٥٩,٤٦٨               | ٨٣,١٣٤                     | ٠,٧   |
| ظفار         | ٤٨٦,٣٦٩              | ٩٨,٢٤٩                     | ٥   |

احسب الكثافة السكانية لباقي المحافظات ؟

١

رتب المحافظات تنازليا من حيث الكثافة السكانية فيها ؟

٢

مسقط - شمال الباطنة - جنوب الباطنة - مسندم - جنوب الشرقية - الداخلية - البريمي - شمال الشرقية - الظاهرة - ظفار - الوسطى

علل " ارتفاع الكثافة السكانية في محافظة مسقط وانخفاضها في محافظة الوسطى ؟

٣

بسبب صغر حجم مساحة محافظة مسندم مقارنة بحجم مساحة محافظة الوسطى

درس : الكثافة السكانية ( أسئلة )

**السؤال الأول : ضع علامة ( ✓ ) أو ( X ) أمام العبارة المناسبة مع تصحيح ما تحته خط إذا كانت العبارة خطأ .**

- ١- ( ) يتوزع سكان العالم بشكل متساوي على سطح الأرض .  
 ٢- ( ) يقل عدد السكان في المناطق الغنية بالموارد الطبيعية .

**السؤال الثاني : اختر الإجابة الصحيحة بين البدائل المعطاة .**

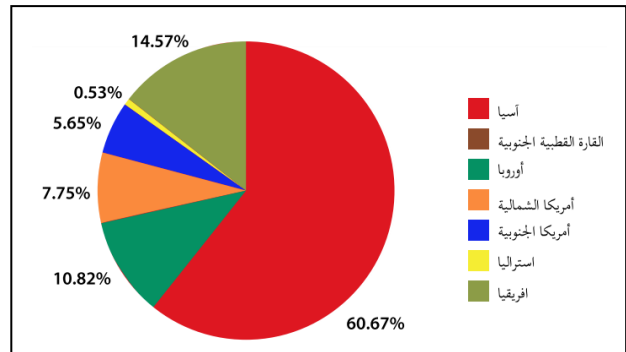
- ١- تعد ( البحرين - قطر ) أعلى الدول العربية من حيث الكثافة السكانية .  
 ٢- تعد ( لبنان - ليبيا ) أقل الدول العربية كثافة سكانية .

**السؤال الثالث : أكمل العبارات التالية بكلمات مناسبة من عندك .**

- ١- توصف المناطق المزدحمة بالسكان بأنها ذات كثافة سكانية مرتفعة .  
 ٢- توصف المناطق قليلة السكان بأنها ذات كثافة سكانية منخفضة .

**السؤال الرابع : اجب عن الأسئلة التالية**

|   |  |  |
|---|--|--|
| ١ | عرف الكثافة السكانية ؟   |  |
| ٢ | كيف تحسب الكثافة السكانية ؟  |  |
| ٣ | "يتأثر توزيع السكان بعدد من العوامل" اذكر أهم عاملين ؟                                 |  |
| ٤ | علل " يفضل الإنسان العيش في المناطق السهلية عن المناطق الجبلية "                       |  |
| ٥ | علل " يميل السكان الى العيش في المناطق التي تشرف على المسطحات المائية او القريية منها" |  |

**السؤال الخامس : تأمل الشكلين الذين أمامك ثم اجب عن الأسئلة .**

١- أيهما أكثر تركّزاً للسكّان: النّصفُ الشماليّ من الكُرة الأرضيّة أم النّصفُ الجنوبيّ؟ ولماذا؟

٢- استخرج:

أ. أكثر ثلاث قارّات يتركّز فيها السكّان.

ب. القارة الأقلّ سكّاناً في العالم.

**السؤال السادس : كيف تؤثر العوامل البشرية التالية في توزيع السكان على سطح الأرض .**

| الخدمات              | الاستقرار السياسي    | الأنشطة الاقتصادية   |
|----------------------|----------------------|----------------------|
| <input type="text"/> | <input type="text"/> | <input type="text"/> |

**السؤال السابع : " يختلف عدد السكان في المدينة عنه في الريف ، قارن بين المدينة والريف حسب الجدول ادناه .**

| الريف | المدينة | وجه المقارنة            |
|-------|---------|-------------------------|
|       |         | الأنشطة الاقتصادية      |
|       |         | توفر الخدمات            |
|       |         | توفر فرص العمل          |
|       |         | جودة الطرق ووسائل النقل |
|       |         | تركّز السكّان           |



**السؤال الثامن : ضع رقم النشاط تحت الصورة التي تمثله .**

| ١   | الخدمات  | ٢  | الاستقرار السياسي | ٣ | الأنشطة الاقتصادية |
|---|--|--|-------------------|---|--------------------|
|  |  |  |                   |   |                    |

**السؤال التاسع : تعرف على العوامل الطبيعية المؤثرة في توزيع السكان ثم اكمل الفراغات .****المُنَاخُ**

يتركز السكان في المناطق التي تتميز ..... الحرارة وغزارة ..... ،  
في حين يقل عدد السكان في المناطق ..... قليلة المطر

**التَّضَارِيسُ**

يفضل الانسان العيش في المناطق السهلية عن المناطق ..... وذلك لسهولة  
الوصول اليها وملاءمتها ..... المسكن وممارسة الأنشطة .....  
المختلفة مثل الزراعة

**المُسَطَّحات  
المائيَّة**

يميل السكان الى العيش في المناطق التي تشرف على المسطحات ..... او  
القريبة منها وذلك ..... مناخها ولتوفير مصادر ..... فيها مثل صيد  
الأسماك

**السؤال العاشر : ادرس الجدول التالي لعدد سكان محافظات سلطنة عمان لعام ٢٠٢٣ ثم اجب عن الأسئلة**

| المحافظة             | عَدَدُ السُّكَّانِ<br>(نَسْمَة) | المِسَاحَةُ (كَم) <sup>٢</sup> | الكثافة السُّكَّانِيَّةُ<br>(نَسْمَة / كَم) |
|----------------------|---------------------------------|--------------------------------|---|
| مَسَقَطُ             | ١,٤٠١,٤٥٩                       | ٣,٧٦٢                          | ٣٧٢,٥                                       |
| جنوبُ الباطنة        | ٥١٨,٠٤٠                         | ٥,٢٨٢                          |   |
| شمالُ الباطنة        | ٨٧٢,٠١٤                         | ٧,٩٢٨                          | ١١٠   |
| الداخلية             | ٥٣٣,٦٧٧                         | ٣١,٥٢٥                         |   |
| جنوبُ الشَّرْقِيَّةِ | ٣٤٩,٧٥٤                         | ١١,٨٨٧                         |   |
| شمالُ الشَّرْقِيَّةِ | ٣٠١,٢٣٨                         | ٢١,٦٢٣                         | ١٤  |
| الظاهرة              | ٢٣٢,٨٦٥                         | ٣٥,٩٣٧                         |   |
| البريمي              | ١٢٥,٧٤٢                         | ٧,٦١٧                          | ١٦,٥  |
| مسندم                | ٥٣,٢٢٤                          | ١,٦٢٢                          |   |
| الوسطى               | ٥٩,٤٦٨                          | ٨٣,١٣٤                         | ٠,٧   |
| ظفار                 | ٤٨٦,٣٦٩                         | ٩٨,٢٤٩                         |   |

احسب الكثافة السكانية لباقي المحافظات ؟

١

رتب المحافظات تنازليا من حيث الكثافة السكانية فيها ؟

٢

علل " ارتفاع الكثافة السكانية في محافظة مسقط وانخفاضها في محافظة الوسطى ؟

٣