

كراسة خيوط الإبداع مراجعة تدريبية لتعزيز مهارات التحليل الجغرافي والتاريخي



تم تحميل هذا الملف من موقع المناهج العمانية

موقع فايلاتي ← المناهج العمانية ← الصف السادس ← اجتماعيات ← الفصل الثاني ← ملفات متنوعة ← الملف

تاريخ إضافة الملف على موقع المناهج: 2026-01-27 12:32:32

ملفات اكتب للمعلم اكتب للطالب | اختبارات الكترونية | اختبارات | حلول | عروض بوربوينت | أوراق عمل
منهج انجليزي | ملخصات وتقارير | مذكرات وبنوك | الامتحان النهائي | للمدرس

المزيد من مادة
اجتماعيات:

إعداد: عويدة المعمرى

التواصل الاجتماعي بحسب الصف السادس



صفحة المناهج
العمانية على
فيسبوك

المزيد من الملفات بحسب الصف السادس والمادة اجتماعيات في الفصل الثاني

مراجعة شاملة للمنهج 2025	1
عرض تقديمي درس الكثافة السكانية	2
كراسة مراجعة شاملة كراستي اجتهد وإنجاز	3
تقرير عن التعداد السكاني أداة أساسية للتخطيط التنموي والاجتماعي	4
تقرير عن البيانات السكانية وأهميتها في التخطيط المجتمعي والتنموي	5



سلطنة عمان
وزارة التربية والتعليم
المديرية العامة للتربية والتعليم شمال الباطنة
مدرسة دقال للتعليم الاساسي (12-1)

كراسة فيوط الإبداع للمف السادس

لمهارة تحليل الأشكال والصور والخرائط
الدراسات الاجتماعية \ الفصل الدراسي الثاني
2025 \ 2024



إعداد المعلمة : عويدة المعمري

المقدمة

سعيًا لرفع مستوى التحصيل الدراسي لطلبة الصف السادس يسرني تقديم هذه المبادرة، والمتمثلة في كراس تدريبي يركز على مهارة تحليل الاشكال والصور والخرائط الواردة في الكتاب المدرسي للفصل الدراسي الثاني، والذي نرجو أن يكون أثره في أن يتمكن الطلبة من تحليلها، ويصبح قادرا على التعامل مع أدوات التقويم والأسئلة الامتحانية بالشكل المرجو، وبما يعزز تحصيله الدراسي.

وإذ نضع بين يدي الطلبة هذا الجهد المتواضع، ونرجو أن يكون هذا المنتج التربوي معززاً له في اكتساب مهارات تعلم مادة الدراسات الاجتماعية.

ختاماً نشكر المشرفين التربويين الداعمين لهذا العمل، الأستاذ نايف المعمرى (مشرف المدرسة)، والأستاذ ماجد الحامدي (مشرف التاريخ)، والأستاذ عبد الباقي (مشرف الجغرافيا).

والله ولي التوفيق

إعداد المعلمة: عويدة المعمرى

معلمة مادة الدراسات الاجتماعية

1- تأمل الصورة التي أمامك، وادرسها جيدا ثم أجب عما يليها من الأسئلة.



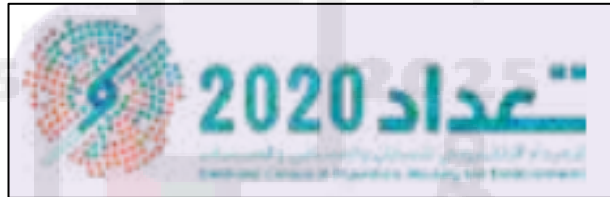
أ. سم الشخصية العمانية في الصورة التي امامك.

.....

ب. في أي عام تم تسجيل بيانات هذه الشخصية في التعداد السكاني الشامل لأول مرة.

.....

2- أمامك الصورة التالية، تأملها جيدا ثم أجب عما يأتي من الأسئلة:



أ. سم التقنية التي أجري بها التعداد السكاني في الشكل الذي امامك.

.....

ب. في أي عام تم استخدام هذه التقنية.

.....

ت. الشخصية العمانية التي تقوم باعتماد نتائج هذه التقنية في التعداد السكاني..... (اكمل)

ث. ما الآلية التي كانت تستخدم سابقا قبل اعتماد هذه الآلية.

.....

3- امامك استمارة رسمية تستخدم لجمع البيانات السكانية، ادرسها جيدا ثم اجب عن الأسئلة التي تليها.

رقم مسلسل أفراد الأسرة	الاسم الثلاثي والقبيلة	العلاقة 1- زواج 2- زواج 3- زواج 4- زواج 5- زواج 6- زواج 7- زواج 8- زواج 9- زواج 10- زواج 11- زواج	النوع 1- ذكر 2- أنثى	سنة الميلاد	العمر بالسنوات الهيلادية الكاملة (أقل من سنة يكتب صفر)	الحالة التعليمية		نوع النشاط		المهنة الرئيسية الحالية		النشاط الاقتصادي		الحالة العملية	القطاع	الحالة الزوجية	
						يكتسب	حسب الحالة	الاشتغال	الاشتغال	الاشتغال	الاشتغال						
1																	
2																	
3																	
4																	
5																	
6																	
7																	
8																	
9																	
10																	

أ. تصنف الاستمارة التي امامك من حيث مصادر جمع البيانات السكانية الى:

1. مصادر أولية

2. مصادر ثانوية

(اختر الإجابة)

ب. في أي عام تم استخدام هذه الاستمارة لأول مرة في سلطنة عمان؟

.....

ت. اول شخصية عمانية تم تسجيل بياناتها في هذه الاستمارة هي..... (اكمل)

ث. اذكر اثنين من البيانات السكانية المدرجة في هذه الاستمارة.

.....

ج. بماذا تم استبدال هذه الاستثمارات في الوقت الحالي.

.....

4 ← الصورة التي امامك توضح بعض الجهود الوطنية المبذولة في تطوير قطاعات الدولة والتي
تحرص على تنفيذها وفقا لإستراتيجيات وخطط مدروسة وواقعية، شملت جميع المحافظات والولايات
دون استثناء، ادرسها جيدا ثم اجب عن الأسئلة التي تليها.

أ. ما نوع القطاع الذي يظهر في الصورة التي امامك.

.....

ب. اذكر اثنين من القطاعات التي تسعى الدولة
لتطويرها.

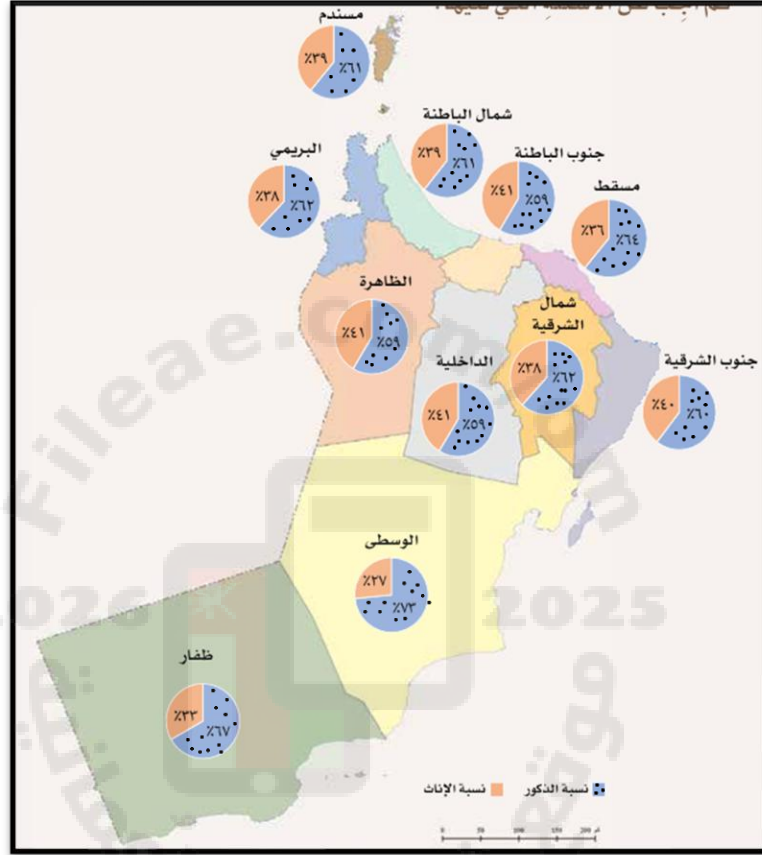
.....

ت. برأيك: ما السبب في تطوير هذه القطاعات في
الدولة.

.....



1 ← ادرس جيدا خريطة سلطنة عمان التي توضح نسبة عدد الذكور إلى الإناث في محافظات سلطنة عمان لعام 2023 م، ثم أجب عن الأسئلة التي تليها:



أ. ما النوع الأكثر ارتفاعا في محافظات سلطنة عمان.

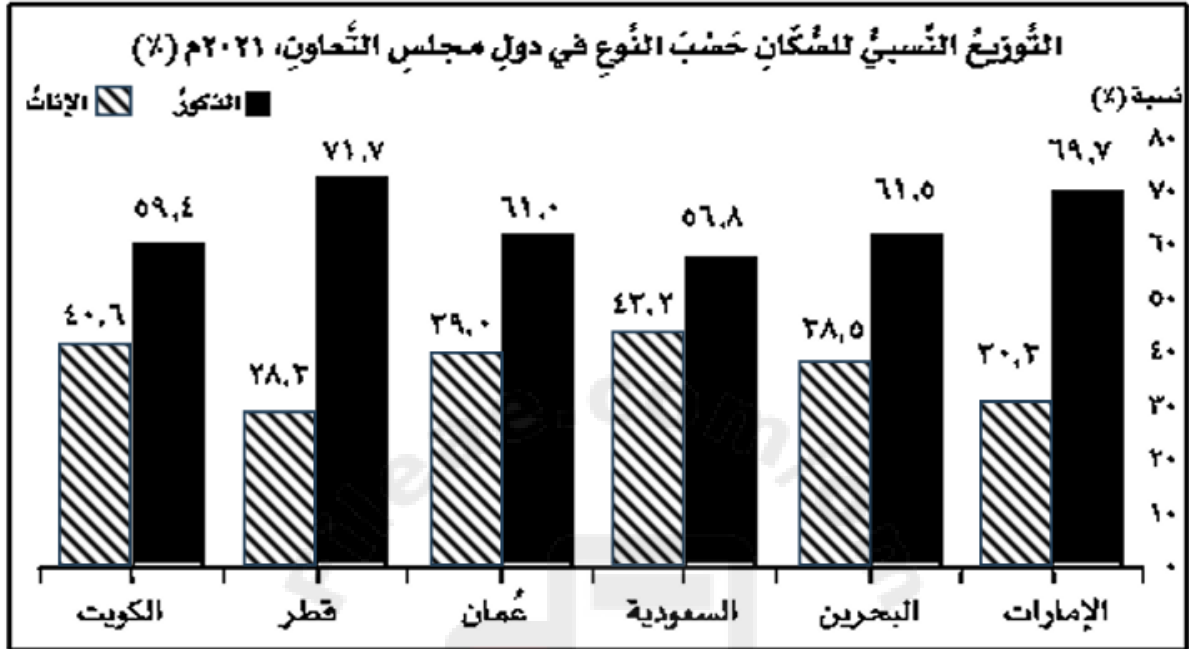
ب. ما المحافظة العمانية التي تنخفض فيها نسبة الإناث بشكل كبير.

ت. رتب المحافظات التالية تصاعديا من حيث عدد الذكور:
(مسندم، الظاهرة، مسقط، الوسطى).

ث. احسب اجمالي عدد الإناث في المحافظات التالية:
(شمال الباطنة وظفار).

ج. فسر: ترتفع نسبة عدد الذكور في محافظة الوسطى.

2 ← أمامك شكل بياني يوضح التوزيع النسبي للسكان حسب النوع في دول مجلس التعاون لدول الخليج العربية لعام 2021، تأمل الشكل جيدا، ثم أجب عن الأسئلة التي تليه.



أ. سم الدولة التي تصدر نسبة الذكور من حيث الأعلى ونسبة الإناث من حيث الأقل مقارنة مع دول مجلس التعاون.

.....

ب. رتب تصاعديا نسب الذكور في دول مجلس التعاون الخليجي.

.....

ت. احسب اجمالي نسب الاناث في كل من دول الامارات والسعودية والكويت.

.....

ث. كم يبلغ نسبة الإناث في سلطنة عمان.

.....

ج. علل: وجود تفاوت كبير بين نسب الذكور والإناث في دولة الإمارات.

.....

3 ← تأمل الصور التي أمامك جيدا ثم أجب عما يليها من الأسئلة:



أ. صنف في الجدول التالي الأفراد الواردة أعمارهم في الصور الى الفئات العمرية التي ينتمون لها.

الفئة العمرية التي تنتمي لها	رقم الصورة
.....	4
.....	2
.....	5

ب. رقم الصور التي تعتبر فنتها العمرية من ضمن فئة القوى العاملة هي..... (أكمل)

ت. برأيك: كيف يمكن الاستفادة من الفئات العمرية التي تمثلها الصورة رقم (1) لتصبح منتجة في المجتمع.

.....

4 ← ادرس الجدول الآتي يوضح عدد السكان في سلطنة عمان لعام 2023 م، وفق احصائيات المركز الوطني للإحصاء والمعلومات، ثم أجب عن الأسئلة التي تليه.

إجمالي عدد السكان	الفئات العمرية
٤٣٢,٢٤٧	٤-٠
٤٦٢,٧٥٩	٩-٥
٣٦٣,٦٦٨	١٤-١٠
٢٧٠,٩٦٥	١٩-١٥
٣٧٢,٨٧٠	٢٤-٢٠
٥٤٢,٩١٠	٢٩-٢٥
٦٣٨,٨٠١	٣٤-٣٠
٦٠٢,١١٨	٣٩-٣٥
٤٤٢,١٥٨	٤٤-٤٠
٢٨٦,٥٤٥	٤٩-٤٥
١٨٥,٤٧٩	٥٤-٥٠
١١٩,١٦٤	٥٩-٥٥
٨٢,٠١١	٦٤-٦٠
٥٢,٤١٥	٦٩-٦٥
٣٣,٣٢٨	٧٤-٧٠
٢١,١٠١	٧٩-٧٥
٢٥,٣١١	٨٠
٤,٩٣٣,٨٥٠	المجموع

أ. استخرج من الجدول الفئات العمرية التي تمثل فئة صغار السن.

.....

ب. احسب إجمالي السكان في الفئات العمرية التي تمثل فئة كبار السن.

.....

ث. كم يبلغ مجموع عدد سكان سلطنة عمان لعام 2023 م.

.....

5 ← تأمل الصورة التي أمامك جيدا، ثم اجب عن الأسئلة التي تليها.

أ. ماذا يطلق على الشكل البياني الذي أمامك.

.....

ب. أكمل بيانات الشكل في المستطيلات

المشار لها بالرقم 1 و2.

ت. إلى أي جزء ينتمي طلبة الصف

السادس في الشكل الذي أمامك.

.....

ث. عدد أهم البيانات السكانية التي يمثلها

الشكل الذي أمامك.

.....

ج. اذكر اثنين من أنواع الشكل البياني الذي

أمامك.

.....

ح. فسر: أهمية دراسة الشكل الذي أمامك من قبل الدول في العالم.

.....

6 ← أمامك شكل يوضح الهرم السكاني لسلطنة عمان لعام 1993 م، ادرسه جيدا ثم اجب عن

الأسئلة التالية:

أ. نوع الهرم السكاني المشار له في الشكل

المقابل.....(أكمل)

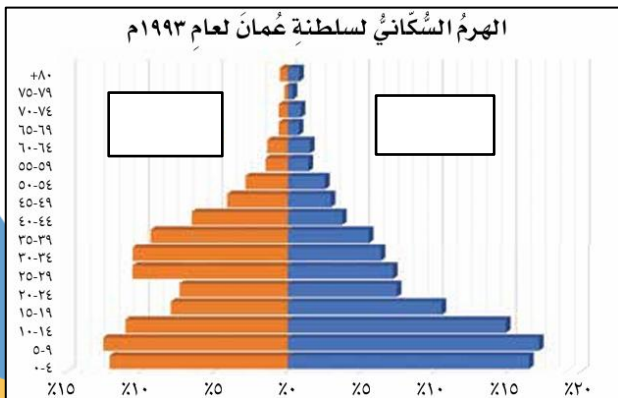
ب. ما الفئة العمرية الأكثر ارتفاعا في الشكل

المقابل.

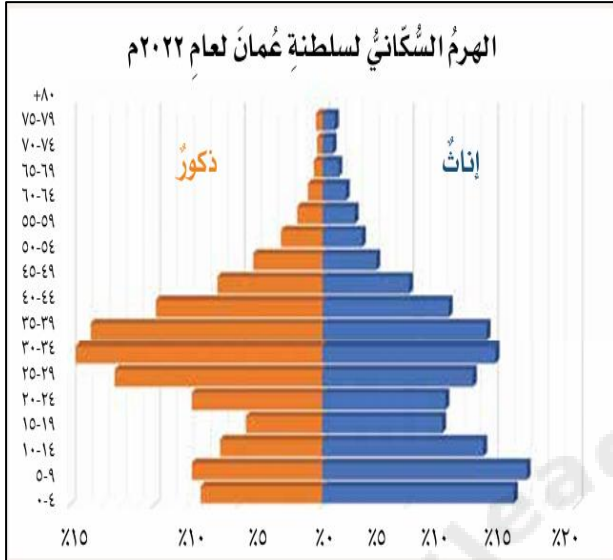
.....

ج. اكتب البيانات التالية في مكانها الصحيح في

الشكل المقابل (ذكور - إناث).



7 ← أمامك شكل يوضح الهرم السكاني لسلطنة عمان لعام 2022 م، ادرسه جيدا ثم أجب عن الأسئلة التالية:



أ. ما شكل قاعدة الهرم السكاني.

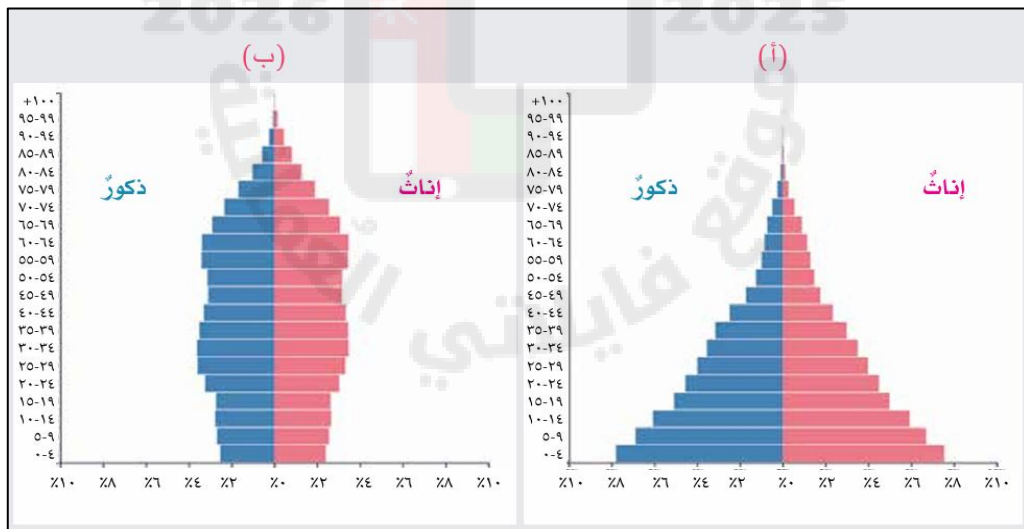
ب. الفئة العمرية الأكثر ارتفاعا في الهرم السكاني

هي..... (أكمل)

ت. ما الفئة العمرية التي تمثل قاعدة الهرم السكاني.

ث. فسر: تهتم سلطنة عمان بدراسة الأهرام السكانية.

8 ← ادرس الهرم السكاني في الشكل (أ) والشكل (ب) جيدا ثم قارن بينهما في الجدول التالي:



أوجه المقارنة	الهرم السكاني شكل (أ)	الهرم السكاني شكل (ب)
شكل قاعدة الهرم
الفئة العمرية الأكثر ارتفاعاً

☆ علام يدل وجود انخفاض في الفئة العمرية التي تمثل قاعدة الهرم السكاني في الشكل (ب).

9 ← تأمل الصور التي أمامك جيدا ثم اجب عن الأسئلة التالية:




د



ج



ب



أ

أ. صنف الفئات العمرية في الصورة (أ) والصورة (ج).

.....

ب. أي من الصور تمثل فئة القوى العاملة.

.....

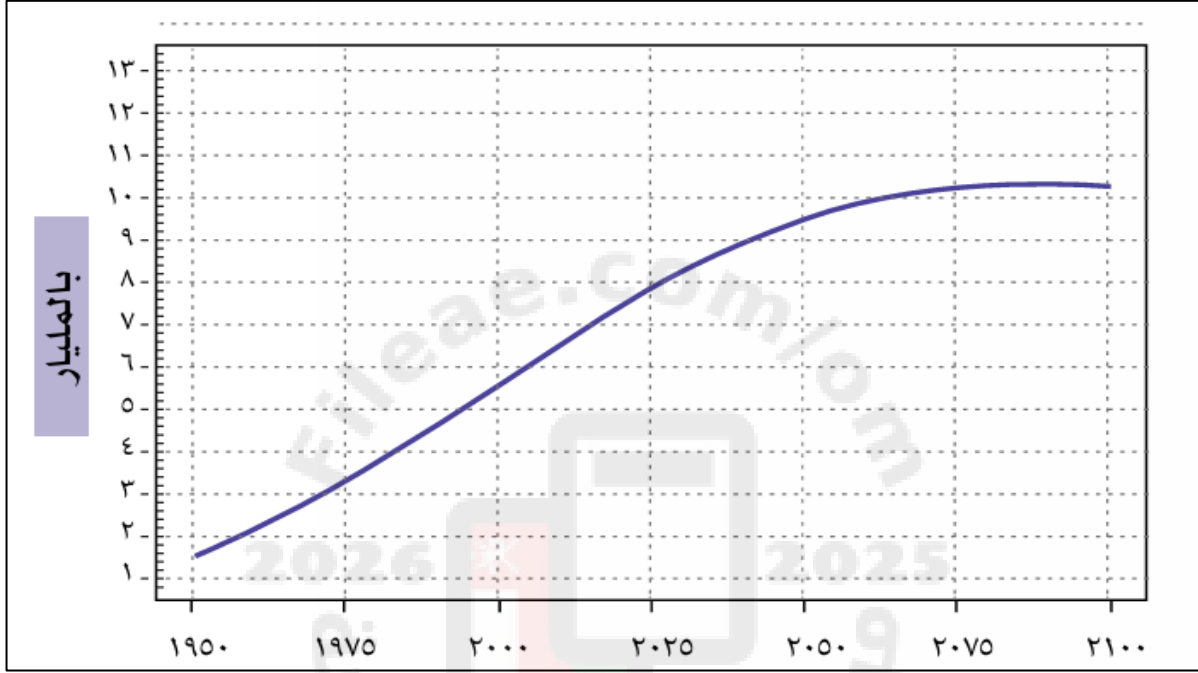
ج. اكتب رمز الصور التي تمثل فئة القوى غير العاملة.

.....

2026 2025

موقع فايلاتي العماني

1 ← ادرس الشكل الذي أمامك جيداً، والذي يمثل النمو السكاني لدول العالم، ثم أجب عما يليه:



أ. صف النمو السكاني في دول العالم من العام الميلادي 1950 وحتى عام 2100م.

.....

ب. كم بلغ عدد سكان العالم في العام الميلادي 2025م.

.....

ج. من المتوقع ان يصل عدد سكان العالم في العام الميلادي 2100م

(اختر الاجابة) 9 مليار نسمة ☐ 10 مليار نسمة ☐

2 ← ادرس الشكل الذي يمثل النمو السكاني في سلطنة عمان خلال الفترة من (2006-2022م) حسب إحصائيات المركز الوطني للإحصاء والمعلومات، ثم أجب عما يليه:



أ. صف النمو السكاني في سلطنة عمان خلال السنوات من (2006م-2022م).

.....

ب. ما السنة التي شهدت أعلى نموا سكانيا في سلطنة عمان.

.....

ت. كم بلغت نسبة النمو السكاني لسلطنة عمان لعام 2011م.

.....

ث. السنة التي شهدت أقل نمواً سكانيا في سلطنة عمان:

(اختر الإجابة) 2010 2020

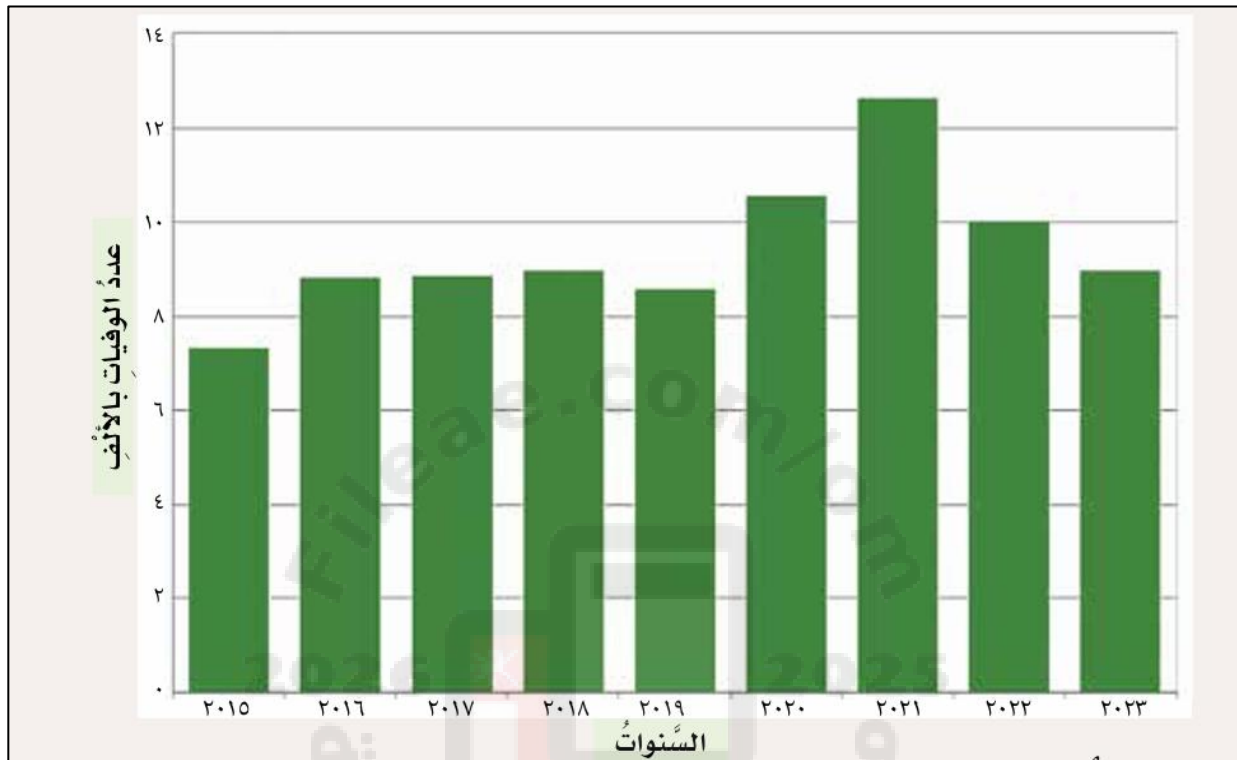
ج. ما توقعك للنمو السكاني في سلطنة عمان لعام 2022 م.

.....

ح. رتب السنوات التالية تصاعديا (2006 – 2010 – 2020) من حيث نسبة النمو السكاني.

.....

3 ← ادرس الشكل الآتي الذي يمثل عدد الوفيات في سلطنة عمان من (2015م- 2022م) وفق احصائيات المركز الوطني للإحصاء والمعلومات، ثم أجب عن الأسئلة التي تليه.



أ. ماذا تلاحظ في عدد الوفيات من عام 2015 م وحتى عام 2018م.

.....

ب. استخرج من الشكل المقابل العام الذي شهد فيه أعلى ارتفاع لأعداد الوفيات.

.....

ت. فسر: ارتفاع معدلات الوفيات بعد عام 2019 م.

.....

ث. برأيك: ما هي أسباب انخفاض عدد الوفيات عامي 2022 و2023 م.

.....

1 ← ادرس الصور التي أمامك جيدا ثم اجب عن الأسئلة التي تليها.



المنطقة (ب)



المنطقة (أ)

- أ. المنطقة التي يتركز السكان فيها بشكل كبير هي.....
 ب. العامل الطبيعي الذي أثر على تركيز السكان في المنطقة (أ) هو.....
 ت. استنتج من صورة المنطقة (ب) العامل البشري الذي أثر على تركيز السكان فيها.

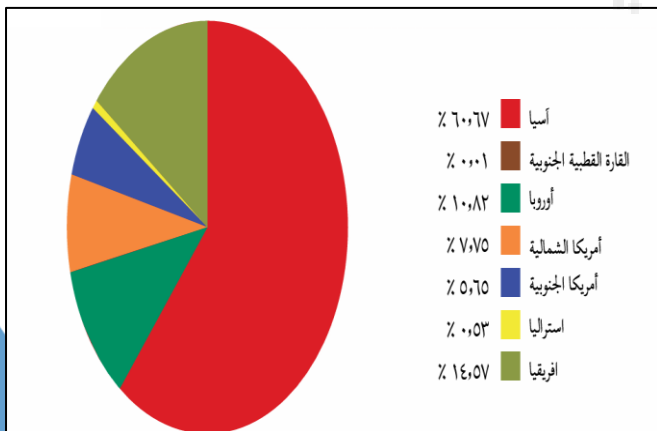
 ث. الصورة التي تمثل الريف هي

اختر الاجابة

المنطقة (ب) ○

المنطقة (أ) ○



2 ← بالاستعانة بالشكل الذي أمامك والذي يمثل نسب توزيع السكان في العالم، ادرسه جيدا ثم اجب عن الأسئلة التالية.



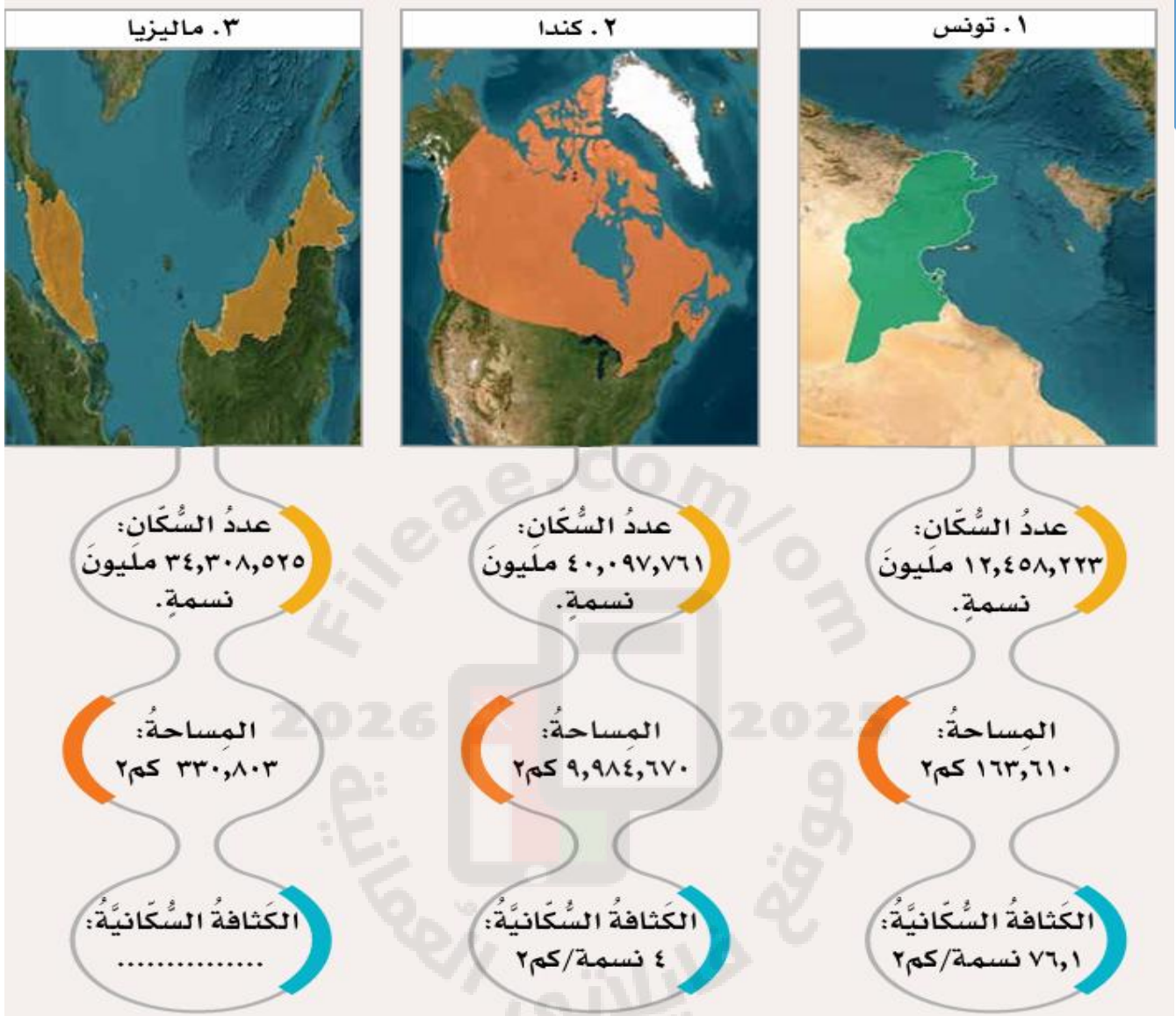
- أ. القارة الأكثر سكانا في العالم هي.....
 ب. رتب القارات التالية تصاعديا من حيث نسب السكان (أوروبا – أستراليا – إفريقيا)

 ت. القارة الأقل سكانا في العالم هي.....
 ث. احسب اجمالي نسب السكان لكل من أمريكا الشمالية وأمريكا الجنوبية.

3 ← صنف الصور التالية الى نوع العامل المؤثر في توزيع السكان من حيث كونه عامل طبيعي ام بشري.



4- ادرس الخرائط الموضحة لبعض إحصائيات الدول لعام 2023 ، ثم أجب عن الأسئلة التي تليها:



أ. احسب الكثافة السكانية لدولة ماليزيا.

.....

ب. صنف نوع الكثافة السكانية في كل من كندا وماليزيا في الجدول التالي:

الدولة	نوع الكثافة السكانية
كندا
ماليزيا

ت. فسر: ارتفاع الكثافة السكانية في دولة تونس مقارنة بالدولة كندا.

.....

5- ادرس الجدول الموضح لعدد سكان محافظات سلطنة عمان لعام 2023، حسب إحصائيات المركز الوطني للإحصاء والمعلومات، ثم أجب عن الأسئلة التي تليه:

المحافظة	عدد السكان (نسمة)	المساحة (كم ²)	الكثافة السكانية (نسمة / كم ²)
مسقط	1401459	3762	372,5
شمال الباطنة	872014	7928	110
الداخلية	533677	31525
مسندم	53224	1622	32,8
الوسطى	59468	83134	0,7
ظفار	486369	98249	5

أ. احسب الكثافة السكانية لمحافظة الداخلية.

ب. رتب المحافظات (مسقط، مسندم، ظفار، الوسطى، شمال الباطنة) تنازلياً من حيث الكثافة السكانية.

ث. صنف في الجدول التالي نوع الكثافة (مرتفعة، منخفضة) للمحافظات التالية:

المحافظة	نوع الكثافة السكانية
ظفار
مسقط

ج. علل: ارتفاع الكثافة السكانية في محافظة مسندم، مقارنة بمحافظة الداخلية.

ح. ما نوع العلاقة بين الكثافة السكانية والمساحة؟

نهاية الوحدة الأولى: جغرافية السكان: المصادر والخصائص

1 ← ادرس خريطة امتداد الدولة الأموية جيدا، ثم اجب عن الأسئلة التالية:



أ. ضع دائرة حول عاصمة الدولة الإسلامية في عهد خلافة الدولة الأموية.

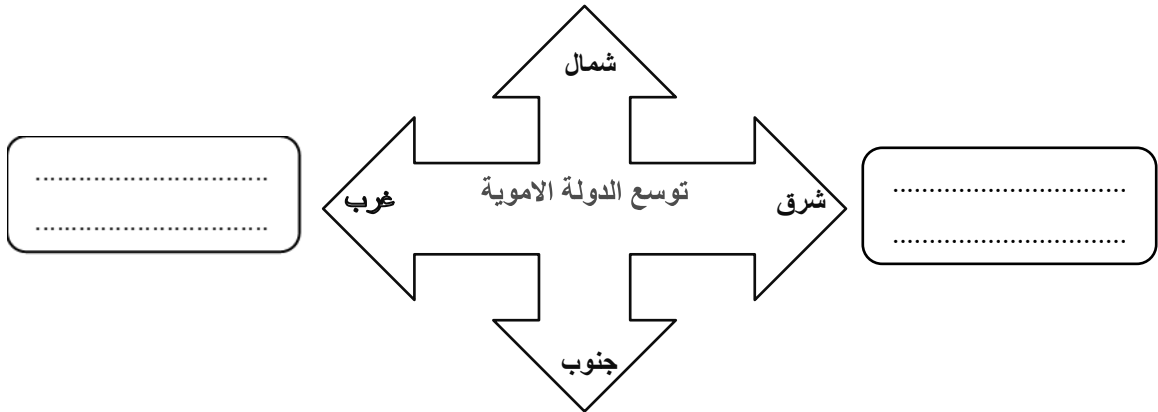
ب. القارات التي اتسعت فيها الدولة الأموية هي.....،.....،..... (أكمل)

ت. ما اسم المضيق الذي عبره المسلمون لفتح الاندلس؟

.....

ث. اكتب على الخريطة البحر المتوسط في موقعه الصحيح.

ج. أكمل المخطط التالي الذي يوضح توسع الدولة الأموية:



2 ← أمامك خريطة توسع الدولة الأموية ادرسها جيدا ثم اجب عن الأسئلة التالية:



أ. الرقم الذي يشير الى المكان الذي قاد قتيبة بن مسلم الباهلي فيه الفتوحات الإسلامية في القرن الأول الهجري هو (أكمل)

ب. وقع على الخريطة المسطحات المائية التالية في موقعها الصحيح:

1. البحر المتوسط 2. البحر الأحمر

ت. تقع العاصمة الأموية بالنسبة للمدينة المنورة في الاتجاه:

1. الشرق 2. الجنوب 3. الغرب 4. الشمال (اختر الإجابة الصحيحة)

ث. فسر: سبب سقوط الدولة الأموية عام 132هـ كما توضحه الخريطة التي أمامك.

.....

ج. من خلال دراستك لنهاية الدولة الأموية اجب عن الآتي:

1. المعركة التي هُزم فيها الأمويين؟

2. الدولة التي هُزمت الأمويين؟

3 ← صنف الإسهامات الحضارية للمسلمين في عصر الدولة الأموية كما هو موضح في الصور التي أمامك:



--	--	--	--	--

1 ← ادرس خريطة محاولات الدولة الأموية للسيطرة على عمان جيدا، ثم اجب عن الأسئلة التالية:



أ. فسر: لم تكن للدولة الأموية في بداية عهدها أطماع سياسية في السيطرة على عُمان؟

.....

ب. اذكر اهم المقومات التي ساعدت العمانيين على استقلال بلادهم بداية عصر الدولة الأموية كما توضحه الخريطة التي أمامك؟

.....

ت. استمر حكم آل الجندى لعمان بقيادة سعيد وسليمان ابني عباد بن عبد بن الجندى حتى عام.....

ث. عاصمة عمان في عهد الدولة الأموية: (.....) (أكمل)

ج. الخليفة الأموي الذي استطاع ان ينهي حكم آل الجندى وأصبحت عمان جزء من الدولة الأموية هو:

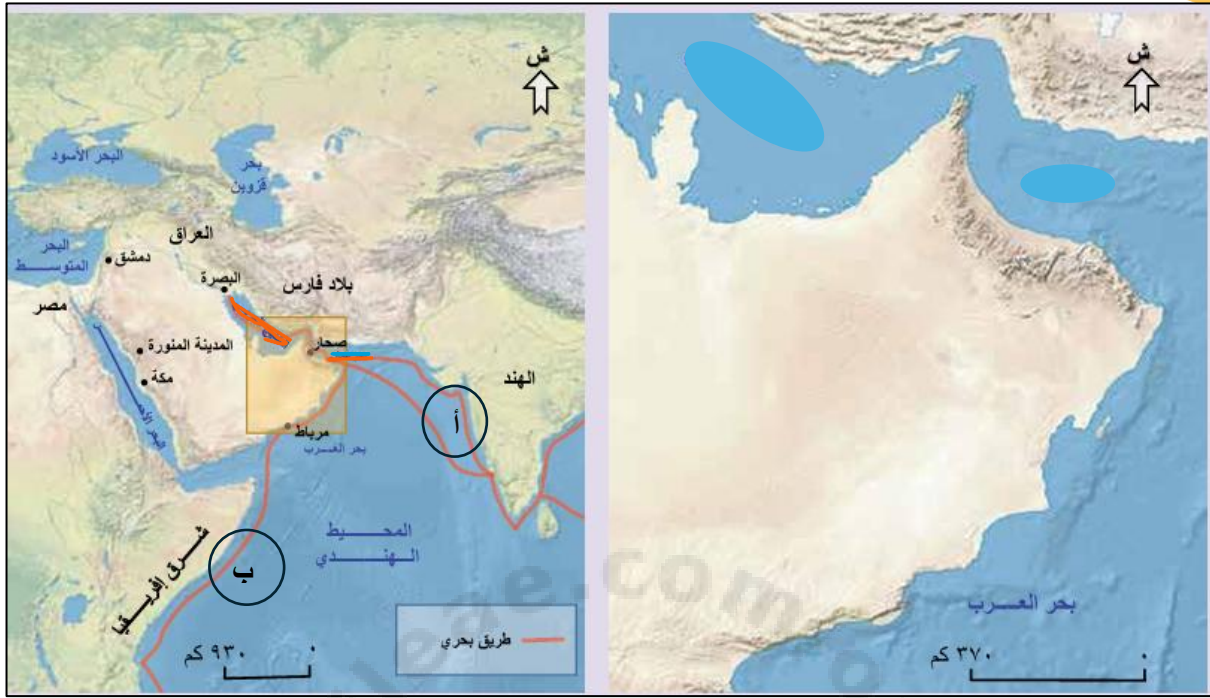
1. عبد الملك بن مروان 2. الحجاج بن يوسف الثقفي (اختر الإجابة الصحيحة)

ح. تنقسم الحملات العسكرية التي أرسلها الأمويون للسيطرة على عمان كما هو موضح بالخريطة الى قسمين

وهما و

خ. القائد الأموي الذي هزمه العمانيون اثناء حكم سليمان بن عباد بن عبد الجندى هو

2 ← أدرس الخريطين اللتين أمامك، ثم اجب عما يلي:



الخريطة (2)

الخريطة (1)

- أ. ضع دائرة في الخريطة (2) على عاصمة عمان في عهد في دولة الأموية.
- ب. اكتب على الخريطة (1) كل من: الخليج العربي وبحر عمان في موقعهما الصحيح.
- ت. ارسم على الخريطة (2) اتجاه الحملات التي انتصر فيها الأمويون على العثمانيين.
- ث. استخرج الرمز من الخريطة (2) والذي يوضح خطوط التجارة البحرية قديما بين عمان والهند.....
- ج. اذكر واحد من الموانئ العمانية كما هو موجود في الخريطة (2)
- ح. المكان الذي توجه اليه سعيد وسليمان أبناء عبّاد بن عبد بن الجلندى بعد هزيمتهما هو (أكمل)
- خ. من خلال دراستك لعلاقة عمان بالدولة الأموية ودراسة الخريطة (1) و(2) اجب عما يلي:
 1. ما أسباب إصرار الدولة الأموية على حكم عمان والسيطرة عليها.
 2. اذكر اثنين من العوامل الجغرافية التي أسهمت في فشل بعض محاولات الأمويين للسيطرة على عُمان.

.....

.....

1 ← ادرس الصور التي أمامك جيدا ثم اجب عما يليها من الأسئلة:



الصورة 2

الصورة 1

أ. سم المجال الذي برع فيه كل من جابر بن زيد وكعب بن معدان.

.....

ب. قارن بين اسهامات جابر بن زيد وكعب بن معدان من حيث التخصص والعلوم التي برع فيها كل منهما.

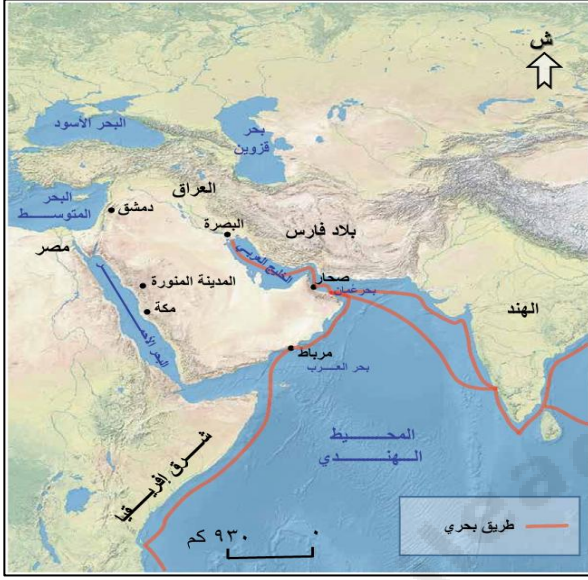
☆ جابر بن زيد.....

☆ كعب بن معدان.....

ت. من اسهامات جابر بن زيد كتاب بعنوان

(أكمل)

2- أمامك صورة وخريطة ادرسهما جيدا ثم اجب عما يليهما من الأسئلة.



الشكل 2



الشكل 1

أ. الصورة في (الشكل 1) تعد من الاسهامات الحضارية للمسلمين في الدولة الأموية في المجال.....

ب. استخرج من (الشكل 2) المناطق التي استطاع العمانيون فيها الوصول اليها عبر المحيط الهندي بسبب التجارة.

ت. السنة التي صدرت فيها أول عملة نقدية من دار سك النقود في عمان الممثلة في الشكل (1)

ث. سم البنك العماني الذي يحتفظ بالعملات والقطع النقدية الممثلة في الشكل (1).

نهاية الوحدة الثانية: عمان في العصر الأموي

1- ادرس الصورة التي أمامك والتي تمثل جانب من المشاركة المجتمعية في سلطنة عمان، ثم اجب عما يليها من الأسئلة:



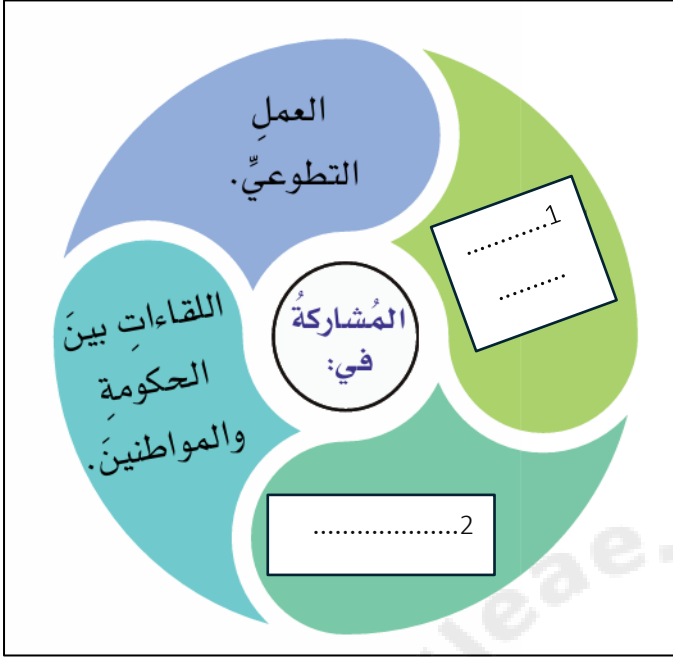
أ. اكتب شكل المشاركة المجتمعية كما تمثلها الصورة.

ب. ما الهدف من عقد هذا النوع من المشاركات المجتمعية في سلطنة عمان.

2 - صنف الأعمال الآتية في الصور المقابلة حسب أشكال المشاركة المجتمعية:



3 ← ادرس الشكل التالي والذي يوضح أشكال المشاركة المجتمعية جيدا ثم اجب عما يلي:



أ. أكتب نوع المشاركة المجتمعية في كل من 1 و 2 في الشكل المقابل.

ب. وضح مفهوم العمل التطوعي.

ت. اذكر مثال على المشاركة المجتمعية فيما يتعلق باللقاءات بين الحكومة والمواطنين.

ث. اذكر أهمية المشاركة المجتمعية للفرد والمجتمع.

4 ← امامك شعار رؤية عمان 2040 هذه الرؤية حظيت بمشاركة مجتمعية واسعة، ادرسه جيدا ثم

اجب عما يلي:



أ. أذكر أمثلة على الجهات التي شاركت في إعداد الرؤية.

ب. ما دلالة مشاركة المواطنين في إعداد رؤية عمان 2040.

5 ← ادرس صورة الشعار الذي امامك جيدا ثم أجب عما يلي:

أ. سم الملتقى الذي يوضحه الشعار.

ب. برأيك ما أهمية اللقاءات بين المسؤولين في الحكومة والمواطنين.





1 - من خلال الصورة التي أمامك وضح مفهوم المجتمع المدني.

.....

.....

2. ادرس الصور التي أمامك جيد ثم اجب عما يلي:

أ. صنف مؤسسات المجتمع المدني التي أمامك حسب الخدمة التي تقدمها:

.....



.....



.....



.....



.....



ب. ركزت رؤية عمان 2040 على أهمية المؤسسات التي ذكرت في الصور السابقة، اذكر أهمية مؤسسات المجتمع المدني .

.....

نهاية الوحدة الثالثة: المجتمع المدني: المشاركة المجتمعية والمؤسسات

تَعْرِيفُ الْحَمَلِ