

اختبار تجريبي نهائي



تم تحميل هذا الملف من موقع المناهج العمانية

موقع فايلاتي ← المناهج العمانية ← الصف السادس ← اجتماعيات ← الفصل الثاني ← ملفات متنوعة ← الملف

تاريخ إضافة الملف على موقع المناهج: 2025-06-02 21:34:44

ملفات اكتب للمعلم اكتب للطالب | اختبارات الكترونية | اختبارات | حلول | عروض بوربوينت | أوراق عمل
منهج انجليزي | ملخصات وتقارير | مذكرات وبنوك | الامتحان النهائي | للمدرس

المزيد من مادة
اجتماعيات:

التواصل الاجتماعي بحسب الصف السادس



صفحة المناهج
العمانية على
فيسبوك

الرياضيات

اللغة الانجليزية

اللغة العربية

التربية الاسلامية

المواد على تلغرام

المزيد من الملفات بحسب الصف السادس والمادة اجتماعيات في الفصل الثاني

امتحان تدريبي بمحافظة الظاهرة

1

امتحان تجريبي بمحافظة جنوب الباطنة

2

ملخص شرح الدولة الأموية

3

ملخص ومراجعة الدرس الثالث منجزات عمان في عصر الدولة الأموية من الوحدة الثانية

4

اختبار قصير ثاني نموذج ثاني في الوحدة الثانية عمان في العصر الأموي بمحافظة مسقط

5

**امتحان مادة الدراسات الاجتماعية
للفيف السادس الاساسي
مدرسة فدا للتعليم الاساسي 12-1
للعام الدراسي 1446 / 1447 هـ - 2024 / 2025 م
الدور الأول - الفصل الدراسي الثاني**

- زمن الامتحان : (ساعة ونصف)
الامتحان: (9) صفحات.
● عدد صفحات أسئلة
● الإجابة في الدفتر نفسه .

			اسم الطالب
	الصف		المدرسة

الدرجة		التوقيع بالاسم	الاسئلة الموضوعية
بالأرقام	بالحروف		
		المصحح الأول	12-1
		المصحح الثاني	الاسئلة المقالية 13
			14
			15
			16
		مراجعة الجمع	المجموع
40		جمعه	المجموع الكلي

أجب عن جميع الأسئلة الآتية
أولاً/ الاسئلة الموضوعية: ضع دائرة حول رمز الإجابة الصحيحة لكل
مفردة من المفردات الآتية :

12

1 - الشكل الذي يمثل النمو السكاني في العالم خلال السنوات الاخيرة :



2- جميع ما يلي من أهمية دراسة السكان ما عدا

- أ- تقدم صورة واقعية عن المجتمع
ج- وضع الخطط المستقبلية
ب- توفير الخدمات الأساسية للسكان
د- إنشاء المشاريع في القطاعات المختلفة

3- الجهة المختصة بالإشراف على مؤسسات المجتمع المدني في سلطنة عمان:

- أ - وزارة التعليم العالي
ج - وزارة التربية والتعليم
ب - وزارة التنمية الاجتماعية
د - وزارة الصحة

4- اسماء المناطق التي وصلت اليها التجارة العمانية قديما استنادا بالخريطة المقابلة:



ب -

2	1
الهند	شرقي افريقيا

أ -

2	1
الهند	شرقي افريقيا

د

2	1
الصين	شرقي افريقيا

ج

2	1
الصين	الهند

المادة : الدراسات الاجتماعية الصف : السادس الأساسي
الدور الأول - الفصل الدراسي الثاني - العام الدراسي 2024-2025

5- علوم الشريعة الاسلامية تمثل علوم:
أ - النحو والبلاغة ب - الشعر والخطابة

ج - القرآن والسنة د - التاريخ والجغرافيا

6- الشعار الذي يمثل أحد مؤسسات المجتمع المدني والتي تقدم خدمات الرعاية الاجتماعية:



د -

ج -

ب -

أ -

7- جميع ما يلي من سجلات الحكومة ما عدا:

د - الهجرة

ج - التعداد

ب - المستشفيات

أ - المدارس

8- الرقم الذي يشير الى مضيق جبل طارق في الخريطة
الآتية :



ب - 2

أ - 1

د - 4

ج - 3

9- يبلغ عدد جمعيات المرأة العمانية في سلطنة عمان :

د - 60

ج - 50

ب - 40

أ - 30

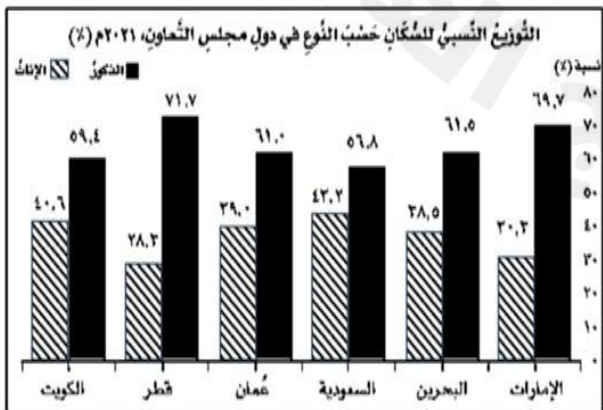
10- الدولة التي تحتل النسبة الأعلى في عدد الذكور:

ب - قطر

أ - الامارات

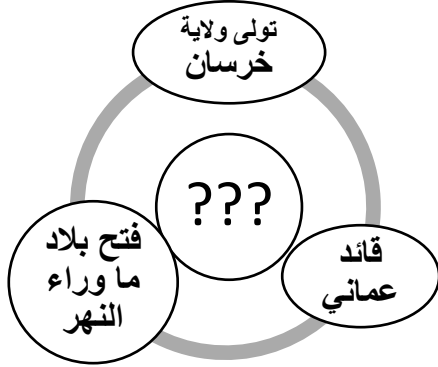
د - الكويت

ج - السعودية



11- تبلغ الكثافة السكانية للدولة التي استقر فيها خالد اذا كان عدد السكان 30000 نسمة ومساحتها 5000 كم:

أ - 6 نسمة /كم ب - 60 نسمة/كم ج - 400 نسمة/كم د - 6000 نسمة/كم



12- الشخصية العمانية التي يصنفها المخطط المقابل:

أ- المهلب بن أبي صفرة

ب- زياد بن المهلب

ج- سعد بن عباد بن عبد

د- صالح بن عبدالرحمن

ثانيا : الاسئلة المقالية :

13: أكتب بين القوسين المصطلح الصحيح لكل عبارة مما يأتي:

أ- (.....) عملية حصر (السكان والماكن والمنشآت) لمجتمع معين في وقت محدد.

ب- (.....) تسمى في سلطنة عمان بسجل الاحوال المدنية وتمثل في سجلات المواليد والوفيات وحالات الطلاق والزواج.

ج: أكمل البيانات الآتية:

1- رتب الاحداث التالية ترتيبا زمنيا من الاقدم الى الاحداث:

() - انتهاء حكم ال جلندى على عمان .

() - سقطت الدولة الاموية.

() استشهد ملك عمان عباد بن عبد الجلندى.

2- أكمل البيانات في الجدول الاتي بالفترة الزمنية المناسبة للتعداد السكاني في سلطنة عمان:

أول تعدد شامل
أول تعدد إلكتروني

14 : أجب عن الاسئلة الآتية :


أ- اقرأ العبارات الآتية ، ثم ضع علامة () تحت الخانة المناسبة:

لا	نعم	الجملة
		الزيادة غير الطبيعية هي الفرق بين عدد المواليد و عدد الوفيات
		ارتفاع عدد المواليد في المجتمعات الزراعية يعود الى حاجتها للأيدي عاملة
		أبعد الضغط على خدمات من نتائج النمو السكاني السريع
		الهجرة تعد من العوامل الطبيعية المؤثرة في النمو السكاني

ب- اعط مثالا واحدا على شكل من اشكال المشاركة المجتمعية في المدرسة ؟

.....
.....

ج- ادرس الصور الآتية ثم صنف السكان حسب البنية الاقتصادية :



.....



.....

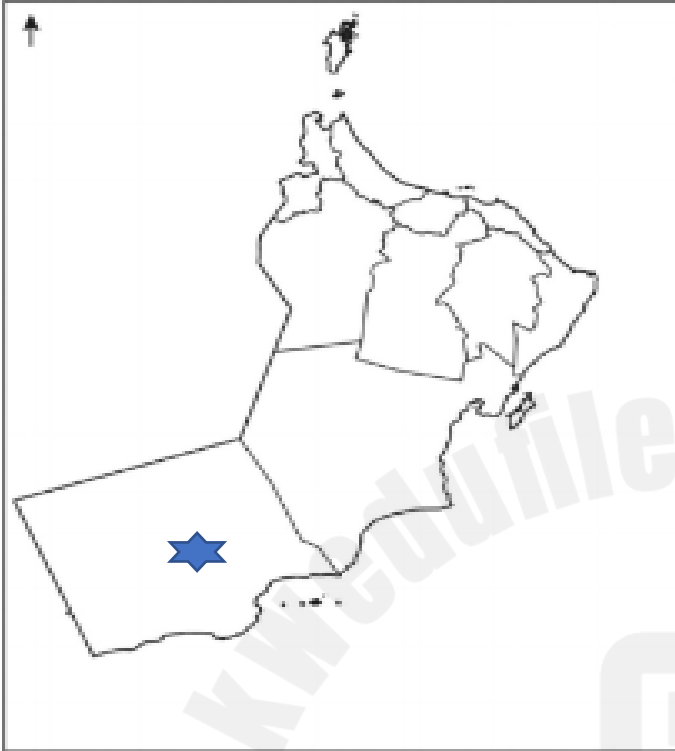
15: أجب عن الاسئلة الآتية :

أ:- ادرس خريطة سلطنة عمان ، ثم أجب
عن الأسئلة التي تليها:-

1- ظلل المحافظة العمانية الاقل الكثافة
سكانية .

2- اذكر سببا واحد لتركز السكان في
المحافظة المشار اليها في الخريطة
بالرمز ★

.....



ب- أكتب نتيجة واحدة ترتبت على الاحداث التالية :

1- انتهاء سلطنة عمان نظام الحكومة الالكترونية .

2- اتصاف التجار العمانيين بالأخلاق الحميدة في المناطق التي يصلون إليها

ج - زاوج بين العبارات في العمود (أ) وما يناسبها في العمود (ب) بكتابة الرقم المناسب امام
كل عبارة:

العمود (ب)

1- الملتقيات (معا نتقدم)

2- حملات التوعية

3- اختيار مجلس الفصل

العمود (أ)

() الانتخابات

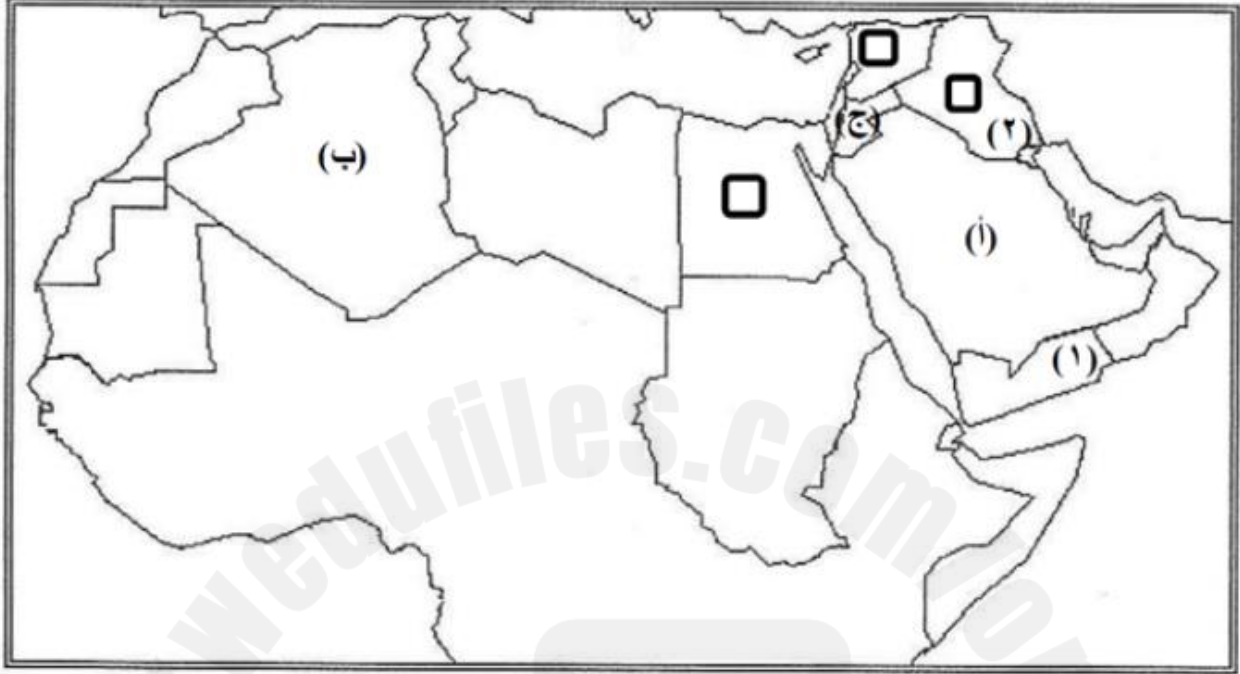
() اللقاءات بين الحكومة والمواطنين

() العمل التطوعي

16 : أجب عن الاسئلة الآتية :

7

أ: انظر الى خريطة الوطن العربي الذي امامك، ثم أجب عن الاسئلة تليها:



1- ظل على الخريطة المربع الذي يشير إلى عاصمة الدولة الاموية.

2- رقم الدولة العربية التي كان الحجاج بن يوسف الثقفي واليا عليها
زمن الامويين.....

3- الرمز الذي يشير الى موقع قبة الصخرة.....

ب : اقرأ النص التالي ، ثم أجب عن الآتي :

(المجتمع العماني مجتمع مترابط ومتعاون بين افراده ، وقد استمد العمانيون هذه
الصفة من الدين الاسلامي الحنيف ، ونجد مظاهر هذا التعاون في كثير من الأشكال
والمظاهر منها : التقائهم في السبلة والتشاور في كل ما يهم أمور الحي الذي يعيشون
فيه سواء كان اللقاء يوميا أو في المناسبات المختلفة) في ضوء هذه العبارة أجب
عما يأتي :

1- ما المقصود بالمشاركة المجتمعية ؟

.....
.....

2- ادرس الصورتين التاليتين ثم أجب عن الاسئلة التي تليها :



الصورة (2)



الصورة (1)

أ- الصورة التي تمثل مظهر المشاركة المجتمعية المشار إليه في الفقرة السابقة ؟
اختر الاجابة الصحيحة

الصورة (2)

الصورة (1)

ب- اذكر اثنين من ادوار هذا المظهر الاجتماعي في ترسيخ المشاركة الاجتماعية؟

انتهت الأسئلة مع الدعاء للجميع بالتوفيق والنجاح