

شكراً لتحميلك هذا الملف من موقع المناهج العمانية



نموذج أسئلة الاختبار الرسمي (شمال الباطنة)

[موقع المناهج](#) ⇨ [المناهج العمانية](#) ⇨ [الصف السادس](#) ⇨ [اجتماعيات](#) ⇨ [الفصل الأول](#) ⇨ [الملف](#)

التواصل الاجتماعي بحسب الصف السادس

روابط مواد الصف السادس على تلغرام			
الرياضيات	اللغة الانجليزية	اللغة العربية	التربية الاسلامية

المزيد من الملفات بحسب الصف السادس والمادة اجتماعيات في الفصل الأول

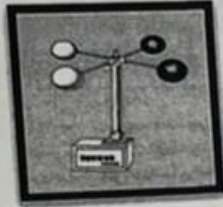
ملخص شامل للمادة	1
مراجعة الدرسين نشأة الجبال والدولة الأموية في الأندلس	2
مراجعة الوحدة الثالثة الغلاف الجوي والمائي	3
حل أنشطة المادة	4
نموذج أسئلة الاختبار الرسمي (جنوب الشرقية)	5

تابع السؤال الأول:

٦- المحيط الذي تتكون فوقه الأعاصير التي تتأثر بها سلطنة عُمان:

- أ- الهادي ب- الهندي ج- الأطلسي د- المتجمد الشمالي

٧- الجهاز الذي يقيس سرعة الرياح:



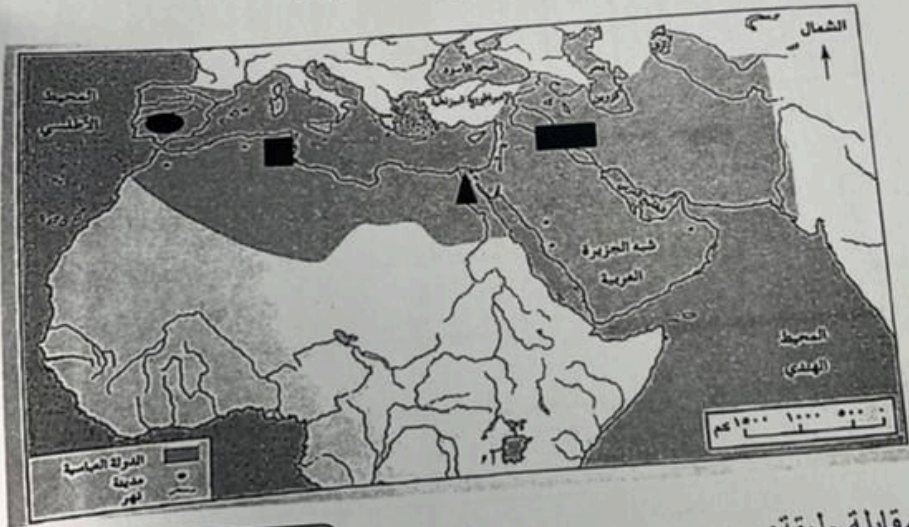
(د)

(ج)

(ب)

(أ)

٨- الرمز الصحيح الذي يشير إلى موقع مدينة قرطبة على الخريطة المقابلة:



أ- [Black square]

ب- [Black triangle]

ج- [Black square]

د- [Black circle]

٩- تصف البطاقة التعريفية المقابلة طبقة:

- أ- التروبوسفير ب- الاستراتوسفير
ج- الميزوسفير د- الثيرموسفير

١٠- الغلاف الواضح في الصورة المقابلة:

- أ- الجوي ب- المائي
ج- الصخري د- الحيوي

- ١- يصل سمكها
إلى ٣٢ كيلومتر
٢- تحتوي على
غاز الأوزون




ينبع

أجب عن جميع الأسئلة الآتية

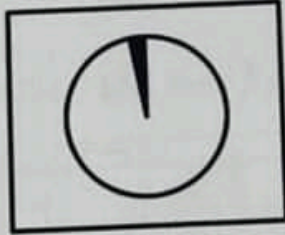
السؤال الأول: ضع دائرة حول رمز الإجابة الصحيحة لكل مفردة من المفردات الآتية:

- ١- عندما يحدث دمار شامل للمنطقة تكون قوة الزلزال بمقياس ريختر:
أ- (٥ - ٦) ب- (٦ - ٧) ج- (٧ - ٨) د- أكبر من ٨
- ٢- أطلق لقب صقر قریش على:

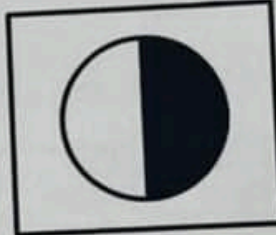
- أ- أبو جعفر المنصور ب- عبدالرحمن بن معاوية ج- عبدالرحمن الثالث د- هشام الثالث
- ٣- الشكل الصحيح الذي يمثل نسبة توزيع الماء المالح والعذب على الكرة الأرضية:




(د)



(ج)




(ب)



(أ)

٤- يصنف التلوث الواضح في الصورة المقابلة ضمن الملوثات:



- أ- الزراعية
ب- الصناعية
ج- المنزلية
د- الإشعاعية

٥- التوزيع الصحيح للنسب المئوية التي تمثلها بعض الغازات من حجم الهواء في الغلاف الجوي:

أ	النيتروجين ٧٨	الأكسجين ٢١	ثاني أكسيد الكربون ٠,٠٣
ب	الأكسجين ٢٥	النيتروجين ٧٨	ثاني أكسيد الكربون ٠,٠٣
ج	ثاني أكسيد الكربون ٠,٨٥	الأكسجين ٢١	النيتروجين ٧٨
د	النيتروجين ٨٧	الأكسجين ٣٠	ثاني أكسيد الكربون ٠,١٧

المادة: الدراسات الاجتماعية الصف: السادس الدور الأول - الفصل الدراسي الأول -
(٣)
العام الدراسي ٢٠٢٢/٢٠٢٣ م

تابع السؤال الأول:

١١- أول مدينة عُمانية يدخلها الإسلام:

أ- سمائل

ب - بهلاء

١٢- دولة يطلق على أعاصيرها اسم التايغون:

أ - اليابان

ب- الصين

ج - نروى

د- ازكي

ج- الهند

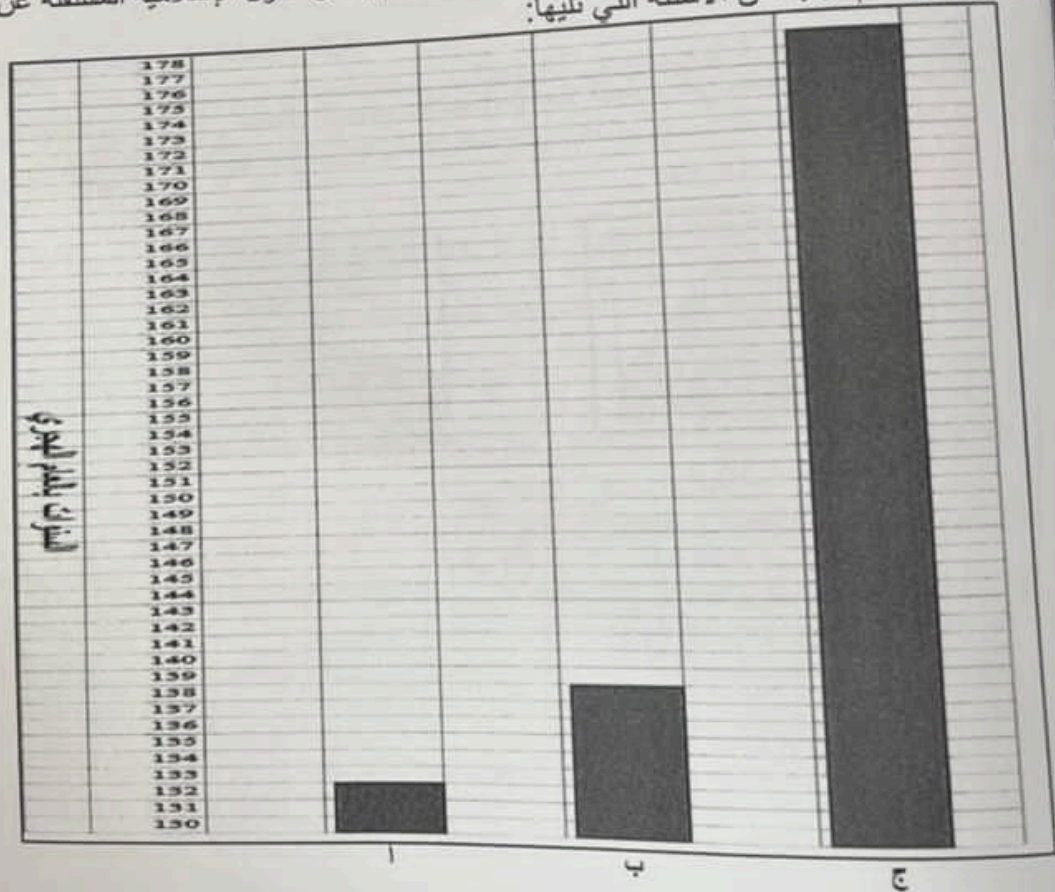
د- كوريا

السؤال الثاني: أجب عن جميع الأسئلة الآتية:
أولاً: عدد اثنين من:

١- مصادر بيانات الطقس

٢- أنواع الأمطار

ثانياً: أدرس الأعمدة البيانية الآتية التي توضح سنوات قيام بعض الدول الإسلامية المستقلة عن الدولة العباسية جيداً، ثم أجب عن الأسئلة التي تليها:



أ- استخرج رمز الدولة التي قامت في الاندلس (.....)

ب - اكتب اسم الدولة المشار إليها بالرمز (ج).....

سؤال الخامس: أجب عن جميع الأسئلة الآتية:

١) أنسب في الجدول الشخصيات الآتية (جابر بن زيد - عبدالرحمن الداخل - محمد بن نور) حسب أعمال التي قاموا بها.

اسم الشخصية	العمل الذي قام به
١-.....	أسس المذهب الإباضي
٢-.....	بنى جامع قرطبة

ب) خرج خبير الزلازل مازن واستاذ سند في رحلة جبلية، ودار حوار بينهما حول أسباب حدوث الزلازل. وفي نهاية الحوار طلب خبير الزلازل من الأستاذ سند توجيه السؤال الآتي على طلبته في الحصة الدراسية: لو كنت تسكن في منطقة زلازل.. كيف تستعد لمواجهة أخطارها؟

ثانياً: أ) استعن بالرموز المستخدمة في النشرة الجوية لسلطنة عُمان الواضحة أمامك في اكمال المخطط الآتي بوضع الحرف المناسب في أسفل المربع:



(د)



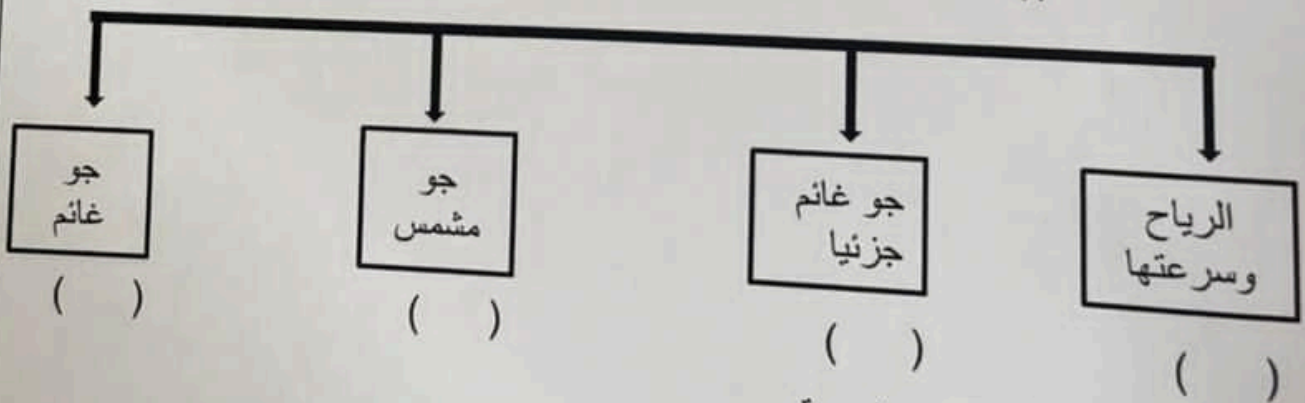
(ج)



(ب)





(أ)



ب) علل/ أهمية خرائط الطقس اليومية.

انتهت الأسئلة، مع الدعاء للجميع بالتوفيق والنجاح،،،،

ثانياً: أ) الخرائط الآتية توضح مسار حالة مدارية تعرضت لها أجزاء من سلطنة عُمان في عام ٢٠٠٧م ادرسها جيداً، ثم أجب عن الأسئلة التي تليها:



- ١- ما اسم الحالة المدارية الواضحة في الخرائط؟
- ٢- رتب الخرائط التي أمامك حسب حركة الحالة المدارية من بدايتها إلى نهايتها بوضع الأرقام (١-٢-٣) في المربعات الموجودة أسفل الخرائط.
- ٣- اكتب اثنين من الآثار التي نجمت عن هذه الحالة المدارية.

.....
.....



ب) اكتب المفهوم /المصطلح المناسب لكل عبارة بين القوسين:

- ١- كتل صخرية شديدة الحرارة تقذفها البراكين أثناء ثورانها (.....).
- ٢- كلمة اشتقها العرب من واندلسيا وهي قبائل أوروبية استقرت في أسبانيا والبرتغال (.....).

(٤)
المادة: الدراسات الاجتماعية الصف: السادس الدور الأول - الفصل الدراسي الأول -
العام الدراسي ٢٠٢٢/٢٠٢٣ م

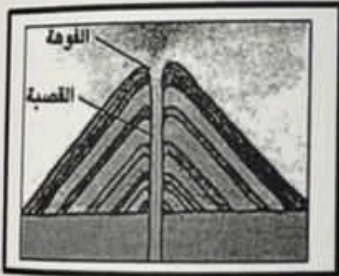
تابع السؤال الثاني:

ثالثاً: - صنف الصور حسب الطبقات الجوية الآتية (التروبوسفير / الثيرموسفير / الاستراتوسفير)
التي تنتمي إليها:


	
.....(٢)(١)

السؤال الثالث: أجب عن جميع الأسئلة الآتية:

أولاً: ادرس أشكال البراكين التي أمامك، ثم ضع علامة (✓) أمام العبارة التي تصف خصائصها
اليها في الجدول الآتي:



(ب)



(أ)

شكل (ب)	شكل (أ)	خصائص الأشكال البركانية
		١- شكلي بركان مخروطي
		٢- صهيري مانع